

105 學年度全國高級中學
學科能力測驗模擬考試

社會考科

社會

—作答注意事項—

考試範圍：第一～三冊

考試時間：100 分鐘

題型題數：

- 單選題共 72 題

作答方式：

- 用 2B 鉛筆在「答案卡」上作答；更正時，應以橡皮擦擦拭，切勿使用修正液（帶）。
- 未依規定畫記答案卡，致機器掃描無法辨識答案者，其後果由考生自行承擔。

祝考試順利



版權所有·翻印必究

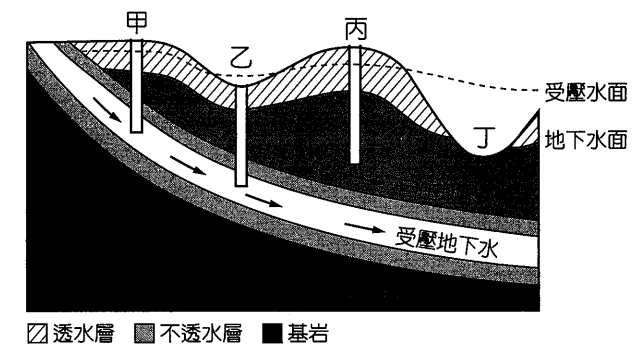
70. 為了擺脫貧窮落後的經濟困境，印度政府積極發展高科技產業，尤其在電腦軟體出口部分之市場占有率，目前已居世界第一。近年來由於東南亞的崛起，具有類似優勢的「甲國」，在客服中心等企業外包服務領域中，足以與印度分庭抗禮。請問「甲國」最可能是下列哪一個國家？

- (A) 印尼
- (B) 馬來西亞
- (C) 越南
- (D) 菲律賓

71、72 題為題組

◎ 以牧業立國的澳洲，一向被世人形容為「騎在羊背上」、「坐在礦車上」或「手持麥穗」的國家，足見農牧礦工產品的出口，占據該國主要之經濟命脈。請問：

71. 澳洲為全世界乾燥氣候比例最高之洲，若欲在缺乏降水的大分水嶺山脈西翼地區發展農牧業，圖十中何處是最常見的取水方式？



圖十

- (A) 甲
- (B) 乙
- (C) 丙
- (D) 丁

72. 在澳洲眾多大宗出口的物品中，某農產品以亞洲及加拿大為最重要的市場，且澳洲與巴西、泰國同為世界前三大出口國。請問該農產品主要分布於圖十一中的何處？

- (A) 甲
- (B) 乙
- (C) 丙
- (D) 丁




圖十一

66~68題為題組

◎ 2016 年 8 月，跨越波斯普魯斯海峽的第三座橋梁正式通行，這座橋是全世界少數幾座大型吊橋之一，全長 1,510 公尺，寬 59 公尺，離海面 64 公尺，通車後更有利於伊斯坦堡的對外發展。請問：

66. 圖九為波斯普魯斯海峽附近的衛星影像。請問圖中上方海域應為下列何者？



圖九

- (A)黑海
- (B)裏海
- (C)愛琴海
- (D)亞得里亞海

67. 圖九中所示區域最可能出現下列哪一種景觀？

- (A)沿岸風光明媚，珊瑚礁隨處可見
- (B)主要植被景觀以硬葉灌木植物為主
- (C)地形以高原為主，山岳冰河地形發達
- (D)年降水量充沛，河川的流量四季豐穩

68. 上文所述之跨海大橋通車後，將對伊斯坦堡交通壅塞之現象，提供一定程度的疏解。請問這樣的轉變最接近下列哪一種概念？


- (A)空間輻輳
- (B)聚集經濟
- (C)區位擴散
- (D)區位移轉

69、70題為題組

◎ 俗稱「宗教大拼盤」的文明古國印度，卻有將近八成的印度教教徒深受「種姓制度」觀念的影響，在缺乏社會上下流動的暢通管道下，勢必造成經濟發展的絆腳石。請問：

69. 印度最著名的觀光景點「泰姬瑪哈陵」，是世界七大奇景之一，保存著令人讚嘆的宗教建築如照片二。請問類似的建築最有可能在下列何處看到？

- (A)汶萊
- (B)不丹
- (C)斯里蘭卡
- (D)印尼峇里島



照片二

◆單選題（占 144 分）

說明：第 1 題至第 72 題皆計分。每題有 4 個選項，其中只有一個是正確或最適當的選項，請畫記在答案卡之「選擇題答案區」。各題答對者，得 2 分；答錯、未作答或畫記多於一個選項者，該題以零分計算。

1. 近年來數起隨機砍人事件引發學者關注「社會孤立」人格，指出「家庭疏離」易導致嫌犯在成長過程中不知如何抒發情緒，對社會憤怒，轉而攻擊別人。有關自我或人格形成的過程，依據顧里 (C. Cooley)、米德 (G. Mead)、佛洛伊德 (S. Freud)、艾瑞克森 (E. Erikson) 等學者的論點，下列敘述何者正確？
 - (A)顧里指出自我乃是「主我」與「客我」之間不斷地對話而形成的
 - (B)米德以「概化他人」代表兒童會考量他人態度、觀點及社會期望
 - (C)佛洛伊德認為人格是因「超我」折衝「本我」與「自我」的結果
 - (D)艾瑞克森強調個人意志決定每一階段人格發展任務是否順利完成
2. 甲)反課綱行動中，學生侵入教育部，與採訪記者同遭警方逮捕。臺灣人權促進會譴責警方以手銬逮捕學生、侵害記者採訪權。乙)香港特首普選不能由公民提名，民主派人士發起「占領中環」運動，表達「香港人要普選、無須共產黨篩選」。丙)政府協助來自東南亞的外籍配偶適應臺灣，保障其文化權益，積極鼓勵其子女學習母語。依瓦薩克 (K. Vasak) 三代人權發展歷程，以上甲)乙)丙)所涉及的權利，分屬何種類型？
 - (A)消極人權、消極人權、集體人權
 - (B)消極人權、集體人權、積極人權
 - (C)積極人權、消極人權、集體人權
 - (D)積極人權、集體人權、積極人權
3. 表一為甲、乙、丙、丁等四個國家在 2015 年的相關統計資料。四個國家的人口數量相當，從表中資料，比較這四國在志願結社、社會生活與經濟之間的關係，依據學者普特南 (R. Putnam) 對公民社會的研究，下列推論何者較為正確？

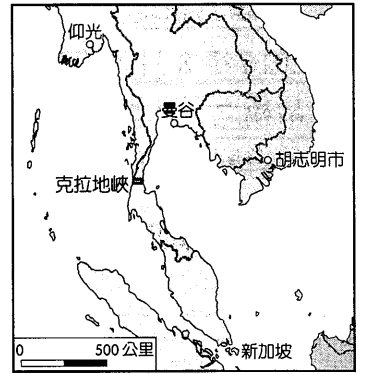
表一

	甲國	乙國	丙國	丁國
全國志願結社與職業團體的數目	1,615	756	1,550	3,378
民眾每週看電視與上網的平均時數	25.1	31.2	18.6	11.7
該年度社會抗議事件的次數	392	783	213	141
國內實質生產毛額 (美元/人)	27,000	13,000	21,000	30,000
該年度全國平均失業率 (%)	4.8	8.2	2.5	3.1

- (A)甲國民間的自主性、民主素養可能較高
- (B)乙國民眾看電視時間長，社會資本較多
- (C)丙國失業率最低，政治穩定度可能較高
- (D)丁國社會資本最高，追求公益力量較強

4. 近年來食安問題頻傳，「消費者文教基金會」（消基會）捍衛消費者權益不遺餘力，從提案公投禁止美國牛肉進口，到塑化劑案、餿水油事件、頂新黑油事件，為受害民眾打團體訴訟、求償。以下對於消基會的相關敘述，何者正確？
 (A)消基會常以「公民不服從」提出訴求
 (B)消基會的長期努力屬於一種社會運動
 (C)消基會的公信力與強制力是法律賦予
 (D)消基會是倡議公益的非營利社團法人
5. 每年 7 月伊斯蘭教開齋節期間，都有數萬名印尼移工湧入臺北車站慶祝，引起國人關注。某一年臺北車站曾拉起紅絨欄杆管制移工進入，更有某檢察官在臉書表示：「臺北車站已被外勞攻陷，睡覺、野餐，擠滿車站，政府再不處理，不僅有礙觀瞻，也會出亂子。」上述車站管制與檢察官言論，可能會被支持多元文化的國人批評該言論流露出下列哪一組概念？
 (A)文化位階、文化相對論
 (B)文化衝突、文化雜異化
 (C)文化歧視、我族中心論
 (D)文化排除、種族優越論
6. 2014 年在國內興起熱潮的「冰桶挑戰」活動源自紐西蘭，有人為了替漸凍人募款，將一桶冰水倒在自己頭上，完成時再點名三人進行挑戰或捐款，並拍成影片上傳至社群網站。透過網路、媒體以及一些名人參與，使這項活動立刻風靡世界，臺灣的政商名流、明星、候選人亦競相投入，但不到半年這股熱潮就逐漸消退。試問在臺灣「冰桶挑戰」的社會現象，下列解釋何者最不正確？
 (A)是一種新形態的社會運動
 (B)是一種全球化的社會現象
 (C)屬於民間文化、通俗文化
 (D)亦為一種臺灣的流行文化
7. 中國與日本曾在 2008 年決定共同開發東海油氣田。但最近日本防衛省表示，中國在東海中間線附近，建造多達 16 個油氣鑽井平臺，可能用做軍事據點。中國駐日大使因此重申不承認中間線，中國外交部也宣稱開發活動是在無爭議的中國管轄水域進行；日本內閣顯然不同意中國說法，要求停止單方面的開發活動。上述兩國在東海的相關爭議，以下何者是最根本的問題核心？
 (A)石油開採爭議
 (B)海域開發爭議
 (C)軍事據點爭議
 (D)東海主權爭議
8. 在不同的時代背景之下，學者提出各種不同觀點的民主理論。以下各項民主理論的主張，依據出現的時間，何者排列的順序正確？
 (甲)透過各種團體參與決策，避免政治權力被少數菁英把持
 (乙)政府應保障人民自然權利，人民得撤換違背民意的政府
 (丙)公共議題的決策，應先由公民充分參與討論以追求共識
 (丁)民主政治是一套程序或制度，菁英們藉以公開競爭政權
 (A)(甲)(乙)(丙)(丁) (B)(乙)(丁)(甲)(丙) (C)(丙)(甲)(丁)(乙) (D)(丁)(丙)(乙)(甲)

62. 圖七為克拉地峽示意圖，若「克拉運河」順利開鑿完成，自波斯灣航向中國大陸的國際油輪航程估計至少可以縮短多少公里？
 (A) 1,000
 (B) 2,000
 (C) 2,500
 (D) 3,000

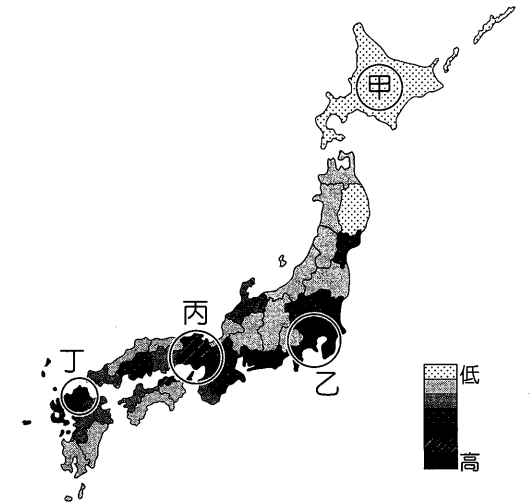


圖七

63.~65.題為題組

◎ 2007 年起，日本人口出現自然增加率為負的現象，即宣告日本將進入人口負成長時期，對於社會安定及經濟發展皆產生結構性的轉變。請問：

63. 圖八為日本某人口現象的區域密度圖，該現象最可能為下列何者？
 (A)人口密度
 (B)預期壽命
 (C)性別比例
 (D)老年人口比例
64. 類似人口負成長的現象，同樣出現在下列哪些國家？
 ㄅ、俄羅斯
 ㄆ、美國
 ㄇ、德國
 ㄎ、法國
 (A)ㄅㄆ (B)ㄇㄎ (C)ㄅㄇ (D)ㄆㄎ



圖八

65. 隨著人口老化及少子化的趨勢，日本農業除了朝向大規模生產，亦致力於開發精簡人力的農業機械，以擺脫農業勞力不足的窘境。大規模機械化的耕種方式，使日本出現許多一望無際的花卉田園，同時帶動觀光休閒農業的蓬勃發展（如照片一）。請問此類大面積的田園景觀，最可能出現在圖八中的何處？
 (A)甲
 (B)乙
 (C)丙
 (D)丁



照片一

59、60題為題組

◎ 臺灣因地形及氣候等因素，多數水資源大量蒸發及直接入海而未能有效利用，且人口密度過高，造成人均水資源僅約全世界平均值的 1 / 6，為了開發更多水資源，埤塘、水庫為最常見的蓄水方式。請問：

59. 表五為臺灣部分水庫的水情資料，其中ㄅ、ㄆ所代表的月分最可能是下列何者？


表五

水庫名稱	有效容量 (萬立方公尺)	ㄅ月 20 日		ㄆ月 20 日	
		集水區降水量 (mm)	蓄水量百分比 (%)	集水區降水量 (mm)	蓄水量百分比 (%)
石門水庫	20,123.60	0.1	24.25	53.2	35.06
翡翠水庫	33,550.50	5.9	87.72	43	82.44
鯉魚潭水庫	11,546.97	0.5	29.45	130.6	30.02
德基水庫	15,000.00	11.5	36.31	58.5	30.13
日月潭水庫	13,124.63	0	75.85	32.5	71.85
曾文水庫	47,330.00	0	18.28	12.6	11.52

- (A) ㄅ：1、ㄆ：2
- (C) ㄅ：7、ㄆ：8

- (B) ㄅ：4、ㄆ：5
- (D) ㄅ：10、ㄆ：11

60. 臺灣平均年降水量為 2,500 mm，一年總降水量約 900 億公噸，遠大於 200 億公噸之用水量。請問下列氣壓示意圖何者最能代表臺灣本島主要的降水類型？



61、62題為題組

◎ 麻六甲海峽地處歐亞非澳的十字路口，一直以來就是經濟大國日本的「生命線」，隨著近年來中國大陸的崛起，海上貿易更加頻繁。為了尋求替代路線以擺脫對麻六甲海峽的過度依賴，克拉地峽開鑿運河的計畫，每每在亞洲重要的國際場合中被提及。請問：

61. 麻六甲海峽素有「東方直布羅陀」之稱，是亞洲最重要的航線，但也蘊藏著無法避免的潛在危機，下列哪些最有可能讓往來的船隻面臨不必要的風險？

- 甲、海盜挾持事件的威脅
- 乙、婆羅洲帶來的霾害
- 丙、印尼恐怖組織的攻擊
- 丁、海底地震引發的海嘯

- (A) 甲乙
- (B) 丙丁
- (C) 甲丙
- (D) 乙丁

9. 苗栗縣政府財政宛如「希臘化」，2016 年 8 月負債仍有新臺幣 560 億。2015 年 7 月縣府員工薪資甚至曾無法如期發放，縣長因此向行政院求援。針對地方政府的財政收支，依據我國《憲法》中央與地方關係的精神與規範，以下何者敘述正確？

- (A) 地方沒有稅收故須依賴中央撥款
- (B) 地方收支自主且中央沒有監督權
- (C) 地方財政自治但中央可統籌監督
- (D) 地方自訂稅目且中央不介入債務

10. 2015 年 7 月希臘曾就歐盟等相關組織提出的紓困方案舉行公投，61.31 % 選民投下反對票，讓希臘政府可以重回談判桌；另外，據媒體民調，約 6 成蘇格蘭人期盼在 10 年內再度舉行獨立公投。參照各國公民投票案例，公民投票也是我國政黨、人民可運用的政治手段，以下何者符合我國公民投票的實施情況？

- (A) 人民可提案修憲公投、臺灣獨立公投
- (B) 行政院、各縣市政府均有公投提案權
- (C) 人民提案與連署門檻不高，成案容易
- (D) 通過門檻過高，全國性公投無一達到

11. 釣魚臺與南海主權爭議已久，牽連國家甚多，問題難解。在兩地主權爭議中，我國地位特殊，更同時涉及外交政策與兩岸關係；試問馬英九總統主政時期，政府的政策立場為何？

- (A) 基於「一個中國」原則，與中共同樣主張兩地主權屬於大中國
- (B) 採取「烽火外交」政策，爭取美國支持而與中共爭奪兩地主權
- (C) 依據「活路外交」精神，擱置主權爭議以資源共享的方式處理
- (D) 主張「維持現狀」立場，不放棄主權也不承認國際法院的裁決

12. 為進行交流事務協商，1991 年兩岸先後成立「海基會」與「海協會」，「辜汪會談」（辜振甫與汪道涵）與 2008 年之後「江陳會談」（江丙坤與陳雲林），以解決兩岸問題。2014 年 2 月我國陸委會主委王郁琦與中國國臺辦主任張志軍，舉行首次部長級官員會談，兩岸會談層級從民間團體，提升為官方主管會談。以下兩岸會談的情況，何者最符合事實？

- (A) 「辜汪會談」多次，兩岸已互相承認雙方的治權對等地位
- (B) 「江陳會談」多次，兩岸已簽署軍事互信與互不侵犯協議
- (C) 「江陳會談」結果，雙方簽署並通過直航協議與服貿協議
- (D) 「王張會談」之後，海基會與海協會將持續民間事務協商

13. 電影《姊姊的守護者》(My Sister's Keeper)，片中母親為了挽救罹患急性白血病的大女兒，要求醫生用基因篩選科技，生下妹妹安娜。安娜出生後，不斷地被抽出白血球、骨髓、幹細胞，甚至要捐出腎臟來救姊姊；最後，安娜決定控告父母侵害她的身體自主權。不論基因篩選胚胎、妹妹被要求捐出器官，本質上都有哪一項倫理爭議？

- (A) 科技倫理
- (B) 專業倫理
- (C) 生命倫理
- (D) 生態倫理

14. 2015 年 6 月初立法院三讀通過「房地合一稅制改革修正方案」相關法律修正，財政部部長認為，房屋稅與地價稅合併是劃時代的重要稅制改革。根據上述，關於我國法律修正的程序，下列何者正確？

- (A) 委員會審查之後進行黨團協商
- (B) 第一讀會進行逐條討論及修正
- (C) 第二讀會後法案提交委員會審查
- (D) 第三讀會表決通過後法律即生效

15. 據新聞報導，臺北市開放同性伴侶申請戶政註記之後，更針對《民法》採一男一女結合的婚姻限制，是否違反憲法自由權、平等權等，擬向大法官聲請釋憲。依我國釋憲制度，以下何者具有聲請釋憲資格？
- (甲)行政院行使職權與其他機關職權，發生適用憲法之爭議
(乙)人民的憲法權利遭受不法侵害時，於訴訟過程聲請釋憲
(丙)法官審理案件時，確信所適用法律有牴觸憲法之疑義者
(丁)某立法委員審查法案，對適用法律有牴觸憲法之疑義者
- (A)(甲)(丙) (B)(甲)(丁) (C)(乙)(丙) (D)(丙)(丁)
16. 2014 年 1 月教育部召開「101 課綱微調」會議，僅二週就完成公聽會、審議大會，月底即逕行公告。其中歷史科的臺灣史修改幅度甚多，部分委員的立場遭外界質疑，引發爭議。臺灣人權促進會要求提供會議紀錄及委員記名投票名單，為教育部拒絕；在訴願被駁回後，臺灣人權促進會提起行政訴訟；2015 年 2 月中，臺北高等行政法院一度判決教育部敗訴。根據上述，該次判決承審法官最可能引用何項法律原則做為審判根據？
- (A)正當程序 (B)裁量合法 (C)信賴保護 (D)法律保留
17. 新北市曾爆發都更弊案，新北市前副市長許某涉貪，臺北地檢署承辦檢察官向法院聲請羈押許某，臺北地方法院裁定將許某羈押禁見。對於犯罪的追訴，以下何者最符合刑事訴訟程序？
- (A)檢察官認定嫌犯惡性重大，即可向法院聲請羈押
(B)地方法院是否裁定羈押，檢辯雙方皆可提出上訴
(C)若屬非告訴乃論之罪，就必須由檢察官提起公訴
(D)訴訟過程由當事人辯論，必要時法官可介入調查
18. 住在新竹的阿南，積欠在臺南做生意的同學大雄 300 萬元，債務長達 10 年未還，經過調解失敗，大雄認為阿南根本無心償債，於是提起民事訴訟。根據上述案例，下列解決方式何者正確？
- (A)大雄應在新竹地方法院簡易庭，提起簡易訴訟
(B)為了防止阿南逃跑，大雄可聲請法院羈押阿南
(C)為了避免阿南脫產，大雄可向法院聲請假扣押
(D)阿南若沒錢聘請律師，法院須指派公設辯護人

19、20題為題組

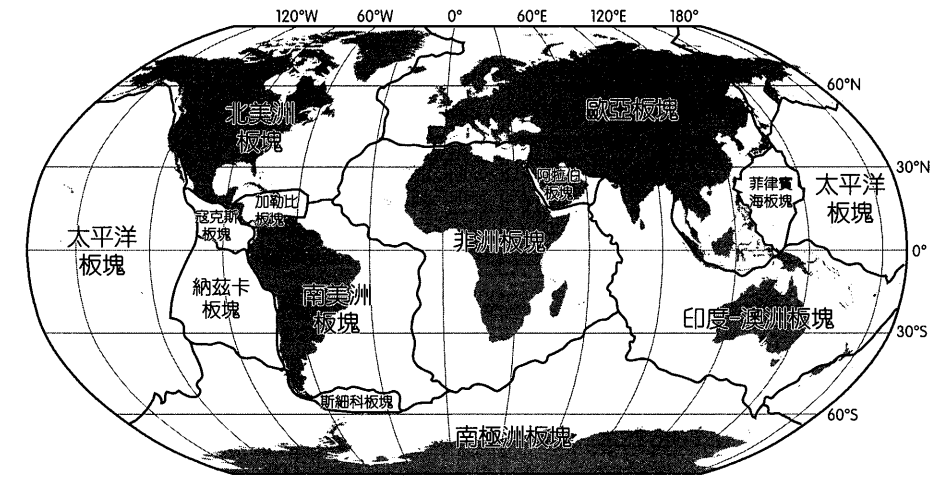
- ◎ 新竹某大學一名女性博士生指控指導教授喇舌、撫胸摸臀，讓她身心飽受煎熬，故向學校提出申訴，並至新竹地檢署提告遭教授強制猥褻、性侵害。調查期間，指導教授坦承是師生戀，有親吻但否認性侵，且是學生寫密碼情書倒追，反咬博士生對他性騷擾。地檢署認定兩人師生戀，被控性侵部分予以不起訴，但認定親吻行為逾越師生分際，且有性騷擾事實；該校委員會亦認定指導教授有性騷擾行為，而決議予以解聘。請問：

56. 匹茲堡的鋼鐵工業面對全球化所帶來的競爭，不斷「創新」以迎合市場需求，轉型為機器人工業，讓機器人由軍事及工業目的轉為以民生為訴求。請問下列何者最符合這樣的概念？
- (A)偏鄉地區透過網路行銷販售農產 (B)傳統產業由臺灣西進至中國大陸
(C)跨國企業大舉進入東歐投資設廠 (D)紐澳地區出口品由皮毛轉為肉乳

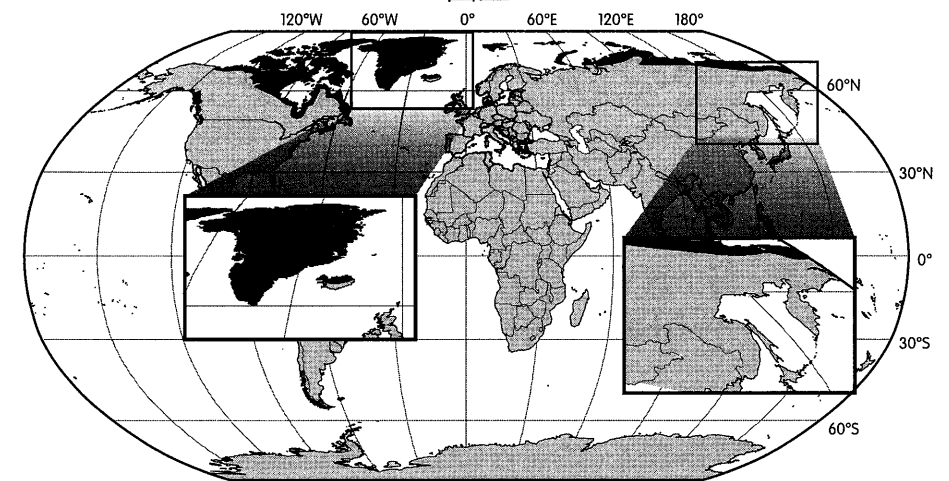
57、58題為題組

- ◎ 金庸筆下的小說「倚天屠龍記」，曾描述男女主角一行人，由江南乘帆船一路航行至冰天雪地及火山活動頻繁的「火地島」，並在該無人島上遇上許多熊。請問：

57. 甲生為探求「火地島」所在位置，僅根據小說所述「冰天雪地」、「火山活動」及「熊出沒」等三項條件，查詢了相關的資料如圖五全球板塊分布圖及圖六北極熊分布圖。請問下列何地最符合「火地島」之三項特徵？



圖五



圖六

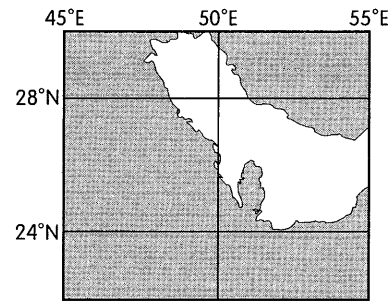
- (A)北海道 (B)堪察加半島 (C)冰島 (D)格陵蘭島

58. 下列關於甲生從圖五及圖六獲得結論的分析方法敘述，何者正確？

- (A)屬地理資訊系統中的環域分析
(B)分布圖採用麥卡托投影方式效果較佳
(C)地圖呈現之主題必須一致
(D)相同的分析方法亦可用於海岸變遷

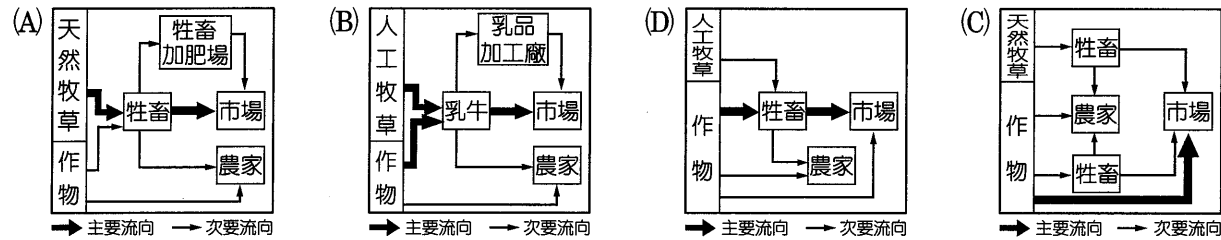
52. 圖二為某水域所在位置之示意圖，請依此特徵判斷該水域最適當之敘述為何？

- (A) 近年興起填海造陸工程
- (B) 屬板塊交界之張裂地帶
- (C) 為全世界最大之鹹水湖
- (D) 須防索馬利亞海盜出沒

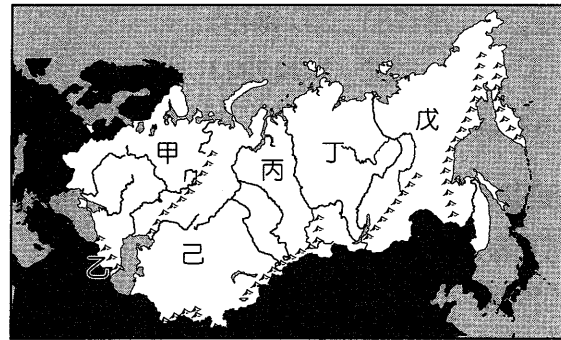


圖二

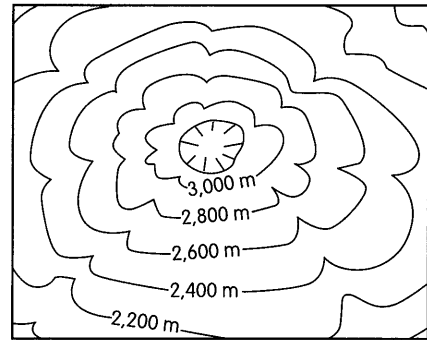
53. 某官方網站對某國家基本資料的部分敘述如下：「幾乎四面環海，氣候受海洋調節，較為溫和，平均最低溫為 2 月之 -4°C ，全境地勢平坦……向來為歐洲重要農業國之一。」請依此判斷代表該國最重要出口商品之農牧業活動應為下列何者？



54. 獨立國協涵蓋全世界面積最大的國家「俄羅斯」，總計 2,200 萬平方公里的遼闊土地，包含六大地形分區如圖三。請問哪兩區最有可能出現圖四所示的地形？



圖三



圖四

- (A) 甲戊
- (B) 乙戊
- (C) 丙己
- (D) 丁己

55、56 題為題組

◎ 美國匹茲堡有「世界鋼都」之稱，長久以來便以鋼鐵重鎮自居，但在 1980 年代後，由於海外更具成本優勢的鋼鐵大舉進口，曾經的鋼鐵王國最終亦難逃沒落的命運。近年來，匹茲堡為求產業轉型以擺脫高失業率的陰霾，發展高科技——機器人，已成為這個都市未來的明日之星。請問：

55. 過去匹茲堡鋼鐵工業能蓬勃發展，主要原因最可能與下列何者有關？

- 甲、附近煤鐵礦產兼具
- 乙、水陸交通運輸發達
- 丙、大戰期間需求增加
- 丁、水力資源蘊藏豐富

- (A) 乙丙丁
- (B) 甲丙丁
- (C) 甲乙丁
- (D) 甲乙丙

19. 針對該名博士生對指導教授的申訴與提告，對性騷擾行為的認定與法律適用，依據我國相關法律，以下何者正確？

- (甲) 校內申訴須依據《性別工作平等法》
- (乙) 校內申訴應適用《性別平等教育法》
- (丙) 提告與訴訟應依據《性騷擾防治法》
- (丁) 性侵害與強制猥褻均屬於性騷擾行為
- (戊) 以性暗示交換成績亦屬於性騷擾行為

- (A) (甲)(乙)(丙)
- (B) (甲)(丁)(戊)
- (C) (乙)(丙)(戊)
- (D) (乙)(丁)(戊)

20. 各級學校依法處理師生之間性騷擾的申訴案件中，所涉及的程序與當事人權益，以下各項敘述何者正確？

- (A) 由校內「性騷擾防治委員會」受理並進行調查
- (B) 性騷擾受害人得在提起校內申訴同時提起訴訟
- (C) 調查時應予當事人雙方對質及充分答辯之機會
- (D) 得將加害教師解聘並通報各校不得再聘為教師

21、22 題為題組

◎ 2015 年 5 月英國國會大選揭曉，保守黨意外贏得過半席次，慘敗的工黨、自民黨與獨立黨主席都宣布請辭。選前民調顯示，保守黨與工黨支持率不相上下，聯合政府組成恐曠日廢時，但結果卻跌破專家眼鏡。保守黨在國會 650 席中奪下 331 席，保守黨黨魁卡麥隆前往白金漢宮覲見女王，獲授權組閣，並在唐寧街 10 號首相府外，發表勝選演說，保證會舉行是否續留歐盟的公投、誓言維持英國的團結、願給予蘇格蘭政府最大的權力，並稱「這是最甜美的勝利」。表二是英國最近兩屆國會大選，各政黨所獲得的席次分布，請回答下列問題：

表二

	保守黨	工黨	自民黨	蘇格蘭民族黨	民主統一黨	獨立黨	其他
2010 年	306	258	57	6	7	2	14
2015 年	331	232	8	56	8	1	14

21. 英國國會共 650 席，選舉採取單一選區相對多數制，依據 2010 年英國國會大選結果，各黨的席次分布對政黨制度及政府運作的影響，以下何者最為正確？

- (A) 因為有兩個明顯較大的政黨，故政黨體制屬於兩黨制
- (B) 由保守黨籌組聯合內閣，工黨主席沒有機會擔任首相
- (C) 自民黨是組成聯合內閣、國會通過法案的關鍵性政黨
- (D) 籌組聯合政府有助於政治穩定，且各黨政策責任清楚

22. 以 2015 年英國國會大選各政黨席次分布的資料來判斷，以下對英國選舉及政黨政治的分析，何者可能較為正確？

- (A) 選舉制度對第一大黨最有利，因此保守黨總席次及得票率均過半
- (B) 每選區僅一人當選，故競爭激烈易產生偏激政黨而導致政治惡鬥
- (C) 蘇格蘭民族黨的總席次暴增，該黨全國總得票率必然高於自民黨
- (D) 蘇格蘭民族黨實力大增，可能鼓舞蘇格蘭地區再次舉辦獨立公投

23、24題為題組

◎ 富商大銘原本家庭幸福，與妻子阿玉育有一女小萍。不料，一年前他與公司的祕書佳佳發生婚外情，所有家人包括大銘的父親阿義（母親已過世）、妻子、弟弟阿俊一直不知情。後來大銘和佳佳生了一個男孩小鴻，妻子得知後打算離婚，憤怒的岳父也要大銘妥善處理，讓他身心俱疲，開車恍惚時車禍死亡，留下遺產三億元。父親阿義無法承受喪子之痛，中風後一個月過世，留下二億遺產。請問：

23. 《民法》除了規範私人間的財產關係，最主要就是規範親屬之間的身分關係（包括繼承）；依據上述大銘的故事，相關人物的親屬關係，何者符合《民法》規範？

- (A)大銘的父親阿義與岳父，兩人屬於二等姻親的關係
- (B)大銘生前可依「準正」方式，確認與小鴻的親子關係
- (C)阿玉若是「收養」小鴻，則小鴻可視為她的婚生子女
- (D)佳佳向阿玉提「強制認領」訴訟，確認小鴻的身分權

24. 若大銘生前與阿玉採取法定財產制，阿玉沒有債務且婚後有財產一億元，小鴻的身分也確定，則在大銘與父親阿義接連過世之後（兩人皆未立遺囑），兩人遺產各有何法定分配方式？

- (甲)大銘的遺產由阿玉、阿俊、小萍及小鴻四人均分
- (乙)大銘的遺產由阿玉、小萍、小鴻三人各分配一億
- (丙)大銘的遺產由阿玉先分一億，她再與二名小孩均分其餘
- (丁)父親阿義的遺產，由阿玉代位繼承一億、阿俊分配一億
- (戊)父親阿義的遺產，阿俊分配一億，小萍、小鴻均分一億

- (A)(甲)(丙) (B)(乙)(丙)(戊) (C)(甲)(丁)(戊) (D)(乙)(丁)(戊)

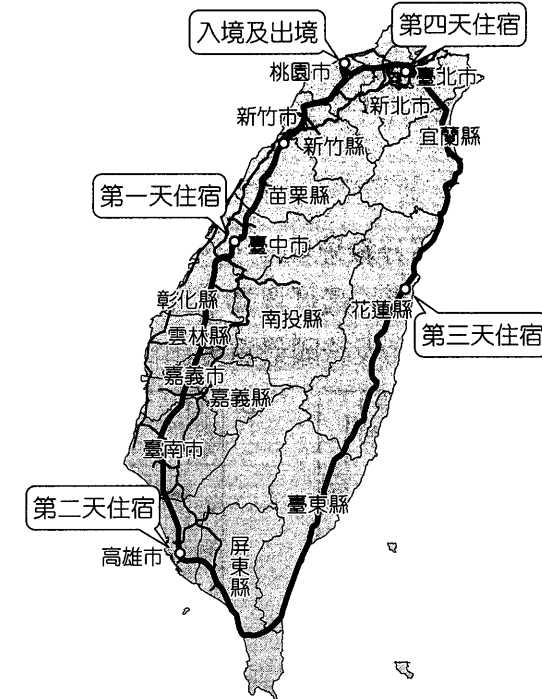
25. 這是十七世紀時兩個國家的協議：「一、甲、乙兩國民間，應有不得破壞之同盟關係存在。二、為對抗共同敵人丙，兩國應緊密合作，至敵人投降為止。三、雙方應通知各方旗幟，以便與敵人鑑別。……十一、甲國總督應提供一優良船隻，以便乙國遣使至巴達維亞城報告」。關於這個協議，下列敘述何者正確？

- (A)甲、乙兩國分別是中國與荷蘭
- (B)甲乙共同的敵人丙是大英帝國
- (C)乙國由臺灣遣使至巴達維亞城
- (D)丙國打敗了甲、乙兩國的聯軍

26. 「1830 年代，淡水同知李嗣鄴諭示閩、粵兩籍的墾戶組成墾號，墾首率領閩、粵佃農數百人前進南興庄，建立 36 處隘寮據點，稱為「大隘」，閩粵各持一半股份，閩籍墾戶掌管戳記，主管行政及會計相關的事務；粵籍墾戶則進駐墾區，擔任守隘防番和實際開墾的任務。」請問文中所述是哪一項拓墾事業？

- (A)施世榜築八堡圳開墾彰化
- (B)吳沙率流民開墾宜蘭地區
- (C)金廣福墾號拓墾新竹北埔
- (D)陳賴章墾號開墾大佳臘盆地

49. 某國外旅遊節目來臺拍攝環島日記，住宿地點及交通路線如圖一，甲、乙、丙、丁代表在臺期間住宿飯店之絕對位置，若依入住時間先後來排列，下列順序何者正確？



圖一

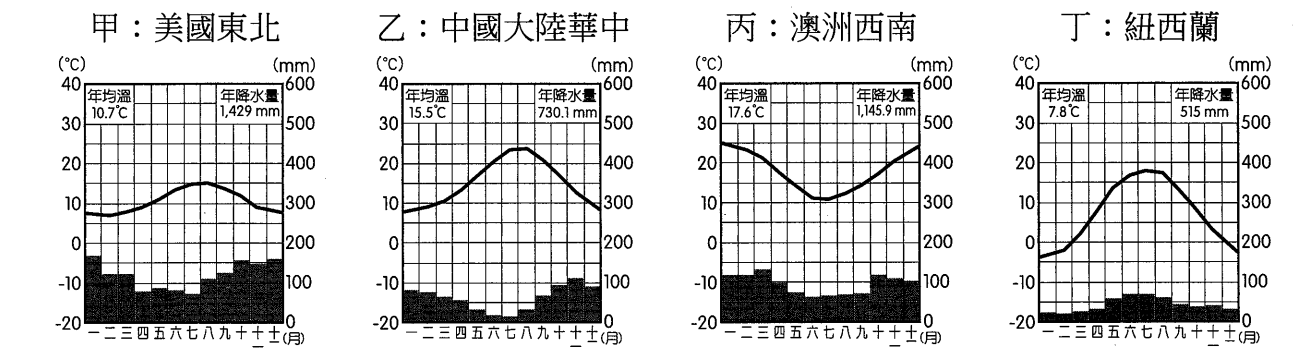
- 甲、(306826, 2769840) 乙、(211783, 2674840)
- 丙、(177716, 2502307) 丁、(311252, 2644224)
- (A)甲乙丙丁 (B)丁甲乙丙 (C)乙丙甲丁 (D)乙丙丁甲

50. 自 2010 年起連續發生數起工安意外事件，讓環境保護議題屢屢躍上新聞版面，也喚起國人對相關議題的高度重視，下列哪些是六輕最有可能為人詬病的爭議？

- 甲、排擠雲林地區原有用水，加深地層下陷的問題
- 乙、大量抽砂以填海造陸，導致沿海沙洲面積縮減
- 丙、排放過多甲烷氣體，占全臺溫室氣體排放總量的 25 %
- 丁、產生大量廢水，改變附近水質，威脅原有紅樹林生態

- (A)甲乙 (B)丙丁 (C)甲丙 (D)乙丁

51. 全球氣候分布深受行星風系影響，而行星風系則取決於緯度及地球自轉偏向力，假設地球自轉方向改為由東向西，請問下列各地區與氣候圖之配對何者最可能會發生？



- (A)甲乙 (B)丙丁 (C)甲丙 (D)乙丁

44. 在臺灣文學發展過程中，日治時期曾出現新舊文學論戰，國民政府時期也發生鄉土文學論戰，小宣將兩次論戰內容整理成如右的表四，但只有一個是對的，請你幫她選出來：

表四

甲、年代	開始於 1940 年代與 1970 年代
乙、訴求	兩者都強烈主張應以臺語寫作
丙、特色	都出現了批判現實社會的作品
丁、結果	最後都因政府強力干涉而終止

- (A)甲
- (B)乙
- (C)丙
- (D)丁

45. 這場戰爭的失敗，刺激了帝國主義列強加速對中國的侵略，中國與周邊亞洲國家建立的宗藩關係體系徹底瓦解，中國朝野上下深受震撼，政府展開制度變革，希望救亡圖存，孫中山則成立革命組織，決意推翻滿清統治以救中國。請問這場戰爭是下列何者？

- (A)鴉片戰爭
- (B)英法聯軍
- (C)甲午戰爭
- (D)八國聯軍

46. 史書記載：「吳郡大族張敷任正員中書郎，中書舍人秋當、周起為寒人，他們商議要拜訪同僚張敷。周起說：『他如果不接見我們，我們會很難堪，還不如不去。』後來兩人決定拜訪張敷，張敷雖然見了兩人，但叫僕人將他的坐席移開，遠離兩人，秋當、周起尷尬不已，只得退出。」下列對此一事件的相關敘述，何者正確？

- (A)這是南朝士庶不相往來的特色
- (B)這是唐太宗時重定士族的結果
- (C)這是明清時期士紳社會的特色
- (D)吳郡大族在唐朝安史亂後沒落

47、48題為題組

◎ 請根據資料回答問題：

資料一：公元 1400 年左右，這個城市的人們發現，他們不必再聽從德意志皇帝的號令，他們像從前的雅典市民一樣自由和獨立。過著富裕的生活，不怎麼在意做一切事是否只為了上帝。智力、知識和行動力才是大家關注的重點。他們喜歡希臘、羅馬那些「異教徒時代的廢墟」，又開始用柱子建造房子了。

資料二：此區的人文主義研究著重於基督教《聖經》版本和早期聖徒著作的考訂。它並非從希臘、羅馬的古典藝術發展出來的，因為此區較缺乏這些古典基礎。通過結合基督教文化，強調以理性而非以教條為生命基調。此種人文主義帶有濃厚的宗教色彩，故又稱「基督教人文主義」。

請問：

47. 根據資料一的內容，「這個城市」最有可能是下列何者？

- (A)巴黎
- (B)倫敦
- (C)佛羅倫斯
- (D)阿姆斯特丹

48. 根據這兩段資料，下列敘述何者正確？

- (A)資料一顯示此時的人已不再關注對上帝的信仰
- (B)資料一的「用柱子建造房子」是指哥德式建築
- (C)資料二的「此區」單指法蘭克及神聖羅馬帝國
- (D)資料二的人文主義學者可以伊拉斯莫斯為代表

27. 「今郡國有鹽、鐵、酒榷，均輸，與民爭利。……是以百姓就本（農業）者寡，趨末（工商業）者眾。……末修則民淫，本修則民慤（く口せ、樸實）。民慤則財用足，民侈則饑寒生。願罷鹽、鐵、酒榷、均輸，所以進本退末，廣利農業，便（適宜）也。」請問以上所述的資料，發生於下列哪個朝代？

- (A)秦朝
- (B)西漢
- (C)唐代
- (D)北宋

28. 陳二德家族是某一時期臺灣南部的士紳望族，家族中有人經營糖業出口買賣，是地方上重要的領導人物。他們購置田產做為祭祀開臺祖先的祭田，當時社會上從事工商業的人愈來愈多，街道上常可以見到來臺做生意的外國人，影響族群和諧的械鬥也大幅減少，社會呈現一片繁榮和樂的景象。請問陳二德生存的年代可能為下列何者？

- (A) 1690 年代
- (B) 1790 年代
- (C) 1840 年代
- (D) 1860 年代

29. 資料一：「其治學之根本方法，在『實事求是』，『無證不信』。其研究範圍，以經學為中心，而衍及小學、音韻、史學、天算、水地、典章制度、金石、校勘、輯佚，等等。而引證取材，多極於兩漢；故亦有『漢學』之目。」

資料二：他在被謫貶至貴州場驛時，對原來信守的學理有了新的體悟，因而有了「爾未看此花時，此花與爾心同歸於寂。爾來看此花時，則此花顏色，一時明白起來。便知此花，不在爾的心外」的名言。

資料三：「自中興之後，儒者爭學圖緯，兼復附以妖言。衡以圖緯虛妄，非聖人之法，乃上疏曰：……宜收藏圖讖，一禁絕之。」

請問上述三段資料出現的順序為下列何者？

- (A)資料一 → 資料二 → 資料三
- (B)資料二 → 資料三 → 資料一
- (C)資料三 → 資料二 → 資料一
- (D)資料三 → 資料一 → 資料二

30. 「臺灣自議開山以來，十有八年矣。剿則無功；撫則罔效；墾則並無尺土寸地報請升科；防則徒為富紳土豪保護茶寮、田寮、腦寮，而不能禁凶番出草。每年虛糜防餉、撫墾費為數甚鉅。明明無絲毫之益，而覆轍相蹈，至再、至三、至四，不悟、不悔；豈非咄咄怪事哉！」關於這段資料，我們應有何種認識？

- (A)這是批評沈葆楨開山撫番無所成
- (B)文中的「富紳土豪」包括林獻堂
- (C)撫番事業有利於樟腦利益的開發
- (D)劉銘傳因撫番不當而引發大民亂

31. 宋代工商業發達，庶民文化也蓬勃發展，陳志龍是北宋汴京城的商人，下列何者可能會是他的經歷？

- (A)他加入商幫，到蘇州購買棉花時就住在同鄉的會館
- (B)鼓勵兒子熟讀朱熹的《四書集注》以參加科舉考試
- (C)經商之餘常到瓦子聽說書，晚上則與朋友去逛夜市
- (D)他熱愛京戲，經常請戲班子到家中演《霸王別姬》

32. 「這個國家成立之後，沒有『首都』，也沒有『王宮』，皇帝雖是各邦的共主，但只有在自己家族繼承的領土範圍內，有實質統治權，全盛時期的領土遠達義大利半島，但皇帝卻無法插手各邦事務，形成鬆散的政治邦聯體制。然而，跟羅馬教宗一樣，這個國家的皇帝常以基督教世界保護者自居，夢想在自己統治的領土之外，還要做整個基督教世界法理上的共主，因而經常與教宗關係緊張。」請問這個國家是下列何者？
(A)查理曼帝國 (B)法蘭西王國 (C)不列顛帝國 (D)神聖羅馬帝國
33. 史書記載某一時期，中國老百姓的力役負擔增加了三十倍，賦稅增加了二十倍。政府除了對外戰爭，還展開許多公共工程，加以貪暴的官吏嚴刑峻罰，史書形容是「斷獄歲以千萬數」，使得百姓「亡逃山林，轉為盜賊」，加速了這個朝代的滅亡。請問這是反映下列何人在位時的情形？
(A)秦始皇 (B)漢武帝 (C)隋煬帝 (D)明神宗

34. 表三是日治時期某項統計的表格，請你判斷這個表格是何項統計？

表三

年代	1904	1909	1914	1920	1925	1930	1935	1940	1944
比率	3.8 %	5.5 %	9.1 %	25.1 %	27.2 %	33.1 %	41.5 %	57.6 %	71.3 %

- (A)臺籍公務員的比例 (B)學齡兒童的就學率
(C)蓬萊米的出口比例 (D)公立醫院的增長率
35. 某位皇帝針對發生的民變究責：「教匪滋事，以官逼民反為詞，……緣親民之吏，不能奉宣朝廷德意，激變至此。然州縣剝削小民，不盡自肥己橐（去×ㄅㄨˊ，口袋），半奉上司；而督撫之勒索屬員，不盡安心貪默，無非交結和紳。是層層剝削，皆為和紳一人，而無窮之苦累，百姓當之。」關於這段資料，下列敘述何者正確？
(A)資料所述應是乾隆晚年和坤敗壞吏治 (B)這是道光將太平天國之亂歸咎於和坤
(C)「教匪」是指白蓮教發起的川楚教亂 (D)清廷無力平定此民變，借外國軍平亂

36. 以下三段是臺灣不同時期土地改革的資料，請根據資料回答問題：

資料一：根據統計，因為減租而受益的佃農有近 30 萬戶，占全省農戶總數的 44.5 %。此一改革使農民更積極生產，有利於農業的恢復和發展。由於田租率下降，也導致地價下跌，為下一步實行的土地改革創造了有利條件。

資料二：政府設置清賦總局，按照清丈田畝 → 改賦 → 發給丈單的程序，展開清賦的工作，並決定以握有土地實權的小租戶為納稅人，亦即讓小租戶實際擁有土地所有權。

資料三：這一次土地改革的結果是：政府對給予大租權者公債補償，消滅其權利；小租戶成為土地的唯一所有權者；農地面積增加了 70 %，稅收大增。因確定了土地權利關係，也使資本家對臺灣的土地投資及企業設立更放心。

- (A)三段資料的時間順序應為資料二 → 資料一 → 資料三
(B)三段資料顯示的土地改革都在和平的氛圍中改革成功
(C)資料二的清丈田畝，因遭到大租戶反彈改採減四留六
(D)資料三的大租發起民亂，失敗後以公債成立彰化銀行

37. 這個國家在近代曾稱霸歐洲，擁有廣大殖民地，透過開發殖民地的金銀礦產，其王室成為歐洲首富，全盛時期，其君主同時統治神聖羅馬帝國，是一個具真正意義的全球帝國和殖民帝國，被認為是第一個「日不落帝國」。請問這個國家應是指何國？
(A)葡萄牙 (B)法國 (C)西班牙 (D)英國
38. 這場十七世紀的國際戰爭，是羅馬教會對抗改革最後的也是最重要的行動。它的起因包含了宗教紛爭、領土與經濟的野心、國際利益的衝突，以及政治上的仇恨。戰後法國稱霸歐洲大陸，瑞典成為波羅的海地區的霸主，而神聖羅馬帝國就此分崩離析，西班牙也國勢衰微。請問這場戰爭是下列何者？
(A)十字軍東征 (B)英法百年戰爭 (C)三十年戰爭 (D)英西海戰
39. 近年伊斯蘭國（ISIS）崛起，驚世駭俗的行為引發世人對伊斯蘭教的關注。伊斯蘭教自創教後，穆斯林積極將其向外傳播，關於穆斯林的擴張歷程，下列敘述何者正確？
(A)四大哈里發時期擴張至伊比利半島
(B)奧瑪亞王朝時領土橫跨歐、亞、非
(C)阿拔斯王朝以武力向蘇門答臘傳教
(D)塞爾柱土耳其曾被法蘭克宮相打敗
40. 某一時期，希臘人開始思索宇宙的本質，取代神話思維，與此同時，中國的學術思想呈現百家爭鳴，波斯出現祆教，印度則展開宗教改革，相繼出現新宗教。請問這一個時期約是下列何時？
(A)公元前六 ~ 前五世紀 (B)公元前二 ~ 前一世紀
(C)公元一 ~ 二世紀 (D)公元五 ~ 六世紀
41. 他在臺灣總督任內的治臺方針為內地延長主義，標榜「內臺融合」、「一視同仁」，對臺灣人實施同化政策。欲讓臺灣人如日本人一般效忠天皇。他完成許多重大改革，如改革地方制度為五州二廳、以「法三號」取代「三一法」，通過臺日共學制、臺日通婚制、修建嘉南大圳等。請問這位總督是下列何人？
(A)田健治郎 (B)小林躋造 (C)兒玉源太郎 (D)佐久間左馬太
42. 「由於各省競相獨立，辛亥革命以後，成為軍人為主的『軍紳政權』，他們覺得最大的敵人是祕密會社所領導的群眾及他們帶來的無政府狀態。所以解除清廷的箝制之後，他們轉而支持某人，以維持國家穩定。」請問上文中的某人是指以下何者？
(A)孫中山 (B)袁世凱 (C)段祺瑞 (D)黎元洪
43. 資料一：他向皇帝上書說：「位極人臣，年已六十有五，何敢妄貪天功，惟伊犁已歸俄有，阿古柏又據回部，若棄之不問，後患何堪設想。」
資料二：這股亂民響應同時期的太平軍，縱橫馳騁於長江以北八省十餘年，行蹤飄忽不定，難以捉摸，總是有辦法突破封鎖線逃逸，甚至往西北流竄，遠抵陝西，進入西安、延安。
請問上述兩段資料都與下列何人相關？
(A)曾國藩 (B)李鴻章 (C)左宗棠 (D)張之洞