

107 學年度全國高級中學
學科能力測驗模擬考試

社會考科

—作答注意事項—

考試範圍：第一、二冊

考試時間：110 分鐘

題型題數：

- 單選題：共 72 題

作答方式：

- 用 2B 鉛筆在「答案卡」上作答；更正時，應以橡皮擦擦拭，切勿使用修正液（帶）。
- 未依規定畫記答案卡，致機器掃描無法辨識答案者，其後果由考生自行承擔。

祝考試順利



99362205-27

版權所有·翻印必究

◆單選題（占 144 分）

說明：第1.題至第72.題皆計分。每題有 4 個選項，其中只有一個是正確或最適當的選項，請畫記在答案卡之「選擇題答案區」。各題答對者，得 2 分；答錯、未作答或畫記多於一個選項者，該題以零分計算。

1. 比利時與荷蘭簽署協議交換「飛地」（意指某國的境內有一塊主權屬於他國的領土），雖然比利時的國土面積縮小 14 公頃，卻讓原本淪為毒販與性罪犯天堂的飛地，往後能更有效的管理並打擊犯罪。兩國為打擊犯罪而交換飛地，此種國家存在的功能與下列何者最接近？
(A)外商將臺灣列為國家遭中國打壓，我外交部嚴正表明立場
(B)臺東地檢署為杜絕酒駕，首次安排酒駕累犯清洗大體冰櫃
(C)新北市創全國首例，將區段徵收取得的土地興建社會住宅
(D)為促轉型正義，有立委呼籲應廢止中正紀念堂為指定古蹟
2. 中國計畫 2020 年全面實施「社會信用系統」，利用現代科技全面監控人民的行為，此系統涵蓋政治立場、犯罪紀錄、交友圈、購物習慣等資訊，試圖將人民完全「數字化」，以決定其是否「可信」。一旦民眾被列入「黑名單」，生活將出現諸多不便，不但沒有資格購買機票、房地產、搭乘火車頭等艙，也不能獲得社會保障或申請銀行貸款。下列有關「社會信用系統」的分析何者最為正確？
(A)表示中國為一個重視誠信的國家，其公民自由受到重視
(B)人民有權透過媒體或他人獲得所有資訊，保障知的權利
(C)政府可藉由此制度侵犯人民隱私權，並限制其人身自由
(D)公民身分具普遍性，可自由組織團體而不受法律的限制
3. 德國 2017 年 9 月舉行國會下議院「聯邦議院」選舉，梅克爾率領的保守派聯盟在總數 709 議席中僅獲 246 席，因席次銳減未過半數門檻，只能跟其他小黨討論組閣。針對本屆德國國會選後的政局運作，以下敘述何者最可能發生？
(A)形成分立政府，導致行政與立法的對立
(B)接近雙首長制，總統與總理屬不同政黨
(C)組成聯合政府，有利於政治責任的區分
(D)欲與其他小黨組閣得讓出部分閣員職位
4. 馬來西亞國會大選於 2018 年 5 月落幕，由在野的希望聯盟各黨加上其支持的獨立參選人，在國會下議院的 222 席（共有 222 個選區）中取得 122 席，確定由希望聯盟的馬哈迪組閣。這是國民陣線執政 61 年來首次失去政權，在大選中僅獲得 79 席。選前，執政黨除了有用假新聞攻擊在野黨的爭議之外，也利用重劃選區造成傑利蠅蠅現象。由上述內容判斷，關於馬來西亞下議院的選舉制度何者正確？
(A)採複數選區相對多數決
(B)採取的制度較利於小黨
(C)傑利蠅蠅現象出現在大選區
(D)我國總統大選亦採相同制度

5. 據統計，韓國人每年要吃掉約 100 萬隻狗，但近年來隨著西方國家動物保護組織的推動，多數韓國年輕人已接受貓狗屬於寵物而非食用動物，因此拒吃狗肉。不過，動物保護組織的努力也引發了爭議，有些人認為應該保護所有的動物，而不只是拯救貓狗等令人憐愛的寵物。韓國狗肉農場主人也不認同西方動物保護組織的做法，他們認為吃狗肉是韓國的文化傳統。根據上文，以下有關食用狗肉的文化敘述，何者最為正確？
- (A)部分韓國民眾堅持吃狗肉的傳統，主要是基於對西方我族中心主義的反思
 - (B)動物保護組織所持的觀點是文明進化論，其認為韓國的傳統文化相對低落
 - (C)年輕人受西方文化影響，認為食用狗肉不具普遍性，此為多元文化主義的主張
 - (D)農場主人認為西方國家並不理解韓國文化，反對吃狗肉屬我族中心主義的象徵
6. 2015 年某日凌晨 2 時，桃園市新屋區疑似違建且無營業登記的保齡球館發生火警，消防局動員大批人力搶救，6 名年輕消防隊員卻不幸殉職，突顯國內消防救災作業存有諸多問題。○○於 2017 年 10 月 5 日下午召開會議，審查通過對桃園市政府之糾正案及調查報告。從上文中研判，○○為我國中央政府機關，有關其職權與各院互動的敘述，何者正確？
- (A)對公務人員行使彈劾權後，隨即召開院內的公務員懲戒委員會進行後續懲處
 - (B)設審計部，負責監督政府預算執行；審計長由總統提名，立法院行使同意權
 - (C)該委員依法須定期赴立法院做施政報告並接受質詢，須對立法院負政治責任
 - (D)組憲法法庭，審理正副總統彈劾案與政黨違憲解散事項；任期 8 年不得連任
7. 維吉尼亞大學攝影歷史學家梅森曾調查國家地理雜誌的報導模式，指出 1888 年創刊的這本黃框雜誌長期忽略在美國生活的有色人種，一再強調不在美國領土生活的外國有色人種是「異類」，因為他們「不穿衣服、打獵維生且性格野蠻」，直到 1970 年代才改善。根據上文判斷，下列何者可能是歷史學家對國家地理雜誌的看法？
- (A)偏向娛樂化的現象讓學者不滿
 - (B)不應進行此負面的置入性行銷
 - (C)過於追求銷售量，導致報導有所偏差
 - (D)片面貶低某族群，傳遞不當的文化觀
8. 2017 年 7 月由八個公民團體與環境資源部一起推出「海洋廢棄物治理行動方案」，具體提出一次性塑膠餐具等塑膠減用時程表——2020 年內禁用、2025 年以價制量限用、2030 年全面禁用。請問上述內容符合政府決策過程中的哪一個階段？
- (A)政策規劃
 - (B)政策評估
 - (C)政策執行
 - (D)問題認定
9. 2018 年世界盃足球賽精彩落幕，南美足球強隊阿根廷的隊長梅西擁有眾多支持者，並被賦予為阿根廷奪冠的重任，因此梅西認為，自己若表現不佳，個人將難以面對球迷。請問與上文相關的自我形成理論，和下列哪一選項的看法相近？
- (A)就讀高中的小智對自己未來要繼續升學或是出社會工作感到迷惘
 - (B)小美非常在意朋友對他的眼光，所以不斷的調整自己的外在形象
 - (C)阿達肚子非常餓，但因為在密閉的補習班內，所以忍住不吃梅子雞排
 - (D)馬戲團裡的空中飛人，盡力從事好自己的表演，以滿足觀眾對表演的期待

10. 伯納·莫斯坦 (Bernard Murstein) 教授這樣形容「友伴之愛」：這是一種強而有力的連結，包含溫柔的愛慕、享受對方的陪伴和友誼。它的特色不是狂野的激情、持續感到興奮，雖然有時候確實會有這些感覺。激情之愛與友伴之愛的主要差別是：當兩人被剝奪一些權利、感到挫折、情欲被挑起、或是無法見面時，激情之愛會加速成長；而友伴之愛則容易在頻繁的相處下成長，而且需要時間來培養茁壯。以下關於愛情三元素的描述，何者符合友伴之愛？
- (A) 老鼠告訴大米與其相處很愉快，並想和小米發生親密關係
 - (B) 牛郎看到織女有強烈的情欲，和織女約好要維持長久的關係
 - (C) 爾康對子威說，我要照顧你一輩子，每每與子威相處都覺得彼此心靈交會
 - (D) 平框看到美麗後心中想的都是對方，並約定每週固定親吻一次做為親吻日
11. 日本動畫《風之谷》劇情描述千年以前的產業文明達致巔峰後，世界被一種由菌類構成，名叫腐海的新生態體系所掩蓋；然而只有巨型昆蟲能夠適應其中，人類們生活在僅存的小面積土地上，在面對巨型昆蟲和會釋放瘴氣的腐海森林包圍威脅下積極求存。女主角娜烏西卡公主為了證明腐海能為人類淨化空氣，極力想保留腐海。娜烏西卡爭取腐海的保留以維繫良好的生存環境，此人權性質，與下列何項訴求性質相同？
- (A) 空服員上街頭抗議工資與工時不相符
 - (B) 遠距課輔計畫協助偏鄉學生有平等的學習權利
 - (C) 電影《我只是個計程車司機》描述韓國大學生爭取民主
 - (D) 珊瑚礁島嶼上的樹木應予以保持，以維持自然環境的永續發展
12. 過去第一代及第二代的人權，都比較強調個人權利。但是 2007 年聯合國通過〈原住民族權利宣言〉，正式肯認原住民族做為一個集體的權利。台灣人權促進會經常透過行政訴訟或聲援的方式，關注臺灣原住民族的權利。下列關於原住民族人權的立法，何者描述正確？
- (A) 原住民歌手阿妹與唱片公司簽約，是基於《原住民族基本法》的保障
 - (B) 阿美能夠在部落當中以捕魚為生，有賴於《原住民族教育法》的保障
 - (C) 小明把名字改回莫那魯道·撒魯·阿薩明，是依據《姓名條例》的保障
 - (D) 原住民國小生課後與遠端的大學生連線進行遠距教學，此為《原住民族教育法》的保障
13. 「公民不服從」雖可能涉及違法的行為，卻是公民出於對社會良知及正義等公共利益的重視，對不合理的政策不得已所採用的一種手段，是少數人出於對法律的反省和表現，喚起多數人認同的非常手段。以下為某日的四則新聞報導，相較而言，哪則事件最合乎公民不服從的基本精神？
- (A) 某女子因不滿司法判決不公而想要自焚抗議
 - (B) 某戶居民因政府強制進行都更而在家絕食抗議
 - (C) 某男子因居家附近路面不平而向議會陳情改善
 - (D) 民眾因反同婚公投提案通過而集體在立法院前大聲喧嘩

14. 早在一九五〇年代末期，電視剛剛流行的時候，日本評論家就擔心，電視充斥聲光絢麗、內容膚淺的節目，長期下來將會造成觀眾失去思考力與判斷力，最終導致國民「總白痴化」。某鄉土劇醫療場景中出現：頭部受傷但繃帶包在頭髮上，以及以水管當作呼吸管的景象，導致觀眾可能因缺乏思考與判斷的能力，而有總白痴化的現象。請問以下描述何者與題文的狀況相符？
- (A)在電影《楚門的世界》當中，場景很常特寫某牌子的除草機
 - (B)某電視劇的主角總是使用某廠牌的手機以及使用某牌洗髮乳
 - (C)電視新聞告訴觀眾多喝可樂可以避免癌症，民眾爭相去採購
 - (D)日本公共電視臺 NHK 在地震時提供即時明確穩定人心的報導
15. 某員警追捕酒駕嫌犯，疑因車速過快撞樹，導致同車的另一名員警受傷身亡。此案件引起各界對酒駕刑責的檢討，希望透過改善酒駕刑責的相關規範，提升公共利益。請問下列選項描述，何者與公共利益描述不相符？
- (A)參與「舊鞋救命」活動，小明將穿不到的鞋子捐到非洲
 - (B)妙禪如來宗的創始人接受信徒集資購買豪華名車的贈與
 - (C)國會預計通過空汙的相關懲治條例，工廠排放廢氣須接受檢驗
 - (D)為了防止 H7N9 流感病毒擴散，政府實施禁止傳統市場屠宰活禽政策
16. 2018 年 4 月，三項反同性婚姻公投順利通過中選會初審門檻，讓支持同性婚姻者質疑公投案違反《憲法》保障的基本人權，中選會主委表示，「這三個公投不是同婚公投，是如何落實同婚權益的公投」。因反同婚公投提案通過，使支持同婚的民眾希望透過聯署「支持一夫一妻永遠不能離婚」等三項新公投提案，試圖考驗中選會初審的公正性。根據題幹描述，以下關於公投的相關描述，何者正確？
- (A)反同婚公投已提案通過，公民投票為形式上的同意
 - (B)支持方屬地方性公投提案，反對方屬全國性公投提案
 - (C)我國國民年滿 18 歲，在國內居住 4 個月以上即有公民投票權
 - (D)支持同婚者的連署，其公民提案人數標準需達提案時前一次總統選舉人數萬分之一以上
17. 國際特赦組織致力於全球性的人權運動，在全世界超過 150 個國家當中，擁有超過 700 萬支持者。國際特赦組織的會員、支持者及人權工作者，希望能終結各種對人權的嚴重侵害；其基本原則包括：國際團結、採取有效行動保護受迫害的個人、全球關懷、人權普世性與不可分性、公正性與獨立性、民主和互相尊重。以下關於國際組織的區域性質與「政府或非政府」類型，何者與上述完全相同？
- (A)亞太自由民主聯盟以反對共產主義、推翻共產黨政權為其目標
 - (B)國際貨幣基金協助受金融風暴影響的相關國家，並提供緊急短期的紓困
 - (C)亞洲開發銀行總部設立於菲律賓馬尼拉，並在世界各地擁有 31 個辦事處
 - (D)世界經濟論壇聚集全球工商與政治等領域領袖，討論世界所面臨最緊迫問題

18. 為了抗議政府再次針對一例一休修改《勞基法》，桃園市產業總工會突襲臺鐵臺北車站的南下月臺，試圖以臥軌抗議的方式表達訴求，希望政府撤回《勞基法》修正草案。請問該工會的分類與性質與下列哪項敘述符合？
- (A)依《民法》分類，該產業總工會以捐助財產為組成基礎，屬公益性質的財團法人
 - (B)該工會不以營利為目的，致力推動勞工政策，成員具共同信念，故為非正式團體
 - (C)藉由凝聚反對修法者的聲音，該組織可累積社會資本，有助於未來的組成與發展
 - (D)社會運動通常採取由上往下的動員方式，因此這次工會的臥軌行動才會受到關注
19. 甲國對臺海兩岸的政策，大致是考量自身的國家利益，因此往往會扮演危機、戰爭預防者的角色。除了甲國之外，亞洲各國與國際組織，亦在兩岸扮演重要角色；以下關於甲國對臺海兩岸的相關描述，何者與題文相符？
- (A)甲國為美國，主張臺海兩岸屬於「特殊的國與國關係」
 - (B)甲國為聯合國會員國，承認「中華人民共和國」代表中國席次
 - (C)甲國屬於歐盟，該國顧及本身在中國的商業利益，支持「一個中國」
 - (D)甲國為日本，負有共同維護亞太區域安全與穩定，支援美軍戰鬥的任務

20.、21.題為題組

- ◎ 2016 年臺北市內湖區曾發生隨機殺人案，受害者年僅 3 歲，是隨機殺人案中最年幼者。雖遭遇不幸，但受害者的媽媽理性而冷靜地表達想法，呼籲大眾重新省思社會問題，也開啟更多理性對話的空間。並獲總統府邀請，以受害者、受害者家屬的身分參與司法改革國是會議。會議討論中有關維護被害人尊嚴部分，召集人認為不應經過申請核准程序，法官應主動積極照顧被害人，決議法院公開審理程序時，應保障被害人或家屬隱私，如果非必要，不揭露被害人或家屬個資。請問：
20. 廣泛徵集民意，納入專業社群、民間社會共同參與，凝聚改革方向，形成有效共識的「司法改革國是會議」，與下列哪一種西方民主理論的描述最為接近？
- (A)民主僅是產生治理者的一個過程，而且並非必要過程，無論人民參與民主的程度有多少，政治權力始終都是在菁英階層當中轉讓
 - (B)提倡限制政府的權力，認為政府的正當性須來自人民持續的同意，組成政治社會後，訂立契約的人可透過契約規範，使自己獲得更大的保障
 - (C)美國槍枝遊說團體「全國步槍協會」持續透過遊說與政治獻金，對國會議員施加壓力，避免支持槍枝管制的人士破壞《美國憲法》保障擁槍的權利
 - (D)社群網路媒體的活動「市長給問嗎？」是讓公民和市長候選人直接對話的平臺，民眾可對候選人的政見提出建議或質疑，而候選人必須公開回應民眾
21. 上述召集人認為不應經過申請核准程序，法院公開審理程序時，即應保障被害人或家屬隱私，如果非必要，不揭露被害人或家屬個資。此敘述與下列何種人權的保障最為相同？
- (A)學校不得要求懷孕的學生休學或退學，剝奪其受教權
 - (B)《教育基本法》明示，學生不受任何體罰與霸凌行為
 - (C)非警大畢業的一般生，通過特考後，需另安排到警專受訓
 - (D)導師有合理懷疑而須安檢時，可在第三者陪同下檢查私人物品

22.、23.題為題組

- ◎ 在參眾兩院都通過後，美國總統川普在 2018 年 3 月 16 日正式簽署《臺灣旅行法》，並從當日起立即生效。該法案的實質意義是打破近四十年美國、中國、臺灣三方的外交傳統。

1979 年 1 月 1 日美國正式與中華民國斷交，轉而和中華人民共和國建交。當時美國國會認為有必要在非官方體制下維繫與臺灣的關係，所以在同年通過（甲），成為美國租借防禦性武器給臺灣，及維持臺美經貿關係的法源依據。不過，雖然通過（甲），但畢竟臺灣已是非邦交地區，且美國與中華人民共和國聯合發表的三公報，限制了包括臺灣總統在內的高層級官員無法循正常體制拜訪華府，所以四十年來臺、美一直無法進行有效率的雙向溝通。

《臺灣旅行法》的簽署，鼓勵雙方各層級官員可以互訪，提升了臺、美的交流層級；然而中華人民共和國政府必會對美國和臺灣表達抗議，後續的美、中、臺關係仍必須持續關注。

22. 美國國會通過（甲），說明美國和臺灣雖無邦交關係，但仍會保持一定程度的實質交流，也代表美國不會在臺海兩岸關係的發展中缺席。另一方面，美國卻又在三年後和中國共同簽署第三個公報（乙），其中提到美國將「逐年減少對臺灣的軍售」。請問（甲）和（乙）分別是什麼？
- (A) 《臺灣關係法》；〈上海公報〉
(B) 《臺灣關係法》；〈八一七公報〉
(C) 《臺灣旅遊法》；〈上海公報〉
(D) 《中美關係白皮書》；〈建交公報〉
23. 由《臺灣旅行法》正式生效的方式可知，在美國這個總統制的國家，法案經過國會通過後，總統仍須簽署才具效力。關於總統制的敘述，下列何者正確？
- (A) 總統任命國務卿不須經過國會同意
(B) 總統經過國會同意任命的閣員，要向國會負責
(C) 美國國會可以對總統任命的閣員提出不信任案
(D) 總統對法案提出覆議後，該法案需國會議員 2 / 3 同意後才能繼續維持，並送交總統公布
24. 某文獻記載：「○○命設香案，冠帶叩祝曰：『○○受先帝眷顧重恩，委以征伐。奈寸土未得，孤島危居！今而移師東征，假此塊地，暫借安身，俾得重整甲兵，恢復中興。若果天命有在，而○○妄想，即時發起狂風怒濤，全軍覆沒；苟將來尚有一線之脈，望皇天垂憐，列祖默佑，助我潮水，俾鷁首所向，可直入無礙，庶三軍從容登岸。』」請問此文獻中的○○是指下列哪一位歷史人物？
- (A) 鄭芝龍 (B) 鄭成功 (C) 鄭經 (D) 施琅

25. 荷蘭聯合東印度公司統治臺灣期間，引進勞工、農民、漁民和捕鹿者等移民。前六年以赤手空拳的青年勞工為主，但在漢人移民不斷湧入下，勞工的工資更為低廉；接下來的三十二年統治期間，則轉為農業移民為主，主要在臺灣發展能自行生產的農產品，同時供應本地的需求及出口，既節省支出，又能增加獲利。請問荷蘭統治臺灣期間，從引進勞工轉為引進農民的重要關鍵事件為何？


- (A)三藩之亂
- (B)日本進入鎖國時期
- (C)西班牙占據臺灣北部
- (D)菲律賓發生叛亂事件

26. 清道光年間，有一天思貓丹社平埔族人來到北山坑的山中獵鹿時，偶然遇到也是來此獵鹿的北投社平埔族人（今草屯地區）。北投社人告訴思貓丹社人，他們連可以居住、耕種的地方都沒有了。聽到北投社的悲嘆後，思貓丹社人表示，既然如此，北投社人不如就搬到地廣人稀的蛤美蘭社（今埔里地區）。根據以上資料，下列何者是北投社人遷徙的原因？

- (A)漢人大量入侵使生存空間受到壓迫
- (B)人口大量增加，導致糧食嚴重不足
- (C)外國傳教士侵占族人土地以建教堂
- (D)清朝官員積極從事開山撫番的事務

27. 圖一為一個神祕的圖案，整體是一個人形，頭戴羽冠，身穿戰袍，口、鼻、目俱全，型態似一尊英勇的戰神。而從另一個角度看，它是人與動物的複合體：上半部是一個威嚴的神人，下半部是一隻猛獸，兩眼圓睜、獠牙外露、雙爪彎曲。這個圖案幾乎都會出現在良渚文化遺址的玉器上，請問它所代表的意義為何？

- (A)游牧民族的族群象徵
- (B)商業交易的商標圖案
- (C)宗教信仰的精神寄託
- (D)狩獵族群的勇士標記



圖一

28. 某學者認為：1920 年代，就是因為日本____的抬頭，才改派文官主持殖民政府。由於此一政策，臺灣人首度以顧問身分躋身殖民政府高層，臺灣企業家首度得以和日本人在公平的條件下競爭，島民的教育機會增加，特別是在實用性職業訓練、教學、醫學方面。例如 1928 年，臺灣第一所大學——臺北帝國大學在臺北市東南隅創立。請問____內應填入為何？

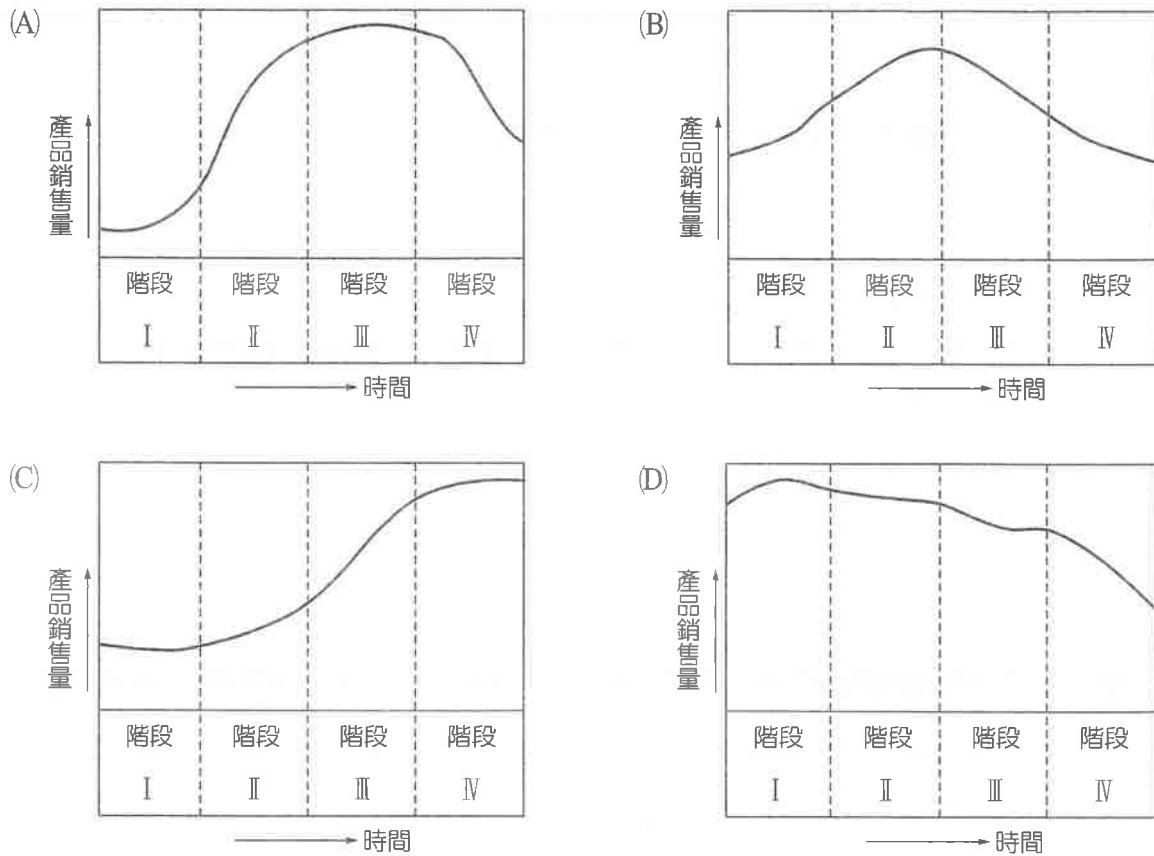
- (A)社會主義
- (B)保守主義
- (C)浪漫主義
- (D)自由主義

29. 中國歷史上某一時期，民間交易已大量使用銅幣，主要農產品的價格都用銅錢計算，工資也用銅錢來支付，實物交易的現象已經很少見；有的地區徵收的賦稅也以徵收貨幣為主，稱為「刀布之斂」。此時各大城市可自行鑄錢，錢上大多鑄有地名，甚至豪家富商也可自行鑄錢。請問此時期為何時？
- (A)春秋時期 (B)戰國時期
(C)秦始皇在位時 (D)漢武帝在位時
30. 某一時期，學生由老師帶隊前往機場或軍事基地，在跑道上撿石子、搬石塊、搭房子等。女學生在上家政課時縫製「慰問帶」或「千人針」，為自己關愛的親人祈福，期盼親人能平安歸來；老師若被徵調到前線作戰，在校師生會舉辦餞別會，校園也開始出現感傷的景象。而當戰事順利時，學生必須配合政策，加入沿街遊行的行列或舉行慶祝會。請問此景象會發生於下列哪一地區？
- (A)乙未戰爭發生時的臺北城 (B)霧社事件發生時的臺南市
(C)七七事變發生時的新竹市 (D)太平洋戰爭後期的臺中市
31. 有一段文字記載：「從祖國來了第七十軍的三千人，與長官公署的官員一起在基隆登陸，這一天的歡迎情形，真是不得了，臺北市不用說，遠從臺中、臺南、高雄等地趕來的也不少。軍隊所經過的道路兩旁，砌成了人牆。學生、青年團員，還有樂隊，連謝將軍和范將軍也被抬了出來，大刀隊和藝閣也著實不少！」關於上述的內容記載，下列說法何者較為合理？
- (A)是真實的表露，呈現臺灣人脫離殖民回歸祖國之心情
(B)是虛構的情境，因行政長官公署在臺灣實施獨裁統治
(C)是期待的幻想，臺灣人在皇民化統治下對祖國的想像
(D)對事實的反諷，因發生本省與外省衝突的二二八事件
32. 某一時期，漢朝與匈奴結成兄弟般的對等外交關係，雖未明確規定誰是兄長，但在現實中是匈奴占盡優勢。除了兩國互相約定不侵犯長城外，漢朝甚至要將皇帝的女兒嫁給匈奴，並贈送一定數量的粟米、黃金、絲帛等。請問此時期政府的統治思想為何？
- (A)黃老無為 (B)獨尊儒術
(C)兼用王霸 (D)清談玄學
33. 某書記載江蘇、浙江一帶的情形：「昆山一帶，多種木棉，居民多從事紡織，男子習於麻縷機織之事；嘉定一帶，棉花通邑栽之，以資紡織；海鹽一帶，地產木棉花甚少，而紡之為紗、織之為布者，家戶習為恆業。」根據以上內容，可以看出下列哪一現象已經出現？
- (A)改良新品種作物，提高平均所得
(B)栽種經濟作物，發展商品化經營
(C)棉紡織發達，形成資本主義社會
(D)女性地位提升，男性須貼補家用

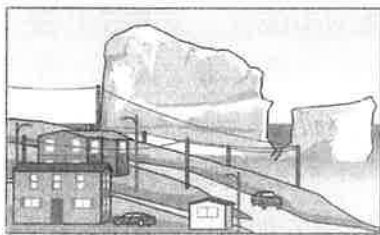
34. 在一篇〈論普及白話文的新使命〉中提到：「臺灣的日本語文教育僅止於小學，畢業後能夠使用日文的能力有限。這是日本的方針，欲以日本文化來同化臺灣人，卻又不讓臺灣人獲得更多的知識。民眾的文化程度低落，便易於受到控制，也就不能做為一個輿論來動搖政治的方針。日本的這種策略，自然使臺灣社會無法發達起來。」根據以上資料可知，此篇文章的作者認為普及白話文的新使命為何？
- (A)運用日語以成為日本國民 (B)普及新知以對抗殖民政策
(C)普及教育以保存臺灣文化 (D)提升水準以提高參政機會
35. 臺灣銀行於 1948 年開始發行每張面額達五千、一萬、十萬的高額流通券——「定額本票」，與舊臺幣在市場上並行流通。史明在《臺灣人四百年史》中說：「在這種通貨極端紊亂的局勢下，臺灣人只有眼看著自己的血汗結晶被這些等於空紙的高額本票掠奪殆盡，自己卻急速陷入窮困、飢餓、失業的深淵中。」請問造成以上情況的原因為何？
- (A)二次大戰末期，美軍對臺灣城市進行轟炸
(B)因國共內戰失利，臺灣物資大量輸往大陸
(C)二二八事件發生，城市經濟遭受嚴重破壞
(D)韓戰爆發，導致臺灣局勢不安及經濟動盪
36. 魯迅在〈頭髮的故事〉一文中寫道：「宣統即位之初，我在本地的中學做監學，同事是避之惟恐不遠，官僚是防之惟恐不嚴，我終日如坐在冰窖子裡，如站在刑場旁邊，其實並非別的，只因為少了一條辮子！有一日，幾個學生忽然走到我的房裡來，說：『先生，我們要剪辮子了。』我說：『不行！』（學生說）『有辮子好呢，沒有辮子好呢？』（我說）『沒有辮子好』（學生說）『你怎麼說不行呢？』（我說）『犯不上，你們還是不剪上算，——等一等罷。』」請問文中的「我」認為學生不可剪辮子的原因可能為何？
- (A)剪辮子有可能會被當成革命黨人士 (B)洋務運動失敗，故牽連革新派人士
(C)剪辮子會被當成是太平天國的賊人 (D)辛亥革命後，剪辮子有可能會被殺
37. 某一時期，由於殘酷的政治現實，所有日治時期的作家都停止文學創作。有的加入了地下政治組織，有的因為語文障礙成為恐懼的陰影，拒絕重新執筆。大陸來臺的左翼作家，都在事件後倉皇潛逃回到中國；留在臺灣的學者，終身不再提起魯迅，五四傳統及魯迅文學的傳播也全然停頓下來。請問造成此時期變動的主要因素為何？
- (A) 1920 年代的新舊文學論戰 (B) 1940 年代的二二八事件
(C) 1960 年代的白色恐怖 (D) 1970 年代的鄉土文學論戰
38. 夢魘開始降臨，歐洲列強開始向中國伸手要地。首先，德國以協助要回失土為由，向中國要求租借山東的膠州灣做為海軍基地，卻遭到拒絕。德皇威廉二世決定動用武力逼迫清廷密服，於是派遣軍艦在海岸附近巡弋，尋找有利的機會和藉口。不久，兩名德國傳教士在山東一個村莊遭到殺害，山東巡撫抓到四名凶手，德皇卻高興地說：「我們的機會來了！」不久德國軍艦駛入膠州灣，根據以上資料，是下列哪一事件開啟了中國的夢魘？
- A. 鴉片戰爭失利 B. 甲午戰爭失利 C. 甲午戰爭先敗 D. 國聯軍挫敗

39. 西漢哀帝時實行限田政策，規定擁有土地的最大限額為三千畝地，占有奴婢的數量也要與爵位相符，至多不得超過兩百人。王莽進一步將天下耕地稱為「王田」、奴婢稱為「私屬」，兩者都禁止買賣。請問從哀帝到王莽的經濟政策，應是西漢晚期何種社會背景下的產物？
- (A)人口逐漸增多，土地交易頻繁 (B)郡縣制度破壞，封建制度崛起
(C)黃老思想盛行，商業貿易停頓 (D)兼併日益激烈，貧富差距擴大
40. 中國歷史上某一朝代的南方人民，政治地位雖無法與前朝相比，但因具有經濟優勢，不少南方地主仍得以透過各種手段謀取政治勢力，該朝的財政也多依賴南方。而在地方上擔任官員的外族大多昧於政事，又不熟悉環境，在處理地方事務時不得不依賴當地的土豪大姓。在科舉不公的情況下，許多江南地主僅能擔任基層職務，往往利用職權規避徭役，武斷鄉曲。請問此朝代為何？
- (A)宋代 (B)元代 (C)明代 (D)清代
41. 某一本書中提及：「在東晉門閥政治下，掌握軍政權力的士族門閥擁兵自重，互相覬覦和掣肘，對北方的戰爭一直少有建樹；以劉裕為首的北府軍人集團，確立了令行禁止、賞罰分明的政治秩序，消除了士族分權節制所造成的政治委靡現象。進而對外連續發動攻擊，穩固政權，對內重建皇權獨尊的地位。」根據以上內容分析，上述資料的主旨為何？
- (A)士族權力消滅是皇權加強的關鍵因素 (B)北方政權沒落是中國歷史演變的趨勢
(C)政治結構是決定政權軍事成就的關鍵 (D)軍人掌政是南北朝歷史發展的重頭戲
42. 某一朝代的國內交通，已成為世界交通網絡的一部分。如果以地中海為起點，就可以沿著敘利亞—波斯—中亞—新疆—敦煌—長安—洛陽—開封—大運河—揚州—東海—泉州—廣州—占城—馬來—錫蘭—阿拉伯海—紅海—敘利亞的路線，繞亞洲大陸一周。從這條主要幹道的任何地點出發，還有許多條通往世界各地的支線。請問此朝代為何？
- (A)秦代 (B)漢代 (C)唐代 (D)宋代
43. 宋太祖將禁軍分成三個系統，設置三名都指揮使為最高指揮官，其權限平等，直屬天子。這三名都指揮使都只是單純的部隊長官，並不參與制訂作戰計畫。負責作戰計畫的是樞密院的樞密使與樞密副使，但大多由文官擔任。禁軍平時駐守地方及要塞，其指揮官是文官；出征之際的總指揮官，也多從文官中臨時選任。請問宋太祖規劃此制度的用意為何？
- (A)讓通過科舉的文人獲出路 (B)降低禁軍的整體作戰能力
(C)提高軍隊的整體知識水準 (D)扭轉五代軍人篡奪的歪風
44. 某一文獻記載：「虜代墩軍瞭望，軍代韃虜牧馬」，意指長城內的守邊軍人與長城外的游牧民族之間保持互相共存的關係。有時候，守邊將士為了騰出時間照料他們開墾的農田，就請長城外的游牧民族替他們巡守邊牆和墩臺。有時候則相反，長城外的游牧民族會請守邊的軍人幫他們放牧。根據以上資料判斷，該文獻中的「墩軍」與「虜」分別為下列何者？
- (A)秦朝軍人與南越人 (B)漢朝軍人與西羌人
(C)明朝軍人與蒙古人 (D)清朝軍人與朝鮮人

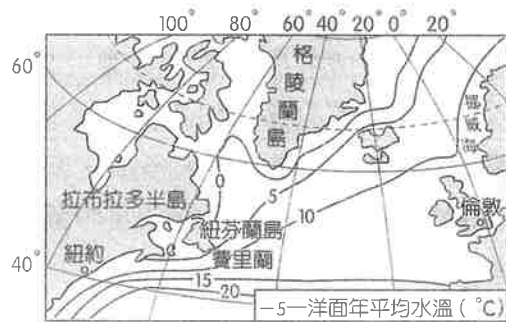
45. 製造業面臨的競爭日趨激烈，消費者的喜好瞬息萬變，造成產品生命週期愈來愈短，客製化產品日趨多樣。請問下列哪一幅圖正確顯示出資訊科技產品於產品生命週期不同階段的銷售量曲線？



46. 2017 年 4 月 20 日一座巨型冰山擱淺於加拿大紐芬蘭島東南部小鎮費里蘭 (Ferryland) 外海，小鎮突然成了擁擠的旅遊景點。圖二為擱淺冰山的改繪示意圖，冰山的分布範圍與大洋表層水溫狀況有關，圖三為「北大西洋中高緯度洋面年平均水溫圖」。請問影響圖三中水溫分布的主要因素為何？



圖二



圖三

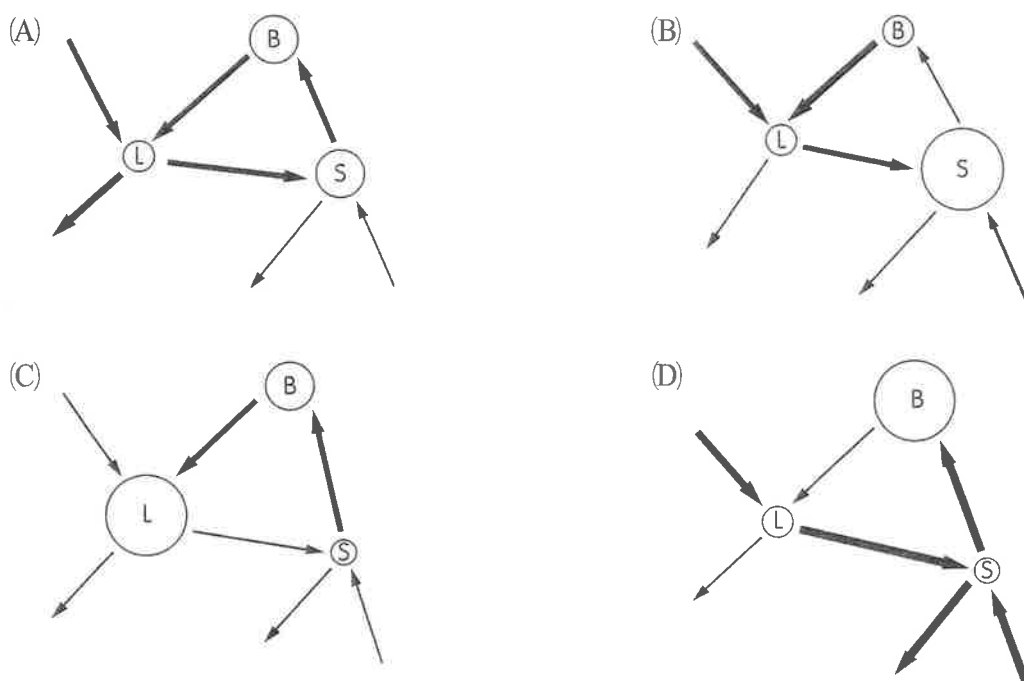
- 甲、洋流
- 丙、緯度
- (A)甲乙
- (C)丙丁

- 乙、距海遠近
- 丁、高度
- (B)乙丁
- (D)甲丙

47. 照片一為某種自然景觀，請問下列哪一幅生態系統養分循環示意圖能正確表示其各個養分庫？（圖例：B=生物量；L=枯枝落葉；S=土壤，圓圈大小表示養分儲量多寡，箭頭粗細表示流量大小）

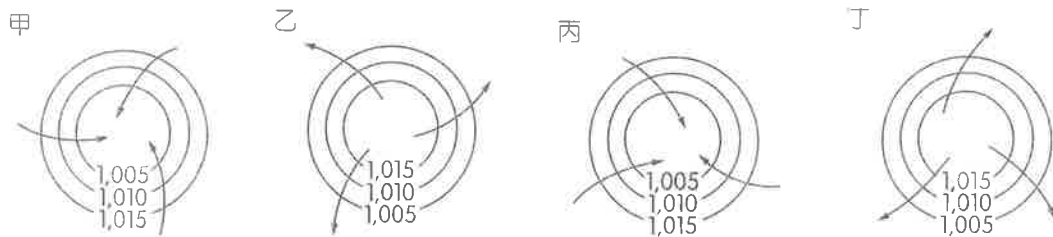


照片一



48. 《雅典憲章》（Charter of Athens）即國際現代建築協會（C.I.A.M.）於 1933 年 8 月在雅典會議上制定的一份關於城市規劃的綱領性文件——「城市規劃大綱」。它反映了當時「新建築」學派，特別是法國建築師——勒·科比意（Le Corbusier）的觀點：城市規劃的目的是解決居住、工作、休閒與交通四大功能活動能正常進行。請問下列何者最能呈現其觀點？
- (A)同心圓模式
 - (B)扇形模式
 - (C)多核心模式
 - (D)首要型模式

49. 根據《紐約時報》2018 年 4 月 22 日報導，在波蘭南部扎爾山山頂，看不見山腳下的村落，阻擋視線的不是晨霧，而是濃重的黃色霧霾。這個問題肇因於波蘭人愛用煤，在整個歐盟目前仍使用煤的家戶中，80 % 是波蘭人，估計波蘭每年約有 48,000 人因空汙相關的疾病喪生。因此波國政府已面臨愈來愈沉重的壓力，要解決空汙帶來的疾病問題。下圖為四種地面天氣系統圖，請問何者最有利於在波蘭形成霾？



- (A)甲 (B)乙
(C)丙 (D)丁

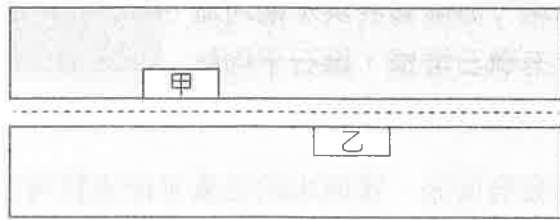
50. 表一為臺中市政府民政局 2017 年 10 月的統計資料，請問這種行政區劃，最符合下列何種理論？

表一

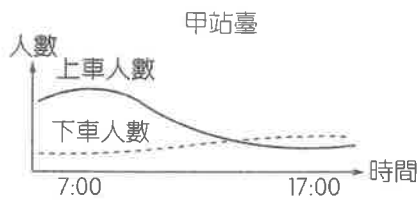
區名	中區	東區	南區	西區	北區	北屯區	西屯區	南屯區	太平區
下轄里數	8	17	22	25	36	42	39	25	39
下轄鄰數	194	404	608	608	842	934	1,006	597	714
區名	大里區	霧峰區	烏日區	豐原區	后里區	石岡區	東勢區	新社區	潭子區
下轄里數	27	20	16	36	18	10	25	13	16
下轄鄰數	767	354	281	737	263	109	343	174	321
區名	大雅區	神岡區	大肚區	沙鹿區	龍井區	梧棲區	清水區	大甲區	外埔區
下轄里數	15	16	17	21	16	14	32	29	11
下轄鄰數	358	280	298	412	290	342	496	376	187
區名	大安區	和平區							
下轄里數	12	8							
下轄鄰數	110	117							

- (A)多核心理論
(B)推拉理論
(C)中地理論
(D)區位理論

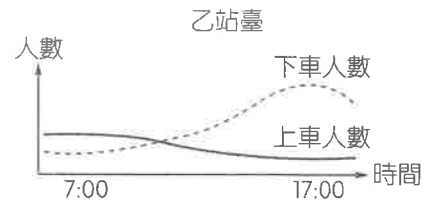
51. 圖四為某都市主幹街道上的甲、乙兩個公車站臺分布圖，統計資料顯示，不同時刻上下車的人數隨時間變化有明顯差異（如圖五、圖六）。請問圖四所示區域最可能為下列何種土地利用分區？



圖四



圖五



圖六

- (A)商業區 (B)住宅區 (C)工業區 (D)行政區

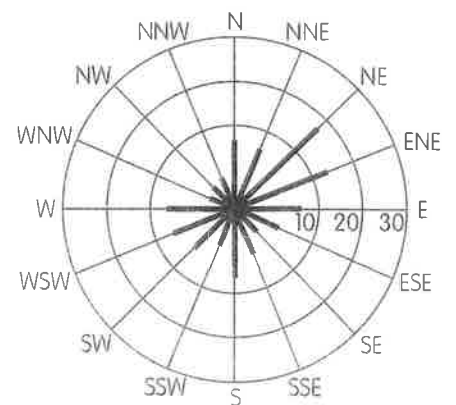
52. 根據法新社和路透社報導，美國夏威夷州的大島（Big Island）從 2018 年 5 月 3 日起遭受一系列地震的襲擊，觸發附近的基勞厄亞火山（Kilauea Volcano），5 月 5 日不但發生規模 6.9 強震，熔岩流也入侵住宅區，根據美國地質調查所統計火山的熔岩範圍已覆蓋 125 平方公里。下列關於夏威夷火山的敘述，何者正確？

- 甲、類型：寧靜式火山
乙、火成岩：安山岩及流紋岩
丙、熔岩特性：基性，黏度小
丁、主要產物：熔岩為主，少量氣體與碎屑
- (A)甲乙丙 (B)乙丙丁 (C)甲丙丁 (D)甲乙丁

53.、54.題為題組

◎ 圖七為某地區某月分最常出現的風花圖。請問：

53. 該地最可能位於下列何處？
- (A) (34°S, 19°E)
(B) (51°N, 0°)
(C) (35°N, 139°E)
(D) (23°N, 121°E)

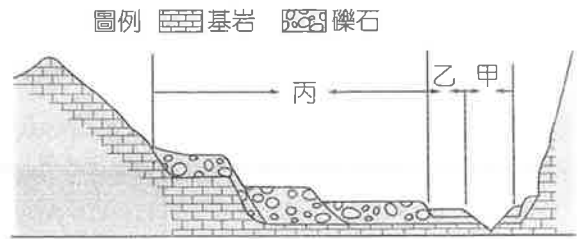


圖七

54. 下列哪項建設最適合用此圖來判斷？
- (A)機場跑道的方向
(B)鐵路建設的規劃
(C)水庫設立的位址
(D)校園大樓的配置

55.、56.題為題組

◎ 圖八為某條河流上游的橫剖面圖，甲為河床（常年有河水），乙為氾濫平原（洪水期被淹沒，枯水期露出），丙為河階地（高度高於洪水期河流水位），丙的平坦面上有礫石堆積，礫石平均粒徑大小為 $\text{丙}_2 > \text{丙}_3 > \text{丙}_1$ 。請問：

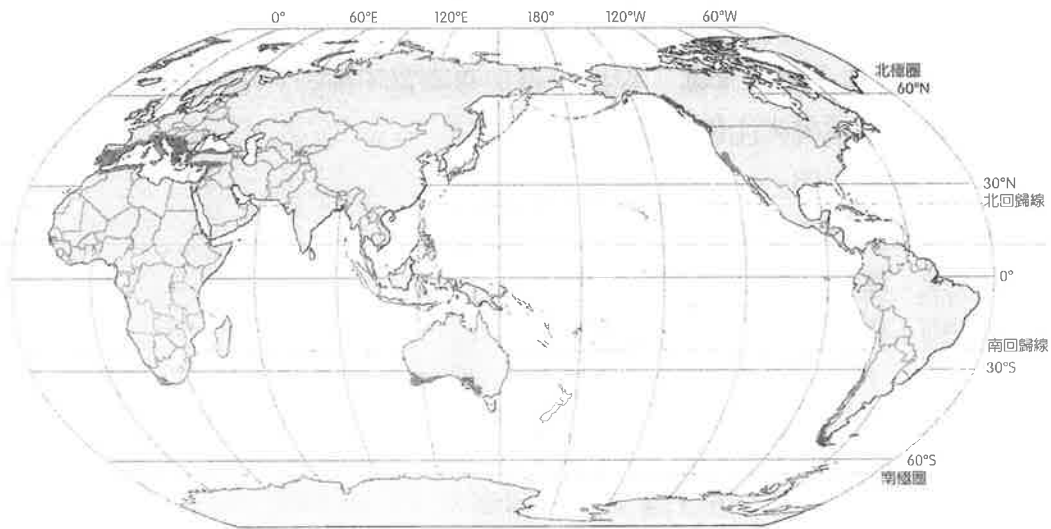


圖八

55. 河階地一般由氾濫平原發育而來，當原來的氾濫平原高於河流洪水期水位時便形成階地。請問氾濫平原發育成河階的原因，最可能為下列何者？
(A)流量減少 (B)植被破壞 (C)地殼抬升 (D)海平面上升
56. 該河流流速最大的時期最有可能為下列何者的形成時期？
(A)丙₁ (B)丙₂
(C)丙₃ (D)乙

57.、58.題為題組

◎ 溫帶地中海型氣候（Mediterranean climate）由盛行西風帶與副熱帶高氣壓帶交替控制形成，大致分布於南北緯 $30^\circ \sim 40^\circ$ 大陸西岸。請問：



圖九

57. 由圖九可知，與世界上其他地中海型氣候區相比，在地中海北岸地區地中海型氣候分布範圍遠超過北緯 40° ，而在東部其分布範圍亦大大向東延伸，導致這種現象的主要因素為何？
(A)北大西洋暖流流經 (B)阿爾卑斯山橫亙於歐洲
(C)盛行西風終年吹拂 (D)地中海水域的空間分布
58. 冬雨率是冬季降水占全年降水的比重。下列溫帶地中海型氣候區的三座城市：羅馬（ 42°N ）、突尼斯（ 37°N ）、的黎波里（ 33°N ），若僅考慮緯度因素，冬雨率由大到小排列，下列何者正確？
(A)羅馬 > 突尼斯 > 的黎波里 (B)突尼斯 > 的黎波里 > 羅馬
(C)的黎波里 > 突尼斯 > 羅馬 (D)羅馬 > 的黎波里 > 突尼斯

59.~61.題為題組

◎ 每年農曆 3 月，全臺宮廟的媽祖遶境活動陸續展開，其中以臺中大甲鎮瀾宮的媽祖遶境規模最為盛大，沿途經過彰化南瑤宮、西螺福興宮，終點到達嘉義新港的奉天宮後再折返，經西螺福興宮、北斗奠安宮、彰化天后宮、清水朝興宮，最後回到大甲鎮瀾宮，遶境範圍橫跨臺中、彰化、雲林、嘉義四縣市，為期九天八夜，總路程達三百三十多公里。

媽祖遶境的習俗源於早期閩南移民帶著媽祖信仰來臺，所以祭拜媽祖的廟宇愈來愈多。每年農曆 3 月為媽祖誕辰，全臺各地媽祖廟舉辦祭祀、遶境活動來共同歡慶。

大甲媽祖遶境的傳統，不只是一種對神明的尊敬與虔誠的慶典，近年更配合潮流造就更多特色，如馬拉松、自行車等活動。此外，運用 GPS 科技搭配社群媒體直播，讓信徒可以知道媽祖現在的位置，甚至推出 app，讓信徒時時刻刻與媽祖同在。網路宣傳無遠弗屆，讓大甲的媽祖遶境從原先的地方慶典，成為連國外媒體 CNN 都曾報導的國際知名宗教活動。請問：

59. 本文介紹媽祖信仰，原為閩粵沿海一帶的傳統信仰，如今已是臺灣的共同信仰。現今臺灣的民間信仰中，有許多神祇來自早期原鄉居民的信仰，下列哪項原鄉對應的神祇是正確的組合？
- (A)潮州人—玄天上帝
 - (B)漳州人—清水祖師
 - (C)福州人—三山國王
 - (D)泉州同安人—保生大帝

60. 圖十為大甲媽祖的 app 應用程式畫面。圖中實線為媽祖遶境進香行程的去程預定路線，虛線則為目前的遶境軌跡，虛線上的媽祖圖片即為目前媽祖所在位置。請問應用程式畫面下方出現的「彰化市區路段交通管制—去程」，是根據進香的預定路線而制定出的兩側 100 公尺管制範圍，這是運用地理資訊系統的何項分析功能？
- (A)疊圖分析
 - (B)環域分析
 - (C)路徑分析
 - (D)地勢分析

61. 原本屬於地方慶典的大甲媽祖遶境活動，透過新聞報導、直播以及社群媒體應用，隨著全球化讓知名度漸漸提高。請問媽祖遶境活動體現下列何種精神？

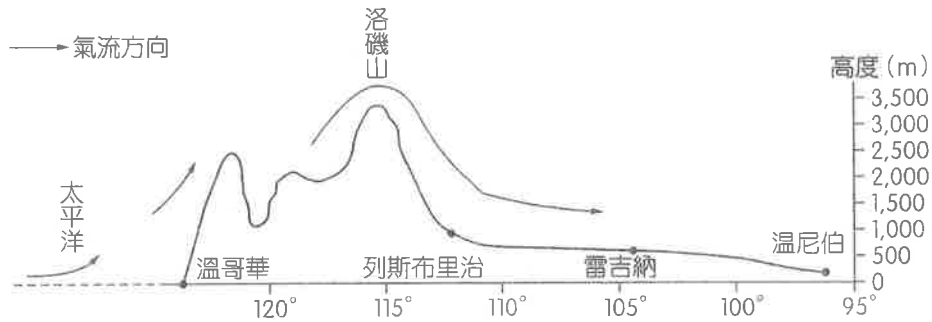
- (A)在地全球化
- (B)經濟全球化
- (C)政治全球化
- (D)反全球化



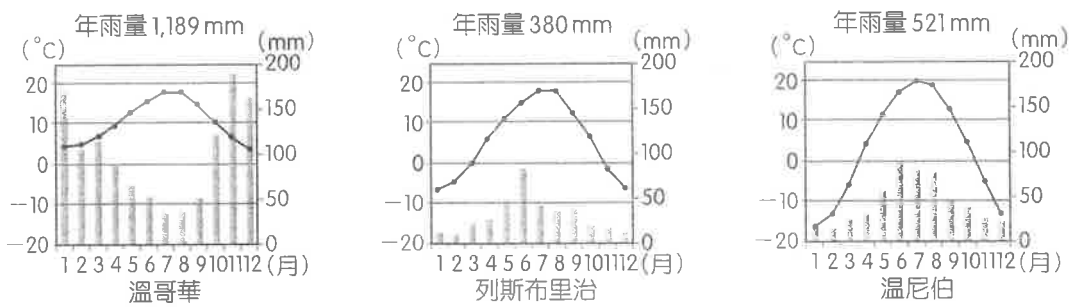
圖十

62.~64.題為題組

◎ 2017 年是加拿大建國 150 週年，國家公園免費開放一年。加拿大洛磯山脈南段有許多國家公園，自然風光美麗壯觀，吸引了世界各地的遊客。2018 年 3 月小華跟著旅行團從溫尼伯 (Winnipeg) 乘車前往列斯布里治 (Lethbridge) 後，越過洛磯山脈至溫哥華 (Vancouver)，圖十一為加拿大 50°N 附近溫哥華到溫尼伯的地形剖面圖，圖十二為溫哥華、列斯布里治、溫尼伯三個都市的氣候圖。請問：




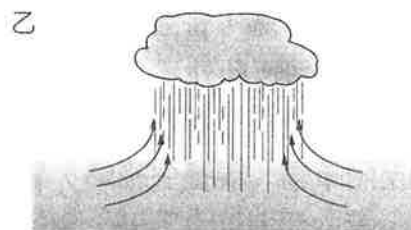
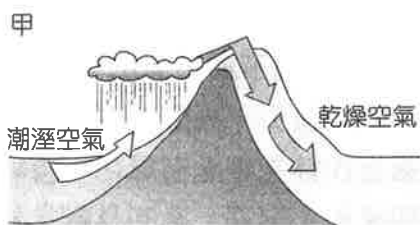
圖十一



圖十二

62. 小華從溫尼伯乘車前往洛磯山前的列斯布里治，發現沿途的景觀帶由森林帶過渡為草原。請問這種景觀帶的變化是地理環境中何種特性的呈現？
- (A)緯度分帶性
(B)經度分帶性
(C)垂直分帶性
(D)溼度分帶性
63. 小華感覺到列斯布里治與溫尼伯氣溫不同，請問同屬溫帶大陸性氣候的兩地冬季氣溫差異的可能原因為何？
- 甲、溫尼伯居於內陸，距海較遠，溫度較低
乙、溫尼伯附近湖泊可調節氣候，氣溫較低
丙、列斯布里治以燃煤為主要能源，增溫較顯著
丁、列斯布里治受到焚風效應的影響，冬溫較高
- (A)甲丙 (B)乙丙 (C)乙丁 (D)甲丁

64. 小華繼續西行至加拿大雨都——溫哥華，發現這裡與洛磯山以東的氣候不同。溫哥華的降水較多，請問該地主要的降雨類型為何？



(A)甲乙

(B)乙丙

(C)甲丙

(D)丙丁

65.、66.題為題組

◎ 服務外包指企業將其非核心的業務外包出去，利用外部最優秀的專業化團隊來承接其業務，從而使其專注核心業務的一種管理模式。表二是三個國家發展服務外包產業的吸引力對比（數字愈大，吸引力愈大）。請根據表二回答下列各題：

表二

因素 \ 國別	中國	愛爾蘭	某國
語言	4	5	5
政府支持	5	4	3
人力資源	5	3	3
基礎設施	2	4	5
教育體系	4	4	5
工資成本	5	3	1

65. 下列關於某國的敘述何者正確？

甲、基礎設施完善

乙、都市化程度高

丙、服務業比重低

丁、人口增加速度快

(A)甲乙

(B)甲丁

(C)乙丙

(D)乙丁

66. 中國吸引服務外包產業遷入的最大優勢為何？

(A)勞力豐富廉價

(B)自然資源豐富

(C)水陸交通便利

(D)消費市場廣闊

67.~69.題為題組

◎ 「霧峰」的地名由來，乃因該地午後常有霧氣，山峰雲霧繚繞。該地區位於臺中盆地東側與山地交界處，普遍顯露紅土礫石層，礫石多呈橢圓狀。紅土在雲霧中若隱若現，使這地區別有風情。此外，「霧峰林家」亦曾在臺灣史上扮演了重要角色。

霧峰林家的先祖林石，原本居住大里杙（現臺中大里），後因林爽文叛亂而受牽連，後人遷至阿罩霧（現臺中霧峰）重新開墾經營。第五代林文察因為軍功，霧峰林家自此蓬勃發展。第六代則以「下厝」系的林文察長子林朝棟和「頂厝」系的林獻堂最為出名。以下兩則資料是關於林朝棟和林獻堂的部分事蹟：

資料一：清法戰爭時，林朝棟奉命帶領地方鄉勇北上抗法，立下戰功。又在臺灣建省時，協助劉銘傳辦理新政、平定施九緞之亂，以及參與開山撫番，管理中部撫墾事務。1891 年樟腦開放自由買賣後，林朝棟便藉地利之便投資，而洋行也為了獲取樟腦供量紛紛與他合作成立商號，讓霧峰林家賺取鉅額財富，之後便專注經營樟腦事業。

資料二：林獻堂自幼飽讀漢學，十分關心臺灣的教育與社會文化運動，如於 1915 年（大正 4 年）與其他人共同合作創立臺中中學校，專收臺人子弟；1921 年 1 月起，展開長達十四年的臺灣議會設置請願運動。另一方面，林獻堂與蔣渭水等人成立臺灣文化協會、臺灣民眾黨，與蔡培火成立臺灣自治聯盟等，在臺灣議會自治與社會運動發展上有重要地位。最後，臺灣總督府同意在 1935 年舉辦第一屆市會與街庄協議會員選舉，雖然只開放半數民意代表名額，對選舉人的資格也有嚴格限制（限男性、年繳稅金 5 圓以上），但臺灣的代議政治自此開始，林獻堂因此被稱為「臺灣議會之父」。

67. 霧峰林家的發展在某種程度上也是臺灣歷史的縮影。根據上文，請問文章裡所敘述的背景，下列何者正確？
- (A)清治初期，來自中國的移民較容易藉由設立洋行來賺取財富
 - (B)霧峰林家的頂厝與下厝，均藉由軍功晉升為社會的領導階層
 - (C)如同新帝國主義下的熱帶栽培業，林朝棟只負責將樟腦初步加工以賺取利潤
 - (D)林獻堂採取溫和的社會運動，不與當局正面衝突，因此總督府對其容忍度較高
68. 根據本文對霧峰地理特性的描寫，霧峰的前身最可能是下列哪一種地形？
- (A)潮埔
 - (B)沙灘
 - (C)沖積扇
 - (D)落石堆
69. 根據資料二，1935 年第一屆市會與街庄協議會員選舉，違反選舉原則中的哪一項？
- (A)普通原則
 - (B)平等原則
 - (C)直接原則
 - (D)無記名原則



70.~72.題為題組

◎ 表三為三個地區農牧業的基本情況比較表。請問：

表三

地區	種植業比重	畜牧業比重	商品率	投入勞動力數量
甲	86 %	14 %	20 %	多
乙	45 %	55 %	90 %	少
丙	8 %	92 %	89 %	少

70. 甲地區的農業類型最可能出現下列何種景觀改繪的示意圖？



71. 下列何地與乙地區農業類型最為相似？

- (A)非洲剛果盆地
- (B)中國四川盆地
- (C)美國西部大平原
- (D)澳洲墨累一大令盆地

72. 下列何項措施最能合理提高丙地區的環境負載力？

- (A)提高當地的機械化程度
- (B)充分利用各種水資源
- (C)建設高品質的人工草場
- (D)合理開墾當地土地資源

