

# 臺中市立高級中等學校

107 學年度學科能力測驗第一次聯合複習考試

考試日期：107 年 10 月 31 日~11 月 1 日

## 社會考科

### —作答注意事項—

考試時間：110 分鐘

題型題數：

- 單選題共 72 題

作答方式：

- 用 2B 鉛筆在「答案卡」上作答；更正時，應以橡皮擦擦拭，切勿使用修正液(帶)。
- 未依規定畫記答案卡，致機器掃描無法辨識答案者，其後果由考生自行承擔。

## 單選題 (占 144 分)

說明：第 1 題至第 72 題皆計分。每題有 4 個選項，其中只有一個是正確或最適當的選項，請畫記在答案卡之「選擇題答案區」。各題答對者，得 2 分；答錯、未作答或畫記多於一個選項者，該題以零分計算。

- 活躍的公民結社，往往是穩固的民主體制之表現。請問下列哪項現象是臺灣公民結社可允許的情況？
  - 某財團法人與私人企業合資進行創新產業投資，兩個團體的股東分紅金額創新高
  - 為確保政黨之組織及運作符合民主原則，制定專法「人民團體法」健全政黨政治
  - 關切環境永續的公民團體督促執政黨推動相關政策，發揮「第三部門」的影響力
  - 某非營利組織接受在野黨資助，協助策動社會運動對執政黨政策進行杯葛
- 我國媒體業蓬勃發展，請問以下關於媒體報導的產製流程與引發之效果敘述，何者最為正確？
  - 媒體從業人員在新聞產製過程中扮演閱聽人，負責篩選把關新聞內容
  - 媒體報導內容錯誤時，民眾勇於投書糾正，此為媒體接近權的範疇
  - 現為資訊爆炸時代，因此為確保內容無誤，新聞內容需先經政府審查
  - 媒體屬第四權，因此為了維持獨立性，報導內容受到言論免責權保障
- 日本九州長崎縣作為九州開放的外港之一，1950 年代起民眾將義大利麵、咖哩、炒飯與日式豬排合併擺盤做為一道料理稱「土耳其飯」，取土耳其扮演歐亞橋梁的地理位置為名，時至今日「土耳其飯」已被視為長崎名物，在地人喜愛、觀光客朝聖，就飲食社會學的觀點而言，下列對於該料理的社會學觀察何者正確？
  - 土耳其飯經過半世紀以上的發展足已成為該地區被廣泛接受的民間文化之一
  - 土耳其飯代表歐洲文化透過貿易進入日本與日本文化產生文化競爭後的結果
  - 土耳其飯的產生源自於日本對外開港通商後的結果，故其應歸類於官方文化
  - 土耳其飯的產生代表日本接受歐式料理的同化，是在地飲食文化凋零的象徵
- 根據我國現行《公職人員選舉罷免法》的相關規定，以下四位政治人物的政治生涯歷程何者是合理的？(不須考慮修法時間，依現行法律規定作答)
  - 小昌：政治生涯 16 年，連任縣長四屆
  - 小強：政治生涯 8 年，連任市議員兩屆
  - 小哲：政治生涯 14 年，任市長、市議員各兩屆
  - 小龍：政治生涯 7 年，任立委後轉任市長
- 2018 年國際重大事件中，中美貿易大戰所引發的關注度居高不下，各界預期在下半年即將舉行的亞太經合會與 G20 會議中，美中關係將是重要觀察重點，請問下列與此事件相關的觀察與解讀何者正確？
  - 中美貿易大戰可視為北大西洋公約組織與華沙公約組織的相互抗衡
  - 美國對中國的經濟防堵顯示中國已取代美國成為全球經濟社會的領導
  - 兩國之間的關稅壁壘關係可依循世界貿易組織的規定進行正式協商
  - 亞太經合會與 G20 的會員間皆有正式外交關係，其決議對彼此具強制力

6. 下列何者對公共政策形成過程的描述是錯誤的？
- (A) 順序：政策規劃→政策合法化→政策執行→政策評估  
(B) 民意在每一個階段都有可能具有影響力，影響政策走向  
(C) 政策評估在公共政策形成的各階段都可以進行  
(D) 所有政策皆須經過立法院同意，稱為政策合法化
7. 某個內閣制國家，其國內有四個政黨，而此次該國國會大選後，各黨的席次比率如下：甲黨：36%；乙黨：30%；丙黨：24%；丁黨：10%。根據上述資訊推論，下列有關該國政府的組成與選舉制度之敘述，何者正確？
- (A) 甲黨取得 36% 的席次，定是聯合內閣的一員  
(B) 甲、乙兩黨競逐組閣的關鍵是丙黨的意向  
(C) 丁黨取得 10% 的席次，只能成為在野黨  
(D) 依據四黨取得之席次，該國政黨制度為兩黨制
8. 2003 年立法院通過《公民投票法》，使得繼選舉、罷免權後，賦予人民之創制權與複決權，亦取得具體實踐的法律依據。歷經十餘年再度於 2017 年進行改革，請問下列對於現行《公民投票法》的敘述何者錯誤？
- (A) 公民投票被視為彌補代議制度的失靈與不足的制度，屬於直接民主  
(B) 對於「人」的罷免不在公民投票的範疇，須依據公職人員選舉罷免法進行  
(C) 因過去公投提案與通過標準甚為嚴苛，故我國本島尚未舉行過地方性公投  
(D) 公投提出方式有公民連署、行政院提案、立法院提案、總統交付等方式
9. 某小組在課堂上報告我國與法國政府體制的異同，下列是他們發表的內容，下列何者正確？
- (A) 法國總統選舉與我國總統的選舉制度皆採用相對多數決制  
(B) 法國與我國總統皆可任命閣揆，且任命不須經國會同意  
(C) 法國與我國總統皆有覆議權，惟法國總統須先諮詢總理始得提出  
(D) 法國與我國國會通過內閣不信任案後，皆需呈請國家元首解散內閣
10. 下列敘述為學生們了解「公民不服從」觀念後的發言，請問哪位的觀念需要更正？
- (A) 甲：1789 年的法國大革命，並不符合公民不服從的條件  
(B) 乙：強調維護公共利益的作為，為公民不服從的重要內涵  
(C) 丙：即使公民不服從有其正當性，行動者仍需承擔法律責任  
(D) 丁：我國《憲法》中已有專章對於公民不服從之權利亦予以保障
11. 某國舉行大選，某選區共有 15 位參選人競爭 6 席，表(1)是該選區前 6 位得票最高當選人的資料。依據此結果，以下針對本次選舉制度的評論何者正確？

表(1)

當選名次	1	2	3	4	5	6
所屬政黨	甲	乙	乙	丙	甲	丁
得票率(%)	20.8	11.6	6.3	4.8	3.5	3.4

- (A) 此選制易造成勝者全拿，無法充分反映民意  
(B) 此選制當選者素質良莠不齊，易產生偏鋒性政策  
(C) 此選制易產生一黨獨占國會優勢，不利小黨生存  
(D) 目前我國國會選舉中多數席次也使用此選舉制度

12. 2018 年底舉行的地方選舉結果全臺矚目，請問以下對於地方自治團體之政府組織與權責，下列何者**錯誤**？
- (A) 地方自治團體依法設有行政、立法、司法機關
  - (B) 地方自治團體依法執行地方自治與委辦事項
  - (C) 「地方治理」潮流鼓勵第三部門參與公共服務
  - (D) 自第四次修憲後，「省」已非地方自治團體
13. 新聞指出有六縣市政府針對公立學校教師年金改革案，影響其最低生活水平，聲請大法官釋憲，大法官以公立學校退休人員退休金給付事項屬教育制度的一環，並非地方自治事項，六縣市政府未經上級機關層轉，不符合聲請資格，決議不受理相關的五件釋憲案。請問以下有關釋憲的敘述何者正確？
- (A) 上述聲請釋憲之年金改革案是為爭取第一代人權保障
  - (B) 人民或政黨於案件審理中得提出停止訴訟以聲請釋憲
  - (C) 地方機關於其行使職權適用憲法發生疑義得聲請釋憲
  - (D) 總統得就國家防禦性事項，依法聲請大法官釋憲案
14. 「選物販賣機」無人商店在臺灣快速成長，不過卻接連出現置放活體生物之現象，有夜市的夾娃娃機竟然出現龍蝦、沙公等無脊椎活體生物。政府有關當局認為，現行《動物保護法》對動物的定義並沒有涵蓋「無脊椎」生物，所以無法適用相關處罰條例。有媒體報導北市某店家以「無脊椎」生物當獎品，還標示「保證取物金額 490 元」、「夾無脊椎動物不違法」，引發大眾對目前法規不足的討論。請問下列相關敘述何者**有誤**？
- (A) 《動物保護法》未納入對無脊椎動物的保護，未來有檢討的空間
  - (B) 選務販賣機上標示「保證取物金額 490 元」屬於一種定型化契約
  - (C) 若使用夾娃娃機夾活體動物造成動物致死，有違反動物權之虞
  - (D) 若臺北市政府逕行對該店家開罰，違反行政法的法律優越原則
15. 日前新聞指出某先生因熱衷馬拉松，跑到連太太都認為先生未顧及家庭，甚至太太住院期間將她留在醫院，自行參加賽事，太太相當傷心，而訴請法院裁判離婚。最後，臺中高等法院法官認為兩人結婚多年後因觀念及想法不同而感情生變，先生投入太多時間在路跑，確實也疏於婚姻經營，判准兩人離婚(節錄自 2018.6.24 聯合報新聞)。請依據上文及民法有關婚姻之規定選出正確的敘述：
- (A) 上述案例屬於「兩造間之婚姻已生破綻而無回復希望」之離婚事由
  - (B) 上述案例中的先生與太太因無法維繫雙方婚姻關係，選擇「協議離婚」
  - (C) 臺中高等法院為一審法院，若不服可在收到判決書二十日內提出上訴
  - (D) 夫妻財產可在婚前作約定，若離婚可適用剩餘財產差額分配之請求權
16. 有媒體報導一則遊戲光碟竊盜案，檢察官與警員調查過程中存在諸多瑕疵。在經過一年調查後，沒有證據可以證明甲男有犯案的情況下，刻意忽略有利甲男的證據，草率將甲男起訴，甲男於遭起訴後自殺身亡。而監察院已經通過對該檢察官以及員警的彈劾案，後續將由司法院職務法庭進行審理。下列有關犯罪追訴的敘述何者正確？
- (A) 在甲男未經審判證明其有罪確定之前，應依「罪疑唯輕原則」推定其為無罪
  - (B) 題幹中的檢察官執行職務時，違反對被告有利及不利事項應一併注意之原則
  - (C) 為避免甲男自殺在先，本案應依刑事妥速審判法辦理，使甲男得到合理時間審判
  - (D) 檢察官負責犯罪偵查、起訴、審判與執行，過程中應受到刑事訴訟法之拘束

17. 網購盛行，消費糾紛也多。日前有高中生投訴指出，她在臉書廣告的購物網站買了499元的服飾，但送來的貨品顏色、品質與廣告照片「差很大」，事後聯繫客服卻一直沒有得到回應，只好找  投訴。請問下列有關消費者保護的敘述，何者正確？
- (A) 網購屬於通訊交易，上述的高中生可在7日內退貨但需自付退貨運費
  - (B) 即使是網購，易腐敗、保存期限較短或解約時即將逾期的商品皆有猶豫期
  - (C) 題幹中的買賣契約只需消費者單方面做出締約之意思表示方可成立
  - (D)  指的是消保官，執掌消費爭議申訴事項及消費爭議調解事項
18. 阿緯在社交軟體的限時動態上發文，聲稱「女友生病要是沒好起來，就做炸彈炸掉市政府，全民賠罪」。對此，警方認為阿緯已經涉犯恐嚇公眾罪，將擇期傳喚他到案說明。請問下列敘述何者最正確？
- (A) 爲了女友能康復，阿緯透過公民倡議，希望政府能重視病人的醫療權利
  - (B) 爲了增進醫療品質之公共利益，阿緯個人的言論自由得不受法律限制
  - (C) 爲了維護社會秩序，阿緯將被傳喚到案說明，其遷徙自由可被法律限制
  - (D) 爲了引起大眾關注醫療權，阿緯的行爲可透過阻卻違法事由減輕或免刑
19. 日前有新聞報導，一位女性到眼科看診，結果醫生在診療時，觸碰到她的膝蓋，讓她覺得不太舒服，卻又擔心是誤會，而沒有聲張。沒想到過兩個星期，她回到診所複診，而這位醫生又出現同樣讓她不舒服的動作，讓她認爲自己應該是受到性騷擾。下列有關性騷擾的敘述何者正確？
- (A) 性騷擾往往在權力結構不平等的情形下發生，醫病關係即屬之
  - (B) 此性騷擾發生在醫病關係上，可適用《性別工作平等法》之規範
  - (C) 眼科醫生在診療時觸碰病患的膝蓋，屬於交換條件式的性騷擾
  - (D) 年輕貌美及衣著暴露的女性易遭受性騷擾，該病患應留意穿著
20. 暢銷書《你的孩子不是你的孩子》中描寫出多位用力過度的母親，積極地爲孩子規劃人生棋局。例如眼鏡仔的母親把他照顧得很好，但成績一旦不如她意，就狂亂施加暴力；陳小乖的母親逃避現實，將孩子視爲生命的負擔，不願回應他對母愛的渴求；若娃的母親緊迫盯人，愛的照顧成爲無法拋棄的沉重負荷；季小弟的母親以自己規劃的目標和節奏，逼迫他照章學習；漢偉的母親保護過度，強勢介入孩子的學習與生命場域。請依據上文選出最正確的敘述：
- (A) 眼鏡仔恐陷入家暴，萬一有急迫危險可親自打電話到法院聲請緊急保護令
  - (B) 陳小乖母親的態度，可能使他在與人的互動過程中無法建立安全型依附
  - (C) 季小弟的母親對他的成績期望很高，符合紀登斯親密關係民主化的觀點
  - (D) 漢偉的母親在親子互動中拿捏得宜，爲母子建立起緊密的初級團體關係
21. 關注民主、政治自由與人權的美國非政府組織「自由之家」(Freedom House) 公布年度調查報告，指出全球超過半數國家處於不自由狀態，其中一向被視爲自由民主標竿的美國也退步，不過臺灣卻在整體評比、政治權利和公民自由，全被評爲「最自由」(節錄自2018.1.16中央社新聞)。以下有關人權保障的敘述，何者最爲正確？
- (A) 《個人資料保護法》保障個人資料的蒐集、處理及運用，爲憲法列舉權利的立法
  - (B) 我國政治與公民權利被評爲最自由，可看見政府在第二代人權方面的努力
  - (C) 我國推動國民法官制度讓人民可以參與刑事審判，將有助於司法人權的提升
  - (D) 市政府爲避免登革熱疫情延燒，封鎖市民農園進行消毒，已侵害人民自由權

22. 小鍾把車子停在自家騎樓，但是卻被人檢舉，在短短一個月內接到 17 張罰單，違規事由是在人行道臨時停車，讓他必須要繳上萬元罰款，但是他拿出權狀，證明停在自家土地上根本不算違法，後來，行政訴訟還給他公道，小鍾不需繳交罰款。以下針對行政訴訟的敘述，何者正確？
- (A) 行政訴訟的提出，都需要先經過「訴願」的程序
  - (B) 小鍾藉由法院再次審查行政機關的行為是否違法
  - (C) 各地方法院增設行政訴訟庭，行政訴訟改採三級三審制
  - (D) 題幹的行政訴訟類型與要求政府給付徵收土地補償金相同

23-24 為題組

- ◎ 新聞報導：爲了要讓學生能夠更進一步地對於政治以及政策有更深入的了解，由 7 位跨黨派立委協辦的「第一屆模擬立法院」，於立法院院內展開爲期 3 天的活動。參加的學生於期間擔任立法委員，透過質詢、委員會審查、黨團協商以及二三讀過程，實際體驗並模擬整個立法院議事流程，共同探討時下備受矚目的「電子支付機構管理條例」與「空氣污染防治法」議題(節錄自 2018.7.26 聯合報新聞)。請回答以下問題：
23. 下列敘述爲此新聞報導中「模擬立法院」的活動過程，請問何者爲正確的程序？
- (A) 經立委 10 人以上連署，提出「空氣汙染防制法」的修正案
  - (B) 法案提出後，經由常設委員會排入議程，決定討論的先後次序
  - (C) 二讀會時進行廣泛討論，並可修正、聽取報告、重付審查等決議
  - (D) 若認爲「空氣汙染防制法」之決議有錯誤，可依法提出覆議
24. 針對上文畫線部分的說明，何者爲正確？
- (A) 指同黨立委對於法案缺乏共識時，由黨派出多位代表來協商
  - (B) 指法案三讀後，若發現內容有誤，可依法進行協商以修正錯誤
  - (C) 經此程序作成結論後，可直接送交行政院辦理及移請總統公布
  - (D) 經此程序而作成結論，經院會同意後，出席委員不得反對
25. 基督教是今日世界三大主要宗教之一，其經典《新約聖經》更是世界上發行量最高的書籍，由耶穌的門徒所寫成，關於最初的聖經文本所使用的文字及其背景因素的討論，下列選項何者正確？
- (A) 耶穌最初是在猶太人社區中傳佈祂的福音，因此《新約聖經》應是用希伯來文所寫成
  - (B) 耶穌的時代巴勒斯坦已是羅馬的猶太行省，所以《新約聖經》最可能是用拉丁文寫成
  - (C) 過去亞歷山大帝國在東方推動希臘化文化之故，所以《新約聖經》應是用希臘文寫成
  - (D) 基督教在耶穌時代被視爲是猶太教的一個支派，故《新約聖經》應是用希伯來文寫成
26. 中國共產黨某次會議通過的一份文件中提到以下的內容：「在 19□□~19○○年期間毛澤東在關於社會主義社會階級鬥爭的理論和實踐上的錯誤發展得越來越嚴重，他的個人專斷作風逐步損害黨的民主集中制，個人崇拜現象逐步發展。黨中央未能及時糾正這些錯誤。……這些野心家又別有用心地利用和助長了這些錯誤。」關於這份文件所討論的事件，最可能是下列哪一個事件？
- (A) 文化大革命
  - (B) 三反五反
  - (C) 大躍進
  - (D) 土地改革

27. 資料一：「我說：『阿丹啊！這確是你的仇敵，也確是你的妻子的仇敵，絕不要讓他把你倆逐出樂園，以免你們辛苦。(117)你在樂園裡必不饑餓，必不裸露，(118)必不口渴，必不感炎熱。』(119)嗣後，惡魔誘惑他說：『阿丹啊！我指示你長生樹，和不朽園好嗎？』(120)他倆就吃了那棵樹的果實，他倆的陰部就對他倆顯露了，他倆就以園裡的樹葉遮蔽身體。阿丹違背了他們的主，因而迷誤了。(121)嗣後，他的主挑選了他，饒恕了他，引導了他。(122)」

《古蘭經》第 20 章。

資料二：「蛇對女人說：神豈是真說，不許你們喫園中所有樹上的果子麼。女人對蛇說：園中樹上的果子我們可以喫。惟有園當中那棵樹上的果子，神曾說：你們不可喫，也不可摸，免得你們死。蛇對女人說：你們不一定死，因為神知道，你們喫的日子眼睛就明亮了，你們便如神能知道善惡。於是女人見那棵樹的果子好作食物，也悅人的眼目，且是可喜愛的，能使人有智慧。就摘下果子來喫了。又給他丈夫，他丈夫也喫了。他們二人的眼睛就明亮了，纔知道自己是赤身露體，便拿無花果樹的葉子，為自己編作裙子。……耶和華……又對亞當說：你既聽從妻子的話，喫了我所吩咐你不可喫的那樹上的果子，地必為你的緣故受咒詛。你必終身勞苦，纔能從地裡得喫的。……耶和華神便打發他出伊甸園去，耕種他所自出之土。」

《舊約聖經》〈創世紀第三章〉

關於以上兩則資料的解讀，下列選項何者最為適當？

- (A) 兩部宗教的經典都提到同一件事，可知兩部經典在形成過程中有很大程度的交互影響
- (B) 古蘭經中出現舊約聖經的故事，可知伊斯蘭教創立過程中受到基督新教一定程度影響
- (C) 舊約聖經中出現古蘭經的故事，可知基督教創立過程中受到伊斯蘭教一定程度的影響
- (D) 兩部經典都提到同一件事，但在「原罪」觀念上伊斯蘭與基督兩宗教卻有明顯的差異
28. 春秋戰國時代為中國古代思想最為多元開放的時代，是時百家爭鳴，諸子各成一說。以下摘列各家主張如下：
- 甲：「名不正，則言不順；言不順，則事不成；……故君子名之必可言也，言之必可行也。君子於其言，無所苟而已矣。」
- 乙：「聖人以治天下為事者也，不可不察亂之所自起。當察亂何自起？起不相愛。臣子之不孝君父，所謂亂也。子自愛不愛父，故虧父而自利；……君自愛也不愛臣，故虧臣而自利。是何也？皆起不相愛。」
- 丙：「術者，因任而授官，循名而責實，操殺生之柄，課群臣之能者也，此人主之所執也。法者，憲令著於官府，刑罰必於民心，賞存乎慎法，而罰加乎姦令者也，此臣之所師也。」
- 丁：「不尚賢，使民不爭；不貴難得之貨，使民不為盜；不見可欲，使心不亂。是以聖人之治，虛其心，實其腹，弱其志，強其骨。常使民無知無欲。使夫知者不敢為也。為無為，則無不治。」

甲乙丙丁所代表的依順分別是哪些流派的主張？

- (A) 儒墨法道 (B) 墨法道儒  
(C) 法道儒墨 (D) 道儒墨法

29. 維基百科對於某個古代國家的名稱有以下的敘述「帝國的正式名稱是 Ρωμανία (Rōmanía, 「羅馬人的土地」或「羅馬尼亞」), 或者 Βασιλεία Ρωμαίων (Basileía Rōmaíōn, 「羅馬人的帝國」或「羅馬帝國」)……其皇帝和臣民……將自己視為羅馬人……他們周圍的國家(……波斯和伊斯蘭哈里發, ……歐洲國家, ……斯拉夫人……)也都將他們稱為羅馬人或阿拉伯語化的『魯米人』」請問這個古代國家最可能下列哪個國家?
- (A) 羅馬帝國 (B) 東羅馬帝國  
(C) 查里曼帝國 (D) 神聖羅馬帝國
30. 某史書記載如下之事件:「鄭武公、莊公為平王卿士。王貳(分權)於虢, 鄭伯怨王。王曰:「無之。」故周鄭交質。王子狐為質於鄭, 鄭公子忽為質於周。」此一事件被後世史家解讀為周天子失去天下共主權威的重要事件之一, 關於其原因, 下列選項何者最為適當?
- (A) 此事確認了周天子沒有足夠實力去制裁破壞封建秩序的諸侯  
(B) 周天子在此事中自降身份, 可視為周代封建制度崩壞的開始  
(C) 此事使周天子讓出大部份王畿, 因而失去天下共主的經濟力  
(D) 平王求助於虢公, 顯示其需仰賴霸主力量始來維持共主地位
31. 《唐逸史》:「唐玄宗病中夢見一小鬼盜走玉笛以及楊貴妃的繡香囊。玄宗大怒, 正要派武士驅鬼, 忽見一大鬼奔進殿來。此鬼蓬髮虬髯, 麵目可怖, 頭系角帶, 身穿藍袍, 皮革裹足, 袒露一臂, 一伸手便抓住那個小鬼……大鬼向玄宗施禮, 自稱是終南山鐘馗, 高祖武德年間, 因赴長應武舉不第, 羞歸故里, 觸殿前階石而死。……」請問, 從《唐逸史》的描述來判斷, 鍾馗之所以會應舉不第, 最可能和唐代吏部詮選官員的哪一個標準有關?
- (A) 身 (B) 言  
(C) 書 (D) 判
32. 有一中國俄國簽定的條約部份內容如下:「一、將由北流入黑龍江之綽爾納、即烏倫穆河、相近格爾必齊河為界。循此河上流不毛之地、有外大興安以至於海。凡山南一帶、流入黑龍江之溪河、盡屬中國。山北一帶之溪河、盡屬鄂羅斯。二、將流入黑龍江之額爾古納河為界。河之南岸、屬於中國。河之北岸、屬於鄂羅斯。其南岸之眉勒爾客河口、所有鄂羅斯房舍、遷移北岸。三、將雅克薩地方鄂羅斯所修之城、盡行除毀。雅克薩所居鄂羅斯人民、及諸物、盡行撤往察漢汗之地。」從條約內容來判斷, 這個條約最可能是哪個條約?
- (A) 璦琿條約 (B) 尼布楚條約  
(C) 中俄北京條約 (D) 塔城界約
33. 在中國湖南省懷化市某個清代留下的歷史景點門口有如下的對聯:「天子何忍傷民財, 因小丑猖狂, 擾茲守土。地丁不足濟軍餉, 願大家慷慨, 輸此厘金。」請問懸掛此對聯的歷史景點, 其工作性質, 對中國近現代史的發展有何巨大的影響?
- (A) 太平天國因為這個制度得到經濟的挹注, 得以全面起事反抗滿清政權  
(B) 使中國中央政府的稅收因而大增, 彌補清末鉅額戰爭賠款的財政黑洞  
(C) 使擔任地方政府的稅收大增, 地方軍政首長得以強化割據地方的實力  
(D) 使中國中央政府稅收大增, 得以彌補清末因協定關稅造成的財政損失



34. 1911 年清帝國郵傳部大臣盛宣懷同四國銀行團簽訂湖廣鐵路借款合同，並宣佈「鐵路國有」政策，將之前准許官督商辦的原本民間持有之鐵路股份收歸國有，補償方式由各省決定，其方式如下：

省分	賠償方案
湘、鄂	股本發還全額現金
粵	發還六成現金，四成以政府債券支付
川	鐵路資金及建築費用全以政府債券支付，鐵路公司損失由民間自行吸收

此方案造成各省人民的不滿而掀起了保路風潮尤以四川人民的反抗最為激烈。從上述資料判斷，請問導致四川人在保路運動中反應最為激烈的原因最可能是下列哪個選項？

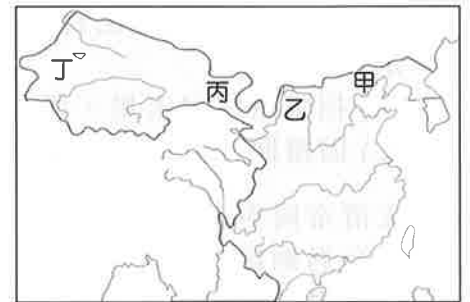
- (A) 不滿只賠償全額現金，卻未計算股利 (B) 不滿政府犧牲國家利益圖利外國銀行  
(C) 不滿尚未投入營運即遭政府強制收回 (D) 賠償條件最差，對財產權益損害最大

35-36 為題組

◎ 「亡我祁連山，使我六畜不蕃息；失我焉支山，使我婦女無顏色。」是一首漢代的匈奴民謠，試回答下列問題。

35. 請問，此一民謠的誕生，與漢朝跟匈奴兩國對圖(1)中的哪一地點的爭奪有關？

- (A) 甲  
(B) 乙  
(C) 丙  
(D) 丁



圖(1)

36. 造成此一民謠歌辭所敘述的內容景象的歷史事件，最可能是下列哪一個選項？

- (A) 李廣利伐大宛  
(B) 班超經略西域  
(C) 衛青收復河南  
(D) 霍去病伐河西

37. 包容各種宗教是這個帝國的大原則之一，他們最初崇拜的是「騰格里」－即「上天」之意，後來他們認識了其他的宗教，漸漸地皈依了佛教或伊斯蘭教，天主教也曾多次派遣傳教士到這個帝國來，請問這是？

- (A) 九世紀的大馬士革  
(B) 十一世紀的德里  
(C) 十三世紀的北京  
(D) 十五世紀的巴塞隆納

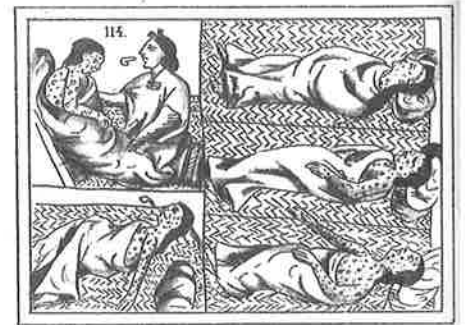
38. 這個家族第四代兩位兄弟努力擴充事業版圖到新興的樟腦業及錢莊等，他們因為捐贈不少金錢給政府而到許多榮譽頭銜。經過這兩位兄弟苦心經營，家族鴻圖大展，擁有土地甚至到今日臺中，更被政府任命得以開發山區土地，種植茶樹，出口樟腦，成為臺灣首富。請問這個家族是？

- (A) 板橋林家 (B) 鹿港辜家  
(C) 霧峰林家 (D) 高雄陳家

39. 一位傳教士的日記，「這年夏天，□國軍艦出現，不久，傳遍北部臺灣。所有民眾震驚憤怒，轉而對外國人和相關團體產生敵意，甚至質疑基督教會可能與□國聯盟，清軍在基督徒信徒面前磨利大刀，威脅小孩子，□國入侵就會將他們撕成碎片。之後，派駐各地傳道師和信徒請求協助的信件如潮水般湧來！前景令人堪憂！」請問下列何者所導致？
- (A) 1840 年鴉片戰爭 (B) 1856 年英法聯軍  
(C) 1868 年樟腦事件 (D) 1884 年中法戰爭
40. 敵軍因節節敗退，故採取「焦土政策」並驅散農民，我方在華中地區無法取得糧食、物資。我方不得不決定以現地栽培糧食以解決我方戰線過長、補給不易的問題。從臺灣西部五個地區徵調 200 名成員，到上海主要的任務是種植可供軍人食用的蔬菜，及軍人食用的醃製醬菜。請問下列敘述何者為是？
- (A) 鄭經參與三藩抗清起事 (B) 霧峰林家討伐太平天國  
(C) 日本侵中徵召臺人支援 (D) 國府徵召臺人參與內戰
41. 1593 年，豐臣秀吉交付給長年於東南亞沿海經商的原田孫七郎一紙《招諭書》，任務是要讓高山國臣服於統治。《招諭書》內文「原田氏奉命而發船，若是不來朝，可令諸將征伐之」展現出日本統治者的意圖。最終原田孫七郎無功而返，請問下列何者為是？
- (A) 招降原住民未果，遭到強烈攻擊 (B) 當時臺灣並沒有統一的政治王國  
(C) 因擅闖臺灣原住民領地而遭抵抗 (D) 兩國對於外交觀念懸殊談判破裂
42. 大清帝國與蒙兀兒王朝都控有遼闊的種稻區，首都距離種稻區有數百哩遠，首都位於沒有過剩糧產的乾旱平原上，但卻少有因飢荒引起的暴動。北京透過遼闊運河網絡往北輸送食物，蒙兀兒帝國則鼓勵首都附近投注巨資鑿井，使平原生產力提高，並透過世襲性的牧民階級提供便利的陸路運輸。這段資料最適合的說明？
- (A) 兩者為集權王朝，對人民控制力高  
(B) 透過運輸遠處過剩的稻米維持穩定  
(C) 皆因農業技術卓越，故少發生飢荒  
(D) 兩者皆少橫徵暴斂，農民得以生息
43. 一篇文章提到，戰後農村的嬰兒潮長成之後，雖多數是國小程度，經學習基本組裝或機械技術，就能轉為大量勞動力。約莫有 10 年之久，人數眾多的青壯年多前往臺北、高雄找工作，呈現北高分流的勞工遷徙及人口成長，但不久之後，青壯年人口卻又逐漸往北區遷移，請問何種原因造成此現象？
- (A) 推動十大建設，發展重工業、化工業，建立自主經濟體系  
(B) 為吸引外人投資，採取鼓勵出口等政策，由出口帶動生產  
(C) 逐步上漲的工資和生產成本，促使臺灣工廠外移導致變化  
(D) 勞力密集產業沒落，政策改為發展技術及知識密集的產業
44. 一則臺灣讀者投書：「他們的生活都以軍事和國防的需求做依歸。他小時親眼看著，媽一針一線縫製好的遮光黑布罩，交由爸用梯子爬上天花板，將家裡的燈一盞盞罩上。村裡的幹事，會挨家挨戶檢查，看誰家走漏了光線。好像光明，是種罪過，會給敵方帶來可趁的機會。反正，戰地的夜晚，只能一片漆黑、肅靜，整座島進入劍拔弩張的備戰狀態。」請問這是甚麼時期？
- (A) 1900 年代 (B) 1930 年代 (C) 1960 年代 (D) 1990 年代

45. 經歷過長期宗教戰爭，雙方決定簽署和約，和約內容承認早已牢固的想法「在誰的領地，信奉誰的宗教」外，新教徒可以保留戰爭前的教會財產，並規定羅馬教會主教改變信仰時須放棄教區，以防止他們改宗。請問這份和約的影響？
- (A) 日耳曼地區基督教永久性的分裂
  - (B) 法國天主教成爲境內最多數信仰
  - (C) 英國國教促成英國鞏固國族認同
  - (D) 基督新教促成資本主義觀念興起

46. 請參閱圖(2)，圖示顯示天花感染者眾，其中絕大多數的感染者都會死亡，而倖存者身上會留下醜陋的外貌，請問感染天花應該是甚麼人？
- (A) 比利時殖民時期的剛果原住民
  - (B) 西班牙殖民的南美洲印第安人
  - (C) 清領時期偷渡臺灣的閩粵移民
  - (D) 大英帝國殖民印度時期的人民



圖(2)

47. 1820 年代，德川幕府撤銷了對外國書籍的禁令在歐洲藝術的影響下，日本學者開始對解剖學和植物學感到興趣，因其能夠精確的表現事物，請問何者影響日本在德川幕府對於西方世界的認識？
- (A) 英國
  - (B) 西班牙
  - (C) 中國
  - (D) 荷蘭

48. 這一年，□入侵至南亞大帝國首都，□的軍事能力在當時的國際局勢中出類拔萃。當拜占庭帝國幾乎要被伊斯蘭王國滅亡時，遂派遣密使訪問□首都，請求協助，最終獲得□允諾並確實擊退該伊斯蘭王國的入侵，拯救拜占庭帝國，□也成爲最強大的伊斯蘭帝國。請問下列何者爲是？
- (A) 帖木兒帝國
  - (B) 奧瑪雅王朝
  - (C) 蒙兀兒帝國
  - (D) 鄂圖曼土耳其帝國

49. 表(2)爲 2018 年世界盃進入 16 強的國家，下列關於這些國家的敘述何者正確？

表(2)

法國	葡萄牙	比利時	阿根廷	巴西	烏拉圭	墨西哥	日本
西班牙	俄羅斯	克羅埃西亞	丹麥	瑞典	瑞士	英格蘭	哥倫比亞

- (A) 皆是以 HDI 劃分出的極高度發展或中度發展國家
- (B) 信仰基督教爲主的國家數量比天主教爲多
- (C) 除了日本以外，其餘國家皆屬於西方文化區
- (D) 若要國家面積正確，16 國最適合圓錐投影

50. 下列何種自然景觀帶，「物理風化」最弱？

(A)



(B)



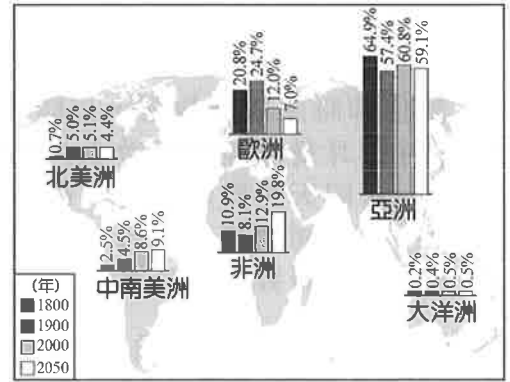
(C)



(D)

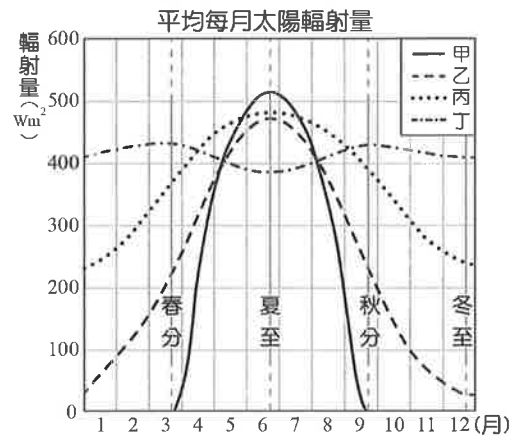


51. 圖(3)為北美、中南美、歐洲、非洲、亞洲與大洋洲的某種現象在 1800、1900、2000 和 2050 年佔全球的比例變化，請問此現象最可能為下列何者？
- (A) 人口總數  
(B) 耕地面積  
(C) 都市人口數  
(D) 第二級產業產值



圖(3)

52. 圖(4)中的甲~丁曲線分別代表不同緯度每月的太陽輻射量變化，下列關於四條曲線的敘述何者正確？
- (A) 緯度由高到低：丁>丙>乙>甲  
(B) 乙比丙更接近赤道  
(C) 甲的年溫差高於丁  
(D) 甲~丁皆位在南半球



圖(4)

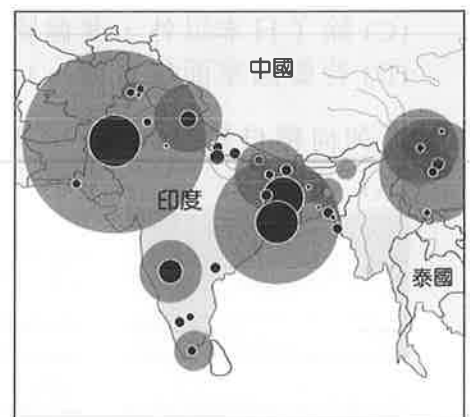
53. 美國某都市的人口組成爲白人 53.6%、亞裔 35.3%、拉丁裔 15.3%、非洲裔 6.1%、原住民 0.8%，請問該都市最可能位在圖(5)何處？
- (A) 甲  
(B) 乙  
(C) 丙  
(D) 丁



圖(5)

54. 下列爲旅行社某個行程簡介：「清晨，騎馬登上活火山的火山口，這是世界百大旅遊必玩之地。在火山口可以清晰看到不斷冒出的濃煙，夾雜著刺鼻的硫磺味道…下午，前往鄭和清真寺，您可以發現中國元素、伊斯蘭教、基督教和佛教的典型圖案出現在建築裡，在這個有許多清真寺的伊斯蘭教國家中，是很難得的中國風清真寺…隨後我們將前往唐人街阿拉伯區，您可以在這裡看到中東味道濃厚的老街。」請問旅行社規劃的行程最可能前往哪個國家？
- (A) 印尼 (B) 新加坡  
(C) 菲律賓 (D) 馬來西亞

55. 圖(6)爲南亞與東南亞地區某種災害造成的傷亡統計地圖，深色圓圈爲死亡人數、淺色圓圈爲受影響人數。請問此種災害爲下列何者？
- (A) 地震  
(B) 洪患  
(C) 海嘯  
(D) 土石流

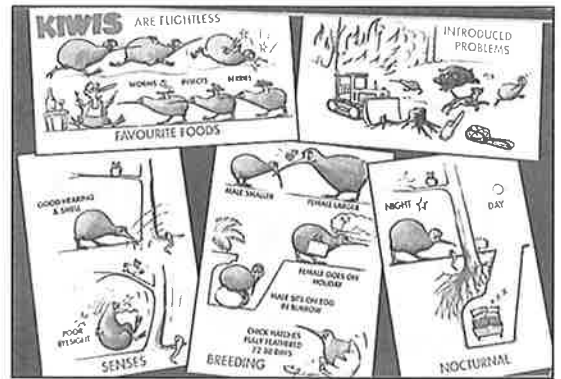


圖(6)

56-57 為題組

◎ 圖(7)為某國發行的明信片，明信片上的鳥禽為該國的特有種，翅膀已退化，無法飛行，過著陸棲生活。請問：

56. 該國擁有許多特有種生物，與該國何種特性關係最密切？
- (A) 位置孤立  
(B) 地質古老  
(C) 地形多樣  
(D) 氣候濕冷



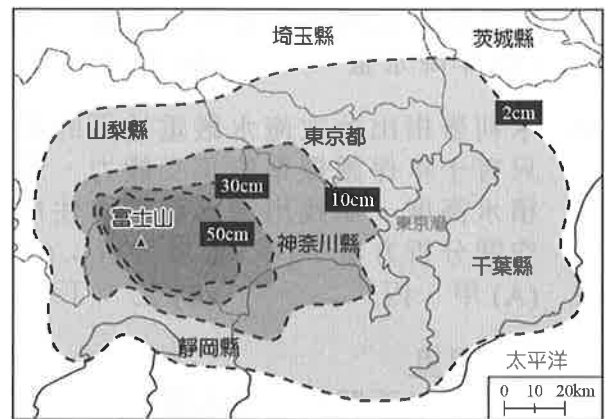
圖(7)

57. 下列有關該國的敘述何者正確？
- (甲) 冰河、火山等地形景觀豐富，有「冰火王國」之稱  
(乙) 全境屬溫帶海洋性氣候，一月降水日數較七月多  
(丙) 毛利人為該國原住民，屬南島語族玻里尼西亞人  
(丁) 為 RCEP、CPTPP 成員，且與臺灣簽署經濟合作協定
- (A) 甲乙  
(B) 甲丁  
(C) 乙丙  
(D) 丙丁

58-59 為題組

◎ 日本政府為防範富士山突然噴發大量火山灰影響首都圈生活，中央防災會議研究並預測火山灰降灰範圍及降灰量，做為民眾避難相關措施之參考。圖(8)為富士山火山灰降灰範圍及降灰量預測圖。請問：

58. 由圖中降灰範圍判斷，當地主要盛行風之風向最接近下列何者？
- (A) 0°  
(B) 90°  
(C) 180°  
(D) 270°



圖(8)

59. 下列有關圖(6)的說明何者正確？
- (A) 屬區域密度圖，顏色越深表示數值越高  
(B) 應用環域分析，預測降灰範圍及降灰量  
(C) 降灰量厚薄不同主要受地形和風向影響  
(D) 降灰量 30 cm 以上區域之面積約 2000 km<sup>2</sup>

60-61 為題組

- ◎ 皮尤研究中心(Pew Research Center)預測 2050 年時，全球宗教信仰的排行會洗牌，主要影響因子為各信仰人口的生育率，信仰人口是否正處於具有生殖力的年齡階段將會影響該信仰人口的增減。表(3)為 2010 年及 2050 年全球各宗教信仰人口數量及比例。請問：  
表(3)

		基督教	伊斯蘭教	印度教	佛教	民間信仰	猶太教
2010 年	人數(億)	2.17	1.6	1.03	0.49	0.4	0.01
	比例(%)	31.4	23.2	15	7.1	5.9	0.2
2050 年	人數(億)	2.92	2.76	1.38	0.49	0.45	0.02
	比例(%)	31.4	29.7	14.9	5.2	4.8	0.2

註：未包含無神論者及其他宗教

資料來源：皮尤研究中心

60. 依據皮尤研究中心預測的資料判斷，2050 年全球宗教信仰的人口數及比例相較於 2010 年，將出現下列哪一變化？  
(A) 各宗教的信仰人口數量皆增加 (B) 伊斯蘭教信仰人口比例增加最多  
(C) 基督教信仰人口增加數量最多 (D) 天主教信仰人口比例無明顯變化
61. 信仰人口數量增加最多的宗教，在 2010 至 2050 期間，將處於哪一人口轉型階段？  
(A) 高穩定階段 (B) 低穩定階段 (C) 早期擴張階段 (D) 晚期擴張階段

62-63 為題組

- ◎ 今年八月臺灣受熱帶性低氣壓及外圍環流影響，中南部地區出現超大豪雨，造成嚴重淹水情形，高雄、臺南、嘉義縣市尤為嚴重。請問：
62. 此次致災性降水主要與下列哪一項降水特性有關？  
(A) 年降水量 (B) 降水強度 (C) 降水變率 (D) 降水季節分布
63. 水利署指出此次淹水嚴重地區的累積雨量已超過一百年重現期，遠超過目前區域排水只有十年保護標準的承受能力。若以重現期一百年之一日暴雨量模擬可能淹水地區及積水高度，並找出淹水範圍內住戶的分布位置以擬定災害防救計畫，需應用下列哪些空間分析方法？(甲)環域分析；(乙)地勢分析；(丙)疊圖分析；(丁)路網分析。  
(A) 甲、丙 (B) 乙、丁 (C) 乙、丙 (D) 甲、丁

64-65 為題組

- ◎ 請閱讀以下關於可攜式電腦生產的資料並回答問題：
- 資料一：可攜式電腦主要包含筆記型電腦、平板電腦等，自民國 89 年產值達 3,795 億元之高峰後，隨著廠商生產重心外移，產值逐年下滑，於 94 年降至 1 千億元以下。目前國內主要以生產高階或特殊規格(包括防水防塵防震等強固設計)之筆電機型為主，如商務、電競及特殊應用筆電等。106 年因國內業者有 NB 新品代工訂單挹注，產值達 228 億元，年增 51.6%，今年 1-5 月續增 63.6%，表現亮麗。
- 資料二：重慶以各種優惠吸引惠普等國際品牌和臺灣代工業者到重慶設廠，廣達、英業達、緯創、仁寶等業者都陸續擴充在重慶的產能。2014 年數據更指出，宏碁 100%、東芝 90%、華碩 80%及惠普 60%的訂單是在重慶生產，重慶占全球筆電產量的 4 成左右，為全球筆電生產基地。
64. 下列哪一個概念最能解釋「資料一」該產業的發展情形？  
(A) 產業連鎖 (B) 工業慣性  
(C) 區位移轉 (D) 區位擴散

65. 由資料一與資料二可推論出下列哪一產業發展特徵？
- (A) 「成熟期」商品為降低生產成本，移往勞工成本較低處生產  
 (B) 臺灣及其他國家多家廠商選擇至重慶設廠，可獲得規模經濟  
 (C) 隨著臺廠生產重心外移，臺灣相關產業出現產業空洞化現象  
 (D) 因應產品生命週期縮短，企業透過「即時生產」避免產品過時

66-67 為題組

- ◎ 乾旱缺水的沙烏地阿拉伯曾大力推廣小麥種植，除供應國內需求外，還成為小麥淨出口國，一度擠進世界十大小麥出口國。然而隨著灌溉水源日漸枯竭，近年小麥產量急速減少，目前反需依賴進口小麥。請問：
66. 沙烏地阿拉伯種植小麥需高度依賴灌溉，其灌溉水源與下列哪一項灌溉或水利設施引用的水源相同？
- (A) 伊朗、新疆地區坎井  
 (B) 桃園臺地挖鑿之埤塘  
 (C) 臺北盆地地區瑠公圳  
 (D) 土耳其阿塔圖克水壩
67. 沙烏地阿拉伯取水以換取糧食資源，並非農業永續經營之計，除了導致水源日益枯竭外，也使得土地加速鹽鹼化。下列哪些地區的開發方式也容易造成土壤鹽鹼化？
- (甲) 臺灣西南部沿海地區超抽地下水；  
 (乙) 印尼蘇門答臘島焚林整地種咖啡；  
 (丙) 印度旁遮普地區引河水種植小麥；  
 (丁) 土耳其哈爾蘭平原引水種植棉花。
- (A) 甲乙丙                      (B) 乙丙丁                      (C) 甲乙丁                      (D) 甲丙丁

68-70 為題組

- ◎ 圖(9)為臺灣某處海岸景觀，其中左側為海，請依據圖中內容回答下列問題：

68. 請問此照片最可能的拍攝角度為何？
- (A) 由東往西  
 (B) 由西往東  
 (C) 由北往南  
 (D) 由南往北



圖(9)

69. 圖(9)中的人所站的位置位在圖(10)中的何者？
- (A) 甲  
 (B) 乙  
 (C) 丙  
 (D) 丁



圖(10)

70. 此地形的沙源有陸沙與海沙，下列哪些情況發生會導致該地形範圍擴大？
- (甲) 河川下游疏濬河道；(乙) 沿海實施造林計畫；  
 (丙) 東北季風強度增強；(丁) 白天海域氣壓較高。
- (A) 甲乙                      (B) 甲丁                      (C) 乙丙                      (D) 丙丁

71-72 為題組

◎ 2018 年第 21 屆國際足協世界盃在俄羅斯主辦，圖(11)為比賽進行的 11 個城市。請問：

71. 圖(11)中的加里寧格勒雖然屬於俄羅斯，但卻被哪兩個歐洲國家包圍，形成與俄羅斯本土分開的飛地？

- (A) 波蘭、白俄羅斯
- (B) 波蘭、立陶宛
- (C) 德國、白俄羅斯
- (D) 立陶宛、拉脫維亞

72. 有關圖(11)的敘述下列哪兩者正確？

- (甲) 這次世界盃舉辦期間，聖彼得堡的日照時間較伏爾加格勒為長；
- (乙) 索契位裏海畔與高加索山區，掌控石油資源，居重要戰略地位；
- (丙) 由頓河畔羅斯托夫往莫斯科，年溫差增加、年雨量變率會減少；
- (丁) 冬季若由聖彼得堡往葉卡捷琳堡，年雨量及凍土層厚度會增加。

- (A) 甲乙                      (B) 甲丙                      (C) 乙丁                      (D) 丙丁



圖(11)