

108 年學科能力測驗第一次模擬考試

社會考科

108-W1

命題範圍：公民與社會（第一冊）
歷史（第一冊）
地理（第一冊）

— 作答注意事項 —

考試時間：110 分鐘

題型題數：

- 單選題共 72 題

作答方式：

- 用 2B 鉛筆在「答案卡」上作答；更正時，應以橡皮擦擦拭，切勿使用修正液（帶）。
- 未依規定畫記答案卡，致機器掃描無法辨識答案者，其後果由考生自行承擔。

單選題 (占 144 分)

說明：第 1 題至第 72 題皆計分。每題有 4 個選項，其中只有一個是正確或最適當的選項，請畫記在答案卡之「選擇題答案區」。各題答對者，得 2 分；答錯、未作答或畫記多於一個選項者，該題以零分計算。

- 知名連鎖速食業者於 2019 年 4 月聲明將逐步推動「冷飲直接喝」，不論內用或外帶，都不再主動提供吸管，最晚於 2019 年 6 月底前全面落實。業者表示：不再提供塑膠吸管後，改使用「就口杯蓋」鼓勵消費者直接飲用，預計可以比現在減少 16 % 的塑膠量。請問依學者瓦薩克 (Karel Vasak) 對人權的分類判斷，下列何者關注之權益與題幹屬同一代人權？
 - 我國知名企業家表示經神明托夢而決心參選
 - 紐西蘭基督城發生大規模恐怖攻擊槍殺事件
 - 西班牙加泰隆尼亞區人民訴求民族自治權利
 - 美國 Uber 在上市前遭計程車司機串聯抗議
- 2019 年 4 月底舉辦「告別核電，風光明媚」廢核大遊行，上萬人走上街頭表達訴求，其中包含「告別 10 %核電、落實綠能減煤」及「廢除危險核四、退役老舊核電」等。隊伍中人來人往，而其中最引人注意的參與者正是現任總統蔡英文女士，一時之間引起了各方討論。依據上文判斷，下列何人的說法正確？
 - 小新：核電廢除與否之議題，應屬於集體人權之討論範疇
 - 風間：若我國未來廢除核電，則總統可享受搭便車之效益
 - 妮妮：此次遊行由人民自發辦理，以體制外管道表達訴求
 - 阿呆：屬第三部門之營利組織藉遊行向第一部門要求作為
- 在剛果的「伊波拉病毒防疫團」於 2019 年 4 月發起了示威活動，他們表示在剛果防疫過程中，人民因假新聞「疫情陰謀論」誤導（消息指稱防疫團正是將伊波拉病毒帶進剛果之源，並暗指防疫團正是器官走私販賣集團），開始攻擊防疫救護站，甚至殺害了 WHO 派遣的防疫專家。防疫團對此嚴正表示：「若是國際社會與剛果政府無法保障防疫團的安全，將會罷工表示抗議。」依據上文判斷，下列敘述何者正確？
 - 因當地充斥著「疫情陰謀論」，使人民失去判斷力而總白痴化
 - 對於防疫團之謠言未經查證即播送，為媒體喪失了第三權功能
 - 剛果人民因缺乏媒體識讀之能力，無法有效發揮守門人之功能
 - 若剛果人民發現假消息，可行使媒體近用權的接近權要求修正
- 桃園市機師工會與中華航空勞資協商破局，於 2019 年 2 月發起罷工運動，為臺灣首次飛行員罷工行動，在罷工 7 天後，雙方終於在談判桌上完成磋商，包括改善疲勞航班、禁止公司秋後算帳等。下列關於罷工之敘述，何者正確？
 - 機師罷工向華航嚴正抗議藉以捍衛其權益，實為合法之行為
 - 依我國民法，此次事件主角桃園市機師工會應屬於職業團體
 - 工會提倡禁搭便車條款，其目的正是為了保障所有人之權益
 - 機師們不滿公司之作為而罷工，可視為一種公民不服從運動

5. 2016 年，法國尼斯遭遇恐怖攻擊，而後伊斯蘭國出面宣稱是其所為。當地政府為維護當地公共秩序，隨即宣布民眾不得於海灘上穿著罩袍式泳衣布基尼 (burkini)，引發穆斯林極大反彈，法國最高行政法院最後裁定：「取消布基尼禁令，因其嚴重且明顯侵犯基本自由。」下列關於此一事件之評論，何者正確？
- (A) 布基尼禁令實已嚴重侵害伊斯蘭教徒之人身自由
 - (B) 布基尼泳衣巧妙揉和伊斯蘭文明，可謂文化雜異化
 - (C) 當地政府在恐攻後隨即施行禁令，隱含文化相對論之意涵
 - (D) 布基尼禁令顯示出法國當地政府單位背後潛藏的我族中心主義
6. 歌手蔡依林推出新專輯《UGLY BEAUTY》，主打歌《怪美的》正是從她自身出發，從過去對完美的追求，到現在進一步主張應打破世俗對美、醜的二分想像。蔡回想過去演藝路途，不斷追求完美，卻在一次次網路上不具名的惡評中懷疑自己，甚至認為自己是最醜的。但這些年走過風風雨雨，蔡不斷與自我對話，終不再要求完美，她以自身經歷鼓勵大眾：「生成比完美更有趣、更獨特的樣子，而這樣的我們，都怪美的。」請就對自我概念之理論分析，判斷下列何者與題幹敘述最為相似？
- (A) 過去蔡依林曾因本我對完美的追求，而讓自己陷入自我懷疑
 - (B) 不具名的惡評曾讓蔡依林感到受傷，顯見概化他人對其影響
 - (C) 依顧里之理論，世俗的美、醜乃由客我定義，受社會文化薰陶而產生
 - (D) 依循蔡依林的成長軌跡，不知名網友對其而言已從初級團體退至次級團體
7. 臺灣素有「美食天堂」之稱，近期國內大型連鎖超商推出「臺灣人氣小吃賞」，把臺灣經典的夜市小吃、在地美食都變成餅乾零嘴口味。像是「米血糕口味洋芋片」，以在地臺灣小吃為美式洋芋片增添風味，儼然是大眾嚐鮮的新選擇，同時也成為國外觀光客最具臺味的伴手禮。請問：超商推出的人氣小吃賞顯示出何種文化現象？
- (A) 「米血糕口味洋芋片」正是不同文化間互動涵化之展現
 - (B) 此次將臺灣小吃以全新方式行銷全球，即另類全球化之落實
 - (C) 外國觀光客對「米血糕口味洋芋片」接受度高，可見同化程度之深
 - (D) 期間限定「米血糕口味洋芋片」造就全民搶購風潮，實已成為大眾文化
8. 我國某私立大學學生宿舍設有「灰姑娘條款」，規定晚上十二點前必須回到宿舍，並由舍監進行點名確認，無故未到之同學則將登記，屢次違規者可能遭退宿處分。熱愛夜衝、夜唱的大一新生阿璟因此受退宿處分，若阿璟欲藉救濟管道保護自身權益，下列相關敘述何者正確？
- (A) 阿璟可選擇就校內申訴途徑救濟，或直接向上級機關教育部提起訴願
 - (B) 該私立大學於法屬財團法人，故阿璟如欲提起訴訟應於民事法庭辦理
 - (C) 此次雖未損及阿璟之受教權，若窮盡校內申訴途徑後不服，仍可訴願
 - (D) 若阿璟現為 16 歲高中生，遇此情事則須由法定代理人代為提起訴訟
9. 2001 年美國私立名校哈佛大學一群學生，因不滿校方連年刪減工友的薪資、打壓工會，使其難以維持基本生活所需，在多次無效對話下，最終選擇占領校長室。此舉雖違反校規，學生被校方反對、懲戒，但也引起各界注意，最終迫使校長承諾改善。對於哈佛學生的行為，下列敘述何者正確？
- (A) 此次學生占領校長室之行為，正是在行使結社權向學校單位施壓
 - (B) 該行動具有正當性，符合公民不服從要件，但仍須承擔違法責任
 - (C) 哈佛學生群起發聲，但抗議對象為非政府部門，故非公民不服從
 - (D) 此次占領校長室之行動，正是為了由上而下影響校方決策之方向

10. 阿呆與小笨交往同居近十年，但在一個月前因價值觀不合而選擇分手。分手後，小笨雖然搬離住所，但卻時常在夜半時分接到阿呆打來的騷擾電話，甚至在偶然間發現被阿呆跟蹤，心靈飽受驚嚇的小笨決定依《家庭暴力防治法》（簡稱《家暴法》）向法院聲請保護令。請就上述情事判斷，下列敘述何者正確？
(A)阿呆與小笨若為同志情侶，則無法適用《家庭暴力防治法》處理
(B)若小笨欲聲請緊急保護令之保障，則可由本人直接向法院聲請
(C)因阿呆與小笨有同居之事實，則可適用《家暴法》處理此事件
(D)小笨盼訴諸公權力保護自身，故保護令核發單位應為行政法院
11. 在某處的原始部落，族人正召開會議討論：「父母的遺產要怎麼分配給孩子們呢？裡頭有土地、房屋還有許多祖先傳承的寶物啊！」在大夥一陣爭議中，長老說道：「不如我們就先讓一個孩子負責將財產平分，然後全部孩子再抽籤決定？」請就長老的發言來判斷，其看法應與下列何種理論較為接近？
(A)效益論 (B)正義論 (C)社群論 (D)理性自利
12. 日本在 2011 年發生大地震，隨之而來的海嘯導致福島核電廠災害，當時《朝日新聞》在報導中提到：「福島第 1 核電站 2 號機處於危機狀態時，有 9 成員工違反核電站站長命令，撤退到 12 公里外的福島第 2 核電站。」但後來政府公布的調查報告卻指出：「無證據顯示當時核電站員工違反命令撤走。」事後，朝日新聞發行人承認報導錯誤並更正，對大眾道歉。下列敘述何者正確？
(A)朝日新聞發行人之道歉，顯見日本社會之新聞自由已被大眾輿論綑綁
(B)新聞因「求快」、「求新」之獨家壓力，使媒體漸走向總白痴化
(C)朝日新聞對於錯誤的資訊即刻道歉、更正，正是媒體近用權之展現
(D)若在我國發生此一情事，則行政院獨立機關 NCC 將指導、輔導該新聞媒體
13. 1910 年代，根據日本《番族慣習調查報告書》發現幾乎所有臺灣原住民族本來都沒有死刑。例如：在排灣族語言裡面，只有「惡」，沒有「罪」、「刑」的概念，其以收取贖財或體罰作為制裁，自古就沒有死刑，連體罰也很少。請就題述判斷下列哪一說明正確？
(A)排灣族人對「惡」之看法與祖靈信仰緊繫，為自然形成
(B)藉排灣族之語言考究可了解其文化下之生活型態、價值觀
(C)依普特南之理論，排灣族之生活風格將形塑族人之慣習（habitus）
(D)其語言只有「惡」，而無「罪」之概念，可見語言使用存在階級差異
14. 下列文章為阿妮○月×日的日記：
那天晚上，我只是去他家陪他聊天，但一進門滿地的酒，他已經喝醉了，後來他甚至強迫要摸我的身體，我害怕得奪門而出……
隔天，我馬上急著找導師說，在老師面前我哭了好一會……，可能我哭太久了，在天色變暗時，老師對我說：「好啦，不要再哭了，哭不能解決事情，他只是摸了你，又不是侵犯你，出社會後這種事會常常發生，你不要太計較。」我突然哭不出來了，當下嘴裡只迸出：「謝謝老師！」便急著起身離開，在倉促收拾之際，老師最後的那句話，我永遠忘不了：「他的前途還很長，你不要出去亂說話喔。」
依照我國之法律規定，應該如何處理此問題？
(A)老師不可以知情不報，應在獲知後 24 小時內通報
(B)題述中的「他」觸犯了《性侵害犯罪防治法》，須負擔刑責
(C)老師不想毀人前途而選擇噤聲，即交換條件性騷擾
(D)老師作為學校職員，應依《性別工作平等法》處理此事

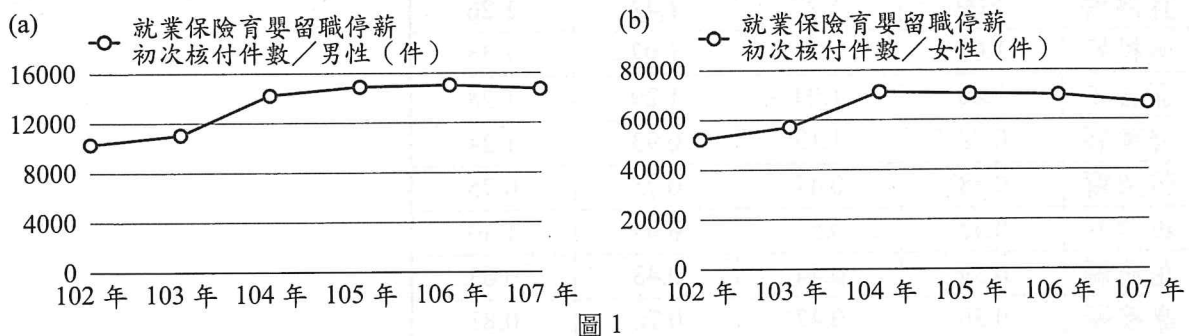
15-17 為題組

- ◎ 資料一：日本私立東京醫科大學於 2018 年被揭發，校方長年為抑制女性考生入學，暗中操作考試分數，導致無數女學生在不知情的狀況下落榜，其行為背後正是對「女性在職場流動率太高，造成醫療現場人力不足問題」之擔憂，對此校方主張：「一切壓低分數的手段，都是為了日本醫界未來所做的必要之惡」，引起社會輿論譁然，使東醫大校譽跌至谷底，導致隔年報考人數驟減 2/3。
- 資料二：記者烏集徹在《文藝春秋》專文中表示：「東京醫大的核心問題不在於女性醫師，而是『醫療人力崩壞』，日本醫療預算緊縮造成醫院赤字、連帶人力不足和超時過勞的弊病叢生，以及日益增多的醫療糾紛等等才是壓垮一切的主因。」

15. 依據上文資料判斷，下列敘述何者符合文意？
(A) 校方強調此一作法乃必要之惡，即從正義論出發之論點
(B) 隔年東京醫大報考人數驟減，即為鄰避效應之典型實例
(C) 烏集徹強調問題肇因於醫療環境崩毀，積極人權之缺乏
(D) 烏集徹指出醫療人力短缺問題，正是共有財悲歌之困境
16. 東京醫科大學在此一事件爆發後，引發社會各界之議論。下列敘述何者正確？
(A) 平平：該校操作女性考生錄取難度之作法，實受個人之性別認同影響
(B) 成仔：該校認為此法乃必要之惡，可顯示其對男性之優惠性差別待遇
(C) 阿令：校方設定差別錄取門檻，即性別主流化之展現，反映社會價值
(D) 小和：因性別偏見而刻意壓低女性考生分數，儼然是性別歧視之作法
17. 資料二中，記者的報導展現媒體何種功能？
(A) 評論事實 (B) 設定議題 (C) 凝聚共識 (D) 形成輿論

18-19 為題組

- ◎ 我國《性別平等工作法》規範：「受僱者任職滿 6 個月後，於每一子女滿 3 歲前，得申請育嬰留職停薪」。圖 1 為勞動部每年統計「申請留職停薪初次核付的人數」，請觀察圖 1 之變動，回答下列問題。



18. 根據圖 1 (a)、圖 1 (b) 判斷，下列敘述何者正確？
(A) 由此可知我國實際上男、女性在育嬰能力上有明顯高下
(B) 在我國單親家庭中，男性負責扶養嬰兒之比例較女性低
(C) 因玻璃天花板現象仍存，導致選擇留職停薪者多為女性
(D) 男、女因社會性別不同而在育嬰留職停薪申請有所差異
19. 若要探討此現象發生的原因，下列何種推論符合圖表呈現？
(A) 在性別社會化下，社會對照顧者之角色期待仍以女性為主
(B) 可見臺灣社會仍存在性別歧視，不利男性擔任照顧者角色
(C) 男女申請人數之差距大，源於社會對性別職業區隔之想像
(D) 此一現象若持續，異性戀霸權想像將持續影響社會之分工

20-21 為題組

◎ 資料一：駱明慶教授於 2002 年發表之文章《誰是臺大學生？——性別、省籍與城鄉差異》，回首 1954~2000 年我國大學升學情況發現，一試定勝負的聯考不如想像中公平，研究部分小結如下：城鄉差距確實存在，我國約 80% 的學生來自高中入學成績前 20 名之學校。

資料二：我國為使大學升學趨於公平而陸續開始採行多元入學機制，不再依賴單一考試決定大學升學，駱明慶教授於 2016 年發表之文章《誰是臺大學生？（2001~2014）——多元入學的影響》，內有 2001~2014 年間臺灣大學入學學生來源之縣市分布比例及考試分發占入學管道比例，如表 1、表 2。

表 1 2001~2014 年臺大入學學生來源之縣市分布比例

	2001~2003	2004~2006	2007~2010	2011~2014
臺北市	37.07	34.55	31.97	30.60
臺北縣	20.17	19.82	20.73	19.37
臺北縣市	57.24	54.37	52.70	49.97
高雄市	6.61	6.71	5.67	5.34
臺中市	6.09	6.91	6.70	7.15
桃園縣	5.25	6.04	7.65	8.19
臺中縣	3.78	4.38	4.05	4.07
臺南市	3.68	3.4	3.34	3.47
彰化縣	2.72	2.92	2.85	3.00
高雄縣	2.40	2.32	2.49	2.50
臺南縣	2.11	2.31	2.27	2.41
基隆市	1.66	1.48	1.73	1.60
雲林縣	1.16	0.84	0.87	1.15
新竹市	1.10	1.54	1.82	2.06
宜蘭縣	1.09	1.27	1.42	1.26
南投縣	1.03	1.11	1.07	1.28
嘉義市	1.00	1.04	1.29	1.28
屏東縣	0.98	1.13	0.93	1.24
苗栗縣	0.58	0.47	0.75	0.75
新竹縣	0.42	0.51	0.95	1.40
花蓮縣	0.39	0.44	0.43	0.63
嘉義縣	0.36	0.47	0.70	0.81
臺東縣	0.17	0.20	0.19	0.23
金門縣	0.14	0.02	0.07	0.14
澎湖縣	0.05	0.10	0.06	0.06
連江縣	0.00	0.01	0.02	0.01
合計	100	100	100	100

表 2 臺大入學管道之考試分發

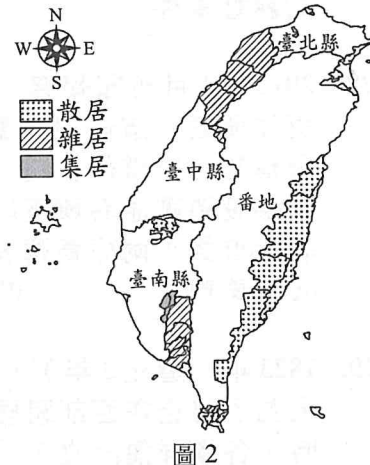
	總人數	考試分發比例
2001	91163	85.0 %
2002	100207	78.4 %
2003	107909	80.7 %
2004	110527	80.5 %
2005	112277	79.3 %
2006	115279	77.1 %
2007	118040	73.4 %
2008	114316	71.2 %
2009	111339	68.6 %
2010	112604	63.2 %
2011	113187	58.9 %
2012	113333	52.7 %
2013	113613	48.7 %
2014	112893	37.6 %

20. 就 2001 年至 2014 年之臺大入學資訊判斷，下列推論何者較為適當？

- (A) 我國區域發展十分均衡，臺大學生多來自人口密集之都市
- (B) 隨著升學考試分發比例逐年降低，城鄉差距有些些微弭平
- (C) 與其他縣市相比，大臺北地區學生僅在考試入學占有優勢
- (D) 上榜臺大人數占各縣市應考學生總數之比例，連江縣最低

21. 駱明慶教授在 2016 年之發表中提到「升學能力和家庭所得及父母親教育程度均成正相關」，試以此立論為基礎思考 2001 年後臺大之入學管道，下列推論何者較為適切？
(A) 雙北占臺大學生來源比例漸低，顯見家庭經濟資本已無法再製社會階級
(B) 多元入學管道使大學選材開始面試，偏鄉地區因社會資本濃厚而較易錄取
(C) 入學臺大的學生多集中於特定區域，由此可知我國升學制度存有文化歧視
(D) 考試入學學生多集中臺北、新北市，可見此二市之家庭文化資本應較其他地區高

22. 圖 2 為 1897 年臺灣總督府於針對臺灣某一族群進行調查後，依據統計資料所繪製的空間分布圖。這個族群應是：
(A) 福建省泉州族裔
(B) 福建省漳州族裔
(C) 廣東省客家族裔
(D) 旅居臺灣日本人



23. 日本人類學家鳥居龍藏在 1897 年（明治 30 年）的臺灣調查紀錄中寫道：「當船靠岸的時候，島上的『蕃人』爭先恐後似地駕著獨木舟（Canoe）過來，每一個人都在喊著：Peark（銀）！Peark（銀）！……為什麼喜歡銀幣呢？拿銀幣作什麼用途呢？結果我查出了原因。『土人』一旦有了銀幣，就放進陶甕裡燒熱，然後拿出來用石頭打成薄片，以製造男子的頭盔和女子的頭飾、頸飾、臂飾等。」上文描述的「蕃人」、「土人」是指下列哪一原住民族？
(A) 排灣族 (B) 阿美族 (C) 凱達格蘭族 (D) 達悟族
24. 以下節錄自《熱蘭遮城日誌》漢文譯本的一段記載：「在赤崁的公司大庭園，大家入座完畢後，荷蘭長官開始向前來集會的福爾摩沙人長老講話，宣布若干重要事項，翻譯者逐字逐句翻譯。接著感謝長老們繳納的年貢（稻米、鹿皮），感謝他們願意來承擔自己的責任，對公司及荷蘭人表現忠心；各社長老則報告地方狀況。後續辦理長老年度改選與授權。最後一個議程則是『宴飲用餐』時間，可說是福爾摩沙人最早用西式刀叉吃西餐的紀錄。」請問：日誌記載的是荷蘭東印度公司的哪一項施政措施？
(A) 地方會議制度 (B) 宗教佈道集會 (C) 華工招募會議 (D) 部落賤社制度
25. 臺灣對外開港通商後，有位西方宣教士在臺灣傳教近 30 年。他設立許多教會，還有學堂、女學堂、醫館等附屬機構。著名的是他四處徒步旅行佈道，在旅程當中行醫施藥，治療瘧疾、拔牙治病。他熱愛臺灣，娶臺灣女子為妻，用臺語講道，培訓臺灣本地的傳道人；過世後，埋葬在他傳教的園區。這位兼具教育家、醫學家與臺灣女婿的宣教士應為：
(A) 馬偕 (B) 馬雅各 (C) 甘為霖 (D) 巴克禮
26. 臺南市大天后宮拜殿左壁嵌有一塊花岡岩古碑，為清將施琅於康熙 24 年（1685 年）所立的〈平臺紀略碑記〉，節錄碑文如下：「臺灣遠在海表，昔皆土番、流民雜處，未有所屬。……澎湖一戰，偽軍全沒，勢逼請降。……乃禮遣降王入京，散其難民盡歸故里；各偽官兵載入內地安插。……奏請於朝，為置郡一、縣三，分水陸要地設官兵以戍之。賦稅題減其半。夫炎徼僻壤，職方不載；天威遐播，遂入版圖。推恩陶俗，銷兵氣以光文治，端有望於官斯土者。」針對上述碑文內容，下列解讀何者正確？
(A) 足以作為主張「臺灣不屬於中國」的佐證
(B) 將鄭氏宗室族人及文武官兵遣返福建鄉里
(C) 設置駐兵使臺灣成為大清帝國的統治轄區
(D) 採行安內防亂的治臺政策以發展國際貿易

27. 以下摘錄自一首臺灣白話史詩：「雖然生番也是人，日日強迫無錢工；古早都敢反一過（反一次），這時敢就去投降。搶我田地占我山，辱我妻女做我官；高嶺深坑飛未過（無法飛過），冬天雪夜餓加寒。我有一族數二千，雖然無刀也無銃（無槍）；但是天地已寒冷，眼前哪有紅頭兵（日本兵）。」此詩為反抗鬥爭留下紀錄，主要是聲援下列哪一事件？
- (A)樟腦戰爭（樟腦糾紛） (B)牡丹社事件
(C)霧社事件 (D)乙未八卦山之役
28. 2013年1月新聞報導，兩岸直通海底電纜「淡福海纜」正式完工，將促使兩岸通信更加便捷。這條連通臺北淡水與福州長樂的新光纖電纜，又名「海峽光纜1號」，被稱為「新電信絲路」；這是因為早在一百多年前滬尾（淡水）與福州之間，就曾經架設過貫通海峽兩岸的中國第一條海底電纜線，它曾被譽為「海上電信絲路」。請問首條「兩岸電信絲路」是下列何人鋪造？
- (A)沈葆楨 (B)丁日昌 (C)劉銘傳 (D)唐景崧
29. 1823年（道光3年），臺灣中部海岸平原的中部平埔族群集體向埔里遷徙，平埔族人為了防止在西部祖居地被漢人強占的慘痛經驗再次發生，在移墾埔里建立新家園時，各族群便訂立了「公議同立合約字」，其內容說明「毋許侵入內山擾動生番、毋許恃強凌辱、毋許引誘漢人在彼開墾、毋許僱雇漢人在地經營，若有不遵，鳴眾革逐。」但就在平埔人逐漸成為當地新主人的同時，入住的漢人越來越多，最終漢人還是成為埔里盆地的強勢族群。下列何者是平埔族人在埔里的優勢不復存在的主要原因？
- (A)遭受附近生番侵擾，平埔族遷移蘭陽平原
(B)清廷實施番屯制度，將熟番納入防衛體系
(C)採行開山撫番政策，解除漢人入番界禁令
(D)平埔族人過度漢化，化番為民後集體消失
30. 17世紀末郁永河在《裨海紀遊》描述北臺灣原住民自給自足的生活情形如下：「番人……寒然後求衣，飢然後求食，不預計也。……無市肆貿易，有金錢，無所用，故不知蓄積。……屋必自構，衣需自織，耕田而後食，汲澗而後飲，……蓋畢世所需，罔非（無非）自為而後用之。」請問：下列哪一項史事足以說明北部原住民雖沒有商店、街市這種複雜的貿易行為，但確實存在交易活動？
- (A)西班牙傳教士要求馬尼拉總督配送菸草
(B)北臺灣曾多處出土臺東卑南遺址的玉器
(C)原住民獵取鹿皮又有製陶、織布工藝品
(D)西班牙銀幣是當時東亞主要的國際貨幣
31. 臺灣的傳統經濟特質是農商並重，農產品生產並不侷限於自給，而有市場取向的商業性質，結果農業與出口貿易結合為一體，成為最重要的產業。自荷蘭時代至清朝後期，歷經幾個重要階段：
- 甲、山區新興產業樟腦崛興
乙、山區特殊產業茶業獨盛
丙、糖業絕對優勢時期
丁、稻米優於蔗糖時期
- 上述四項產業獨領風騷，位居出口外銷第一順位的時代，依時間先後順序排列應為：
- (A)甲乙丙丁 (B)乙丙丁甲 (C)丙丁甲乙 (D)丁甲乙丙

32. 1848~1853 年間在臺任官的徐宗幹上書清廷，說道：「米穀不流通，日積日多。望豐年乎？賤更甚矣；抑待歉年乎？賤如故也；蓋由內地食洋米而不食臺米也。不食臺米，則臺米無去處，而無內渡之船；無內地之米船，即無外來之貨船。往年春夏外來洋元數十萬，今則來者寥寥，已數月無廈口商船矣。」上文可作為下列哪一件史事的間接論證？
(A)日本進口南洋米而剝奪了臺米的市場 (B)臺灣稻米輸往南洋的市場被大陸取代
(C)清廷實施海禁限制臺灣稻米外銷日本 (D)臺灣與中國大陸的經濟區域分工互補
33. 19 世紀中葉，英國和滿清曾因鴉片問題而爆發戰爭，事經不到 30 年，又為了某項臺灣產業在臺灣引發戰爭，成為中國近代史上另類的「鴉片戰爭」。糾紛的起因是這項資源因全球需求量大增，臺灣對外開港後，英國洋行壟斷出口的情形，促使清政府將販賣權收歸國有，臺灣官兵查緝走私出口，與英商發生糾紛。結果駐香港的英軍派艦攻占安平，揚言要攻下臺灣。最終雙方簽訂了條約，清廷除了必須賠償費用外，還要放棄專賣，開放自由買賣，英國如願以償壟斷了這項資源。這場戰爭導因於下列哪一項臺灣產業？
(A)稻米 (B)蔗糖 (C)樟腦 (D)茶葉
34. 這段期間，臺灣因屬特殊政治狀態，政府制定諸多辦法，包括：
甲、禁止集會、結社及遊行請願，並審核與查扣報紙、雜誌、圖書、郵件
乙、禁止罷市、罷工、罷課、罷業，或鼓動學潮、聚眾暴動
丙、規定只能跳芭蕾舞、土風舞、民族舞蹈。警察取締一男一女跳社交舞，說是摟摟抱抱、傷風敗俗
丁、取締嬉皮，警局拘留蓄長髮男子或「奇裝異服」者，例如穿大喇叭褲的男子、穿太短迷你裙的女子
臺灣社會經歷這一段漫長的非常狀態，其時間起迄大約是下列何時？
(A)1950~1960 年代 (B)1960~1970 年代 (C)1950~1980 年代 (D)1970~1990 年代

35. 圖 3 是 1925 年一位住在臺灣的日本人所畫的一幅諷刺漫畫。一艘漂浮在大海上的「大碗」號（日文大碗片假名「タイワン」與臺灣的日文發音相同），備有名為「高雄」的引擎，以及名為「基隆」的船首，「小孩」形象的島民手中握的船舵上寫著「市政實施」，他背後的袋子上寫著「產業貿易南支南洋發展」。這艘「大碗」正航向遠方水平線的朝陽，宣告新時代的來臨。這幅漫畫的用意在傳達何種訊息？




圖 3

- (A)日本冀望以高雄航向南洋新天地 (B)手握船舵的本島人訴求地方自治
(C)拓展基隆成為臺灣北部玄關港口 (D)坐島民身旁的大人主導南洋工業
36. 日治時期採行的某項制度，清代在臺灣已實施，日本治臺，擴大其功能，用以協助警察，輔佐警務。1920 年代新聞界曾有過存廢的討論，主張廢除者主要的理由是：對個人之犯罪，強制於附近居民須負連帶責任，尚未考慮立法當時之社會狀態有所迥異；然對個人犯罪而強制連帶責任，實有違時代精神，為現代法律所不容許，徒助長下級警官之橫暴機會。上文指陳下列哪一項制度？
(A)三段警備制 (B)壯丁團制度 (C)匪徒刑罰令 (D)保甲制度

37. 這一年臺灣的政局很特殊，有位學者感懷深刻，寫下一首詩：「一聲和議黯雲收；萬里河山返帝洲，也是天驕誇善戰，那知麟鳳有良籌。痛心漢土三千日，孤憤楚囚五十秋。從此南冠欣脫卻，殘年僅可賦閒鷗。」（帝洲指大陸；楚囚、南冠借指囚犯）。作者緬懷的是下列哪一件史事？
(A)中法戰爭基隆戰事，臺灣鄉勇力抗法軍
(B)甲午戰敗割讓臺灣，臺民義憤填膺反對
(C)辛亥革命武昌起義，建立民主共和國家
(D)二次世界大戰結束，臺灣回歸中華民國
38. 1929 年 6 月 3 日，臺灣某一個社會運動的組織舉行「打倒阿片大講演會」，散發數萬張宣傳單，內容如下：「89 年前，英國人輸入阿片（鴉片）於廣東的時候，林則徐總督就看破阿片是亡國滅種的惡魔，毀家傷身的毒物，便收押了英船二載的阿片四千箱燒掉了，因此起了驚天動地的阿片戰爭了，我的同胞至今猶是大吸特吸，每年都吸了四百幾萬圓，單單就有鑑札的人（註：吸食阿片許可證）來講，就有了 30,000 餘人，而暗吞密吸的不知幾何啊？咳！設使臺灣人，不要錢不要性命，也要在世界上留些面皮才是啊，有志氣的同胞，快！快！快起來打倒萬惡的阿片啊！」上文指涉的是下列哪一個社會團體的活動？
(A)臺灣議會期成同盟會
(B)新臺灣文化協會
(C)臺灣工友總聯盟
(D)臺灣民眾黨

39. 圖 4 是臺灣總督府始政第 20 回發行的紀念明信片，題名為〈20 年前／現今的臺北西門街〉，採用兩張圖照，呈現公元 1895 年至 1915 年間臺北西門町一隅的街景變化。圖像內容反映了總督府最主要的訴求是下列何者？
(A)日本人居住城區的優雅，鼓勵移民臺灣
(B)筆直寬敞的大馬路，宣示進入汽車時代
(C)衛生與環境的改善，展現殖民統治成果
(D)新都市空間的出現，顯示日本完全歐化




圖 4

40. 表 3 為 1898~1902 年臺灣總督府執行死刑處決的人數統計資料。表中數字的形成最主要導因於臺灣總督府的下列哪一項政策？

表 3

年度	捕獲反抗者加以處決	判決死刑	討伐隊處決	合計
1898	166	84	2,850	3,100
1899	324	507	3	834
1900	468	873	9	1,350
1901	682	997	311	1,990
1902	4,033	537	106	4,676
合計	5,673	2,999	3,279	11,950

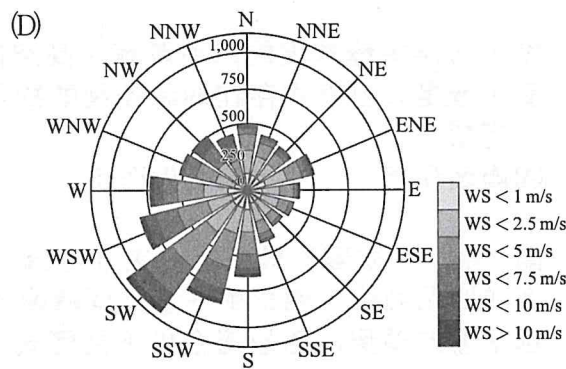
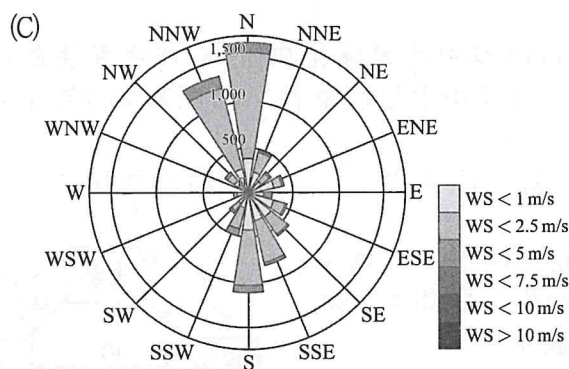
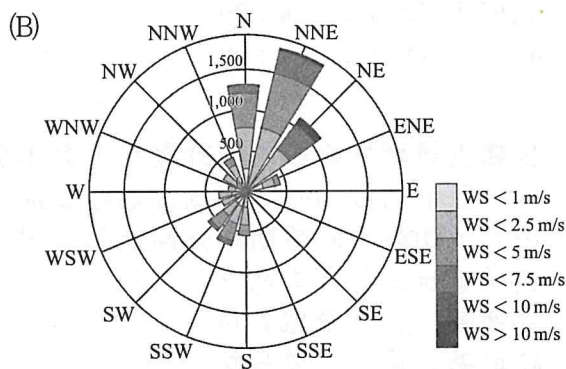
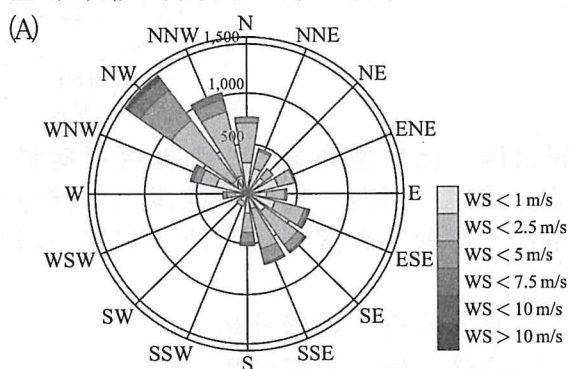
- (A)三段警備制 (B)匪徒刑罰令 (C)治安警察法 (D)土匪招降策

41. 某個時期，臺灣政官員尹仲容曾推行「麵粉代米」政策，他認為臺灣民眾應該「多吃麵，少吃米」，節省下來的食米不但可作為國防戰備儲糧，還可以外銷賺取寶貴外匯。他呼籲社會發起「麵粉代米運動」、政府應把「麵粉代米運動」化為政策，主張軍公教人員和一般民眾都要力行，消耗美國進口的麵粉，還說只要每人一週吃一天麵食，一年就能省下七分之一的食米，可以開源節流，穩定經濟。請問：當時倡導「麵粉代米」的時間點是？
(A) 1940~1950 年代 (B) 1950~1960 年代 (C) 1960~1970 年代 (D) 1970~1980 年代

42-43 為題組

◎ 臺灣彰化縣城古地名「半線」，在漢人大舉移入開墾之前，這裡是平埔族人活躍的生活場域，由於與鄰近的八卦山便於控扼海岸與港口，同時也坐鎮臺灣南北交通要道，因此是臺灣史上重要的古戰場，從平埔族裔到抗日志士，見證過驚心動魄的動亂征戰。請問：

42. 在清朝統治的 200 來年，彰化八卦山鄰近地區的平埔族裔參與反清民變，以下列哪一事件族人傷亡最為慘重，幾近滅族？
(A) 大甲西社事件 (B) 林爽文事件 (C) 戴潮春事件 (D) 施九緞事件
43. 彰化八卦山戰役是乙未抗日戰爭中最激烈的正面會戰，至今仍保留在「乙未保臺和平紀念公園」系列的追思祭典，主要是紀念緬懷下列哪一族群的抗日志士？
(A) 旅臺黑旗軍 (B) 平埔族裔義勇軍
(C) 客家族裔的義軍 (D) 漢人鄉紳的團練
44. 閱讀相關圖表來分析地理資訊，是學習地理很重要的能力。根據下列的風花圖以及全球氣候的判斷，哪一個最有可能是北京市？



45. 下列哪種應用狀況的處理，在 GIS 系統中最適合用「網格模式」儲存或操作？
(A) 精準地籍圖建檔 (B) 地下水道規劃
(C) 空氣污染源監測 (D) 影像處理

46. 圖 5 為某地區之輪廓及經緯度位置。該地有雨林、莽原兩種不同的自然景觀。下列何地也有相似植被景觀的出現？
(A) 南洋群島
(B) 亞馬遜河流域
(C) 澳洲東南沿海地帶
(D) 馬達加斯加島

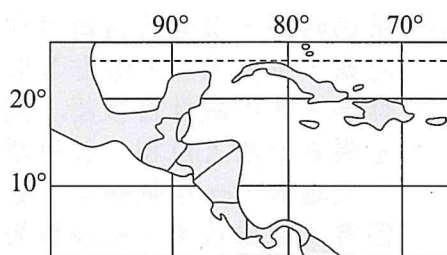


圖 5

47. 高雄美濃地區於 2016 年 2 月 6 日凌晨 3:57 發生芮氏規模 6.4 之地震，震央區域所釀災害並不大，卻造成 35 公里外的臺南永康地區因土地液化高樓倒塌、傷亡慘重之災情。重災區由地質史觀之，屬於下列哪一種地形？
(A) 數個活斷層的交會帶
(B) 湖、海沖積的泥岩區
(C) 斷層陷落的構造盆地
(D) 河川下切形成的河階
48. 以下四種地形的組成物質，淘選度由最劣排至最佳，依序應是下列何者？
甲、蛇丘 乙、沙丘 丙、濱外沙洲 丁、鼓丘
(A) 甲丁乙丙 (B) 丁乙甲丙 (C) 丁甲丙乙 (D) 丙甲丁乙

49. 圖 6 是地表南半球經緯線的分布圖，圖中最外圈為赤道。若搭乘聯合航空於 12 月 21 日下午 2:00 於丁處出發飛行約 8 小時，到達乙處的時間為何？
(A) 12 月 22 日上午 8:00
(B) 12 月 21 日下午 8:00
(C) 12 月 22 日上午 4:00
(D) 12 月 21 日下午 4:00

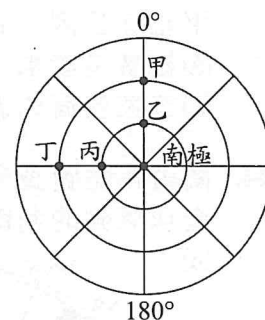


圖 6

50. 根據世界衛生組織的統計發現，近年來屈公病、出血型登革熱、西尼羅河病毒、瘧疾、茲卡病毒均有向高緯度地區蔓延，且加深嚴重程度之趨勢。以疾病的發源地為中心，觀察不同時期向外擴展的方式、速度及影響的範圍，適用於下列哪一項地理資訊系統的分析方法？
(A) 疊圖分析，環域分析
(B) 環域分析，地勢分析
(C) 地勢分析，路徑分析
(D) 路徑分析，視域分析
51. 除了海洋中釋放出的二甲基硫、高空閃電所導致的氮氧化物及 X 作用產生的硫化氫，皆是大自然中存在的許多制酸物質，造成雨水呈現酸性。請問 X 作用為下列哪一選項？
(A) 崩壞作用 (B) 風化作用 (C) 火山作用 (D) 凍裂作用

52. 圖 7 為一水循環的模式圖，主要分為地面、地下、大氣、海洋四個圈帶，觀察甲~壬九個轉換的過程。請問：全球水平衡的循環狀態最適合以下列何式來表示？
(A) 乙 + 己 + 辛 = 甲 + 戊 + 壬
(B) 甲 + 丙 + 戊 = 乙 + 丁
(C) 庚 - 丁 = 戊 - 己
(D) 庚 + 壬 = 丙 + 己 + 辛

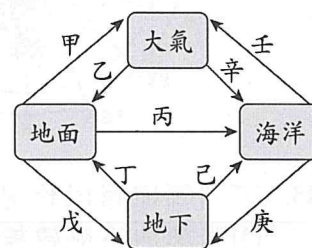


圖 7

53. 根據外媒報導：英國探險隊探勘位於廣平省風芽格邦國家公園、被視為全世界最大洞穴的越南著名景點「山水洞」(Son Doong)，發現在洞內水面 60 公尺深處隱藏一個暗河系統，這項發現使山水洞更添神秘。該地形發育環境最可能具備下列哪一項特徵？
- (A)位於板塊交接處 (B)該地蒸發量大於降水量
(C)曾經有山岳冰河侵蝕的圈谷存在 (D)昔日可能為溫暖的淺海地區
54. 國際氣候媒體《氣候之家》(Climate Home)指出，2019 年世界三大熱帶森林同時面臨政治變天危機，伐林和碳排放的風險升高。巴西和「甲國」最近都換了領導人，2019 年 4 月印尼也將舉行總統大選。環保人士憂心，這世界三大熱帶雨林國家的新領導人，可能與棕櫚油、木材、採礦和農業等產業站在同一邊。文中的「甲國」指的是下列哪個國家？
- (A)剛果 (B)斯里蘭卡 (C)新加坡 (D)墨西哥

55-57 為題組

- ◎ 苗栗縣府委託的研究團隊分析 140、128 縣道、29、52 線，歷年共發生 18 起石虎路殺事件，被列為路殺熱區，加上苗 13 線在台 13 線路口附近，也有潛在路殺高風險。縣府為防治路殺啟動「苗栗縣大尺度之路殺風險評估」計畫，2018 年 10 月，研究團隊在這些地區、路段共架設 31 部自動照相機，有 13 處監測記錄到石虎，顯示苗栗確實是石虎最重要棲地。其中，在 140 縣道架設的 13 部紅外線自動照相機，有 4 部相機拍到石虎活動。請問：



圖 8

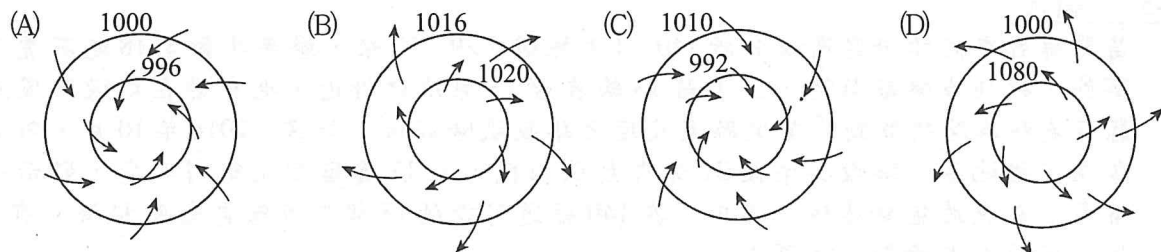
55. 請就題幹敘述判斷，下列何者為臺灣石虎最可能出沒活動的時間和地點？
- (A)夜間的高山地區 (B)夜間的淺山地區
(C)晨間的高山地區 (D)晨間的淺山地區
56. 從圖 8 中判斷，於縣道 140 標示的兩個石虎路殺點相距的實際距離約為多少公里？
- (A) 0.9 公里 (B) 1.4 公里 (C) 1.9 公里 (D) 2.4 公里

57. 從圖中苗栗火炎山的地形概況分析，下列哪一個描述較為正確？
(A)屬於靜態的風化地形
(B)接近潛移狀態
(C)易形成沖積扇狀的堆積地形
(D)冬季時崩塌往往比夏季來的明顯

58-59 為題組

◎ 美國氣象專家於 2011 年 4 月 29 日表示，冷鋒遇到溫暖潮溼空氣，加上不同高度的極端風況，形成罕見但威力強大的組合，引發 4 月 25 日至 4 月 29 日在美國肆虐的致命龍捲風。4 月通常是美國龍捲風的活躍期，因為春天即將來臨，氣象觀察專家表示，這個月的龍捲風數量可能會創紀錄。AccuWeather.com 資深氣象專家柯特勞斯基說：「反聖嬰現象 (La Niña) 更容易讓美國北部的冷空氣往溫暖的南方移動，冷熱空氣碰撞經常會引發風暴活動。」請問：

58. 由題幹中提及的龍捲風成因判斷，其氣流型式最接近下列哪一個選項？



59. 目前就氣候學家發現聖嬰或反聖嬰的出現，可能都與信風和洋流的強弱脫不了關係，可見牽一髮而動全身。下列關於行星風系或全球洋流系統的描述，何者正確？
(A)行星風系南北半球內有 4 區低壓 3 區高壓
(B)阿拉斯加暖流的出現是北大西洋暖流往高緯度的延伸
(C)阿古拉斯暖流跟西澳涼流皆屬於印度洋的洋流系統
(D)在南北半球西風帶所產生的吹送洋流皆屬於暖流性質

60-63 為題組

◎ 隨著全球化時代來臨，為了保存各地的文化產業，也風起雲湧的進行社區總體營造計畫，以保存地方文化產業，並維護生態環境。圖 9 為臺灣某地區在 20 世紀初 (甲圖)、21 世紀初 (乙圖) 近 100 年間的變化。請問：

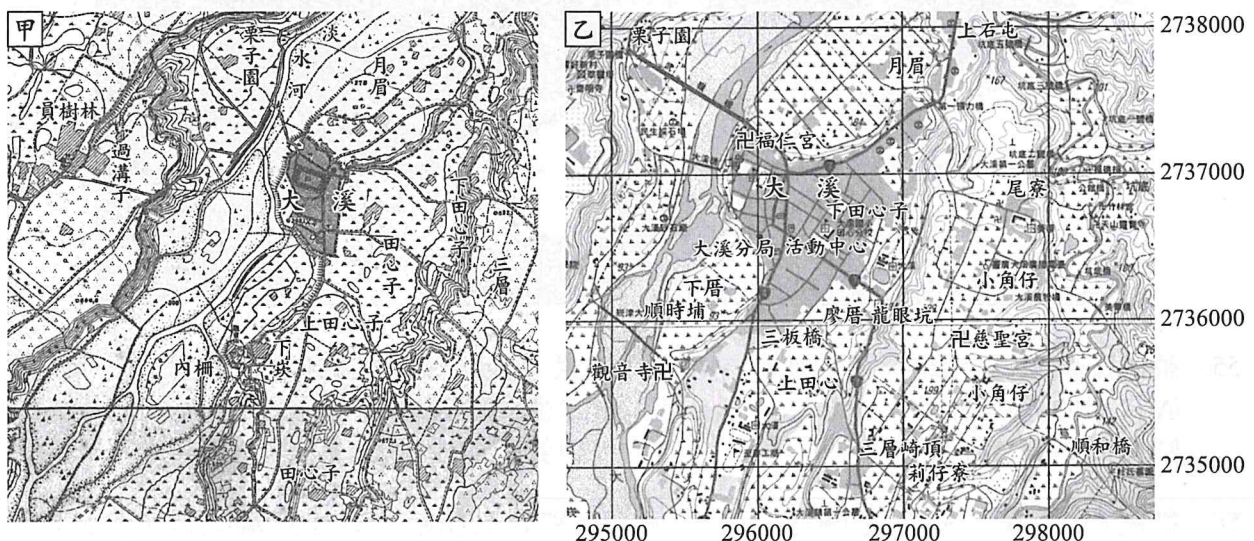


圖 9

60. 下列關於甲圖的描述，何者錯誤？
(A)有比例尺概念 (B)圖中可讀出土地利用
(C)此圖節錄於清末的臺灣堡圖 (D)圖的上方為北方
61. 對照兩張圖中主要社區聚落最早產生的地點，與下列何種地形面有關？
(A)河階 (B)沙洲 (C)沖積扇 (D)地塹
62. 乙圖中活動中心的座標為下列哪一選項？
(A) (296000, 2735500) (B) (296500, 2735500)
(C) (296500, 2736500) (D) (297500, 2737500)
63. 福仁宮位於慈聖宮的哪一方位？
(A) N45°W (B) S45°E (C) S45°W (D) N45°E

64-65 為題組

- ◎ 2016 年 7 月 1 日，中華民國海軍金江軍艦進行雄三飛彈系統檢查測試時，發生一枚雄風三式飛彈誤射事件，國防部在當天舉行的記者會上證實飛彈貫穿高雄籍翔利昇漁船船身（由於漁船採用玻璃纖維和木材拼成，船身薄軟，噸位、性質均較披覆裝甲的軍艦不同，無法觸動飛彈引信，所以飛彈彈頭沒有爆炸，而直接貫穿），但卻造成船長黃文忠不幸死亡、此外三名船員受傷，該枚飛彈從左營港內射出，飛至 40 海浬外、澎湖群島東南方海域的預設目標點墜落。請問：
64. 就以上文中描述雄三飛彈墜落地點距離與聯合國制定各國的領海和經濟海域的距離相差，兩段比例約是多少？
(A) 1 : 3 (B) 1 : 5 (C) 1 : 7 (D) 1 : 9
65. 承上題，各國對於飛彈射擊常使用何種地圖投影較能確認目標物的距離？
(A)正形投影 (B)正向投影 (C)方位投影 (D)等積投影

66-69 為題組

- ◎ 一部 2018 年上映的臺灣電影《引爆點》，其劇情簡介如下：在寶港村人民激烈抗議通聯石化財團汙染漁港之際，當地漁民康文海疑似在漁船上自焚的影像，被媒體記者聳動報導，內文直指康文海正是為此抗議事件而選擇走上絕路，引起全臺輿論撻伐。主角周法醫及金檢察官深入調查命案與抗爭事件時，發現在通聯石化工業危害生態、居民健康、空氣汙染等問題背後，尚有詐領保險金、縣長索賄、毒石灰等案外案。電影的故事內容不禁使人對雲林麥寮的六輕石化工業園區做聯想，雲林以農漁業為主要產業，但隨著六輕工廠設立後，雖帶動破千億投資，但也使得當地環境大幅改變，如燃燒發電後會排放大量二氧化碳、PM2.5 等級的懸浮微粒等多種危害的空汙氣體。因生態環境受到破壞，近十年已外流超過百萬人口。請問：
66. 電影《引爆點》的新聞記者引爆了媒體第四權的下列哪一項特性？
(A)以腥羶色的事件吸引觀眾眼球，實為新聞娛樂化
(B)媒體為求真相而仔細深入調查，不愧為社會公器
(C)通聯石化被勒令停工，是媒體受外在監督的展現
(D)新聞形塑輿論方向，引導閱聽人習於表淺式思考
67. 針對上文有關雲林麥寮六輕工業區的敘述，下列哪一項是正確的解讀？
(A)當地空氣汙染問題，背後起因於空氣財產權不完整，導致共有財的悲劇
(B)近十年雲林人口大幅外移，由此可知六輕石化工業園區被視為迎臂設施
(C)設廠企業每年回饋當地破百億，以提升居民之生活品質，但誘因仍不足
(D)六輕設廠之後大量招募在地專業人才，錄取工作者實為搭便車之受惠人

68. 國片《引爆點》的場域「高雲縣」，隱含臺灣石化工業主要分布在高雄與雲林這兩個縣市的影子，電影一開場即揭示村民抗議石化工廠排放廢棄物汙染漁港的社會環保議題。回顧臺灣石化產業的發展與國內整體經濟發展密切相關，請問：是在下列哪一階段政府清楚展現興建石化工業政策的決心？
- (A) 1958 年至 1967 年 (B) 1968 年至 1973 年
(C) 1973 年至 1984 年 (D) 1984 年至 1989 年

69. 六輕工業區周遭有許多「崙」地名，例如：「沙崙後」、「崙仔頂」，這些地名與沙岸各種地形空間分布（圖 10）中的哪一地形最有關係？
- (A) 甲 (B) 乙
(C) 丙 (D) 戊

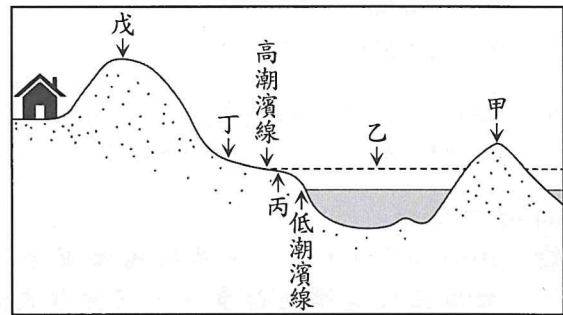


圖 10

70-72 為題組

◎ 資料一：臺東縣政府接獲檢舉，原住民族某部落的女頭目涉嫌在網路以每瓶 200 元出售自釀的小米酒，縣府人員會同轄區警方到女頭目家，查扣 58 瓶小米酒。依照規定，自釀的酒類，如果沒有取得販賣許可而私下銷售，不論是實體店面或於網路上賣酒通通違規，會有不等的罰鍰懲處。

資料二：每年排灣族小米收穫祭時，族人都會在祭典中以自己所釀的酒與族人分享，族人感謝天地祖靈護佑小米收成，也祈望來年順利。族人表示，其實許多人都自釀小米酒，若有人問自然會賣，但主要是自用為主。原住民族某部落牧師對此事件表示：「頭目用自己的能力釀酒來照顧部落族人及接待貴賓，相關單位卻用引誘的方式來詢問頭目一瓶多少錢，頭目很單純說價值 200 元，這是誘騙頭目進入陷阱。」

70. 比較資料一、二，下列敘述何者較為正確？
- (A) 為使族群和諧相處，少數原住民應學習融入漢人文化
(B) 政府與部落對此事件意見相左之情形，即文化相對論
(C) 政府依不同情形各別科處罰鍰，為積極性的差別待遇
(D) 族人對政府之作法不滿，盼望多元文化權能真正落實
71. 過往，臺灣的菸酒長時期被列為專賣（公賣）項目，但從何時開始，政府允許「民間可申請菸酒許可執照，並進行產製和販賣；而人民也可以產製一定數額的菸酒以自用」？
- (A) 1951 年美援時代來臨 (B) 1987 年臺灣解除戒嚴
(C) 1998 年臺灣完成精省改革 (D) 2002 年加入世界貿易組織
72. 據了解，該名原住民頭目所釀製的小米酒，是預計在部落原定舉行的「小米收穫季」時之祭祀活動與接待貴賓使用，黃同學想針對該部落的小米收穫季活動進行地理小論文研究，於是前往臺東縣達仁鄉森永村實地訪查，他所獲得的資料中，何者屬於空間資料？
- (A) 森永村人口總數統計 (B) 森永村辦公室地址
(C) 森永村農業土地利用面積 (D) 森永村防災地圖

社會考科解析

1	2	3	4	5	6	7	8	9	10	11	12	13	14	15
(C)	(A)	(D)	(A)	(D)	(B)	(A)	(C)	(C)	(C)	(B)	(D)	(B)	(A)	(C)
16	17	18	19	20	21	22	23	24	25	26	27	28	29	30
(D)	(A)	(D)	(A)	(B)	(D)	(C)	(D)	(A)	(A)	(C)	(C)	(C)	(C)	(B)
31	32	33	34	35	36	37	38	39	40	41	42	43	44	45
(C)	(D)	(C)	(C)	(A)	(D)	(D)	(D)	(C)	(B)	(B)	(A)	(C)	(A)	(D)
46	47	48	49	50	51	52	53	54	55	56	57	58	59	60
(D)	(B)	(C)	(C)	(A)	(C)	(A)	(D)	(A)	(B)	(B)	(C)	(A)	(C)	(C)
61	62	63	64	65	66	67	68	69	70	71	72			
(A)	(C)	(A)	(B)	(C)	(D)	(A)	(C)	(D)	(D)	(D)	(D)			

單選題

1. (C) 【難易度】★★☆
 【出處】公民與社會(一) 第三課 人與人權
 【解析】該速食業者減少塑膠量之作為有利環境永續發展，故可知題幹所述為環境權，為第三代人權。(A)屬參政權，為第一代人權；(B)屬生命權，為第一代人權；(D)屬工作權，為第二代人權。
2. (A) 【難易度】★★☆
 【出處】公民與社會(一) 第三課 人與人權、第四課 公共利益、第五課 公民社會的參與
 【解析】(A)核電廢除與否為環境權，屬集體人權；(B)搭便車意指個人沒有負擔成本，卻享有公共資源之好處。在此，總統為實際參與遊行之響應者，不屬於搭便車者；(C)依我國目前法規來看，集會遊行原則上需要向政府申請，屬於體制內管道；(D)第一部門為政府、第二部門為市場、第三部門為非營利組織。此次遊行係由第三部門之非營利團體向第一部門政府提出要求，請求作為。
3. (D) 【難易度】★★☆
 【出處】公民與社會(一) 第六課 媒體識讀
 【解析】(A)總白痴化意指傳播媒體反覆向閱聽人傳遞庸俗訊息，長久以來使觀眾喪失判斷力，而題幹中民眾是受到假消息影響，非屬總白痴化；(B)媒體之監督之權稱為第四權；(C)守門人 (gate keeper)，為媒體所扮演之角色 (非人民)，負責挑選、過濾審核素材；(D)媒體近用權之接近權為：人民得用被動、有限度的方式在媒體上發表言論，其中分為更正權與答辯權。更正權為人民對於錯誤的報導得要求媒體更正；答辯權為當媒體報導涉及當事人時，其有權要求媒體給予答覆、申辯等之機會。
4. (A) 【難易度】★★☆
 【出處】公民與社會(一) 第五課 公民社會的參與
 【解析】(B)依我國《人民團體法》分類，可將團體分為職業團體、政治團體、社會團體；《民法》則將團體分為社團法人及財團法人；(C)工會提倡搭便車，即是讓沒有參與工會者無法享有工會所爭取之福利。非搭便車行為；(D)工會之罷工為《罷工法》所規範之合法行為，非公民不服從。
5. (D) 【難易度】★★☆
 【出處】公民與社會(一) 第三課 人與人權、第七課 文化與位階、第八課 多元文化社會與全球化
 【解析】(A)該禁令侵害穆斯林之宗教自由、表意自由，非狹義之人身自由；(B)布基尼為泳衣之一種款式，為文化相互接觸後採借其他文化之某些要素之情形，此種文化互動形式屬涵化；雜異化則為文化相互滲透而產生新的文化意義與認同；(C)文化相對論由鮑亞士提出，強調文化並無優劣好壞，主張須依據各別文化生成條件，去了解不同文化之特點，避免以自身文化為中心批評其他文化，今布基尼禁令與穆斯林在符合其宗教教條之規範產生抵觸，故非文化相對論；(D)穆斯林在法國當地掌握之資源相對寡少，故伊斯蘭文化相當於法國之次文化，而非主流文化。
6. (B) 【難易度】★★☆
 【出處】公民與社會(一) 第一課 自我的成長與準備成為公民、第二課 人已關係與分際
 【解析】(A)本我為生物的我，注重本能的需求滿足，蔡依林對完美的追求乃起自自我；(B)概括化他人：人對社會綜合成整體的印象，根據此印象來調整自我本身行為。而蔡本身因為網路輿論，不斷調整自己；(C)顧里所提出之理論為鏡中自我；(D)初級團體為人最初、最重要的團體，強調情感結合、親密關係，有經常性、頻繁穩定的互動。次級團體為間接團體，認同感較弱，彼此之間缺乏深厚情感。而匿名網友應屬次級團體。
7. (A) 【難易度】★★☆
 【出處】公民與社會(一) 第七課 文化與位階、第八課 多元文化社會與全球化
 【解析】(B)另類全球化認為全球化不應只有經濟強國所主導的全球化，還應有其他的選擇，例如：人道關懷、社會正義、環境保護

- 等，與題幹敘述無關；(C)同化：為不同文化體系接觸後，弱勢文化被融入在支配的文化中，改變原有的習慣與觀念，「米血糕口味洋芋片」較接近文化之涵化；(D)大眾文化：為在社會生活中，符合一般大眾喜好，廣被群眾所接受的消費文化形式、活動。而題目中一時的搶購應屬流行文化。
8. (C) 【難易度】★★☆
 【出處】公民與社會(一) 第三課 人與人權
 【解析】(A)阿璟僅得以在窮盡校內申訴途徑後，若不服，始可向上級主管機關提出訴願；(B)私立大學之上級主管機關仍為教育部，故阿璟若欲與訟則應於行政法院提起；(C)因阿璟為大學生，故依據釋字 684 號，不論事件是否影響其學生身分或損及受教育權，若窮盡校內申訴途徑後不服，皆可訴願；(D)若阿璟為高中生，則依據釋字 382 號，此一事件不影響其學生身分或損及受教育權，故僅能就校內申訴程序處理，無法向司法體系提出訴訟。
9. (C) 【難易度】★★☆
 【出處】公民與社會(一) 第五課 公民社會的參與
 【解析】(A)此次占領校長室之行為，可謂學生之集會權展現，非結社權；(B)公民不服從為一公開、非暴力、合乎良心但違反法律的行動。公民不服從係指在憲政體制下處於少數地位的公民表達異議的一種方式，是一種反對權的政治權利。而本題中哈佛為私立學校，並不符合公民不服從所指稱的對象；(D)應修正為：由下而上影響校方決策。
10. (C) 【難易度】★★☆
 【出處】公民與社會(一) 第二課 人已關係與分際
 【解析】(A)《家庭暴力防治法》之保護對象包括現有或曾有同居關係者 (包含異性同居、同性同居)；(B)緊急保護令之聲請人為檢察官、警察機關、主管機關，並不包含當事人；(D)民事保護令之核發單位為地方法院。
11. (B) 【難易度】★★☆
 【出處】公民與社會(一) 第四課 公共利益
 【解析】此題題幹敘述之核心概念為羅爾斯所提出之「無知之幕 (The veil of ignorance)」，即正義論之重要假設。在面對道德問題判斷時，是以思想實驗為討論：假設在「原初狀態」下，所有人對自己擁有的技能、品味、和地位於當時社會的情況一概不知，在此情況下讓他們對權力、地位、和社會資源決定一定原則分配，藉此可抹除個人一己之私，常創造正義而公平的社會制度。
12. (D) 【難易度】★★☆
 【出處】公民與社會(一) 第六課 媒體識讀
 【解析】由題幹敘述可理解其內容大意为朝日新聞因為刊登錯誤報導而進行道歉。(A)朝日新聞發行人是因為其錯誤報導而道歉，並非被輿論網綁；(B)錯誤報導並不等於總白痴化 (總白痴化意指傳播媒體反覆向閱聽人傳遞庸俗訊息，長久以來使觀眾喪失判斷力，而題幹中民眾是受到假消息影響，非屬總白痴化)；(C)媒體近用權為閱聽人之權利，而非媒體之權利。
13. (B) 【難易度】★★☆
 【出處】公民與社會(一) 第七課 文化與位階、第八課 多元文化社會與全球化
 【解析】(A)文化乃後天習得，非自然；(C)生活風格 (lifestyles) 乃由布迪厄 (Bourdieu) 所提出；(D)排灣族語言只有「惡」，而無「罪」之概念，可見語言反映出該文化社會中，人們對世界的看法。
14. (A) 【難易度】★★☆
 【出處】公民與社會(一) 第二課 人已關係與分際
 【解析】(A)(D)《性別平等教育法》規範學校人員知道疑似校園性騷擾、性侵害或性霸凌事件，在 24 小時內有義務通報；(B)由題幹可知「他」之行為屬性騷擾，而非性侵害，故適用《性騷擾防治法》；(C)交換條件性騷擾指校園教職員工生中，一方利用職權以學業成績或工作為要脅明示或暗示，要求另一方提供性服務作為交換。老師並非對阿妮性騷擾之人，故兩人之間對話未涉及交換條件性騷擾。

15-17 為題組

15. (C) 【難易度】★★★

【出處】公民與社會(一) 第三課 人與人權、第四課 公共利益

【解析】醫療環境崩壞談論到醫療人員的勞動權益，屬集體人權。(A)校方之作法為犧牲女性而去維護男性之利益，不符合正義論之機會均等原則(各項職位需要在公平、機會均等條件下，對所有人開放)；(B)鄰避效應指具有負外部性效應的公共設施產生的效用為大眾所共享，而帶來的風險和成本卻由設施附近居民承受，故當地居民反對，使得公共利益的推進產生難題，與本題無關；(D)共有財的悲歌意指財產權不完整之資源，遭到人們的濫用而消失殆盡，而醫療人才之缺乏並非因此所致。

16. (D) 【難易度】★★★

【出處】公民與社會(一) 第二課 人已關係與分際

【解析】題幹中東京醫科大學之所以調整女性錄取門檻乃起因於社會之性別刻板印象，衍生後續作為。(A)性別認同指個人在心理上主觀看待自己的性別，並非影響此一制度之原因；(B)優惠性差別待遇係為落實積極平等權，然此次條分之作法無疑加深性別間之不平等，故不正確；(C)性別主流化為國家在制定各項政策或推動相關立法時，應評估這些政策或立法對於不同性別可能產生之影響，並將不同性別的觀點與利益納入考量，目的在於促進性別的實質平等。東京醫科大學此一差別待遇使得不同性別之間錄取醫學系之機會趨向不平等，故非性別主流化之作法；(D)性別歧視指因循性別偏見之態度，進而對不同性別者採行不平等的差別待遇，導致當事人不利之後果。東京醫科大學刻意壓低女性考生之分數，性別偏見導致之具體行為，故為性別歧視。

17. (A) 【難易度】★★★

【出處】公民與社會(一) 第六課 媒體識讀

【解析】依題幹之敘述，烏集徹是對此事件給予評價。(A)評論事實為對該事件的是非、對錯加以評價；(B)設定議題為媒體對訊息的選擇、解釋與評論；(C)凝聚共識為媒體經閱聽人及各種團體的討論後，有助於凝聚社會共識；(D)形成輿論為媒體透過傳播形成輿論進而影響政府。

18-19 為題組

18. (D) 【難易度】★★★

【出處】公民與社會(一) 第二課 人已關係與分際

【解析】(A)圖表顯示出女性申請育嬰人數較男性多，為社會性別分工之現象；(B)由此圖僅能看出申請者之性別，無法得知其婚姻狀況；(C)玻璃天花板為女性在職場上升選的隱形障礙。此處無法判斷此一訊息。

19. (A) 【難易度】★★★

【出處】公民與社會(一) 第二課 人已關係與分際

【解析】(A)法律保障不同性別皆享有相同權利育嬰留停，但就圖表資料可知女性申請育嬰留停之人數明顯多於男性，可見性別刻板印象之影響，與社會對不同性別角色之期待；(B)性別歧視指因循性別偏見的態度，進而對不同性別者採行之不平等具體的行為、作法或制度。然《性別平等工作法》對不同性別賦予之權利並無異同，故非性別歧視；(C)性別職業區隔指職場中不同性別勞動者，依性別分別集中在不同職業之現象。然題幹資訊僅可見育嬰留職停薪(暫時性離開工作職場)核付件數，未見不同性別分占不同職業之描述；(D)異性戀霸權指將愛情、性行為、婚姻及生育後代，四者加以結合，使異性戀在一社會中占有主要優勢地位。然此處之社會分工情勢與性別刻板印象較為相關，與性傾向並無直接關聯。

20-21 為題組

20. (B) 【難易度】★★★

【出處】公民與社會(一) 第七課 文化與位階

【解析】(A)由表 1 可知，臺大入學學生集中在雙北城市，為區域發展不均之展現；(B)由表 1、表 2 可知，隨著考試入學的比例降低，城鄉差距也有減少(表 2 顯示考試入學的比例由 2001 年的 85% 降至 2014 年的 37%；表 1 顯示 2001~2003 區間考進臺大的學生中雙北市占的比例為 57.24%，而到 2011~2014 此區間，比例降為 49.97，有降低的趨勢，而原先學生比例極低的地區，像是連江縣、澎湖縣、金門縣等，都有增加的趨勢。因此判斷有部分減緩城鄉差距)；(C)即便考試入學比例降至 37.6%，但是雙北考上臺大之比例仍有 49.97%，可見除了考試之外，臺北學生在其他升學方式中仍有部分管道相對其他地區具有優勢；(D)連江縣雖入學人數少，但題文資訊中並未說明連江縣該年度之應考學生人數為何，故無法推論連江縣考上臺大之比例較低。

21. (D) 【難易度】★★★

【出處】公民與社會(一) 第七課 文化與位階

【解析】(A)雙北地區學生占臺大學生來源比例降低，然降低幅度不大，由此可見家庭之經濟資本仍舊對社會階級再製產生一定影響，而非全然無用；(B)社會資本指透過社會網絡來動員的資源或能力的總和(如人脈關係等)，偏鄉地區家庭所得及父母親教育程度等資源多半較都會地區寡少，故難以推論偏鄉地區社會資本豐厚；(C)臺大學生多來自都會地區，可見升學能力與家庭所

得、父母教育程度有正相關之結論，然在資料中未見對臺灣內部不同文化族群之細部討論，難以得知其中是否隱含對特定文化具體不公平之作法；(D)由題幹敘述可知，「升學能力和家庭所得及父母親教育程度均成正相關」，家庭所得及父母親教育程度等對文化資本之累積影響甚巨，故可推論考試入學表現較佳之雙北地區學生，其家庭之文化資本較其他地區豐富。

22. (C) 【難易度】★★★

【出處】歷史(一) 第二篇 清朝統治時期

【解析】晚清、日治初期，臺灣客家人口主要分布在桃竹苗(俗稱北客)、高屏(俗稱南客或六堆)、花東縱谷等地，故選(C)。1897 年(日治初期)，在族群的地理空間的分布上：(A)泉州人多住在西部沿海地區；(B)漳州人多居住在內陸平原地區；(D)在臺日本人則主要分布在臺北地區。

23. (D) 【難易度】★★★

【出處】歷史(一) 第一篇 早期臺灣

【解析】解題的關鍵在銀幣燒熱、打造成薄片，「以製造男子的頭盔」。臺東蘭嶼的達悟族，是臺灣唯一擁有冶金工藝技術的原住民族，銀盔的製作便是代表。蘭嶼並不產銀，根據研究，製作銀盔的原料來源主要是觸礁沉沒商船上的銀幣或透過交易所取得的銀元。達悟族人在新船下水、新屋落成或飛魚祭等特殊場合時，男子會盛裝，且頭上佩戴銀盔等珍貴裝飾。

24. (A) 【難易度】★★★

【出處】歷史(一) 第一篇 早期臺灣

【解析】荷蘭時期，臺灣長官一面透過年度地方會議，宣布重大政策、任命長老、授與權杖，賦予長老權力與榮耀；一面透過此一動員，確立公司與村社的盟約關係，維繫對全臺原住民的統治。(D)贖社是荷蘭時代原住民各社的(稅賦)承包制度。荷人將鄰近番社區域的徵稅權利，以定期拍賣的方式交給地方上的有力商人承包。獲得徵稅權的商人，每年有向公司繳納相當於一定稅額的義務，其餘的收益則皆歸商人自己所有。

25. (A) 【難易度】★★★

【出處】歷史(一) 第二篇 清朝統治時期

【解析】馬偕自 1872 年抵達淡水，至 1901 年去世，總共 29 年奉獻給北臺灣。他於 1882 年設立「牛津學堂」(理學堂大書院)、1884 年創辦「淡水女學堂」，創新臺灣教育。他行腳淡水、宜蘭、花蓮等地，進行醫療佈道，利用奎寧治療瘧疾，或替有牙疾的人拔牙，接近臺灣鄉土與群眾。1879 年成立「滬尾偕醫館」，就是現今「馬偕紀念醫院」的起源。他熱愛臺灣，認同臺灣，死後葬在淡江中學的馬偕墓園。

26. (C) 【難易度】★★★

【出處】歷史(一) 第一篇 早期臺灣

【解析】〈平臺紀略碑記〉施琅簡述其平臺經過，並及安撫措施與善後處置，是臺灣現存最早的清代碑刻。解題的關鍵在「天威遐播，遂入版圖」，以及「為置郡一、縣三，分水陸要地設官兵以戍之」，設置行政區域與派駐官兵同是納入版圖的具體事證。(A)首句「臺灣遠在海表，……未有所屬」，但施琅於康熙 22 年平臺後，次年「臺灣已歸入滿清版圖」；(B)鄭克塽投降後，清朝將他移往北京；文武官兵以及平民百姓，分別遷往中國大陸內地各省任職或墾荒，並非僅限於福建省；(D)荷蘭、鄭氏時期，臺灣都是國際貿易的重要據點，但清朝前期貿易範圍反而限縮為兩岸貿易。

27. (C) 【難易度】★★★

【出處】歷史(一) 第三篇 日本統治時期

【解析】引文是吳新榮〈霧社出草歌(唱山歌調)〉。1930 年霧社事件發生後，在日本東京留學的吳新榮即寫下此詩，後來 1946、1966 年曾作兩次修訂。詩文模擬霧社原住民口氣來陳述日本人的欺凌，並藉由「日日強迫無錢工」、「搶我田地占我山」等詩句來控訴日本人壓榨賽德克族的人力資源、掠奪山地自然資源。「古早都敢反一過」指前期的武裝抗日；「高嶺深坑飛未過」以無法飛越險峻的地形，象徵無法穿越現實生活中的阻礙。最後則表明原住民人數雖少，也沒有先進的武器，卻敢於勇敢反抗強權的戰鬥意志。

28. (C) 【難易度】★★★

【出處】歷史(一) 第二篇 清朝統治時期

【解析】1886 年，臺灣首任巡撫劉銘傳以臺灣「孤懸海外，往來文報，屢阻風濤」，奏請清廷鋪設電報線。他在陸上架設了臺北到安平、基隆、淡水，連通南北的電報線；海底電纜則有兩條，一條是安平到澎湖，長 53 海哩；另一條由臺北滬尾到福州石川島，長 117 海哩，成為中國電信史上第一條海底電纜，直接溝通了臺灣與大陸之間的聯絡，於 1888 年完工。至於新近鋪設的兩岸海底光纖電纜的線路有兩條，一條是廈門—金門；一條是福州長樂—臺北淡水。前者 2012 年 8 月完工，後者 2013 年 1 月完工啟用。(A)牡丹社事件沈葆楨奉命來臺，在來臺前後，上奏討論臺灣防務，即提到架設電報線以通消息，但因價格等問題而未能建成；(B)光緒 3 年(1877 年)丁日昌曾架設臺灣府至安平及臺灣府至旗後的電報線；(D)臺灣未任巡撫，未有架設電線之事功。

29. (C) 【難易度】★★★
 【出處】歷史(一) 第二篇 清朝統治時期
 【解析】18世紀後期，原居臺灣中部西海岸平原的平埔族群，因土地、資源大量被漢人奪取，19世紀初次第展開族群大遷徙。1823年(道光3年)接受埔里社番的邀約，開始有計畫地遷入埔里盆地，逐漸建立平埔主體社會。但牡丹社事件後，1875年(光緒元年)清廷增設埔里社廳，積極推動開山撫番政策，解除了禁入番界的禁令，加以官方強力推動同化政策，埔里平埔族人又逐漸喪失土地，走向弱質。(A)1804年，中部平埔族已遷往蘭陽平原，早於1823年開始遷入埔里盆地；(B)1787年(乾隆51年)林爽文事件後實施番屯制度，平埔族群主動或被動地移居土牛線界，成為清廷守衛番界的主力；(D)統治者的政策強迫平埔族人同化，又剝奪其原住民族身分，平埔族人喪失大部分的語言和文化，被漢人稱為消失的族群，但其實他們只是融入漢人的主體社會，成為少數、弱勢，並非真正消失。
30. (B) 【難易度】★★★
 【出處】歷史(一) 第一篇 早期臺灣
 【解析】據考古與文獻資料，北部的原住民與外界是有貿易往來的，但大多是與陌生的海外來客進行零星交易，且交易規模小，主要為以物易物，如以硫磺、鹿皮、黃金等，交換鹽、布、鐵等日用品。其中，卑南文化的人獸形玉珠、花蓮豐田的玉材及玉器，也曾在臺北地區圓山文化遺址、十三行遺址出土，證明島內的交易行為是存在的。(A)於草配給給西班牙人、菲律賓土著士兵及勞工，因臺灣冬季寒冷，他們來自熱帶地區，吸菸草禦寒氣；(C)陶器、織布非交易商品；(D)物物交易的形式為主，尚未完全進入貨幣經濟階段。
31. (C) 【難易度】★★★
 【出處】歷史(一) 第一篇 早期臺灣、第二篇 清朝統治時期
 【解析】丙：約1630年代，荷蘭人招募中國大陸華工來臺插蔗植稻，發展米糖農業，稻米大多島內自給，因此除鹿皮外，糖是外銷重要的農產品。鄭氏時期維持米糖生產，更鼓勵稻米增產，以供給軍需民食，因此糖仍然是國際重要商品。一直到清朝初期，臺灣經濟仍屬於糖業絕對優勢時期。丁：到了1700年代(康熙30年代)，出現大規模水圳建設，如八堡圳等，水田化使得精耕稻米農作快速成長，超越糖而為最大出口品，米糖出口至大陸交易民生用品，此可稱為米優於糖時期。甲：1860年代臺灣開港通商，開港前英商已到基隆、梧棲交易樟腦，19世紀中晚期，樟腦的用途又擴大，成為製作無煙火藥、賽璐珞、影像膠捲的原料，世界性的需求大增，因此開港後，樟腦出口激增，獨樹一幟。乙：1860年代開港後，臺茶方快速發展，得力於英商陶德於1866年攜帶安溪茶苗來臺，並貸款農民栽培、製作；1869年，運銷美國紐約，從此「Formosa Oolong Tea」(臺灣烏龍茶)市場大幅擴張。
32. (D) 【難易度】★★★
 【出處】歷史(一) 第二篇 清朝統治時期
 【解析】18、19世紀，繼臺灣西部平原開發後，蘭陽平原和埔里也相繼拓墾，臺灣米糖農產豐富，但手工業不發達；反之，福建缺米，華中、華北缺糖，但手工業發達，因此兩岸貿易興盛，形成互補經濟體制。臺灣出口米、糖、花生油、藍靛等農產品至大陸，而自大陸進口紡織品、瓷器、建材、日用品等。引文指出大陸進口廉價的南洋米，造成臺灣米穀滯銷、穀賤，臺地困窮，結果臺灣沒有米船通航大陸，而廈門也沒有商船往來臺灣。(A)(B)引文「內地食洋米」是指中國大陸廣東、福建進口南洋米取代臺灣米；(C)1860年代臺灣開港通商以前，主要的貿易對象就是中國大陸，1853年之前的兩百年左右日本海禁鎖國。
33. (C) 【難易度】★★★
 【出處】歷史(一) 第二篇 清朝統治時期
 【解析】這場戰爭稱為「樟腦戰爭」或「樟腦糾紛」。19世紀中葉，樟腦成為製作無煙火藥、賽璐珞、影像膠捲的原料，世界性的需求大增，使得臺灣樟腦的貿易出口量逐年大幅成長。在臺灣正式開港後，英國洋商獨占臺灣樟腦貿易，1863年清政府將樟腦收為專賣，英商必麒麟(Pickering)在梧棲收購樟腦、走私出海，遭官員查緝和追繳，此後雙方時有衝突。1866年談判失敗，1868年爆發安平海戰，事後簽訂《樟腦條約》，其主要內容是：廢止樟腦專賣；准許洋商買辦樟腦；賠償英國洋行和教會樟腦損失；撤換抵抗英軍的官員。
34. (C) 【難易度】★★★
 【出處】歷史(一) 第四篇 中華民國時期：當代臺灣
 【解析】國內戰期間，為了「確保臺灣之安定，俾能有助於戡亂工作的最後成功」，1949年5月19日臺灣省政府主席兼警備總司令陳誠頒布《臺灣省戒嚴令》，至1987年7月14日總統蔣經國宣告解嚴，臺灣實施戒嚴時間長達38年。依據戒嚴令，政府頒布《懲治叛亂條例》、《戡亂時期檢肅匪諜條例》、《違警罰法》、《新聞紙雜誌圖書管制辦法》等相關法令，限縮人民權利，厲行社會控制和威權統治。
35. (A) 【難易度】★★★
 【出處】歷史(一) 第三篇 日本統治時期
 【解析】旅臺日本畫家國島水馬(本名國島守)，以「水馬生」、「水馬」的筆名，繪製漫畫，在《臺灣日日新報》連載，時間長達20年。這艘「碗公船」(臺灣船)過往只是依賴日本內地在無風無浪的大海上漂浮，財政仰賴內地，稅收享有優待，如今則備有名為「高雄」的引擎，準備航向南洋。在諷刺漫畫的構圖中，島民

經常被畫成兒童的圖像，是站在「被指導的兒童」的一方，日本人的角色則大都是「指導者的大人」，正如坐在島民身旁，穿著制服、戴著官帽、留著鬍子的男子，象徵著統治者「長官」(大人)。(B)主要指市區改正、早期都市設計；(C)以高雄為南進南洋的前哨基地；(D)當時的口號是「農業南洋，工業臺灣」。

36. (D) 【難易度】★★★
 【出處】歷史(一) 第三篇 日本統治時期
 【解析】解題的關鍵在「附近居民須負連帶責任」，有違憲政、法治和人權。1898年(明治31年)起施行的《保甲條例》規定，保甲民對於保甲內他人的犯罪行為負連坐責任而被科以罰金，如有被判處重罪者，甲內各家長應處以10元以下的罰金，除非事先已經發覺犯罪人且已經向官府申告。當初頒布《保甲條例》是為了鎮壓匪徒——武裝抗日份子，使人民互相監視，作為警察的輔助機關，用來控制臺灣社會、鞏固殖民統治；在治安逐漸穩定後，則轉為地方行政的輔助機關；在皇民化運動時期又成為戰時動員組織，直到1945年6月才廢除。
37. (D) 【難易度】★★★
 【出處】歷史(一) 第四篇 中華民國時期：當代臺灣
 【解析】引文是臺大教授林茂生(1887~1947年)，號耕南，發表於《前鋒》第一期創刊「光復紀念號」(1945年10月25日)的一首七言律詩，以「楚囚」自況身為日本殖民的孤憤，歡欣臺灣回歸中國大陸。解題的線索一：「痛心漢土三千日，孤憤楚囚五十秋」，意指中國對日抗戰八年、臺灣被日本統治50年。線索二：「一聲和議黯雲收，萬里河山返帝洲」，指日本戰敗接受《波茨坦宣言》、放棄臺澎。(A)基隆有淪陷，是在滬尾(淡水)拒退法軍登陸；(B)馬關條約臺灣割日，不知會被統治50年；(C)詩文內容沒有提到民主共和。
38. (D) 【難易度】★★★
 【出處】歷史(一) 第三篇 日本統治時期
 【解析】蔣渭水領導的「臺灣民眾黨」，在黨綱大要「三、改除社會制度之缺陷」中提出「革除社會陋習」，包括「打倒阿片」。日本殖民統治者為了長期壟斷鴉片專賣利益，變相縱容吸毒，連續增發特許吸食鴉片執照。為此，臺灣民眾黨在全臺舉辦「打倒阿片大演講會」、進行抨擊，並致電日本內閣，還突破重重封鎖致電國際聯盟，控訴臺灣總督府的鴉片「毒臺」政策。迫使總督府不得不改變新特許規定，並設立更生院(即戒毒所)。
39. (C) 【難易度】★★★
 【出處】歷史(一) 第三篇 日本統治時期
 【解析】日治初期，臺灣總督府以臺北為重點，於1899年、1901年公告兩次「市區(街)改正計畫」，重點是拆除臺北城牆、改建西門町作為日本新移民住宅、改善水溝與基礎道路。1905年(明治38年)發布全臺北廳市區改正計畫。市區改正僅是應急、局部性的都市改造措施，在考量市區整體發展後，逐步由市區改正演變為市區計畫，之後再進一步成為1930年代正式的「都市計畫」。圖中明信片原說明文字：「(右上)20年前的臺北西門街道、(左下)現在的臺北西門街道」，將1895年與1915年的西門街(約今衡陽路西段，1922年改稱「榮町」)兩張圖照對比，展現殖民統治的成果。
40. (B) 【難易度】★★★
 【出處】歷史(一) 第三篇 日本統治時期
 【解析】1898年，兒玉總督與後藤新平根據「六三法」頒布〈匪徒刑罰令〉。表中自1898年至1902年間，被殺害的匪徒有11,950人，其中僅有四分之一是經過法律程序。日治初期，所謂「匪徒」所指涉的可能包含武裝抗日者以及社會治安的破壞者，總督府意圖以「匪徒」之罪來加諸於「抗日軍」身上，目的在鎮壓武力反抗運動，例如1915年(大正4年)的噍吧哖事件即採用此法定罪。 (A)1897年總督乃木希典頒布，次年兒玉總督廢除；(C)時間在1920年代；(D)以懷柔手段誘降抗日者，但總督府往往背信，再以「匪徒」名義加以討伐或屠殺，例如後壁林事件林少貓被招降、襲殺。
41. (B) 【難易度】★★★
 【出處】歷史(一) 第四篇 中華民國時期：當代臺灣
 【解析】引文中的官員尹仲容先生(1903~1963年)，曾於1949年擔任臺灣區生產事業管理委員會(生管會)副主委，主司產業復興與對外採購。1950年兼中央信託局局長。1953年接任行政院經濟安定委員會工業委員會召集人，並統籌工業美援之申請及運用。1954年短期接任經濟部長兼中央信託局局長。他推行麵粉代米運動主要是1953年~54年，目的在開源節流，穩定經濟，配合美援的麵粉、棉花進口，臺灣發展麵粉工業和紡織工業，結合進口替代政策，賺取外匯。
- 42-43 為題組
 42. (A) 【難易度】★★★
 【出處】歷史(一) 第二篇 清朝統治時期
 【解析】彰化古稱半線，原屬諸羅縣，朱一貴事件後，1723年以大甲溪為界，溪南劃分為彰化縣。1731~1732年起因於長期繁重的勞役，爆發大甲西社反清事件，擴大為中部平埔族從今天的彰化到通霄沿線的十餘社串連起義，群起包圍彰化縣城，但被殘酷殺戮鎮壓。(B)(C)林爽文、戴潮春兩人背後與臺灣天地會有關，而他們也都以戰略位置重要的八卦山區作為戰場；(D)導火線是劉銘傳官方清丈土地不公所致，其起事地點就在彰化。(B)(C)(D)三者原漢都有介入，但以漢人為主。

43. (C) 【難易度】☆☆☆
 【出處】歷史(一) 第三篇 日本統治時期
 【解析】1895年(乙未年)，日軍由澳底登陸，準備接收臺灣。在基隆、臺北、桃園淪陷後，苗栗鄉紳吳湯興集結了苗栗秀才徐驥以及北埔金廣福後人姜紹祖等地方勢力，組成客籍義勇軍守衛家園，在新竹、苗栗失守後，退守彰化，與當時黑旗軍統領吳彭年會合，在八卦山戰役與日軍激烈交鋒，終遭失敗。由於吳湯興、姜紹祖、徐驥都是乙未戰爭中客家族群的抗日領袖，而有「客家抗日三傑」的美稱。
44. (A) 【難易度】☆☆☆
 【出處】地理(一) 第二章 地圖學
 【解析】(A)北京(西北風)；(B)臺北(東北風)；(C)里約；(D)倫敦(西風)。
45. (D) 【難易度】☆☆☆
 【出處】地理(一) 第三章 地理資訊
 【解析】(A)向量模式面資料；(B)向量模式線資料；(C)向量模式點資料；(D)網絡模式。
46. (D) 【難易度】☆☆☆
 【出處】地理(一) 第五章 氣候與水文
 【解析】中美地峽大西洋岸因東北信風從加勒比海吹入溼潤的暖風，故使得原本的熱莽，變成了特別的熱雨氣候。南非東側的馬達加斯加島，也因東南信風吹入形成島上同時有熱莽和熱雨的情況。
47. (B) 【難易度】☆☆☆
 【出處】地理(一) 第四章 地形
 【解析】從報導中「土壤液化」可找到答題線索，臺南市包括永康、新市、中西及安南區等，都有多處土地液化，土地液化地區大部分是在河邊或海邊，地下的水位較高處。
48. (C) 【難易度】☆☆☆
 【出處】地理(一) 第四章 地形
 【解析】蛇丘為冰水堆積；沙丘為風力堆積；濱外沙洲為海積地形；鼓丘為冰河堆積。故淘選度劣到優依序為丁甲丙乙。
49. (C) 【難易度】☆☆☆
 【出處】地理(一) 第二章 地圖
 【解析】由題圖可判斷丁處為西經90度，而乙處為本初經線。因此：12/21下午2:00在丁處出發時，乙處應為12/21下午8:00。接著再加上飛行8小時：12/21下午8:00+8小時=12/22上午4:00。
50. (A) 【難易度】☆☆☆
 【出處】地理(一) 第三章 地理資訊
 【解析】從文中可以利用不同時期的同一地區的圖進行疊圖分析，並且再以區域分析畫出擴散之範圍。
51. (C) 【難易度】☆☆☆
 【出處】地理(一) 第四章 地形
 【解析】強烈的火山爆發能將二氧化硫為主的氣體噴發出來，當二氧化硫和空氣中的水氣結合，在降雨時常伴隨著酸雨的發生。
52. (A) 【難易度】☆☆☆
 【出處】地理(一) 第五章 氣候與水文
 【解析】陸地水循環：陸地降水=陸地蒸發+地表逕流+地下逕流
 海洋水循環：海洋降水+地表逕流+地下逕流=海洋蒸發
 陸地水平衡：乙=甲+丙+戊
 海洋水平衡：丙+己+辛=壬
 全球水平衡=陸地水平衡+海洋水平衡：
 乙+己+辛=甲+戊+壬
53. (D) 【難易度】☆☆☆
 【出處】地理(一) 第四章 地形
 【解析】文中暗河系統提示了伏流的概念，由此推斷此山水洞應是溶蝕岩洞，昔日溫暖的淺海地區是形成岩溶地形重要的環境條件之一。
54. (A) 【難易度】☆☆☆
 【出處】地理(一) 第五章 氣候與水文
 【解析】世界三大雨林區分別為巴西、剛果共和國、印尼。
- 55-57 為題組 【難易度】☆☆☆
 55. (B) 【出處】地理(一) 第六章 自然景觀帶
 【解析】從題圖中火山山下大安溪旁加上文中「紅外線自動照相機」的字眼，可以推測石虎活動主要於夜間淺山區。
56. (B) 【難易度】☆☆☆
 【出處】地理(一) 第二章 地圖
 【解析】圖示比例尺2cm=250m；從圖中量出兩個路殺點距離長約11cm，因此換算結果約為1375m=1.375km。
57. (C) 【難易度】☆☆☆
 【出處】地理(一) 第四章 地形
 【解析】(A)屬動態的崩塌地形；(B)接近土石流狀態；(D)夏季雨量及颱風較多，所以崩塌較冬季明顯。
- 58-59 為題組 【難易度】☆☆☆
 58. (A) 【出處】地理(一) 第五章 氣候與水文
 【解析】龍捲風屬於溫帶氣旋，好發在春夏交際之時，而美國位於北半球，因此是低壓中心逆時針旋轉。
59. (C) 【難易度】☆☆☆
 【出處】地理(一) 第五章 氣候與水文
 【解析】(A)3低壓4高壓；(B)是北太平洋暖流的延伸；(D)南半球的西風漂流是寒流。
- 60-63 為題組 【難易度】☆☆☆
 60. (C) 【出處】地理(一) 第二章 地圖
 【解析】臺灣堡圖是繪製於日治時期。

61. (A) 【難易度】☆☆☆
 【出處】地理(一) 第二章 地圖
 【解析】從題圖中的一疏一密的分布，加上地名有月眉、三層等地名學的線索，可得知此區域應是河階地形。
62. (C) 【難易度】☆☆☆
 【出處】地理(一) 第二章 地圖
 【解析】網格座標的讀法為先讀橫座標、再讀縱座標，故活動中心位於(296, 2736)的網格之中，其中兩座標軸又再細分為十等分，故為(296500, 2736500)。
63. (A) 【難易度】☆☆☆
 【出處】地理(一) 第二章 地圖
 【解析】利用象限角法判讀方位角。
- 64-65 為題組 【難易度】☆☆☆
 64. (B) 【出處】地理(一) 第二章 地圖
 【解析】領海40-12=28/經濟海域200-40=160，所得約1:5。
65. (C) 【難易度】☆☆☆
 【出處】地理(一) 第二章 地圖
 【解析】正形投影利於各國形狀正確；正向投影利於航海方向正確；方位投影利於中心點到各區方位距離正確；等積投影利於各國面積正確。
- 66-69 為題組 【難易度】☆☆☆
 66. (D) 【出處】公民與社會(一) 第六課 媒體識讀
 【解析】(A)此事件為做事實之報導，但因為媒體不具有足夠時間查證，因此報導與最後事件結果有出入。並非腥羶色之娛樂新聞；(B)依題幹敘述，媒體並未深入調查即搶快報導，進而發出錯誤資訊；(C)媒體之外在監督指「以媒體作為對象，政府、民間、閱聽人監督之」。而題幹敘述，通聯石化應是因媒體之報導接受停工調查。
67. (A) 【難易度】☆☆☆
 【出處】公民與社會(一) 第四課 公共利益
 【解析】(A)美國學者哈定提出「共有財的悲歌」，強調某資源為大眾所共有，則該資源容易因缺乏明確財產權歸屬，而被人們過度使用，最終導致資源損害與枯竭。當地生態環境本身財產權歸屬不明確，故濫用而致使空汙問題難解；(B)迎管效應與鄰避效應相反，人們不排斥甚至歡迎相關項目的落地，認為其能為當地發展帶來好處。由人口外移之情形來看，石化工業園區對當地人而言非拉力，而是推力；(C)當地興建石化工業園區，認為誘因不足者將選擇離開；反之，留下者整體評估誘因相對充足，故選擇繼續居住；(D)錄取工作者所獲之處，乃其本身之付出所致(如勞動後之薪資)，故並非搭便車。
68. (C) 【難易度】☆☆☆
 【出處】歷史(一) 第四篇 中華民國時期：當代臺灣
 【解析】臺灣石化產業的發展過程與國內整體經濟發展的政策有關。(A)1958年至1967年，政府的經濟政策由進口替代轉為出口導向的貿易型態，其中以塑膠製品和紡織產品是出口的大宗，帶動了石化工業的發展契機；(B)1968年，中油第一座輕油裂解廠(簡稱一輕)於高雄煉油廠內完成啟用，石化工業才開始萌芽；(C)1973年至1984年，期間1973年至1979年政府推動十大建設，石油化學工業列為重要計畫之一。在高雄煉油廠內興建二輕、高雄林園工業區興建三輕，因此是石化工業早期、正式、重要的發展階段；(D)1984年位於林園工業區的四輕完工，1986年重新啟動五輕計畫，廠址在高雄市後勁。正值1989年解嚴之後，五輕建廠開始出現環保抗爭，延後至1990年才興建，1994年加入營運。至於由民營公司臺塑在雲林縣麥寮鄉所設立的「六輕」，則遲至1994年動工，1998年開始營運。
69. (D) 【難易度】☆☆☆
 【出處】地理(一) 第四章 地形
 【解析】「崙」為沙丘之相關地名。甲為濱外沙洲；乙為潟湖；丙為湖埔；丁為海灘；戊為沙丘。
- 70-72 為題組 【難易度】☆☆☆
 70. (D) 【出處】公民與社會(一) 第七課 文化與位階，第八課 多元文化社會與全球化
 【解析】(A)資料一顯示，臺東縣政府反對私釀米酒；資料二顯示，原住民族希望保有傳統文化自釀酒的權利。題幹內文與學習融入漢人文化無關。另外，為使族群和諧相處，應使不同；(B)文化相對論認為：每種文化都有其相對價值，無好壞之分，外人不應以我族之眼光來對其他文化加以評價。與此提到之政府、原住民族之衝突不同；(C)積極性差別待遇為積極的保障相對弱勢之族群，施以差別待遇，為立足點的平等。故政府依不同情況所給予之量刑與此無關。
71. (D) 【難易度】☆☆☆
 【出處】歷史(一) 第四篇 中華民國時期：當代臺灣
 【解析】臺灣實施菸酒專賣，始於日治時期。戰後1945年10月在行政長官公署之下，設專賣局接管專賣事業；1947年二二八事件之後，在臺灣省政府之下，設菸酒公賣局，專責菸酒行政管理及產銷，在公賣制度底下，零售商必須擁有「菸酒牌」，才能販售菸酒。至2002年加入世界貿易組織(WTO)時廢止菸酒公賣制度，開放民間產製酒類、菸類，菸酒回歸稅制；臺灣省菸酒公賣局則改制為臺灣菸酒股份有限公司，回歸民間企業經營。
72. (D) 【難易度】☆☆☆
 【出處】地理(一) 第三章 地理資訊
 【解析】空間資料為表達地理現象發生的位置之資料，通常以地圖或座標表現，故森永村防災地圖屬於空間資料。人口總數統計、村辦公室地址及土地利用面積屬於屬性資料。