

107 學年度全國高級中學  
學科能力測驗模擬考試

## 社會考科

—作答注意事項—

考試範圍：第一～三冊

考試時間：110 分鐘

題型題數：

- 單選題共 72 題

作答方式：

- 用 2B 鉛筆在「答案卡」上作答；更正時，應以橡皮擦擦拭，切勿使用修正液（帶）。
- 未依規定畫記答案卡，致機器掃描無法辨識答案者，其後果由考生自行承擔。

祝考試順利



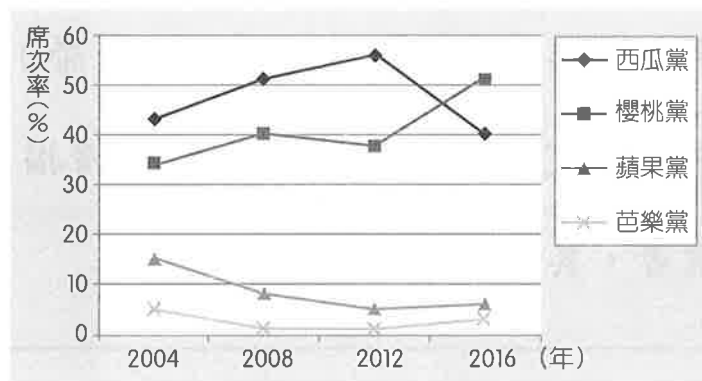
99362305-27

版權所有·翻印必究

◆單選題（占 144 分）

說明：第1.題至第72.題皆計分。每題有4個選項，其中只有一個是正確或最適當的選項，請畫記在答案卡之「選擇題答案區」。各題答對者，得2分；答錯、未作答或畫記多於一個選項者，該題以零分計算。

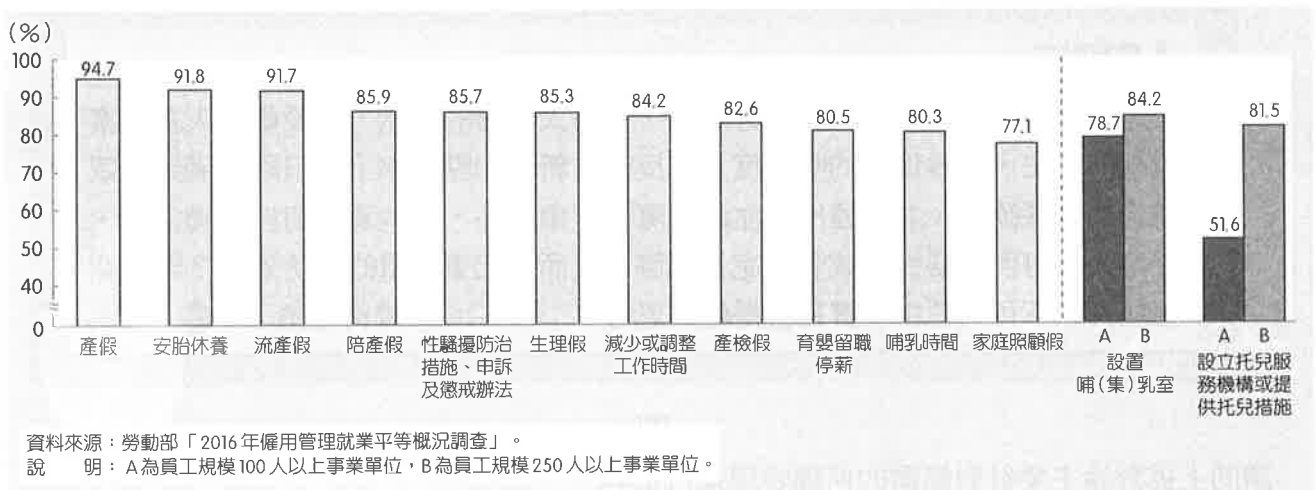
1. 一名男子在臉書社團「爆料公社」公開控訴，他駕車途中遇某知名酒店接駁車司機超車不當，故鳴按喇叭示警，未料在下個路口停等紅燈時，卻遭該名司機飆罵三字經，還要他下車單挑，他十分氣憤地將行車紀錄器影片放上網路，得到四名網友的回應與建議。若以現行相關法律分析本案，哪位網友的回應最正確？  
(A)曉郁：「公然侮辱罪是公訴罪，勸你還是趕快花錢找律師」  
(B)中二：「他想單挑你就打回去，就算打死也算正當防衛，你不用負責」  
(C)傑石：「那個司機太過分了，我是法官，我明天直接去法院幫你提出告訴」  
(D)管掌：「公然侮辱罪是告訴乃論，你在這發文也沒意義，去警察局報案吧」
2. 臺灣安樂死議題因資深體育主播傅達仁癌末前往瑞士尋求執行安樂死，再度引起關注，社會大眾支持、反對意見兩極，也突顯此道德議題的複雜與爭議性。請問下列何者最有可能是「支持」安樂死合法化所提出的論點？  
(A)生命本身即具備最高價值，因此人沒有結束自己生命的權利  
(B)基於生命自主和人性尊嚴的立場，人類應有選擇死亡的自由  
(C)合法安樂死將導致久病且已花費大量醫療資源的人放棄求生意志  
(D)生命價值非僅由身體舒適與否決定，許多身體傷殘者仍積極求生
3. 圖一為某一內閣制國家 2004 年至 2016 年國會選舉之政黨國會席次比例趨勢圖，若根據此發展趨勢判斷，有關該國當前政黨制度運作之情形，下列敘述何者正確？



圖一

- (A)兩大黨為求勝選，相關政見有時趨同而影響選民投票興趣
- (B)國會呈現多元代表性，制定政策較不會忽略弱勢團體權益
- (C)因某大黨長期掌握國會多數黨地位，使小黨較無生存空間
- (D) 2016 年，西瓜黨須與蘋果黨籌組聯合政府才能取得執政權

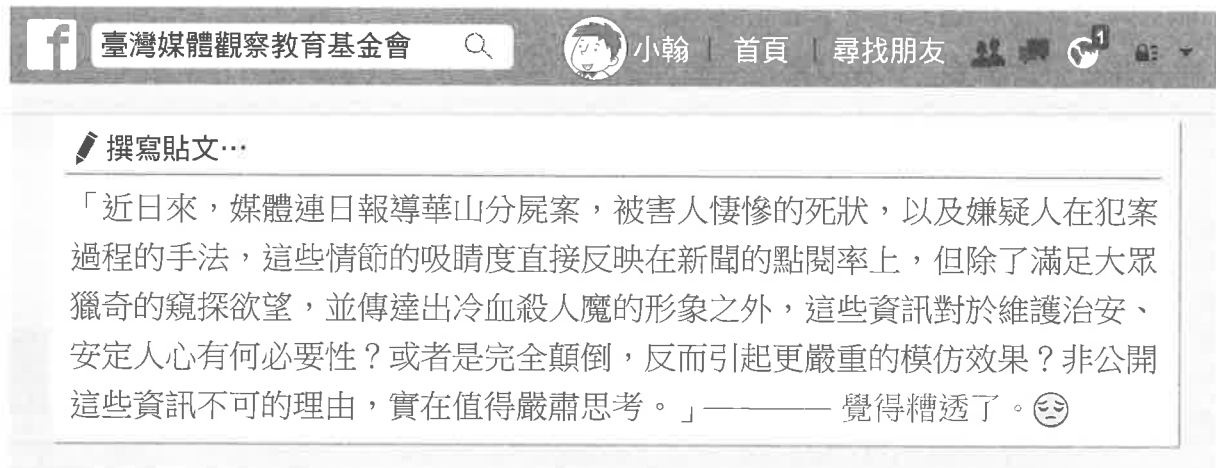
4. 行政院主計總處於今年三月公布「2018 年性別圖像」報告，旨在透過性別統計指標之圖表與分析，了解我國性別處境變化與現況。其中，「2016 年事業單位對《性別工作平等法》各項規定實施情形」呈現如圖二。請問有關此份調查資料的詮釋，下列敘述何者最正確？



圖二

- (A) 事業單位接受女性辦理育嬰留職停薪比例較男性高  
(B) 不同事業規模的事業單位皆能設置完善的哺乳空間  
(C) 在員工規模小的公司上班更可能面臨幼兒托育問題  
(D) 超過八成以上的事業單位能杜絕職場性騷擾的發生
5. 歌手蕭敬騰擔任 2018 年度金曲獎頒獎典禮主持人，其精彩串場以及與歌手們的幽默對話受到觀眾高度肯定。事實上，蕭敬騰的年少歲月充滿挫折，翹課、打架樣樣來，成為所有人眼中的問題學生。後來，是少年輔導組的志工——丁姊，不叫他改變任何行為，而是用「陪伴」感動了他，不只讓蕭敬騰意識到自己對音樂的熱愛，也讓他願意放下暴躁的脾氣重新學習他最愛的音樂。請問若以自我相關理論分析蕭敬騰的轉變，下列敘述何者正確？  
(A) 依據米德之理論，少輔組丁姊是蕭敬騰自我形成過程之概括化他人  
(B) 依佛洛伊德理論，蕭敬騰年少時翹課、打架是超我凌駕本我的展現  
(C) 少年輔導組志工是蕭敬騰能再社會化、重新建立自我認同的主要關鍵  
(D) 依艾瑞克森理論，蕭敬騰年少歲月處於「頹廢遲滯」之心理發展危機
6. 據報載，韓國某女子中學校發布新校規，為不使內衣顏色透出制服，學生應穿著白色內衣上學，此舉立即引發學生不滿，開始一系列抗議行動，在學校各處貼上便條紙示威、填寫請願書展開連署活動，超過百名學生響應。示威開始後，校方原先試圖壓制抗議活動，但學校內部也傳出反對聲浪，認為壓制學生抗議違反教育理念，因此校方臨時宣布，即刻起學生可以自由決定內衣的顏色，也將參考學生意見，討論修訂校規。請問若以人權角度分析此校規爭議，下列評述何者正確？  
(A) 人權保障須考慮各校差異，因該校是女子中學，校規沒有侵犯人權的疑慮  
(B) 學生因未成年，相較於制定校規的校方不成熟，就算校規不合理也要服從  
(C) 最後校方宣布「學生可以自由決定內衣的顏色」旨在保障學生的積極人權  
(D) 該校最後願意參考學生意見做為修訂校規之做法較符合權利本位校規訂定

7. 關心社會議題的小翰，在某網路平臺公開發表想法，圖三是他對媒體的評論內容：



圖三

請問上述評論主要針對媒體的何種表現進行批判？

- (A)新聞臺過度利用分屍案的驚悚照片進行置人性行銷，以提高點閱率
  - (B)報導內容未經過充分事實查證就搶先報導，使閱聽人收到錯誤訊息
  - (C)過度重視收視率的報導方式對閱聽人價值觀形塑可能產生負面影響
  - (D)新聞報導內容對特定性別存有刻板印象，致使閱聽人產生認知歪曲
8. 粽子是端午節的應景食品，連總統蔡英文都在網路平臺上選出 8 種具代表性的粽子，問網友「你挺哪一粽呢？」引來網友熱烈回應。臺灣粽子的主要做法來自中國江浙，經過各地文化與飲食差異，衍生出多種做法，像北部粽的特色是米飯和全熟的配料一起炒過，再徹底蒸熟；南部粽外包裝則多使用麻竹葉，將生或半熟的米與餡料放入粽葉中以滾水煮熟；除了南北粽，客家粽、鹼粽也各有支持者。請問從上述粽子的差異現象，可彰顯文化的哪一項特色？
- (A)南北粽、客家粽、鹼粽因支持者不同而存在文化位階
  - (B)另類全球化使粽子在臺灣各個地域衍生多種另類做法
  - (C)從總統發文評選粽子之行為可知粽子文化屬官方文化
  - (D)粽子的差異現象展現出臺灣飲食生活風格的多元面貌
9. 某知名部落客（28 歲）在網路上公開表示，自己的老婆（25 歲）其實是親表妹（舅舅的女兒），兩人在一次親戚聚會上熟識進而相戀，雙方父母反對他們在一起，故兩人決定共同赴國外求學，求學過程懷了第一胎而決定在國外登記結婚，兩年後又生了第二胎，目前婚姻美滿。請問若以臺灣現行《民法》相關規範分析此婚姻之法律效果，下列敘述何者正確？
- (A)現行民法採登記婚主義，兩人已在外國登記結婚故民法上婚姻有效
  - (B)兩人屬民法禁止之近親結婚，假若後來雙方父母同意，婚姻仍無效
  - (C)依照生子的時機點，第一胎屬於非婚生子女，第二胎屬於婚生子女
  - (D)婚前如無特別約定，雙方未來若離婚將依法定財產制清算夫妻財產

10. 嘉義八掌溪堤防旁發現一具腫脹的外籍移工遺體，警方循線找到嫌疑人陳姓工頭，他坦承該名死亡移工上工第一天就因身體不適暴斃，才會依照印尼習俗（手腳綁死，用沙龍裹覆屍體）處理遺體，因自身僱用非法移工，又擔心其他移工被遣返，才選擇棄屍未報案。請問若以康德「義務論」之道德觀點分析陳姓工頭處理暴斃移工遺體之作為，下列說法何者最正確？
- (A)陳姓工頭僱用非法移工且任意棄屍之做法並非有德之人的德行，故是不道德的
  - (B)陳姓工頭害怕面對法律制裁而遺棄屍體並非出於善意志之作為，故是不道德的
  - (C)陳姓工頭做法符合印尼習俗，能尊重移工母國文化處理遺體，其行為是道德的
  - (D)陳姓工頭使其他移工不被遣返亦避免自身吃官司，以結果而論其行為是道德的
11. 某日，在國道上開長途車的小吳因精神不濟，撞上前方一輛自小客車，導致該車後半部嚴重毀損，所幸無任何傷亡。針對此車禍引發的糾紛，當事人接續可以尋求哪些途徑解決私權紛爭？
- (A)向法院提起民事訴訟，在法官面前相互讓步達成協議，做成和解筆錄
  - (B)赴調解委員會申請調解，調解成功所成立的調解書即有法院判決效力
  - (C)雙方當事人私下自行商談賠償金，協議成功簽訂具判決效力的和解書
  - (D)至法院提起民事訴訟而進入強制調解，當事人須接受強制調解之結果
12. 「憲政主義」亦可稱為憲政精神，是一套政治價值與願望，反映出人民希望透過憲法的牽制來規範政府的治理行為，建構有限政府，以保障人民對自由權利之欲求。請問下列何項作為較能彰顯憲政主義之精神？
- (A)某無黨籍人士依《公職人員選罷法》登記參選年底之直轄市市長選舉
  - (B)科技公司老闆依新修正之《勞動基準法》與受僱者重新訂定勞動契約
  - (C)屏東縣縣長因實施道路拓寬拆遷引發爭議，而到議會接受議員的質詢
  - (D)某地方政府在無法律規範下，要求學校利用人臉辨識系統方式來點名
13. Google 和聯合國將合作把大量的原始衛星影像和資料去蕪存菁，再上傳可供公開審閱的線上平臺，藉以顯示水生生態系統變遷及各國如何透過管理以減少水資源流失。該平臺預定 2018 年 10 月上線，由於許多國家都是共享水資源，這類資訊可用於鼓勵鄰近國家展開策略合作，進行河川或湖泊管理。請問上述議題運作最能彰顯聯合國之何項功能？
- (A)維持國際安全與秩序，避免國家間爭奪水資源
  - (B)提供人道救援與協助，保障弱勢團體之生存權
  - (C)關注全球的生態環境，促進自然資源永續利用
  - (D)推動國際間經貿合作，設立組織協調經濟事務
14. 「程序正義」是指法律程序應合乎公平正義的要求以追求實質正義，目前我國多種法律制度皆強調程序正義的保障，請問下列做法何者較符合我國基於正當法律程序而發展的法律制度？
- (A)為防止重大嫌疑犯湮滅證據，授予檢察官可逕對重大嫌疑犯進行羈押
  - (B)無律師幫犯罪情節重大嫌疑犯辯護時，法院指定公設辯護人為其辯護
  - (C)行政機關經人民檢舉發現嚴重違建房屋，可不通知屋主直接強制拆除
  - (D)為保護決策制定者，政府可以拒絕所有人民申請閱覽行政卷宗的要求

15.、16.題為題組

- ◎ 臺灣某記者被外派至某內閣制國家報導當地行政首長產生過程，以下報導內容是該記者所見所聞，表一則是選舉結果統計數值，請據此回答問題：

2018 年 5 月 20 日 功德報／整理報導

此次大選於當地時間 6 點整落幕。由 A 領導之甲黨一如預期，以 30 % 得票率擊退各個對手；勁敵 B 領導之乙黨以 20 % 辛苦緊追在後。

A 雖然順利當選，但甲政黨得票率卻比預期下滑許多，A 在得知選舉結果後一小時內發表演說，除感謝支持者，也承認結果不如預期，未來政府不能只靠甲黨，勢必與其他小黨共組聯合政府。

表現超出預期的還有丙黨與丁黨，分別以 10 %、9 % 得票率，排名國會第四、第五名。丙黨在上次大選中因未能突破政黨門檻遭淘汰，如今強勢回歸，可望成為聯合政府的首選。

表一

政黨	選區席次	政黨得票率	政黨名單分配	總席次
甲	185	30 %		a
乙	59	20 %		
丙	3	10 %		
丁	0	9 %	b	
戊	5	15 %		
己	2	8 %		
庚	46	8 %		c
總和	300	100 %		d
備註	國會法定總席次為 600 席，政黨門檻為 5 %			

15. 根據上述報導內容判斷，有關該國政府體制運作情形，下列敘述何者正確？  
(A) 行政首長亦為國會議員，若內閣施政失去國會信任，國會可行使倒閣權  
(B) 總統與總理皆有行政實權，若總統與總理分屬不同陣營則形成左右共治  
(C) 無行政實權之國家元首有頒布國家法令之權，對法令施行負有政治責任  
(D) 最高行政首長由選舉產生，若不接受國會通過之法案可行使覆議否決權
16. 若此民主國家國會選舉制度採取「混合制之聯立制」，則其選舉結果 a、b、c、d 統計之數值，下列何者正確？  
(A) a 應填入 180  
(B) b 應填入 27  
(C) c 應填入 94  
(D) d 應填入 605

17.、18.題為題組

- ◎ 公民投票是當前民主政治中的重要制度之一，我國在 2003 年底正式施行《公民投票法》，然實施以來引發諸多爭議。基於此，立法院於 2017 年 12 月 12 日三讀通過《公民投票法》部分條文的修正，主要改變如下：廢除公投審議委員會、下修公民投票年齡至 18 歲、可電子提案與連署、可不在籍投票、大幅調降公投提案／連署／通過門檻、新增行政院提案等。
17. 根據《公民投票法》最新修法內容推論，本次修法實施後可能造成的效應為何？
- (A)提高直接民權實施的制度性障礙  
(B)擴增年輕人參與公共事務的空間  
(C)降低公投權利行使措施的便利性  
(D)漸用公民投票制度取代代議政治
18. 若新修正之《公民投票法》生效施行後發現法律條文有重大疏漏而有再次修正的必要，根據我國現行法律制定之相關規範，應採取何項程序進行修正？
- (A)司法院可就原《公民投票法》有爭議之處提出新法律修正案  
(B)行政院取得總統核可後，向立法院提出法律覆議案要求修改  
(C)人民透過陳情、請願、遊說促使政府或立委提出法律修正案  
(D)大法官會議主動宣告《公民投票法》違憲，立法院進行修改

19.~21.題為題組

- ◎ 在民間團體關注海洋塑膠污染以及禁塑民意推動下，環保署於 2018 年 6 月 8 日正式預告限用一次性塑膠吸管的政策草案，明定自 2019 年 7 月起，4 大類共 8,000 家業者不得提供內用者一次用塑膠吸管。環保署指出，歷年淨灘活動統計結果發現，一次用塑膠吸管為海灘常見廢棄物，考量塑膠吸管質輕、容易取得、體積小，使用後隨意棄置，而於環境中流布，衍生嚴重的生態與環境汙染。因此，環保署依《廢棄物清理法》第 21 條授權，草擬「一次用塑膠吸管限制使用對象、實施方式及實施日期」草案，若違反規定，可依規定處以罰鍰。
19. 若以公共利益相關論述分析上述政策的制定與內容，下列敘述何者正確？
- (A)此項政策若為民眾帶來購物上的不便，將不符合效益主義觀點  
(B)輿論與公益團體是敦促政府制定符合公共利益政策之重要力量  
(C)此項政策若導致業者之商業利益下降易形成「共有財的悲劇」  
(D)由本案可知，國家擬定公共政策不會對公共利益產生負面影響
20. 依據題幹敘述，文中畫線處屬於政府決策過程之哪一步驟？
- (A)議題設定  
(B)政策執行  
(C)政策合法化  
(D)政策宣導
21. 環保署「必須依據《廢棄物清理法》之授權」，草擬一次用塑膠吸管限制使用對象、實施方式及實施日期之具體做法，請問上述做法符合下列何項行政法原理原則？
- (A)比例原則  
(B)平等原則  
(C)誠實信用原則  
(D)法律保留原則

22.、23.題為題組

- ◎ 行政院於 2017 年底通過《勞動基準法》修正草案（一例一休 2.0），然而針對此次修法，勞方團體難以接受。高教工會表示，此次修法嚴重傾向資方，將使得臺灣社會陷入全面過勞的危機，讓勞工人權大倒退；婦女新知基金會祕書長亦批評，臺灣勞工的工時已經過長，修法將讓臺灣的職場健康保護直接倒退 30 年。針對不滿，勞工團體號召勞工應團結一心，未來將依法舉辦大遊行，向立法院表達「堅決反對《勞基法》修惡」的決心。
22. 公民結社係指人民為達成特定目標而參與、組成持續運作之團體，請問下列有關「高教工會」、「婦女新知基金會」之相關敘述，何者正確？
- (A)若依團體組成結構區分，「高教工會」屬於非正式團體  
(B)若依組成目的區分，「婦女新知基金會」屬於營利組織  
(C)人民可以志願組成「高教工會」係因《憲法》保障人民有參政權  
(D)若依《民法》對團體之分類，「婦女新知基金會」屬於財團法人
23. 從「勞工團體號召勞工應團結一心，未來將依法舉辦大遊行，向立法院表達堅決反對《勞基法》修惡的決心」，可看出志願結社與民主的關係為何？
- (A)人民動員社會資本以獲得行動資源，藉以關注公共事務並促進民主政治  
(B)志願結社削減個人在社會中的力量，對於民主政治的發展並無實質助益  
(C)勞工團體是政府與人民的溝通橋梁，扮演影響與監督政府決策的第四權  
(D)透過公民不服從之手段，反抗惡法以追求社會公平正義與促進政治民主

24.、25.題為題組

- ◎ 璇璇在看有關於中國近代外交史的電影發現：「有位外交官在某國際大會中以中國協助提供大量華工，來駁斥日本所提之中國毫無貢獻論。」身為一個歷史系的學生，璇璇開始動手找資料，並意外發現了一份法國報紙：《L'Excelsior》的舊記事。《L'Excelsior》在 1916 年 8 月 22 號的頭版新聞上這樣描述：「這些華工是通過仔細挑選招來法國的，他們大部分來自中國的北方，他們比安南人更加能忍受我們國家的氣候。另外，醫療體檢報告結果認為絕大部分的華工身體健壯，這對我們國家繼續在那兒招工是一個好消息。」
24. 關於法國招募華工一事，以現代眼光來看，下列做法何者最符合人權保障的精神？
- (A)允許華工與法國當地勞工享有不同程度的人身自由權  
(B)若法國處於戰爭特殊時期，華工之自由權可無限限縮  
(C)依照當初與華工簽訂的勞動契約內容給予工作酬勞  
(D)招聘機構依醫療體檢報告結果給予不同的薪資待遇
25. 根據題幹文章所述，請問法國要招募華工的目的是：
- (A)普法戰爭中，需要華工做後勤建設  
(B)第一次世界大戰，需要大量華工建築壕溝及防禦工事  
(C)經濟大恐慌爆發，法國需要大量便宜的外勞來降低薪資成本  
(D)法國需要大量華工來修築馬其諾防線



26. 臺灣開發史中與開墾相關的地名，下列何者正確？  
(A)九份、七股與結首制有關  
(B)赤崁樓是閩南人取自西班牙文原名諧音而來  
(C)前鎮、林鳳營係指鄭氏時期在臺開墾的軍屯制  
(D)嘉義是為嘉許朱一貴事件中的諸羅義民而更改
27. 劉銘傳的改革，係以居民自己負擔為原則，可說是一種「就地取材主義」，並非來自中央投資。向朝廷上奏「三至五年之後，將以臺灣之財收自給自足」。請問他籌措財源（開源）的主要方法為何？  
(A)丈田清賦 (B)推廣經濟作物 (C)建立新式工業 (D)發展交通礦業
28. 臺灣文化協會成立之初是一個資產階級與知識分子為主組成的民族主義文化啟蒙團體，該會章程規定：「以助長臺灣文化為目的」，1921年（大正10年）10月17日下午一點起，於臺北市大稻埕靜修女子學校（今靜修女中）舉行創立大會。下列有關「臺灣文化協會」對臺灣社會的貢獻，何者正確？(甲)提升臺灣文化(乙)喚醒民族意識(丙)促進社會改造(丁)增加就業機會  
(A)(甲)(乙)(丙) (B)(乙)(丙)(丁) (C)(甲)(乙)(丁) (D)(甲)(乙)(丙)(丁)
29. 公元前6世紀，尼布甲尼撒二世又一次率領軍隊對耶路撒冷發動了第二次圍攻。這次圍攻歷時18個月，由於饑荒和內部分裂，耶路撒冷終於在公元前586年陷落。尼布甲尼撒二世對一反再反的猶大國王無比的痛恨，下令在猶大國王西底家的面前殺死他的幾個兒子，然後又剷去了西底家的眼睛，當已經雙目失明的西底家押到尼布甲尼撒二世面前時，尼布甲尼撒二世對他說：「這就是你們背叛我的下場！」然後下令用銅鏈鎖著西底家把他帶到某地去示眾。耶路撒冷全城被洗劫一空，城牆被拆毀，神廟、王宮和許多民宅被焚燒，全城活著的居民幾乎全被擄到某地。請問關於上述事件的描述及影響，下列何者正確？  
(A)造成巴比倫之囚 (B)造成南北對立更形嚴重  
(C)資料中西底家指所羅門王 (D)此為摩西率眾出紅海背景
30. 公元313年，羅馬帝國皇帝在義大利頒發一個寬容基督教的詔令：「宣布羅馬帝國境內有信仰基督教的自由，並發還已經被沒收的教會財產，亦承認基督教的合法地位。」這是基督教歷史上的轉折點，標誌著羅馬帝國的統治者對基督教從鎮壓和寬容相結合的政策轉為保護和利用的政策，請問此政策為下列何者？  
(A)《南特詔令》 (B)《楓丹白露令》  
(C)丕平的「奉獻」 (D)《米蘭詔令》
31. 1978年中共召開第十一屆三中全會，確立某人的領導地位，會中提出：「解放思想是當前的一個重大政治問題。民主是解放思想的重要條件。處理遺留問題為的是向前看。要研究新情況，解決新問題。如果現在再不實行改革，我們的現代化事業和社會主義事業就會被葬送。要允許一部分地區、一部分企業、一部分工人農民，由於辛勤努力成績大而收入先多一些，生活先好起來。這是一個大政策。」會後一致決議通過，採納其以經濟建設為中心，實行改革開放，努力建設四個現代化的政策。請問上述的某人是指下列何者？  
(A)毛澤東 (B)江澤民 (C)周恩來 (D)鄧小平

32. 「1453 年拜占庭滅亡了，但是其精神永存，其巨大影響，不僅在曾經是拜占庭領土的那些國家，而且在拜占庭帝國舊疆界以外的國家中仍然存在。拜占庭文化在其國土之外的東歐和西歐甚至具有更深遠和強大的影響。」請問拜占庭對於哪一民族影響最大？

- (A)蒙古族 (B)阿拉伯民族 (C)土耳其民族 (D)斯拉夫民族

33. 忠忠上網搜尋近代中華民國的政治及外交問題時發現以下兩幅圖（圖四、圖五）。請問這兩幅圖最有可能是在何時發生？

關於山東省之條約  
大中華民國  
大總統閣下及  
大日本國  
大皇帝陛下為維持極東  
善隣之關係益加鞏固  
大中華民國  
大總統閣下任命  
中卿一筆  
大日本國  
大皇帝陛下任命特命全

圖四



圖五

- (A) 1912 年 (B) 1913 年 (C) 1915 年 (D) 1921 年

34. 小民在歷史課堂上聽到老師講述美國與臺灣的關係時提到：「美軍協防臺灣司令部（United States Taiwan Defense Command，）是美軍的一個次級聯合司令部，前身為依據□□而於 1955 年 4 月 26 日宣告創立的『臺灣聯絡中心』（Formosa Liaison Center），其人員由美陸海空三軍組成的，時任美國海軍第七艦隊總司令的蒲賴德中將出任該中心司令，同年 11 月 1 日起，蒲氏宣布將該中心改稱為美軍協防臺灣司令部……。」但因課上到一半，同學跟小民借筆，小民因此漏聽了此機構的法源依據。請藉由你的歷史知識，幫他找出「臺灣聯絡中心」是依據何種法源所設立的機構？

- (A) 《臺灣關係法》 (B) 〈中美建交公報〉  
(C) 《中美關係白皮書》 (D) 《中美共同防禦條約》

35. 近年來，無論是電影、電視劇，還是有關臺灣鴻海集團創辦人郭台銘的投資新聞皆曾提到「晉商」。晉商又稱晉幫，指的是「山西商人」，其富可敵國，曾經一度壟斷中國票號匯兌業務。「晉商」這個名詞與「潮商」、「徽商」號稱中國歷史「三大商幫」，請問出現在什麼時候？

- (A)秦漢時期 (B)魏晉南北朝時期  
(C)唐宋時期 (D)明清時期


36. 清代秀才董必武，是同盟會成員，曾參加過辛亥革命、反袁運動及二次革命，更是中國共產黨創黨大老。其在著述中《董必武詩選》裡曾對某項水利工程如此讚嘆：「魚嘴分江內外流，寶瓶直扼內江喉。成都壩仰離堆水，禾稻年年慶飽收。李冰父子功勞大，作堰淘灘盡手工。六字遺經傳不朽，友邦人士共欽崇。」請問此項水利工程為：

- (A)西門渠 (B)鄭國渠  
(C)都江堰 (D)芍陂（安豐塘）

37. 歷史老師出了一份歷史作業，請同學們在學期末交出，小瑛、小哲分別找來了二幅圖（如圖六、圖七）做為他們報告主題的封面。請問老師所指定的報告，最有可能是哪一個時期的歷史？



圖六



圖七

- (A) 1860 ~ 1894 年臺灣的開港與世界貿易時期  
 (B) 1895 ~ 1919 年無方針主義時期  
 (C) 1919 ~ 1936 年內地延長主義時期  
 (D) 1936 ~ 1945 年皇民化運動時期
38. 中國清代歷史上，兩次英法聯軍的影響遠遠超過鴉片戰爭，西方列強取得了哪項權利而使得中國才算是真正門戶洞開？
- (A)內河航行權 (B)外國軍隊駐紮權  
 (C)在通商口岸設廠製造 (D)強租港灣、劃分勢力範圍
39. 近年來韓劇在臺灣蔚為風行，古裝劇更是形成一股風潮，朝鮮與中土發生關係頗早，有關朝鮮的歷史下列敘述的選項何者正確？(甲)戰國時代臣屬於燕(乙)漢武帝時派軍平之，分置樂浪等四郡(丙)東漢時，朝鮮半島上出現了高句麗、新羅、百濟三國分據的局面(丁)唐代時期，朝鮮半島上的新羅進行大化革新，實行唐化運動
- (A)(甲)(乙) (B)(乙)(丁) (C)(甲)(乙)(丙) (D)(甲)(乙)(丙)(丁)
40. 張騫是西漢時代的特使，兩次出使西域，足跡遍及天山南北和中亞各地，其路線與近來的熱門話題「一帶一路」頗為相關，有關張騫出使西域的敘述何者正確？
- (A)主要是聯合大月氏夾擊烏孫  
 (B)兩次出使西域都獲得極大的成功  
 (C)兩次出使西域促使漢代了解西域，史稱鑿空  
 (D)在漢代對西域的經營上，發展出一條商路，主要的貿易商品是深受西方人士喜歡的中國瓷器
41. 小萍暑假到日本旅遊，在福岡市博物館看見一顆用中文字刻的印章，題為「漢委奴國王印」，這一重大歷史發現標誌著中古時期中日外交關係的正式建立，也曾被廣泛引為中日交流的重要證據。請問依據這顆金制王印，可判斷這是由哪位皇帝頒授給其屬國？
- (A)漢高祖 (B)漢武帝 (C)東漢光武帝 (D)東漢和帝

42.、43.題為題組

◎ 春假期間，曹承在家看電視時，偶然看到一部名為《我的 1919》的影片，內容描述了 1919 年時天才外交家顧維鈞代表中國參加了一場世界級外交大會，並在此大會上，以動人的陳詞來控訴日本對於中國領土的覬覦所產生的糾紛，其陳詞內容搏得國際間的滿堂喝采。請問：

42. 根據題目所述，顧維鈞代表中國參加一場世界級外交大會，此場外交大會應該是：

- (A)巴黎和會 (B)華盛頓會議  
(C)開羅會議 (D)波茨坦會議

43. 承上題，大會裡中國與日本所爭為何事？

- (A)山東問題 (B)西藏問題  
(C)外蒙古爭議 (D)滿洲地區問題

44.~46.題為題組

◎ 某書的一段文字如下：「君臨歐洲的華麗一族（哈布斯堡家族），以婚姻政策增加了其家族的領地，出身哈布斯堡家族的菲利浦與西班牙公主所生下的查理一世（1516 ~ 1556 年在位），他是西班牙國王，也是神聖羅馬帝國皇帝查理五世。他是 16 世紀歐洲最有權勢的國王，卻也遭受到不少的挫折和失敗。」請問：

44. 在當時他絕對「不會」遇到下列哪件事情？

- (A)馬丁路德發動宗教改革，大量領主改信路德教派  
(B)亨利八世因婚姻問題脫離天主教自創英國國教派  
(C)查理發動西班牙無敵艦隊向英國女王伊麗莎白一世宣戰  
(D)鄂圖曼軍隊第一次圍攻奧地利首都維也納，查理成功為維也納解圍

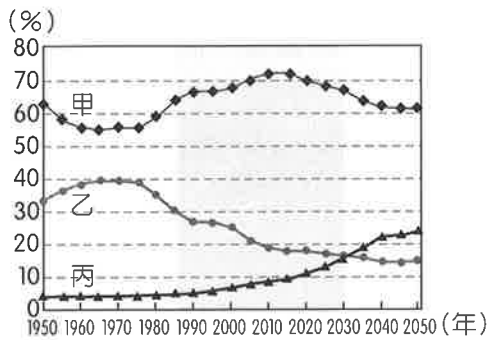
45. 在歐洲足以和哈布斯堡家族相匹敵的，就屬法國的波旁家族。電影《瑪歌皇后》中，瑪歌嘶吼哭訴著母親利用她的婚禮屠殺了許多新教的胡格諾教徒。在新、舊兩派持續對抗時，亨利四世繼承了法國王位，並發布哪一條命令，給予法國的新教徒的信仰自由，結束了胡格諾戰爭？

- (A)《米蘭詔令》 (B)《南特詔令》  
(C)《楓丹白露敕令》 (D)《薩洛尼卡敕令》

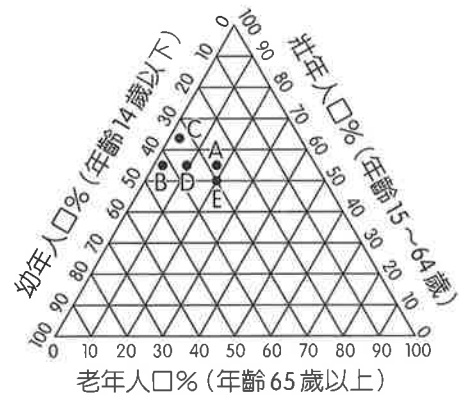
46. 法王亨利四世死後，新教徒與舊教徒之間的鬥爭並未止歇，反而演變為全歐洲的戰爭，甚至進展為哈布斯堡家族與波旁家族的對立。原本是舊教的哈布斯堡西班牙支派，與新教的波希米亞、丹麥、瑞典之間的衝突，但不久即超越了宗教，由宗教戰爭演變為國際戰爭，這場戰爭是：

- (A)英法百年戰爭 (B)薔薇戰爭  
(C)三十年戰爭 (D)第一次世界大戰

47. 圖八為中國不同年代年齡結構人口比例變化圖，圖九為人口年齡結構三角圖，下列敘述何者正確？



圖八

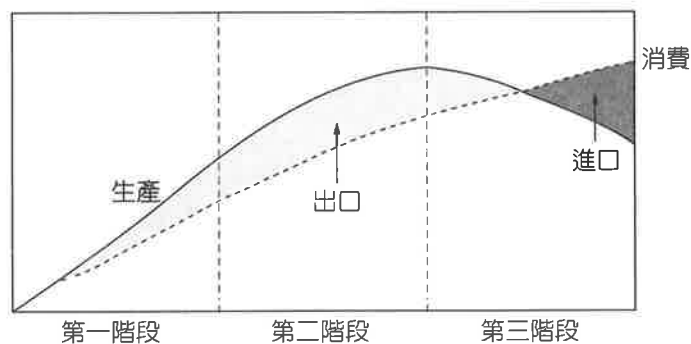


圖九

- (A) 1980 年的年齡結構為圖八中的 E
- (B) 2010 ~ 2015 年為扶養比最高
- (C) 2030 年即進入超高齡社會
- (D) 2030 年老化指數為 100

48. 圖十為日本企業生產的某商品生命週期圖。請問以下敘述何者正確？

- 甲、第一階段需要大量土地成本
- 乙、第一階段的生產工作多在已開發國家進行
- 丙、第二階段產品已有大量生產的現象
- 丁、第三階段生產工作已大量移至海外
- 戊、第三階段產品已完全有規格化的現象

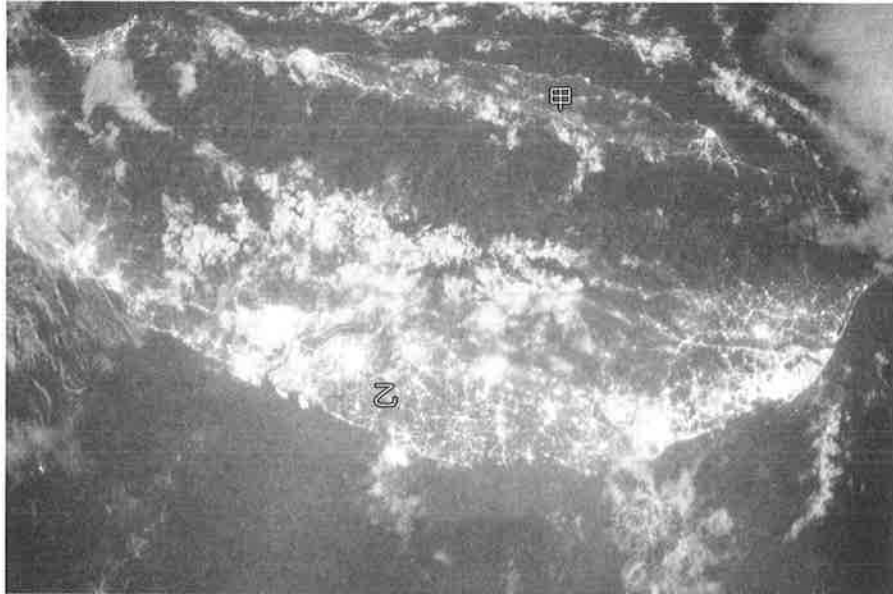


圖十

- (A) 甲丙丁
- (B) 甲丙戊
- (C) 乙丙丁
- (D) 乙丙戊

49.~54.題為題組

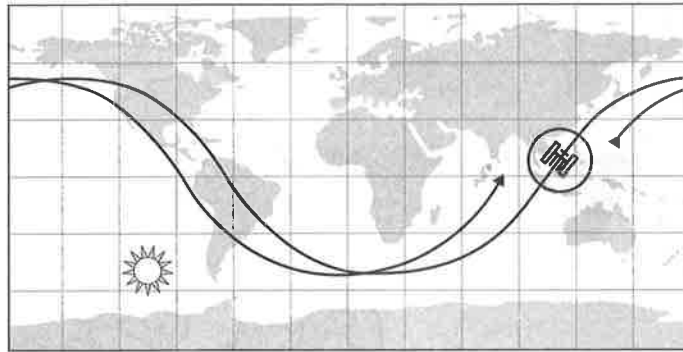
- ◎ Cities at night 計畫是 NASA 主持下，協同太空站與 Google Map 呈現由太空人視角看地球的公開網站 (<https://eol.jsc.nasa.gov/>)。機具從距離地球約 400 ~ 500 公里的上空繞行與拍攝世界各地，圖十一為繞行至臺灣拍下的編號 ISS036-E-24096 圖像。請問：



圖十一

49. 北方為照片中的何方？  
(A)左 (B)右  
(C)上 (D)下
50. 拍攝的當下是在 GMT 時間的 7 月 22 日 16 點 44 分。請問臺灣的時間為  
(A) 7 月 23 日 0 點 44 分  
(B) 7 月 23 日 8 點 44 分  
(C) 7 月 22 日 8 點 44 分  
(D) 7 月 21 日 16 點 44 分
51. 下列何經緯度位在照片拍攝的範圍內？  
(A)  $23.5^{\circ} \text{ N}$  ,  $139.7^{\circ} \text{ E}$  (B)  $23.5^{\circ} \text{ N}$  ,  $120.7^{\circ} \text{ E}$   
(C)  $35.7^{\circ} \text{ N}$  ,  $139.7^{\circ} \text{ E}$  (D)  $21^{\circ} \text{ N}$  ,  $120.7^{\circ} \text{ E}$
52. 圖十一中的代號甲，屬下列何地形？  
(A)海岸山脈 (B)基隆火山群  
(C)大溪河階 (D)太魯閣峽谷
53. 圖十一中代號乙區的地形，成因為何？  
(A)大溪河階回春  
(B)台江內海陸化範圍  
(C)濁水溪沖積（扇）平原  
(D)高屏溪搶水之斷頭河段

54. 載具繞行地球時，依圖十二中的軌道能拍下臺灣 ISS036-E-24096 的圖片。請問，底下所呈現此軌道的投影地圖，優先具備下列何種特性？



圖十二

- (A)等角 (B)等積  
(C)等距 (D)折衷

55.、56.題為題組

◎ 表二是臺灣前四大便利商店家數。請問：

表二

商標	公司名稱	門市數 (2016 年 7 月)
7-11	統一超商股份有限公司	5,221
Family Mart	全家便利商店股份有限公司	3,105
Hi-Life	萊爾富國際股份有限公司	1,340
OK	來來超商股份有限公司	920

55. 臺灣是世界上便利商店最密集的國家，常在一百公尺內開了 3 ~ 4 家相同的商店，如：7-11，其主要考量因素為何？
- (A)極大化產業連鎖，以降低總運輸成本  
(B)增加品牌的曝光率，以排除競爭  
(C)擴大聚集經濟，以降低成本  
(D)商品差異化，以吸引不同族群消費者
56. 承上，便利商店的數量早已超過千家大關。店家數量可以如此龐大，若以營運成本的角度來判斷，主要為下列何者？
- (A)商品種類多寡  
(B)商闕面積大小  
(C)商品圈範圍大小  
(D)交通易達性程度

57、58.題為題組

◎ 歐洲環境署公布一份 2016 年歐洲地區的流域分布地圖，並提供 GIS 底圖下載資料，如圖十三地圖所示，請問：



地圖來源：歐洲環境署網站

圖十三

57. 歐洲最大港位於地圖何處流域的出海口？

- (A) A
- (B) B
- (C) C
- (D) D

58. 2018 年 5 月，地圖中 D 河流的沿岸各國領導人進行「流域國家合作暨地區發展」晤談，希望藉由河川的聯通，加強未來流域範圍內各國經濟、環保、基礎建設、能源、藝文等區域的合作與發展。下列何者組合屬此流域計畫的成員國？

- 甲、波蘭
  - 乙、保加利亞
  - 丙、羅馬尼亞
  - 丁、奧地利
- (A) 甲乙丙
  - (B) 甲乙丁
  - (C) 甲丙丁
  - (D) 乙丙丁

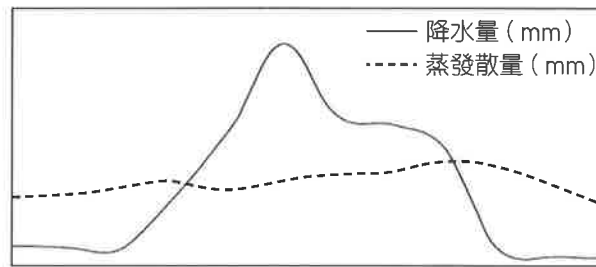


59.~61.題為題組

◎ 表三及圖十四為臺灣某縣市的一所高中師生，近日進行鄉土地理實察活動時，對該地區土壤進行分析，所記錄的土壤性質以及氣候資料。根據這些資料，請問：

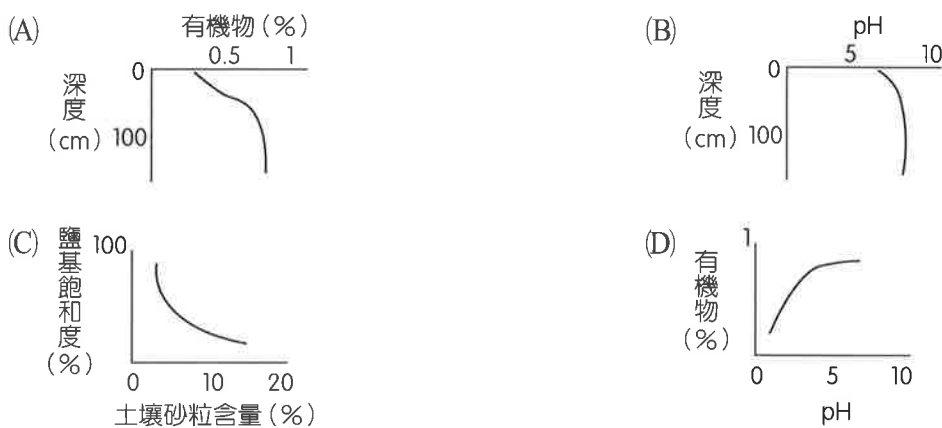
表三

土壤層	深度 (cm)	質地	pH	鹽基飽和度 (%)	有機質 (%)	三價氧化鐵 (%)
A	0 ~ 30	壤質砂土	7.8	100	0.98	0
B	30 ~ 110	砂土	8.2	100	0.33	0
C	110 ~ 150	砂土	8.2	100	0.10	0



圖十四

59. 在調查研究中，研究者通常會將相關的兩變數，利用統計圖表呈現變數之間的關聯性。根據土壤性質，以下四個圖表中，何者呈現變數之間的關係較為合理可信？



60. 根據資料，下列何地最有可能發現該種類型的土壤？

- (A)南投縣名間鄉松柏嶺
- (B)臺北市北投區
- (C)阿里山祝山
- (D)嘉義縣布袋鎮

61. 該土壤性質的成因最可能為下列何者？

- (A)經過長期洗出和洗入作用，鐵、鋁氧化鹽類富集
- (B)降雨量稀少，土壤中的鈣、鎂物質不易淋溶流失，形成聚鈣層
- (C)地層下陷，海水倒灌或入侵，造成土壤鹽分含量增加
- (D)灌溉不當，土壤底層鹽類物質溶解水中，隨毛細管作用累積於地表

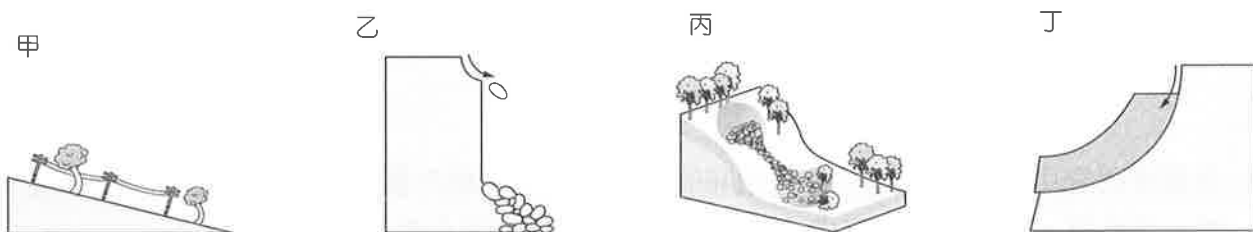
62.~65.題為題組

◎ 圖十五為依據 TIME 雜誌 2014 年 4 月刊載美國華盛頓州環境災害照片改繪的示意圖。請問：



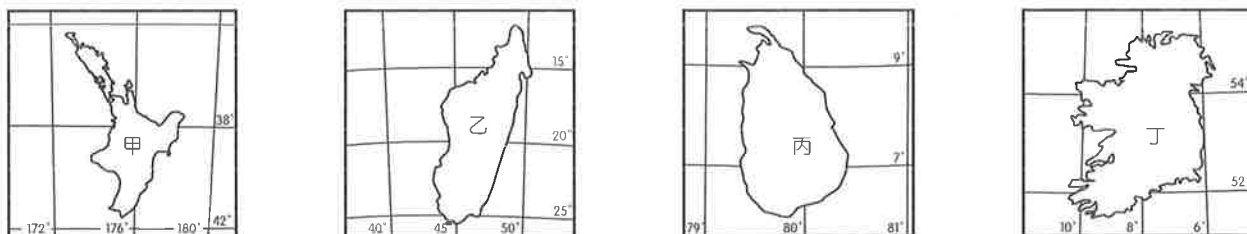
圖十五

62. 判斷此地環境災害為何種崩壞作用？



- (A)甲 (B)乙  
(C)丙 (D)丁

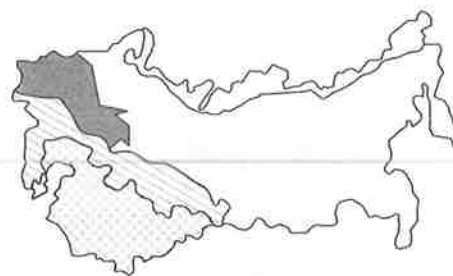
63. 判斷此地的緯度與下列何者較接近？



- (A)甲 (B)乙  
(C)丙 (D)丁

64. 根據此地的植物種類，在圖十六何地最顯而易見？

- (A)乙  
(B)丙  
(C)丁  
(D)戊



- 甲 □ 乙  
■ 丙 ▨ 丁 ▩ 戊

圖十六

65. 根據圖十五，其植被種類主要深受何種因素影響？

- (A)土壤  
(B)地形  
(C)氣候  
(D)人

66.~68.題為題組

◎ 臺灣著名的旅行社推出寒假宜蘭花蓮之旅的行程：

第一天：由臺北出發一行經台鐵宜蘭線至瑞芳站，至九份與金瓜石一宿蘇澳

第二天：觀光列車抵達花蓮—吉安鄉吉野移民村—光復糖廠—宿玉里

第三天：玉長公路—八仙洞—石梯坪—宿花蓮

請問：

66. 根據資料，請問旅行社的行程中依序會經過哪些河流？

- (A)基隆河、蘭陽溪、和平溪
- (B)新店溪、蘭陽溪、花蓮溪
- (C)北勢溪、蘭陽溪、花蓮溪
- (D)景美溪、蘭陽溪、秀姑巒溪

67. 有關第二天的行程特色說明：

- 甲、吉野地名與殖民地背景有關
- 乙、規劃的移民村，村民主要目的為開發東部糖業資源
- 丙、所經路線為東海岸風景特定區
- 丁、吉安鄉為花蓮溪流域

下列組合何者正確？

- (A)甲乙丙
- (B)甲丙丁
- (C)甲乙丁
- (D)乙丙丁

68. 有關第三天的行程特色說明，何者正確？

- (A)玉長公路為切穿海岸山脈的運輸線
- (B)八仙洞為東海岸沉水侵蝕海岸的地形證據
- (C)玉里為清朝開山撫番的南路路線
- (D)花蓮港為臺灣 1980 年代為增強東部發展所作的公共建設

69.、70.題為題組

◎ 學宏在寫一篇有關臺灣 1930 ~ 1940 年代的歷史小說時，為了要符合歷史脈絡找了很多圖來佐證，但不小心把圖與事件的配對弄亂了。請問：

69. 圖十七應該是在說下列哪一件歷史事件？

- (A)徐蚌會戰
- (B)一江山戰役
- (C)古寧頭戰役
- (D)八二三炮戰



圖十七

70. 承上題，此島嶼形成性質與下列何者相同？

- (A)澳洲的塔斯馬尼亞島
- (B)夏威夷群島
- (C)馬爾地夫群島
- (D)冰島

71.、72.題為題組

◎ 圖十八為清代兩岸貿易往來物資，圖十九為 1860 年開港前臺灣與中國的對渡口岸，請根據此二圖回答下列問題：



圖十八



圖十九

71. 圖十八、圖十九反映哪種現象？

- (A) 清代統治前期，出口的目的是賺取購買大陸商品運往歐洲的資金
- (B) 清代統治前期，出口是為籌措對抗三藩之亂所需的軍費
- (C) 清代統治前期出口的貨品，主要是為了支應大陸地區所需的不足
- (D) 清代統治後期出口的貨品，主要是支應歐美市場的需求

72. 承上題，此時臺灣向大陸輸出的樟腦及蔗糖，其商業性產銷型態接近哪一種模式？

