

111學年度學科能力測驗 模擬試題（二）

社會考科—公民與社會

教師用

—作答注意事項—

考試時間：40 分鐘

題型題數：

· 單選題共 20 題

· 混合題組共 2 組

作答方式：

· 請將答案填入題本所附之答案欄中。

注意事項：

· 單選題：每題有n個選項，其中只有一個是正確或最適當的選項。各題答對者，得該題的分數；答錯、未作答或劃記多於一個選項者，該題以零分計算。

· 本試題為模擬學科能力測驗之形式設計，正式測驗時，作答方式仍以大考中心規定為準。

版權所有
請勿翻印

第壹部分、單選題（占80分）

說明：第1題至第20題皆計分。每題有4個選項，其中只有一個是正確或最適當的選項，請畫記在答案欄中。各題答對者，得4分；答錯、未作答或畫記多於一個選項者，該題以零分計算。

(B)1.新聞報導：「根據行政院主計總數2020年薪資統計，女性需多工作51天，才能與男性達到相同年薪，因此2021年的『同酬日』訂為2月20日。」此報導主要呈現的問題為何？

- (A)男女同工不同酬 (B)兩性薪資不平等
(C)輕忽家務勞動價值 (D)女性勞動參與率低

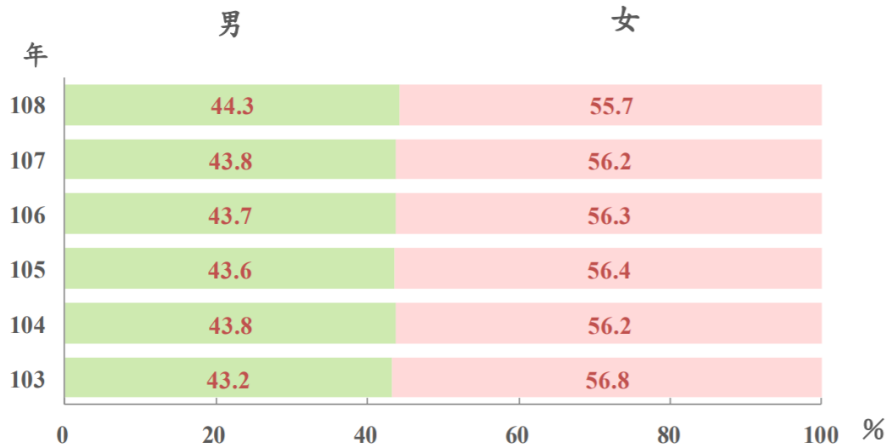
解析：題幹所呈現的是女性的薪資低於男性的現象。(A)可能是因為女性從事的工作大多較男性低薪，並非同工不同酬所致；(C)(D)並未提及。

(A)2.在經濟全球化的商業運作下，強勢文化容易透過文化消費而迅速擴張，造成全球文化走向單一的隱憂。對此，各國開始意識到保護和維繫自身文化的重要，因而產生了相對應的行動，也就是在地化。下列哪個文化現象並非這種維護及發展地方特色的實踐？

- (A)美國好萊塢電影在全球多國同步上映 (B)星巴克在臺灣推出臺灣茶系列的飲品
(C)臺灣特色的電音三太子巡迴世界多國 (D)臺灣珍珠奶茶在歐美都可以發現蹤跡

解析：「文化帝國主義」指強勢文化透過經濟全球化的商業運作，造成全球文化走向單一的現象。(A)的好萊塢的電影在全球播放，使美國文化中的價值觀傳送給世界各地的觀眾。(B)星巴克在臺灣推出臺灣茶系列的飲品，是指由本土文化融入全球化帶來的外來文化，此即「全球在地化」。(C)(D)將本土文化透過全球化推廣至世界各地，屬於「在地全球化」。

(B)3.下圖是各年度遺產稅的拋棄繼承人統計圖，依圖中所示，試判斷哪一敘述最為合理？



- (A)因女性常行使遺產拋棄，故性別職業區隔在現代社會中依然存在
(B)雖然法定男女平等繼承遺產，但在傳統觀念下，女性常拋棄繼承
(C)男女行使拋棄繼承比例逐年拉近，顯示玻璃天花板現象逐漸消除
(D)在政府推動性別主流化的國家政策後，女性行使拋棄繼承者居多

解析：(A)「性別職業區隔」指男女分別集中在不同職業的現象，與女性遺產拋棄無關。(B)由圖可看出，在現代社會中，女性常行使遺產拋棄，可能導因於傳統生活觀念之性別不平等。(C)「玻璃天花板」指女性在升遷時常會面臨無形的障礙，剝奪女性與男性員工公平競爭的機會，與遺產繼承、拋棄無關。(D)「性別主流化」指要求各國政府以性別觀點全面檢討其勞動、福利、教育、環保、警政、醫療等國家政策，改善其中隱藏的性別不平等現象。

- (B)4.美國最高法院大法官金斯伯格於 2020 年 9 月病逝，她一生致力性別平權，在進入最高法院之前就積極為女權發聲，打贏過許多與性別歧視有關的官司。請問下列政策中，何者最可能是金斯伯格會質疑的？
- (A)將選舉中的婦女保障名額改為性別比例原則，以提高女性職位升遷和決策參與
 - (B)建構對性別暴力零容忍的社會意識，呼籲女性穿著不宜暴露以免遭致他人不軌
 - (C)強化職業訓練培力女性就業，鼓勵企業建立性別友善職場
 - (D)改善各級教育與科系的性別隔離現象，鼓勵適才適性發展

解析：(B)「建構對性別暴力零容忍的社會意識」這部分沒有問題，但「呼籲女性穿著不宜暴露以免遭致他人不軌」，將女性遭迫害的原因歸咎於女性自身，而非檢討男性加害人，不利女性人權的保障。

- (C)5.近年許多民眾透過檢舉取得檢舉獎金，因此可以在路上看到拿著手機對著路人或機車騎士猛拍的人。請問這樣的舉動很可能侵害到人民的哪種基本權利？
- (A)人身自由 (B)遷徙自由 (C)隱私權 (D)財產權

解析：未經他人同意擅自偷拍他人照片可能有侵害隱私權的疑慮。

- (C)6.「學習強國」APP 是由中共中央宣傳部推出，集新聞資訊、即時通訊和社群網路等功能於一體，並將習近平的講話內容和「習思想」作為主要內容的學習平臺，於 2019 年 1 月 1 日上線。8 月中共更公布新規定，將透過「學習強國」APP，對全國新聞編採人員展開在線崗位培訓考試，記者必須通過包括「習思想」等內容的考試，才能申領新版記者證。依據上述，請判斷下列何者正確？
- (A)能通過習思想考試的記者，就可以享有新聞自由的保障
 - (B)「學習強國」APP 裡面的內容，是習思想的置入性行銷
 - (C)記者的報導不能違背習思想，使媒體喪失第四權的功能
 - (D)記者通過考試才能申領新版記者證，是媒體自律的表現

解析：(A)要求記者通過習思想的考試，是希望記者的報導不違背習思想，並非保障新聞自由。(B)置入性行銷是將欲行銷的商品或服務置入節目中，但「學習強國」本身就是習思想的學習平臺，與置入性行銷的意涵不同。(D)媒體自律是指媒體能自發落實專業倫理，通過考試才能申領新版記者證與此無關。

- (B)7.2018 年被稱為公投元年，公投案多達 10 件，投票率達到 55%，相較以往高出許多，有這樣的高投票率除了是因為與九合一大選同日舉行，也因人民對政治表達意見的意願提高；2020 的罷韓案是臺灣首個縣市首長罷免案，罷免同意票高達 90 多萬並通過，顯現了人民逐漸願意以行動表達政治意見。以下關於人民參政的情況，何者正確？
- (A)選舉投票具有效力，所以是唯一能表達政治意見的方式
 - (B)多元且易接觸的管道，提高人民表達政治意見的行動力
 - (C)現代人從網路上得到政治資訊，但並不能藉此表達意見
 - (D)社運的興起，僅代表人民行動力提升，跟政治參與無關

解析：(A)參加利益團體、社會運動，甚至在網路上發表意見，雖然無法像投票一樣直接影響政治發展，但都是表達政治意見的方式，也可能成為政治發展的關鍵。(C)現代科技發達、資訊傳播迅速，網路市場成為政治新戰場，出現以言論帶風向的情況，影響力不容忽視。(D)社會運動是政治參與的一種，人民以行動力表達支持或反對某政策、理念。

- (B)8.我國選舉活動的各項規範，主要記載於《公職人員選舉罷免法》與《總統副總統選舉罷免法》中。對於我國現行的選舉制度說明，下列敘述何者正確？

- (A)正副總統選舉採用絕對多數制，因此沒有代表性不足的問題存在
- (B)立委選舉採用單一選區兩票制之並立制，因此對於大黨較為有利
- (C)鄉鎮市民代表選舉採用單一選區相對多數制，能兼顧地多元聲音
- (D)直轄市山地原住民區區民代表選舉採用比例代表制，強調自治性

解析：(A)正副總統選舉採取單一選區相對多數制，故有代表性不足的問題存在。(B)立委採單一選區兩票制，採取並立制，可能使大黨在單一選區獲得比政黨得票率高的席次，在比例代表制的部分也能再度得到席次，因此大黨會愈大。(C)鄉鎮市民代表選舉採取複數選區相對多數制，名額較多能兼顧地方多元聲音。(D)直轄市山地原住民區區民代表之選舉制度，採複數選區相對多數。

(D)9.櫻桃國的國會共有 200 席，區域席次與不分區席次各半，選舉制度為混合制。下表為某次的選舉結果，請根據此次結果，判斷下列敘述何者正確？

- (A)若採聯立制，國會中的最大黨會是美環黨
- (B)若採並立制，國會中的最大黨會是丸子黨
- (C)對花輪黨來說，採用並立制對其較有利
- (D)若採聯立制，此次選舉會出現超額當選

	丸子黨	小玉黨	美環黨	花輪黨
政黨得票率(%)	40	10	30	20
區域席次(席)	20	25	40	15

解析：下表為各政黨採用聯立制與並立制的總席次。(A)採用聯立制的狀況下，國會最大黨為丸子黨。(B)採用並立制，國會最大黨應為美環黨。(C)對花輪黨來說，採聯立制的總席次為 40 席；並立制為 35 席，所以採聯立制對其較為有利。(D)採用聯立制，小玉黨總席次應為 20 席，但其區域已獲得 25 席，故會出現超額 5 席的情況。

	丸子黨	小玉黨	美環黨	花輪黨
聯立制總席次	$200 \times 40\% = 80$	$200 \times 10\% = 20$	$200 \times 30\% = 60$	$200 \times 20\% = 40$
並立制不分區席次	$100 \times 40\% = 40$	$100 \times 10\% = 10$	$100 \times 30\% = 30$	$100 \times 20\% = 20$
並立制總席次	$40 + 20 = 60$	$10 + 25 = 35$	$30 + 40 = 70$	$20 + 15 = 35$

(C)10.蘋果公司宣布，12 吋 MAC Book 筆電適用的 USB Type-C 充電線，因設計瑕疵，可能導致無法充電或只能間歇性充電。若此問題造成人民的權利受損，比如因爆炸而受傷、因不正常充電而損壞機器等，則蘋果公司不論是否有過失，都應負起全部責任，賠償相關損害。請問本案例主要在闡述什麼原則？

- (A)契約自由原則
- (B)所有權絕對原則
- (C)無過失責任原則
- (D)誠實信用原則

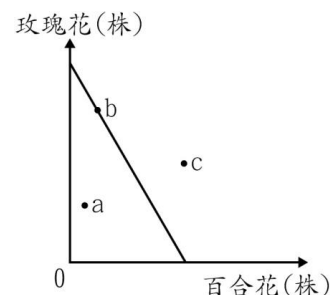
解析：蘋果公司即使毫無過失也必須負責，此為《民法》上的無過失責任原則，目的是保障經濟實力、專業知識及資訊相對弱勢的消費者。

(D)11.2019 年曾發生一件轟動世界的事情，一位日本男子近藤顯彥跟虛擬偶像「初音未來」辦理結婚典禮並取得結婚證書，透過全息投影的虛擬家庭機器人，近藤還可以跟初音未來達到日常互動，例如聊天等。不過由於開發初音未來虛擬家庭機器人的公司決定在 2020 年停止提供初音形象的機器人，近藤與初音的婚姻關係也因此畫下句點。請問如果這件事是發生在我國，下列推論何者較為合理？

- (A)近藤跟初音的婚姻是合法有效的，因為有舉辦公開儀式
- (B)近藤跟初音的婚姻是合法有效的，因為有取得結婚證書
- (C)近藤跟初音的婚姻沒有法律效果，因為初音是虛擬影像
- (D)近藤跟初音的婚姻沒有法律效果，因為初音非權利主體

解析：婚姻成立後，當事人雙方會成立親屬關係，發生法律效果，互相享有親屬間的權利，並負擔義務，因此結婚需要雙方均為權利主體、具備權利能力才可實行，故選(D)。

- (B)12.右圖是某花農生產玫瑰花與百合花的生產可能線，縱軸為玫瑰花的生產量，橫軸為百合花的生產量。請問下列敘述何者正確？



- (A)這名花農具有玫瑰花與百合花的比較利益
- (B)a 點代表資源可能未被充分利用，較無效率
- (C)b 點代表生產玫瑰花較生產百合花更有效率
- (D)c 點代表資源能充分利用，最具有生產效率

解析：(A)比較利益指「相較於他人，某人生產某產品的機會成本較低」，此處單從題幹無法判定這名花農的比較利益。(B)a 點在生產可能線內，代表資源或技術並未充分利用，較無效率。(C)b 點在生產可能線上，代表資源和技術充分利用，最具生產效率。而 b 點比較偏向玫瑰花，只是代表其生產組合中，玫瑰花的數量較多，百合花的數量較少，與效率無關。(D)c 點代表以現有資源和技術所無法達成的生產組合。

- (B)13.國際貨幣基金的多位專家學者一同撰文指出，每條鯨魚在一生當中，平均可將 33 公噸的二氧化碳保存在體內，並在死亡後帶入海底；此外，鯨魚的排遺能供應養分，讓浮游植物蓬勃生長，而目前全球浮游植物可捕獲的二氧化碳相當於 4 座亞馬遜森林，這些貢獻都是由全人類所共享。然而，由於鯨魚受到船舶撞擊、漁網纏繞、海洋污染及捕鯨的威脅，數量只剩 130 多萬頭，約為從前的四分之一，若能加以復育就可以大大減少溫室氣體。根據估計，每條鯨魚整個生命週期對因應全球暖化及漁業發展、生態旅遊等的貢獻，價值超過 200 萬美元，但如何讓世界各國願意分擔保育鯨魚的資金，仍然是一大挑戰。請問下列相關敘述，何者正確？

- (A)要讓世界各國分擔保育鯨魚的資金，需要解決交易成本過低的問題
- (B)鯨魚對於減少溫室氣體的貢獻，屬於公共財，容易有搭便車的問題
- (C)捕殺鯨魚的行為具有外部成本，政府應藉由補貼使外部成本內部化
- (D)根據文中的估計，每條鯨魚獲得保育，能使 GDP 增加 200 萬美元

解析：(A)世界上有許多國家，而各國也都有許多人民、廠商，要協商保育資金如何分擔，需要先解決交易成本高昂的問題。(B)鯨魚對於減少溫室氣體的貢獻，有共享性也無法排他（題幹有說「這些貢獻都是由全人類所共享」），因此屬於公共財，容易遭到搭便車。(C)政府應藉由課稅使外部成本內部化，若提供補貼，反而會鼓勵具有外部成本的行為。(D)每條鯨魚的貢獻也包含對環境的幫助，而這部分不會計入 GDP。

- (A)14.2017 年 10 月臺灣香蕉賣到中東杜拜，以產地價每公斤 6 元，在杜拜以每公斤 50 元賣出，身價則翻了 8 倍。若其他情況維持不變。請問在杜拜開放臺灣香蕉市場後，將對兩地香蕉市場造成何種影響？

- (A)杜拜香蕉市場的消費者剩餘將提高，生產者剩餘則是減少的
- (B)杜拜香蕉市場的生產者剩餘將提高，消費者剩餘則是減少的
- (C)香蕉貿易使臺灣大量香蕉出口，提高香蕉價格，有利消費者
- (D)臺灣、杜拜香蕉市場之經濟福祉變化，前者提高而後者減少

解析：(A)(B)杜拜成為香蕉進口國，杜拜的香蕉價格將下降。則消費者剩餘提高，生產者剩餘則是減少。(C)臺灣為香蕉出口國，香蕉價格將提高，有利生產者。(D)臺灣、杜拜香蕉市場之經濟福祉均提高。

- (D)15.全球疫情肆虐下，主計總處公布臺灣 2020 年第二季經濟成長率為負成長，在野黨與名嘴紛紛抨擊執政黨應「_____」，以提升 GDP，拯救臺灣經濟。試推論「_____」可能為下列何者？（註：經濟成長率指國民所得較去年增加的幅度，第二季經濟成長率為負成長，表示第二季的 GDP 比第一季少）
- (A)發補助給因疫情失業的勞工 (B)進口肺炎疫苗並大規模施打
(C)鼓勵民眾多到夜市消費美食 (D)呼籲在外臺商回國投資設廠

解析：(A)補助屬於移轉性支出，不計入 GDP。(B)進口有計入 GDP，但是一個負項，多進口無助於提升 GDP。(C)地下經濟因政府無法掌握，夜市攤位可能沒有營業登記、未繳所得稅，故不計入 GDP。(D)臺商回國投資設廠會增加 I 項（投資支出），有助提升 GDP。

- (D)16.行政院院會拍版通過廢除《印花稅法》的提案，將交由立法院審查。財政部表示，印花稅會與加值型營業稅重複課稅，又有容易漏報、電子交易的課徵認定有爭議等問題，廢除印花稅符合簡政輕稅的原則，也可以減少相關作業成本，至於地方政府因此減少的財源，中央將全額補足。22 縣市對此表示疑慮或反對，認為中央應該先長期、完整地規劃補助計畫，說清楚補助多久、金額如何增減等；有些地方首長也擔憂，印花稅屬於地方頗為重要的自主財源，若改由中央補助，將使中央的權力更大。根據上述，請問下列何者是中央與地方對「廢除印花稅」有爭議的原因之一？
- (A)廢除印花稅將使地方政府陷入破產危機
(B)廢除印花稅違反了量出為入的收支原則
(C)印花稅是公共財，廢除將有搭便車問題
(D)由中央補助可能限制地方的經濟決策權

解析：(A)地方擔心廢除印花稅會減少財源，但並未提到破產危機；而中央也說明將全額補助地方因此減少的財源。(B)「量出為入」是指政府根據規劃的支出，再決定收入、籌措財源。是否採取量出為入的收支原則，必須從政府的整體財政收支來看，無法單從「廢除印花稅」來加以判斷。(C)公共財是指「具有共享性、無排他性的資源或產品」。

17-18 為題組

根據農委會統計，我國全年約需要消費 6 萬多公噸的大蒜，其中 4 萬多公噸仰賴中南部產出，不足部分則仰賴進口，但自 2020 年 3、4 月以來，接連幾個月發生進口蒜頭帶土或帶蟲卵的情形，來自阿根廷、埃及、智利等國家的進口蒜頭遭到海關退貨，以免疫病或外來種流入國內，導致當年 5 月到 9 月的蒜頭進口量只剩下去年同期（1 萬 2,297 公噸）的五分之一。雪上加霜的是 2019 到 2020 年出現暖冬，不利於蒜頭生長，出現葉黃化和蒜球偏小的問題，使中南部蒜頭產量約減少了 3 到 5 成左右，加上 6 月之後疫情趨緩，國人開始報復性消費，餐飲業對蒜頭的使用量亦大為增長，民眾及小吃攤業者紛紛叫苦不已，呼籲政府採取措施平衡蒜頭供需。

- (B)17.請問根據文中描述，我國蒜頭市場的均衡價格及均衡數量最可能有何變化？
- (A)均衡價格提高，均衡數量減少 (B)均衡價格提高，均衡數量的變動不一定
(C)均衡價格提高，均衡數量增加 (D)均衡價格降低，均衡數量的變動不一定

解析：根據題幹中可知蒜頭市場呈現供給減少、需求增加的狀況，當供給減少、需求增加，均衡價格一定會提高，但均衡數量變動不一定。

- (A)18.假設政府根據蒜頭市場情況採取了價格上限的措施，請問下列推論何者最可能發生？
- (A)廠商不願供貨，供不應求造成民眾要多花時間排隊買蒜頭
 - (B)廠商的出貨價格提高，願意賣出更多的蒜頭賺取高額利潤
 - (C)廠商增加供貨，社會的經濟福祉提高將不會產生無謂損失
 - (D)廠商在政府採取措施後生產者剩餘大幅增加，供給量提高

解析：(A)政府實施價格上限壓低價格，廠商不願意供貨，供給量減少，在供不應求的情況下，人們競爭有限的蒜頭，必須付出更多的時間成本來排隊。(B)廠商的出貨價格因價格上限的關係被壓低，利潤下降會減少供貨。(C)(D)價格上限實施後會使廠商供給量降低，生產者剩餘減少，社會經濟福祉下降，並產生無謂損失。

19-20 為題組

環境保護意識日益受重視，為了使漁業資源得以永續利用，我國《漁業法》中明訂，不得以炸藥、毒物或電器進行捕魚，即是怕這些捕魚方式，會對魚類和海洋生態造成嚴重傷害。然而漁民違法電魚的事件仍然頻傳，警方在巡邏時，發現有船隻正在違法捕魚，經查緝後發現船上有供電魚所用的器具及電捕所得漁獲，後遭法院判予有期徒刑。警方希望藉由該案，提升海洋生態環境之保育。

- (D)19.在以前，法條僅規定不得以炸藥或毒物進行捕魚，若在當時有漁民電魚受到查緝，下列對此的論述，何者正確？
- (A)基於《刑法》中的罪刑法定原則，漁民電魚應處以刑罰
 - (B)從立法意旨角度解釋，漁民電魚的行為不可能成立犯罪
 - (C)漁民電魚行為後才修法處罰電魚，法院即可對漁民判刑
 - (D)立法機關基於民主正當性，故可決定何種捕魚行為違法

解析：(A)基於罪刑法定原則，當時未明文規定電魚行為違法，漁民電魚不應處以刑罰。(B)基於立法意旨解釋，漁民電魚行為和炸魚、毒魚一樣會傷害環境，應會成罪。(C)依據不溯及既往原則，當法律修正後，不得對修正前的行為加以懲罰。

- (B)20.警方查緝到的電魚工具和漁獲，會作為法庭上裁判基礎的證據，下列敘述何者「錯誤」？
- (A)法院必須依據電魚工具和漁獲來認定犯罪事實，這就是證據裁判原則
 - (B)若警方毆打和脅迫漁民，以取得電魚工具和漁獲，則該證據無證明力
 - (C)若法院依現有證據無法認定犯罪事實，即應對被告為有利的事實認定
 - (D)電魚工具和漁獲需要讓當事人在法庭上進行辨認，才能確保其真實性

解析：(B)若警方是違法取得證據，該證據無證據能力。證明力是法院認為該證據對證明被告是否犯罪，有高度可信度，將之採為判決基礎。

第貳部分、混合題組（占 20 分）

說明：本部分共有 2 題組，每一子題配分標於題末。限在標示題號作答區內作答。選擇題與「非選擇題作圖部分」使用 2B 鉛筆作答，更正時，應以橡皮擦擦拭，切勿使用修正液(帶)。非選擇題請由左而右橫式書寫，並依題目指示作答。

21-22 為題組

政府開放美國含萊克多巴胺豬肉進口，引發社會議論，豬農焦慮；為了安撫國內養豬戶，農委會推出百億養豬基金建置相關配套，農委會副主委表示，養豬成本平均接近 65 元，為避免豬價過低，尤其是每年農曆春節後的消費淡季，應維持每公斤平均批發價至少 70 元以上，同時會採取鼓勵出口、繁殖母豬淘汰等方式調節。中華民國養豬協會希望政府能夠承諾收購，並表示農委會已承諾，將委託一家專門的廠商屠宰，若豬價崩盤就會由政府直接出手屠宰凍存。

21.農委會確保豬肉批發價的作為，是屬於何種政府干預市場政策？（4 分）

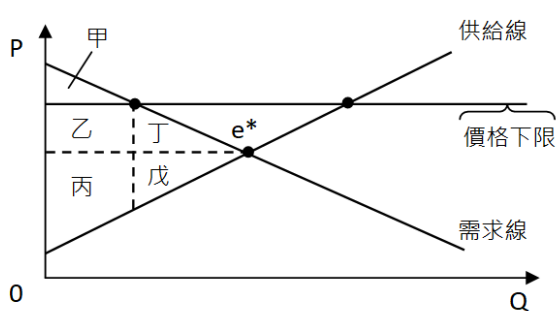
答案：價格下限

解析：價格下限是指，規定產品價格不能低於某個水準。依題文「應維持每公斤平均批發價至少 70 元以上」可知，農委會訂定豬肉價格不能低於 70 元，屬於價格下限。

22.倘若農委會實施國產豬收購政策，將會使經濟福祉產生什麼變化？請繪圖說明之。（請在下表作答，未在該處作答，此題不予計分）（6 分）

經濟福祉的變化？ (請勾選一項)	請在圖中繪出經濟福祉的變化
<input type="checkbox"/> 增加 <input type="checkbox"/> 不變 <input checked="" type="checkbox"/> 減少	

解析：政府收購豬肉，為價格下限（訂定之價格高於市場均衡價格）政策，如圖所示，實施後，將導致經濟福祉減損，造成無謂損失，如表。



	消費者 剩餘	生產者 剩餘	經濟福 祉	無謂損 失
實施 前	甲 + 乙 + 丁	丙 + 戊	甲 + 乙 + 丙 + 丁 + 戊	x
實施 後	甲	乙 + 丙	甲 + 乙 + 丙	丁 + 戊

【評分標準】：

等級 2 (完全給分)	正確勾選及繪圖。
等級 1 (部分給分)	只正確勾選或繪圖其中之一。
等級 0 (不給分)	皆未正確作答。

23-24 為題組

某天李男蓋的鐵皮屋被市政府以違建為由拆除，但他發現拆除通知單上的受文對象與地號根本就不是他，也沒張貼拆除時間通知單，因此提起救濟。市政府事後得知，查報地點與營建署公文所指的違建有誤，但認為縱使弄錯拆除地點，李男的鐵皮屋也屬於實質違建，可隨報隨拆根絕後續危害。

- (C)23.李男若覺得自己的權益因公權力違法或不當而受損，可以怎麼尋求救濟？（4分）
(A)聲請大法官解釋憲法 (B)先向營建署提出訴願
(C)向法院提起行政訴訟 (D)要求立法院修改法律

解析：人民對此行政處分不服，(B)向主管機關（此案例中應為市政府）提起訴願後，(C)對訴願結果不服，再向法院提起行政訴訟。(A)若窮盡所有救濟手段仍發覺憲法上所保障之人民權利，有遭受不法侵害的情形，即可聲請大法官解釋憲法。(D)人民不得要求立院修法。

- 24.根據題文判斷，依據現行法規，救濟單位會認定哪一方有理？判斷理由為何？（6分）

市政府合法與否？	判斷理由
<input type="checkbox"/> 合法 <input checked="" type="checkbox"/> 不合法	行政行為要達成實質正義，必須先有公平合理的程序，因此應判定市政府的拆除行為不合法。

解析：法院審理認為，市政府不能因為該建築屬實質違建、日後必被拆除，就可逕行拆除，既沒張貼拆除時間通知單，也沒詳查地號及建物所有權人姓名，自有過失，即使依法行政，也應遵循行政行為要達成實質正義，必須先有公平合理的程序，因此應判定市政府的拆除行為不合法。

【評分標準】：

等級 2 (完全給分)	選擇正確選項，並能說明須有公平合理的程序。
等級 1 (部分給分)	1-1 選擇正確選項，分析部分不合理或不充分 1-2 選擇正確選項，分析與文章內容無關
等級 0 (不給分)	0-1 未選出正確選項 0-2 選出正確選項，分析未作答 0-3 均未作答