

臺北區 109 學年度第一學期
第二次學科能力測驗模擬考試

社會考科

—作答注意事項—

考試範圍：第一～四冊

考試時間：110 分鐘

題型題數：

- 單選題共 72 題

作答方式：

- 用 2B 鉛筆在「答案卡」上作答；更正時，應以橡皮擦擦拭，切勿使用修正液（帶）。
- 未依規定畫記答案卡，致機器掃描無法辨識答案者，其後果由考生自行承擔。

祝考試順利



版權所有·翻印必究

◆單選題（占 144 分）

說明：第1.題至第72.題皆計分。每題有 4 個選項，其中只有一個是正確或最適當的選項，請畫記在答案卡之「選擇題答案區」。各題答對者，得 2 分；答錯、未作答或畫記多於一個選項者，該題以零分計算。

1. 曉慧家中有三兄妹：哥哥大義 19 歲、二哥忠義 16 歲、妹妹曉慧 11 歲，有偷竊的習慣，屢勸不改。依照我國《刑法》、《民法》、《少年事件處理法》，下列敘述正確的是？
- (A)三兄妹皆有享受權利、負擔義務的權利能力
(B)大義有完全行為能力，忠義、曉慧則為限制行為能力人
(C)大義、忠義都是限制責任能力人，曉慧是無責任能力人
(D)曉慧的行為可適用《少年事件處理法》移送少年法庭
2. 高中生震植蒐集了兩則民間團體的新聞報導，做為往後公民課報告之用，內容如下：

■ 甲聯盟近來開發了「國會 online」的 APP，揭露立法委員在國會的出席率、發言次數、審議法案參與度等表現，讓民眾更能監督國會問政品質。

■ 乙企業投資水泥開發，近來被揭發為延緩《礦業法》往環境保育的方向修改，長期資助立法委員政治獻金，且資助範圍不分朝野、橫跨各黨派。

若震植針對甲聯盟與乙企業兩種民間團體的相同特性整理出以下心得，其中何者正確？

- (A)兩種民間團體雖出於不同立場來影響立委的表現，但皆可歸類為「利益團體」
(B)兩種民間團體透過由下而上的方式來影響政府的運作，都可稱為「第三部門」
(C)兩種民間團體不受立委監督，都屬於經費運用比政府有彈性的「非政府組織」
(D)兩種民間團體皆可從事營利活動來維持運作，在《民法》上屬於「財團法人」
3. 喜歡關注時事的小敏，手機出現一則即時新聞消息如下：「最高行政法院今天作出我國司法史上，首件大法庭統一法律見解之裁判：本裁判對於大法官釋字第 620 號所闡釋『對於剩餘財產分配計入遺產總額課徵遺產稅該起算之始點』爭議，作出了『自解釋公布日起六個月內補申報遺產稅，國稅局要在五年內課稅』的統一見解……」小敏對此則新聞產生許多疑問，請你幫他選出有關上述新聞正確的法律觀念？
- (A)大法庭就是憲法法庭，組成的成員為大法官
(B)大法庭的裁判決議法律位階比大法官釋憲高
(C)最高法院與最高行政法院皆設置大法庭，針對法律見解歧異問題統一見解
(D)大法庭的統一法律見解，可取代大法官會議統一解釋法律命令之功能

4. 國內生產毛額 (gross domestic product, GDP) 是指一國在一定期間生產的最終商品與勞務之市場價值總和，過去經濟發展偏向經濟成長，關注如何提高所得、增加金錢或財富，最常使用 GDP 來衡量，然而 GDP 雖能反映社會的生產價值，卻無法看出所得分配，而在強調永續發展的現代社會，GDP 忽視了公害、汙染的影響，因此學者又提出綠色國民所得 (Green GDP) 指標做為參考，希望能呈現經濟發展的各種面向。以下相關敘述何者較為正確？
- (A) 綠色國民所得考慮經濟生產的自然資源消耗與環境品質變化
(B) 經濟成長關注滿足當代而不損及後代滿足其需求的發展過程
(C) 韓國防彈少年團在桃園開演唱會不列入我國國內生產毛額計算
(D) 熊大直接食用自家農場生產蔬菜不列入我國國內生產毛額計算
5. 日前我國發生數名立法委員因涉嫌不當關說、施壓與收賄而遭到司法調查，而涉案者所屬政黨皆表示即使法院尚未判決為有罪，只要立委遭羈押即作出停權 (停止黨員所擁有之權利) 處分。假設這些涉案者皆屬於區域立委身分、且任職剛滿一年，下列對於涉案者後續究責之描述，何者正確？
- (A) 所屬的政黨亦可透過撤銷黨籍此程序，使涉案者因而失去立委資格
(B) 若涉案者未遭起訴、或後續判決無罪，選區的選民仍可發起罷免案
(C) 可由監察院發動彈劾、並經公務員懲戒委員會通過，使涉案者去職
(D) 上述政黨之處分在判決確定前即作出，有侵害司法獨立審判之疑慮
6. 近來流行於國內外的「民粹主義」一詞，究竟該如何定義？《解讀民粹主義》(What is Populism?) 一書的作者穆勒 (Jan-Werner Müller, 普林斯頓大學政治系教授) 認為「民粹」與民主都具有「以民為主、以民意為依歸」的內涵，但「民粹主義」的特點在於：

- (1) 批判政治精英與現存政治體制：他們是腐敗的、不道德的、意圖不正當奪取 (廣大人民的) 利益。
(2) 反對多元主義：認為只有自己才代表「真正人民」的意見、聲音、利益；而其他政黨或反對者「不是真正的人民」，他們的宣稱都是偏狹的、虛假的、不是真正的民意。
(3) 區分「真正人民」的邊界：若不是「真正的人民」，就是「人民的敵人」。

(上述資料轉引自葉明釁，〈What is Populism?《解讀民粹主義》摘要〉，《菜市場政治學》，2018 / 08 / 24。)

若以各種西方民主理論觀點對「民粹主義」作出回應，下列敘述何者正確？

- (A) 古典民主理論：讓專業的政治菁英決策，民眾扮演好投票者的角色，才能避免「民粹主義」獲取政治權力
(B) 修正民主理論：開放更多社會團體參與決策，對政府進行監督，才能化解「民粹主義」對政治體制的疑慮
(C) 多元民主理論：民眾是理性與平等的，透過更多人積極參政，才能以良好的公民德性來對抗「民粹主義」
(D) 審議民主理論：不侷限於多數決結果，讓不同立場的民眾能充分溝通思考，才能避免「民粹主義」的分化

7. 喜歡網購名牌包包的琪琪，在網路上向某賣家僅花了百貨公司十分之一的價錢買了一只號稱 C 牌的精品皮夾，待取貨拆開後發現是贗品，氣憤難消，遂想起公民老師教過的消費者權益觀念，決定採取實際行動來維護自己的權利，請問下列何者是正確的相關概念？
- (A) 網路購物屬於《民法》債權編中，特種買賣的「通訊交易」類型
(B) 名牌皮夾價差不可能有 10 倍之多，琪琪亦有過失，不應全部苛責賣家
(C) 賣家侵害了 C 公司的專利權，琪琪亦可聯合其他受騙的買家提告詐欺罪
(D) 縱使網購頁面標記「恕不退換」，琪琪仍可不附理由，在 7 天之內要求退貨
8. 人的一生可以說是逐漸形成自我的過程，不同學者對於自我的定義、以及影響自我形成的因素，紛紛提出獨特的見解，試圖解釋人的自我是如何形成、又有哪些因素會影響自我的形成。以下摘要列出四位學者的主張，何者較為正確？
- (A) 顧里定義本我就是生物我，是原始衝動與內在的驅力
(B) 米德認為自我是從自然的主我，發展為社會我的客我
(C) 佛洛伊德從主要照顧者與嬰兒的互動，提出依附理論
(D) 安斯渥主張社會大眾形成概化他人，會影響個人行為
9. 臺灣一名女孩在就讀國中時，接種人類乳突病毒疫苗（human papillomavirus vaccine，簡稱 HPV 疫苗）後，身體多處出現疼痛症狀，經醫生診斷為幼年型特發性關節炎，女孩的爸爸遂向主管機關甲申請預防接種受害救濟。預防接種受害救濟審議小組雖給予 3 萬元醫療費用補助，但判定與疫苗無關。女孩的爸爸不認同此處分，向乙提出丙。該法院日前做出判決，認為女孩發病與接種時間接近，在查無其他發病原因下，時序上「無法完全排除」與疫苗接種的關聯性，有權請求最高 120 萬元的丁。全案目前進入上訴程序。請判斷劃線處應填入何者為真？
- (A) 甲：教育部
(B) 乙：高等行政法院
(C) 丙：民事訴訟
(D) 丁：罰鍰
10. 當抗疫成為事實，洗手就是義務！為防範新型冠狀病毒肺炎疫情擴散，中央流行疫情指揮中心再三宣導洗手的重要性，許多公共場合也備有酒精供民眾進出時用以消毒。安安前往大賣場準備添購相關用品，發現以往長年折扣的抗菌洗手乳幾乎都恢復原價，而同樣具有抗菌功能的沐浴乳價格比洗手乳便宜，因此貨架上沐浴乳幾乎一掃而空，洗手乳反而尚有少數存貨。安安買了抗菌沐浴乳以及一公升裝的酒精，並選購數個噴霧罐，以利分裝酒精、方便使用。以需求相關概念來分析前述現象，下列敘述何者正確？
- (A) 抗菌洗手乳與抗菌沐浴乳為互補品
(B) 在酒精與噴霧罐之間存在著替代性
(C) 民眾對抗菌產品的需求增加
(D) 民眾對噴霧罐的需求量增加

11. 韓國天團 BTS 防彈少年團於 2018 年底來臺開唱，桃園機場捷運統計，離演唱會場最近的車站單日運量高達 4 萬人，全線單日總運量更突破 12 萬人次，創下新高。除了機場捷運的運量創新高，附近超商面對大排長龍的購物人潮，店家數錢數到笑呵呵，同時也補貨補到手軟。有粉絲表示，開唱前就連排隊上廁所至少也要半小時，然而想到能夠現場目睹心儀偶像的精彩演出，排隊再久也值得；對於平日就習慣在附近運動的民眾，因為暴增的人潮感到如廁不便。主辦單位並於演唱會現場販售周邊商品，有經驗的粉絲會互相告知要提早到場以免向隅，並應購買正版商品，避免購買盜版。以下相關敘述何者較為正確？
- (A) 運動民眾受到影響，可推知社會成本高於私人成本
 - (B) 演唱會為附近店家帶來的購物人潮，屬於外部成本
 - (C) 由主辦單位在現場販售的周邊商品，屬於官方文化
 - (D) 桃園機場捷運是大眾運輸工具，可說是一種公共財
12. 維吾爾族在新疆人口約占 45%，該族群及其他穆斯林因族群、宗教認同而成為國家公敵。中國自 2017 年開始實施《新疆維吾爾自治區去極端化條例》後，視維族女性穿罩袍、男性蓄鬚等行為是極端主義的代表，並加以禁止，甚至有身穿長身外衣的維族女性，當街遭人剪短衣服，迫使其放棄穆斯林傳統。早在 2014 年，為了打擊所謂的宗教極端主義，中國在新疆設立「反極端主義中心」（即「再教育營」），聯合國消除種族歧視委員會於 2018 年證實有百萬名維吾爾族人遭到祕密囚禁。有四位同學在評論此一事件，其主張如下，請問哪一位同學的主張較為正確？
- (A) 阿中：女性穿罩袍、男性蓄鬚等行為，是維吾爾族大眾文化的代表
 - (B) 阿華：視維族男性蓄鬚行為等同於極端主義，是文明進化論的展現
 - (C) 阿民：拘捕保留穆斯林習慣的維族人或穆斯林，違背多元文化主義
 - (D) 阿國：設立再教育營、實施去極端化條例，顯示中國採取涵化方式
13. 阿永在班上聽到同學暑假相約去參觀法院的見聞，覺得很有趣，打算找一天也前往法院旁聽。但是僅有一位同學的分享是完全正確的，請你幫阿永找出這位同學？
- (A) 甲：在民事庭內，兩造剛好都有找律師，通譯遞送文件給兩造
 - (B) 乙：我在偵查庭內旁聽時，看到檢察官對被告做出緩刑的處分
 - (C) 丙：我看到刑事案件的審判，檢察官和被害人一同坐在證人的位置
 - (D) 丁：在地方法院的法庭，我有看到五個法官坐在庭上，最中間的是審判長
14. 就讀國立高中的陶陶因為在上課時間跑到學校外買午餐，依校規被記了一支小過，心生不滿，便向幾位好朋友抱怨，朋友們的回應如下，請你幫陶陶判斷誰說錯了？
- (A) 甲：可用比例原則來檢視學校懲處的目的和干預陶陶權利之程度是否合理
 - (B) 乙：陶陶被學校記過，屬於行政機關單方、對外直接發生法律效果的行政處分
 - (C) 丙：記過並未改變學生的身分與受教權，所以陶陶僅能進行訴願，沒有司法救濟途徑
 - (D) 丁：若不服學校處分，應先向學校的學生申訴評議委員會提出申訴

15. 相較亞洲地區其他國家，我國的性別平等意識雖然居於領先地位，然而性別不平等與性別歧視等議題所衍生的問題在社會中仍然屢見不鮮，需要持續透過立法單位制訂與修正法規，也需要行政單位推動相關政策，以促進與落實性別平等。有關我國相關法規的適用，以下何者敘述最為正確？
- (A)若牽涉性騷擾的其中一方為學生，可優先適用《性騷擾防治法》
 - (B)為了避免職場性騷擾現象，《勞動基準法》增訂性騷擾防治專章
 - (C)《性別工作平等法》規定了最低薪資金額，希望改善同工不同酬
 - (D)遇《性別平等教育法》相關事件時，需召開性別平等教育委員會
16. 我們都生活在大數據的時代，許多資料在網路上一覽無遺、永久留存。但是愈來愈多人希望與自己有關的網路資料可以被刪除。因此，有人開始提倡「被遺忘權」，相關的訴訟也在各地紛紛出現。在臺灣，曾擔任職棒某隊伍的執行長施先生，十多年前就曾因媒體報導「買球隊打假球」新聞，至今仍在 Google 上搜尋得到許多該報導轉載的網頁。施先生遂向法院主張「被遺忘權」，認為依《個人資料保護法》其個人判決與公益無關，而網頁留存的資料（包括全名）長期損害了他的權利，前後分別請求 Google 臺灣分公司、總公司刪除相關搜尋結果。最後臺北地院判決 Google 不需特別刪除其資料，法院認為，假球事件是社會高度關注的議題，且網路上亦有施先生無罪的平衡報導，如果只要求刪除對其不利的評論，似乎在以個人的立場，控制網路世界的言論自由。而 Google 公司更認為，刪除特定資料會讓社會大眾遺忘重大意義案件，戕害新聞自由與民眾「知」的權利。請問有關上述「被遺忘權」的概念，下列何者敘述正確？
- (A)被遺忘權與生存權同屬《憲法》明文列舉保障的人權
 - (B)法院的判決理由，可用公益原則和比例原則來解釋
 - (C)法官的判決與《個人資料保護法》的內涵互相衝突，會產生爭議
 - (D) Google 公司未刪除施先生的姓名和資料，可能會觸及妨害電腦使用罪
17. 我國在總統大選時，「九二共識」往往成為候選人在兩岸議題上的爭論焦點。「九二共識」為 1992 年兩岸代表對談（九二會談）後，針對兩岸政治立場所發表之主張；中國認為「九二共識」即等同兩岸對「一個中國」原則有共識；我國則由會談當時任職陸委會的主委指出，「九二共識」是「一個中國、各自表述」。而在 2019 年時，中國國家主席習近平重新定調「九二共識」為「海峽兩岸同屬一個中國，共同努力謀求國家統一」，又再次引起我國政局軒然大波。下列對「九二共識」此主張之敘述，何者正確？
- (A)對談當時中國派出官方代表出席，我國則因政治考量由「半官方」代表出席
 - (B)兩岸派出代表正式對談並建立此主張，在國際法上屬於「法律承認」的關係
 - (C)我國兩大政黨皆承認「九二會談」之歷史，但對此主張是否存在則呈現分歧看法
 - (D)中國承認我國對此主張之解釋，美國則在「一法三公報」體系中明文納入此主張

18. 我國《民法》與《司法院釋字第 748 號解釋施行法》（簡稱：《748 施行法》，為同性婚姻合法化的法源）對於「婚姻」之規範，下列敘述何者正確？
- (A)目前《民法》也同步修正，婚約的當事人不限於「男女雙方當事人」
- (B)《民法》和《748 施行法》對於年紀限制，無論性別都是年滿 18 歲方得結婚
- (C)同性婚姻的雙方當事人準用《民法》對於姻親、夫妻財產制、繼承的規定
- (D)同性婚姻的雙方當事人想要有小孩，僅能由其中一方收養他方的親生子女

19、20.題為題組

- ◎ 你今天「罩」了嗎？根據財政部關務署海關進出口統計，2019 年度我國進口一般口罩約 4 億 3 千萬餘片，同年度我國一般口罩出口總量則約 1 億 7 千萬片，主要進、出口國家及其所占比例如表一所示。

2020 年初因新型冠狀病毒肺炎疫情爆發，行政院長於 1 月 24 日宣布暫停口罩出口，隨後又於 1 月 31 日宣布徵用口罩工廠，原本中盤商收購價格約為每片 1.5 元，政府收購價則為每片 2.5 元，當時每片口罩要價新臺幣 6 元、每人限購 3 片，引發搶購；事實上，2 月尚未出現社區感染情形，衛生福利部網站呼籲只有看病、陪病、探病或有呼吸道症狀者應戴口罩，搭乘大眾運輸工具不必戴口罩，但因許多民眾反應無法順利購得，口罩購買乃於 2 月 6 日開始實行實名制，每片口罩要價新臺幣 5 元，分配量從最初的每 7 天買 2 片提高為 3 片。而自 3 月 20 日起，確診案例遽增 250 例，因有不明原因社區感染，民眾戴口罩的情形更為普及，在 4 月 4 日中央流行疫情指揮中心宣布搭乘大眾運輸工具應全面戴口罩後，放眼望去幾乎人人罩不離口，加上產量水準提升，實名制的購買片數也從 4 月 9 日起改為 14 天 9 片。

表一 2019 年度我國一般口罩主要進、出口國家

進口國家	比例 %	出口國家	比例 %
中國	92.33	日本	69.41
馬來西亞	4.6	香港	6.2
菲律賓	1.2	中國	1.1

19. 就我國一般口罩進、出口國家相關數據來看，下列相關敘述何者最為正確？
- (A)我國生產口罩相對於日本具有絕對利益，故可以出口日本
- (B)中國生產口罩相對於我國具有比較利益，故我國大量進口
- (C)當我國禁止出口時，因產量足夠內需，不需再自中國進口
- (D)我國禁止出口，對馬來西亞、菲律賓的口罩價格沒有影響
20. 根據文章所述，以下推論何者較為正確？
- (A)每人限購三片引發搶購，主因是工廠對口罩的供給量減少
- (B)徵用口罩有利於廠商宣傳其品牌，所以口罩的供給量增加
- (C)由政府收購價可知採訂定價格上限方式，社會福祉會增加
- (D)政府徵用口罩雖然有利民眾購得口罩，但社會福祉會減少

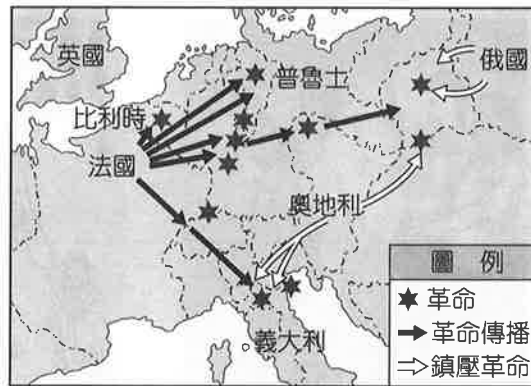
21.、22.題為題組

- ◎ 我國是否再度啟動修改《憲法》的重大政治工程？第十五任總統於就職演說上提及立法院將成立「修憲委員會」後，各界亦紛紛拋出不同的改革議題，例如：
- 甲、選舉權年齡下修至十八歲
 - 乙、廢除考試院與監察院兩院
 - 丙、中央政府體制調整為總統制或內閣制
 - 丁、有利於小黨競爭的立法委員選舉制度
21. 若對上文的修憲議題作出解讀與預測，下列敘述何者正確？
- (A)甲議題若修改成功，「選舉權」年齡將低於目前「公民投票權」的年齡
 - (B)乙議題之所以受到關注，在於兩院與其他政府機關之職權功能過於重疊
 - (C)丙議題若以內閣制為目標，可取消副署制度，使行政院院長的權力擴增
 - (D)丁議題可採用德國國會議員的選舉制度，但可能造成立委總席次不固定
22. 丙議題屢屢成為修憲焦點，在於我國曾出現以下何種憲政衝突？
- (A)《憲法》規定行政院為國家最高行政機關，因此總統在實際上並無行政權
 - (B)立法院時常通過不信任案來否定行政院院長人選，藉此挑戰總統領導權力
 - (C)總統與立法院的多數若為不同政黨時，行政院院長應對誰負責將出現困境
 - (D)總統與行政院院長「換軌」經驗過於頻繁，兩者在行使行政權時出現爭議

23.、24.題為題組

- ◎ 高雄市於 2020 年接連辦理了「總統與立法委員選舉」、「市長罷免投票」與「市長補選投票」三場投票，可謂經歷一場充實的民主洗禮。高雄市的三場投票涵蓋了多種公職人員類型，中央與地方政府也在這過程中頻繁互動。例如在罷免投票時，高雄市政府曾以防疫為由減少投開票所，後來經中央選舉委員會（中選會）召開會議與高雄市選委會達成決議，並派員至高雄協調徵借場地事宜，才維持與先前市長選舉時相同的投開票所數量。
23. 請從上文中資訊判斷，下列敘述何者正確？
- (A)由地方政府與市民合作完成多種投票權之行使，屬於一種「地方治理」的運作模式
 - (B)人民直接參與上述投票表達民意，落實《憲法》保障人民參政權中的「直接民主」
 - (C)上述中央選委會與地方選委會之互動，屬於《地方制度法》中的「共同辦理事項」
 - (D)市政府針對罷免投票之作為屬「自治事項」範疇，而中選會仍有監督投票業務之權
24. 今年 25 歲、還在就讀研究所的原住民族女性阿布斯（Abus），其戶籍位於高雄市山地原住民區之一的桃源區。關於阿布斯在這三次投票中所行使之參政權，下列何者敘述正確？
- (A)立委選舉中有一類採用複數選區，另一類設有分配席次之門檻
 - (B)獲政黨推派角逐原住民族立委席次，並因婦女保障名額而當選
 - (C)在立委選舉時比一般選民多領一張票，另外選出原住民族立委
 - (D)為保障原住民族之自治權行使，另可投票選出區長與區民代表

25. 圖一為歐洲某年革命分布、革命傳播與鎮壓革命等情勢示意圖，從圖中三種情勢的研判，該革命是：



圖一

- (A) 1789 年，法國大革命
(B) 1830 年，七月革命
(C) 1848 年，二月革命
(D) 1917 年，十月革命
26. 臺中市石岡區土牛國小內的「土牛民番地界碑」乃泉州白石雕字所製成，於 2020 年 6 月獲得文化部古物審議會指定為重要古物，其可與桃園市楊梅區所遺留的土牛溝，相互搭配見證臺灣開發史及統治者的原漢政策之演變。請問關於「土牛民番地界碑」及土牛溝等項，下列何者敘述較為正確？
- (A) 荷西統治時期原住民所召開長老會議之遺址
(B) 清朝在開港通商以前實行「劃界封山」政策之遺址
(C) 沈葆楨至劉銘傳治臺期間實行「開山撫番」政策之遺址
(D) 佐久間左馬太總督推行「五年理蕃計畫」之遺址
27. 有關漢代的一段資料：「公元前 206 年建立的漢代，先於西半國土設置 14 郡治理，又於人口較稠的東半邊分封了 10 個王國。漢代諸君令劉氏子孫為王國之主，並且逐漸縮小各國的領土與官司組織。到公元前 108 年增為 84 郡與 14 國。」對於這段資料，下列相關敘述何者正確？
- (A) 該段資料屬於歷史解釋，郡縣封國並陳的現象在歷史上經常發生
(B) 該段資料顛倒因果關係，與歷史事實完全不符，應是錯誤的記載
(C) 傾向中央集權的漢代，分封的王國數量不可能變多，王國數目應從 14 縮減為 10 才正確
(D) 漢初的郡國並行制，至武帝時行「推恩」，允許諸侯每個兒子承襲爵位，故封國數目增加應屬無誤

28. 小明在某本中國現代史的書中，看到了三張連環漫畫圖（如圖二～四）。請問下列關於他對這三張漫畫內容的解讀，何者正確？



圖二



圖三



圖四

- (A)這就是「五九國恥」，學生抗議袁世凱接受二十一條要求中，除第五號以外的所有條文
 - (B)這是「五四運動」的起因，袁世凱簽字接受日本要求後，各地學生群起反對
 - (C)這是學生抗議「巴黎和會」中，列強同意由日本繼承德國在山東的利權
 - (D)這是學生抗議日本出兵山東阻撓北伐，造成了「五三慘案」的發生
29. 學者評論：小羅斯福總統在 1941 年以《租借法案》名義援助英國時，他比喻這是暫時把庭院裡的水管借給鄰居滅火，即使他明知這個比喻是誤導，因為借出去的東西根本沒有歸還的希望。學者這番評論也正說明了小羅斯福總統的何種用意？
- (A)不違背孤立主義的前提下，發展國際貿易
 - (B)不違背《中立法案》的前提下，協助英國
 - (C)藉機與英國結盟，準備參戰
 - (D)藉機拉攏英國，籌建聯合國
30. 某位同學於書籍中整理出了如下的重點：

措施	影響
(1) 削弱相權，採三權分立，諫院和御史臺可不憑實證彈劾宰相 (2) 地方財賦由各路「轉運使」報繳朝廷 (3) 「杯酒釋兵權」，解除禁軍將領兵權。軍隊分為四種，精銳集中於中央的「禁軍」，禁軍採輪番更戍法，兵將不相習	(1) 宰相難以施展抱負 (2) 兵將不相習，戰鬥力低落 (3) 地方財賦盡歸中央，地方財政困窘
(4) 盡令武臣讀書，知為治之道，並以大量文官取代武官 (5) 優禮文士，給予豐厚薪俸，更有「恩蔭」制度，可庇蔭子孫 (6) 立「不殺大臣及言事官」的家法，成為祖訓	(1) 士大夫責任感重，具有憂患意識及強烈使命感，但卻陷於偏急性格，淪為意氣之爭 (2) 官俸膨脹，財政困難

根據上表內容，此書籍旨在探討宋初的政治現象，請問作者的結論應為下列何者？

- (A)集權中央
- (B)以文抑武
- (C)強幹弱枝
- (D)矯枉過正

31. 以下三則資料是臺灣某位士紳一生經歷的許多重大歷史事件：

資料一：他參與的團體面臨轉型：「在臺灣的請願運動屢屢受挫，同時期文化協會活動漸多，引入社會主義思潮之後，成員的想法日漸不同，在社會主義影響下，協會應發展政治運動的呼聲，階級農工運動的呼聲漸出。」

資料二：某事件後他寫下當時的心境：「歸臺何日苦難禁，高論方知用意深；底事兄弟相殺戮，可憐家園付浮沉。解愁尚有金湯酒，欲和難追白雪吟；民族自強曾努力，廿年風雨負初心。」

資料三：他參與創立的某組織成立時的目標是，要用「臺灣話語喚起臺人民族自覺」（蔡培火語）、要「建設臺灣人的特種文化」（黃呈聰語），並「提高臺灣人的品格」。

請問上述有關其經歷的描述，依時間排列順序應是：

- (A)資料一、資料二、資料三
- (B)資料三、資料一、資料二
- (C)資料三、資料二、資料一
- (D)資料一、資料三、資料二

32. 某份文件提到：「毛共匪幫是中華民國的一個叛亂集團，對內殘害人民，罪惡如山，乃全中國人民尤其是大陸上七億同胞之公敵；對外肆行顛覆侵略，為聯合國所裁定之侵略者。目前大陸雖為毛共匪幫所盤踞，但以臺、澎、金、馬為基地的中華民國政府，乃是大陸七億中國人民真正代表——代表他們的共同意願與痛苦呼聲，並給與他們反抗『毛共暴力，爭取人權自由以最大的勇氣和希望』。」請問這份文件的發表時機與形式最有可能是：

- (A) 1945 年重慶會談後，國民黨所召開的記者會新聞稿
- (B) 1951 年韓戰結束後，美國駐聯合國代表的發言內容
- (C) 1971 年中華民國退出聯合國後，蔣總統發表談話內容
- (D) 2000 年陳水扁當選中華民國總統後，於國慶發表談話

33. 以下資料分別展現古代中國某一朝代的特色：

資料甲：一本算數書某例題：「今有大夫、不更、簪裹、上造、公士凡五人。共獵得五鹿，欲以爵次分之，問各得幾何？」後來書中記載正確答案是：「他們依次分別得到 $1\frac{2}{3}$ 、 $1\frac{1}{3}$ 、 1 、 $\frac{2}{3}$ 、 $\frac{1}{3}$ 隻鹿。」

資料乙：某史家說：「我認為『之』字是做為五斗米道的符號而載入名字之中的，因為當時世家大族皆已信仰五斗米道，甚至連皇族命名也都使用『之』字。因此，這個時期雖然重視名諱，但是卻出現祖、父、孫三代名字中皆有『之』字的情形。」

資料丙：一部經典指出：「人之為善於地上，天上亦應之為善；人之為惡於地上，天上亦應之為惡，乃其氣上通也。」

資料丁：「鍾馗，一位自幼飽讀詩書但其貌不揚的書生，在禮部應試成績優異，卻在吏部這關因其醜陋外貌遭取消錄取資格，性格剛烈的他以死表明心中的憤怒。」

以上資料按其時代先後，依序是：

- (A)甲乙丙丁
- (B)甲丙乙丁
- (C)乙丙丁甲
- (D)丙甲丁乙

34. 史家評論某歷史事件，指出：「以歐洲史角度而言，這是羅馬帝國衰亡以來，歐洲人首度由西方大舉東向的擴張運動，亦是西方與東方的先進文明首度產生的重大衝突，對歐洲造成許多影響，例如：義大利城市商業活絡、伊斯蘭文化大規模流入歐洲、王權擴大等，促使歐洲封閉的舊社會變得開朗、活躍。」請問此歷史事件應指何者？

- (A) 十字軍東征
- (B) 蒙古西征
- (C) 亞歷山大東征
- (D) 黑死病流行

35. 表二是日治時期，霧社地區的日本人與原住民通婚資料表節錄，關於此表背景的解讀，下列敘述何者正確？

表二

結婚時間 \ 身分	男方：日本警察	女方：原住民家庭
1911 年	下山治平	巴烈社頭目之女：貝克·道雷
1912 年	佐塚愛祐	瑪西多翁社頭目之女：亞娃依·泰木
1912 年	近藤儀三郎	馬赫坡社頭目之女：帖瓦斯·魯道

- (A) 當時日本警察的社會地位頗高，是原住民貴族家庭女子婚配首選
- (B) 當時日本警察工作繁忙，偏好在臺灣就近找對象而非在日本國內
- (C) 當時日本透過與原住民有力者通婚的策略，企圖快速掌握其部落社會
- (D) 當時日本為獎勵舊慣調查、土地調查等政策，鼓勵日警與原住民通婚

36. 中國小農經濟的特質之一是「耕」與「織」的結合，但自近代起，漸漸走向了「紡」與「織」、「原料業」與「機織業」的逐步分離，並且納入了世界的經濟體系。此外，同一時期，國內市場商品的流向，也逐漸朝向特定區域的合作與互補關係（圖五）。請問這種變化發生的時間和地區，可能是下列何處？



圖五

- (A) 北宋四川
- (B) 元代泉州
- (C) 明代松江
- (D) 清代北京

37. 美國官員報告：「我們留在越南的原因，有七成是避免對我們美國身為保證人的聲譽造成可恥的失敗紀錄，兩成是維持南越及其鄰近地區不落入中國手中，另一成是允許南越人民能享有更美好、更自由的生活方式。」這份報告突顯美國介入越南的主因是：

- (A) 維持美國在越南的經濟市場
- (B) 防止越南成為共產國家而生活變不美好
- (C) 與中國在中南半島的爭霸
- (D) 建立美國全球防衛承諾的可信度

38. 「毛主席說：前方吃緊，備戰備荒為人民。蘇修在北邊，美帝在南邊印度支那，老蔣在東邊，三面夾攻咱們。西邊是大沙漠。瞧瞧這形勢，多萬惡。勒緊褲帶，多交糧，交好糧，是為了支援世界革命。」請問這是哪一個時期？
- (A)中日戰爭 (B)國共內戰
(C)抗美援朝 (D)文化大革命
39. 有一份文件在起首時提到訂立文件者的身分，說：「大清國大皇帝、大法民主國大總理璽天德 (President) ……欲修明兩國交好通商之誼，訂立新約。」自此之後，法國步步為營，進而以印度支那為基地，長驅直入雲南、廣西和廣州灣等地，使得清帝國西南地區一度成為法國的勢力範圍。請問文中所述之文件，應為下列何者？
- (A) 1844 年，《中法黃埔條約》 (B) 1858 年，《中法天津條約》
(C) 1860 年，《中法北京條約》 (D) 1885 年，《中法天津條約》
40. 學者對臺灣戰後某位領導人的評價是：「由硬式威權轉向軟式威權統治，除了推動行政革新，呈現『清廉愛民』的一面外，也拔擢臺籍政治菁英，使其得以分享更多政治權力。」請問關於這位領導人執政時期，臺灣的發展特色是：
- (A)政治方面：經歷八二三炮戰；經濟方面：以農業培養工業
(B)政治方面：解除戒嚴；經濟方面：高成長成為亞洲四小龍
(C)政治方面：廢除動員戡亂；經濟方面：往已開發國家邁進
(D)政治方面：強調一邊一國；經濟方面：強調分散中國風險
41. 故宮三樓「吉金耀采——院藏銅器精華展」中，有一美麗的青銅文物——召卣（音「有」，酒器，見圖六），該文物壺蓋的內側發現七字銘文「召六一八六一一」（圖七）。根據研究「召」應是召公奭（尹），而六個數字，透過《易經》解密，成為一個卦象，卦名為「節」，試推想此處的「節」做何解釋最佳？



圖六



圖七

- (A)節是節制，提醒周人飲酒有節，避免重蹈前朝酒池肉林亡國之覆轍
(B)節是節約，因為周朝農業不發達，難有餘糧可釀酒，滴酒都當珍惜
(C)節是節節高升，透過杯觥交錯以酒會友，創造封建社會升遷機會
(D)節是進退有節，當貴族不受國君重用時，瀟灑隱居山林縱情美酒

42. 資料一：「錢幣一叮噹落入錢筒，只能使貪婪增多，但不能使教會的代求產生結果，這結果僅操之於上帝。」
資料二：「我陷於信仰的苦惱中，不斷叩問聖保羅的這句話，想弄清它的意思。我日夜思索這句話，神終於憐憫我，讓我明白：神的裁判就是義人蒙受神恩所經歷的裁判，就是信仰。」
以上兩段資料是某人的主張，請問某人是誰？
(A)蘇格拉底
(B)馬丁路德
(C)哥白尼
(D)喀爾文
43. 臺灣原住民族的文化內涵極為豐富，各族的語言、服飾、宗教信仰、社經結構、風俗習慣、藝術文化與祭儀慶典皆各具特色，同時體現出先民敬天惜物的生活智慧與歷史傳承。請問若以臺灣原住民各族的祭儀慶典活動為例，則下列配對何者正確？
(A)阿美族：「豐年祭」
(B)卑南族：「飛魚季」
(C)賽夏族：「猴祭」
(D)鄒族：「打耳祭」
44. Brian Tierney 的《西洋中古史》論述：「□□首次把北部歐洲的大片領土置於一個地中海強國的統治下，但帝國的東半部與西半部始終有顯著的不同：西半部是帝國中最拉丁化的地方，在高盧、西班牙、不列顛等地，這些地區還從未出現過高度文明，□□在這些地區創立都市文化中心。帝國的東半部，□□征服擁有比自己更古老文化的埃及、希臘等地區。」
□□應是哪一帝國？
(A)波斯帝國
(B)亞歷山大帝國
(C)羅馬帝國
(D)拜占庭帝國
45. 17 世紀時，荷蘭聯合東印度公司在亞洲各地設有許多商館，除臺灣之外，還有巴達維亞、日本、暹羅、柬埔寨、錫蘭、萬丹與波斯等地共約 25 個商館，彼此間串連構築成一個龐大的商業網絡。臺灣因地理位置居中，遂扮演起中途轉口的角色，其獲利程度甚至高居為第二位，以 1650 年為例，該公司在臺灣獲利純益高達 40 萬荷幣（約 4 噸黃金）。請問關於荷蘭聯合東印度公司當時在臺灣的商業經營與治理情形，下列何者的敘述與史實存有差異？
(A)以美洲與日本的白銀向中國購買絲綢與瓷器後，再轉銷歐洲
(B)藉由提供資金與耕牛招募漢人來臺開墾，並引進芒果、釋迦等作物，促進農業發展
(C)以「贖社制度」開放漢人社商以競標方式承包番社的所有交易權，並可向其徵稅
(D)荷蘭聯合東印度公司為了因應市場迅速擴張的需求，以羅馬拼音系統創造出「新港文」，藉以培養在地商業人才

46. 根據圖八、圖九，有關圖中佛像出現時間早後的推論，下列敘述何者「有誤」？



圖八



圖九

- (A)圖八時間較早，因為輪廓清晰、高鼻深目、雄健可畏，具有外來犍陀羅風格特色
- (B)圖九時間較晚，因為微笑凝眸、敦厚慈祥、溫和可親，展現佛教中國化結果
- (C)圖八具有中亞風格的大佛來自洛陽的龍門石窟；圖九融入漢人色彩的大佛來自平城的雲岡石窟
- (D)圖九石窟的出現與北魏孝文帝漢化政策中的遷都措施有關
47. 清朝簽訂《天津條約》與《北京條約》後，於 1862 年開始在淡水、安平、雞籠與打狗等四港陸續設立海關對外通商，大批外商遂挾帶雄厚的商業資本紛紛入臺開設商館或洋行，造成茶、糖與樟腦等產業在臺迅速興起。依據學者的統計，臺灣的出口貿易於 1868 ~ 1893 年間即增加了 10.5 倍之多，成為當時清朝境內唯一貿易順差的地區。請問關於臺灣開港通商後的歷史發展與影響，下列敘述何者「有誤」？
- (A)因茶與樟腦的產地及出口在中北部，故造成了臺灣的經濟重心逐漸由南向北移，進而也帶動政治中心的北移
- (B)因兩岸區域分工的貿易榮景不再，造成買辦階級日趨沒落，行郊商人及豪紳趁勢崛起，成為臺灣社會的新興豪強
- (C)促成新興市鎮或中北部近山聚落的出現，例如大稻埕、大嵙崁、東勢或集集等地
- (D)開港通商後臺灣的人口增加、械鬥逐漸平息，客家人亦因投入茶葉與樟腦等產業而獲利，財富與社會地位由此相對提升
48. 毛紡織業一向為英國的「民族工業」，羊毛和呢絨貿易壟斷了整個歐洲市場。不過，自印度進口棉織品後，英國公眾已愈來愈喜愛使用棉織品，因此強大的毛紡織業行會向政府施壓，要求國會在 1700 年通過了禁止進口印度棉布的法令。不過這個法令沒有幫上毛紡織業，卻刺激了國內棉紡織業發展。推其原因，最有可能是：
- (A)擴大本土棉花種植取代進口，滿足原料需求
- (B)棉紡織業最先機械化，降低生產成本
- (C)毛織工人紛紛跳槽，到棉織工廠上班
- (D)民眾穿著嗜好轉變，紛紛使用棉織品代替毛織品


54. 2020 年 3 月新聞：「歐洲太空總署發現，由『前哨 5 號』衛星拍攝的影像可以得知，義大利在 1 ~ 3 月期間，空氣汙染發生了重大的變化，尤其是北部地區最為明顯，二氧化氮（NO₂）濃度已明顯降低，有專家指出這與交通和工業活動大幅縮減有關。」請問有關於義大利北部工業發展的敘述何者是正確的？
- (A)位處歐洲經濟核心區，汽車、紡織、化工等產業發達
(B)因為煤鐵資源豐富，為歐洲工業化較早的地區之一
(C)因地中海型氣候雨量較少，水電資源缺乏為隱憂
(D)泰晤士河極富水運價值，方便工業原料和產品的運送
55. 某文章提及：「光化學煙霧（Photochemical smog）第一次偵測到是在 1945 年的洛杉磯，因此稱為洛杉磯型煙霧，是由於汽車廢氣和工業排煙含有氮氧化物和碳氫化合物，這些空氣汙染物質對強烈的紫外線反應而形成臭氧，當臭氧濃度升高時，進到人類體內會引起眼睛和喉嚨疼痛。光化學煙霧好發於夏季中午或午後……。」請問為何洛杉磯的此項公害問題以夏季較嚴重？
- (A)熱島效應較明顯
(B)處於西風帶的背風側
(C)逆溫使得汙染物不易擴散
(D)副熱帶高壓盤據
56. 「冬蔭功湯」是某國著名的湯品，根據冬蔭功湯料理食譜（圖十）加以判斷，該湯品最可能源自於何文化區？

冬蔭功湯食譜

<p>食材</p> <p>清水與椰漿 ... 各 180 ml 蝦 ... 5 ~ 10 隻 蘑菇 ... 1 小碗 番茄 ... 半粒 蔥 ... 1 根 香菜 ... 1 根</p>	<p>調味料</p> <p>朝天椒 ... 2 ~ 5 個 檸檬草 ... 1 根 南薑 ... 3 ~ 4 片 檸檬葉 ... 3 片 青檸汁 ... 2 茶匙 魚露 ... 2 湯匙</p>	<p>糖 ... 半茶匙 鹽 ... 1 小撮 紅蔥頭 ... 2 顆 羅望子辣椒醬 ... 半湯匙</p>
--	--	--

步驟

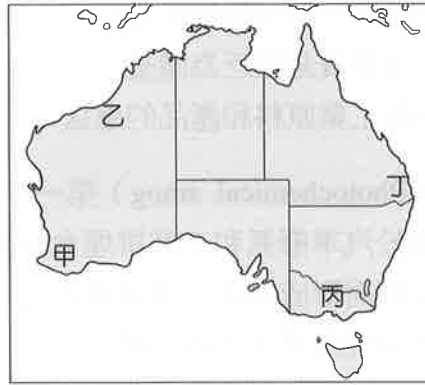
- ① 南薑、蘑菇、番茄切片，紅蔥頭剝細末，香菜、蔥切碎，檸檬草莖稈部分拍爛出味，斜切成小段狀，檸檬葉撕成碎塊，用手揉搓散發清香。朝天椒拍爛增加辣度
- ② 等量的椰漿、水倒入鍋中加熱，南薑、檸檬草、紅蔥頭、番茄、蘑菇一起煮沸。再加入朝天椒、羅望子辣椒醬、魚露、糖攪拌均勻，根據口味鹹淡加鹽
- ③ 蝦或其他海鮮入鍋。撒蔥、香菜碎、檸檬葉，最後加入青檸汁完成



圖十

- (A)北美文化區
(B)歐洲文化區
(C)西亞與北非文化區
(D)東南亞文化區

57. 飛入飛出 (Fly-in fly-out, FIFO) 工作模式常見於澳洲的礦業工作中。由於礦場多位於偏僻的無人地區，因此相較於在這些地方安置員工及其家人發展聚落，許多公司更採用此方式以降低成本。他們會在都市或城鎮招徠員工，集體帶至工作地點工作幾天後，再返回家鄉休息。若從澳洲的礦產與人口分布來看，圖十一中哪一個地區最有可能為該模式員工的工作地點？

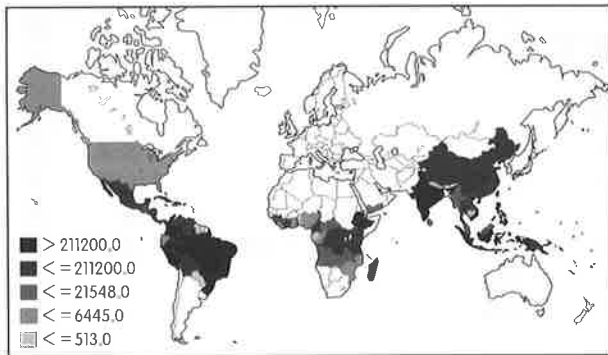


圖十一

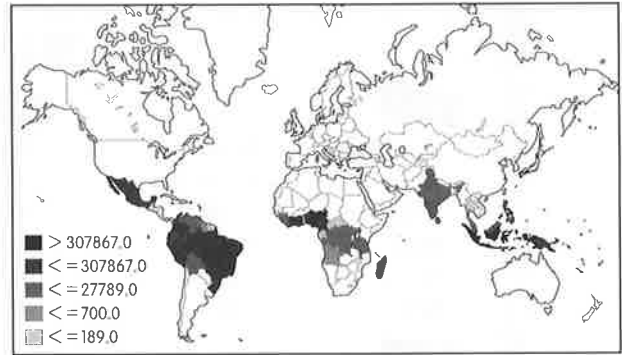
- (A)甲 (B)乙 (C)丙 (D)丁

58. 在馬雅文明的鼎盛時期，「可可」曾被廣泛地當做商品或服務的報酬，進而演變成了一種公認的貨幣，時至今日，「可可」因經濟效益高被喻為農業黑金。在條件許可下，各國紛紛推廣「可可」種植計畫，下圖為 2018 年四種農作物的產量概況，請問「可可」的主要產區最有可能為下列何者？

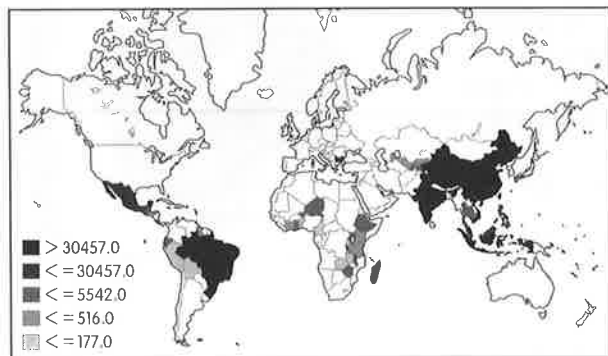
(A)



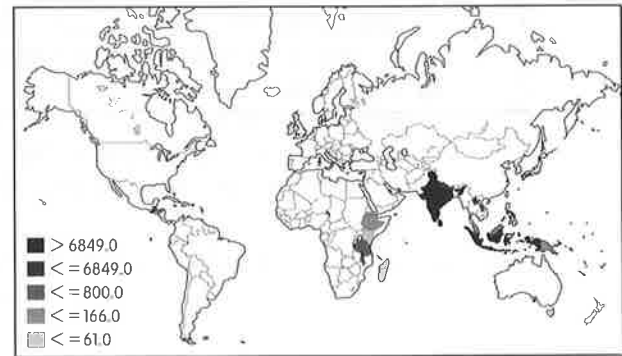
(B)



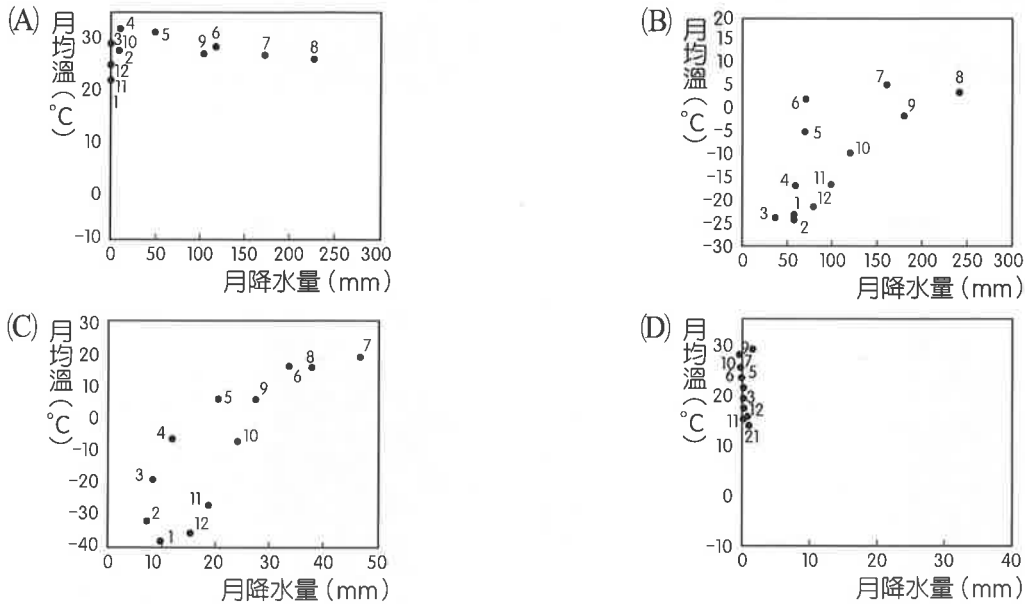
(C)



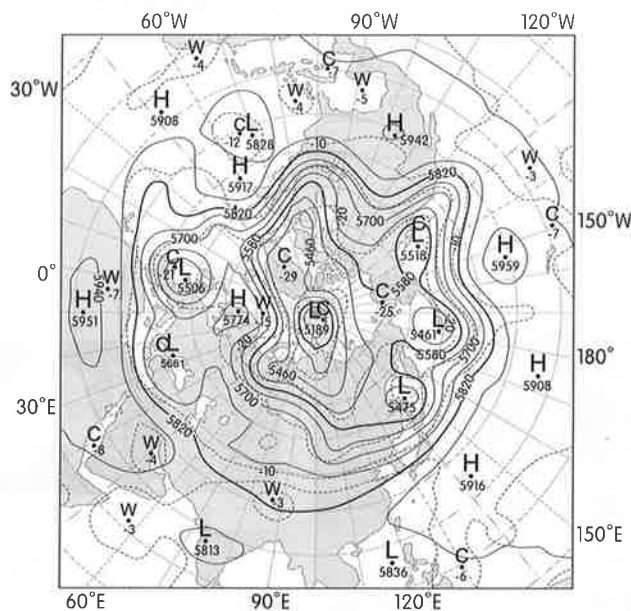
(D)



59. 西伯利亞東北部有一小鎮維科揚斯克，該地因環境限制故總人口約 1,300 多人。當地以馴鹿飼養業及相關產業為主，飼養人從早期在草地及林地間季節性游牧，到今日在小鎮定點商業化飼養，每年 5 月氣溫上升後便開始進行宰殺，取得鹿血、角、肉、皮毛等，骨骼則會雕刻成藝術品進行販售。2020 年 6 月初，因極端氣候影響當地測得 38°C 不尋常高溫。根據《華盛頓郵報》說明，當時因大面積高壓籠罩導致北極熱浪對流不易，融雪過程加上洋流將熱能往兩極輸送等效應，最終導致了當地極端高溫，也使得北極區域成為全球暖化中，溫度上升最迅速劇烈的地方。請問經由當地馴鹿飼養的環境推論，下列何者為維科揚斯克小鎮氣候圖？



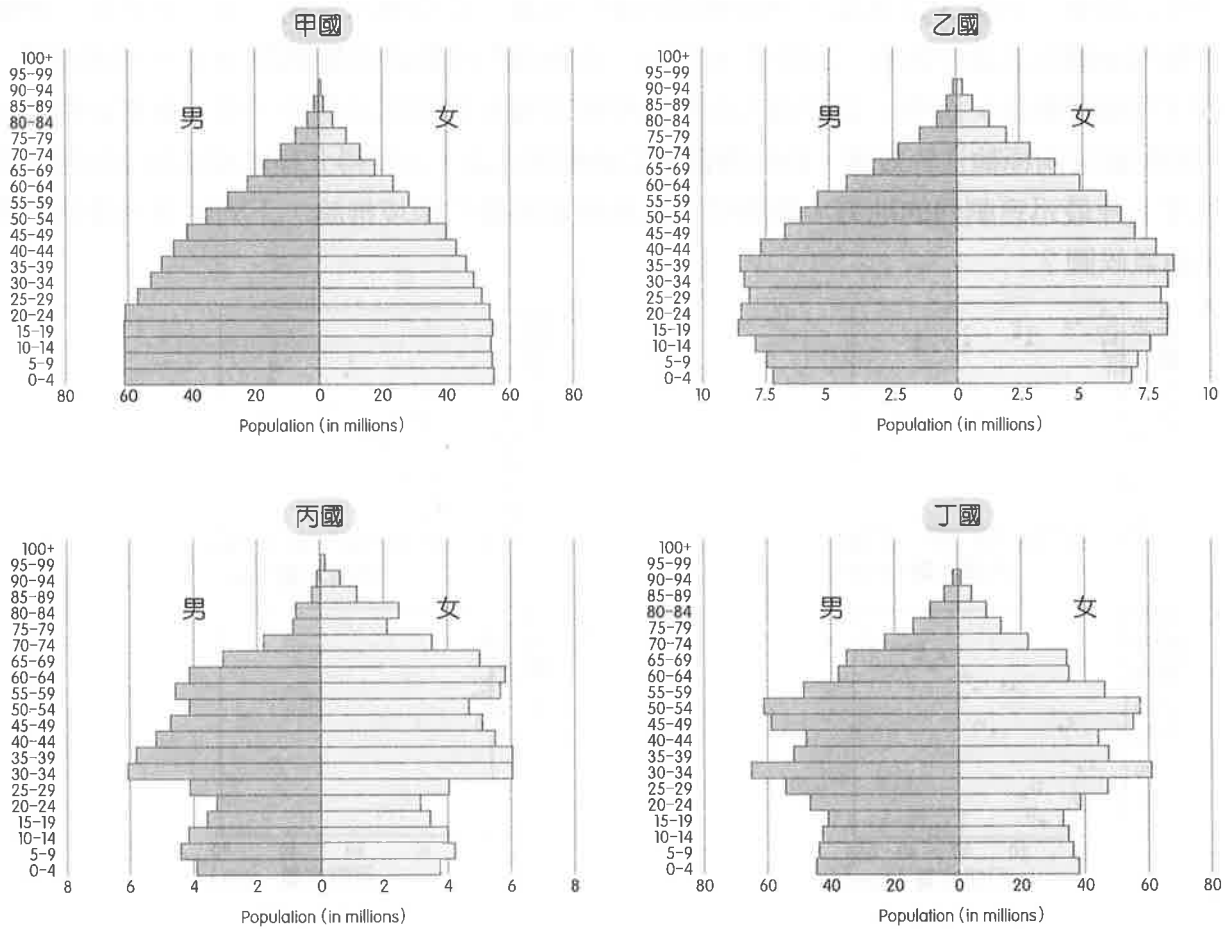
60. 圖十二為北半球某月某日之 500 百帕 (hPa) 高空天氣圖，實線為等壓線，虛線為等溫線，關於此時各地的天氣描述何者正確？



圖十二

- (A) 英國正逢大風雪
- (B) 臺灣發出低溫警報
- (C) 印度西海岸遭逢旋風侵襲
- (D) 美國加州連日高溫，引發森林火災

61. 圖十三中的甲~丁國為金磚四國 (BRIC) 的人口金字塔圖 (取自於美國中情局世界概況網站 CIA—The World Factbook)，請問關於甲~丁國之人口或經濟描述，下列何者正確？




圖十三

- (A) 甲國制訂製造 2025 計畫，目標從製造大國提升為製造強國
- (B) 乙國目前已擺脫債務危機之陰霾，外債金額持續減少
- (C) 丙國性別比偏低，有適婚年齡層婚配問題
- (D) 丁國未來 10 年內將成為世界人口第一大國

62.、63.題為題組

◎圖十四分別呈現了某國的主要宗教、國旗及重要產業。請問：



圖十四

62. 試推測該國具備以下哪項地理特徵？

- (A)地質以古老結晶岩為主
- (B)國土略呈西北—東南走向，全境高度落差超過 8,000 公尺
- (C)原始植物景觀以高大的草本植物為主，主要土壤類型為栗鈣土
- (D)夏吹東南風、冬吹西北風，總雨量雖多但乾溼季分明

63. 承上題，某國的宗教信仰與下列哪個國家或地區的主流宗教相同？

- (A)峇里島
- (B)菲律賓
- (C)柬埔寨
- (D)東帝汶

64.、65.題為題組

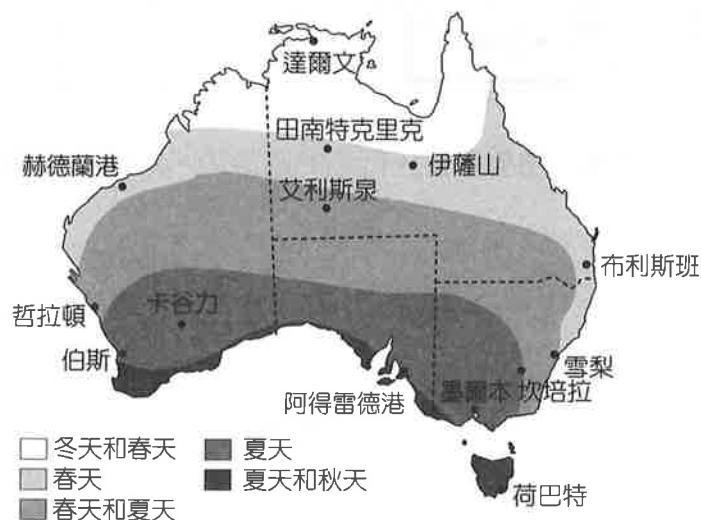
◎森林野火是澳洲於每年夏季都會發生的現象。2019 年的野火事件，提早於春季（9 月）就開始，並持續延燒 5 個月，最嚴重的東南部沿海局部地區至 2020 年 1 月底仍有野火延燒，至少有 33 人喪生，其中包括 4 名消防員。澳大利亞各地的灌木、森林和公園面積超過 1,100 萬公頃，超過 10 億隻動物被燒死造成生態浩劫。野火不僅衝擊澳洲當地，燃燒所產生的灰燼並跨海傳遞至南半球其他國家，造成當地空氣品質惡化，是一個國際性的災難（資料來源：BBC 新聞網；國家災害防救科技中心災害防救電子報第 175 期）。請問：

64. 下列哪些因素與澳洲野火災害連年發生、日益惡化有關？

- 甲、澳洲人口密度過高
- 乙、民眾在容易大火區建造房屋
- 丙、「印度洋的聖嬰」發生，東印度洋海溫異常偏低
- 丁、澳洲依賴化石燃料發電與出口，人均碳排放為世界第二
- 戊、年雨量變率大

- (A)甲乙丙
- (B)乙丙丁
- (C)乙丙戊
- (D)甲丙戊

65. 參考圖十五野火的季節，達爾文（Darwin）與伯斯（Perth）兩個城市好發野火的季節不同，其差異與下列何者的關係最密切？



圖十五

- (A)降水強度差異
- (B)地形起伏差異
- (C)太陽直射位置
- (D)季風風向差異

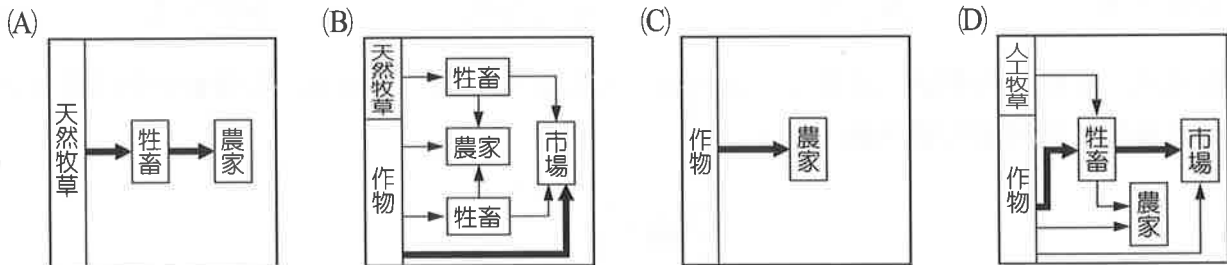
66.、67.題為題組

◎「中世紀歐洲流傳『祭司王約翰』的傳說。他們相信在東方充滿穆斯林與異教徒的土地上，有一個由身兼基督教祭司的皇帝所統治的國度。因為這個傳說，基督教方濟各修士德魯布魯丘奉法王路易九世之請，於 1253 年 5 月從君士坦丁堡出發，並於 1254 年 1 月抵達哈拉和林，與當時來自東方的帝國統治者見面，商討傳教與結盟對抗阿拉伯人事宜。雖然最後他的任務未能達成，但開啟了歐洲與遠東的接觸。」請根據上文及修士行經的路線圖（圖十六），回答下列問題：



圖十六

66. 文中描述的東方帝國，請問建立該帝國的族群，其傳統農業生產型態，與下列哪一張農業活動流程圖最為符合？



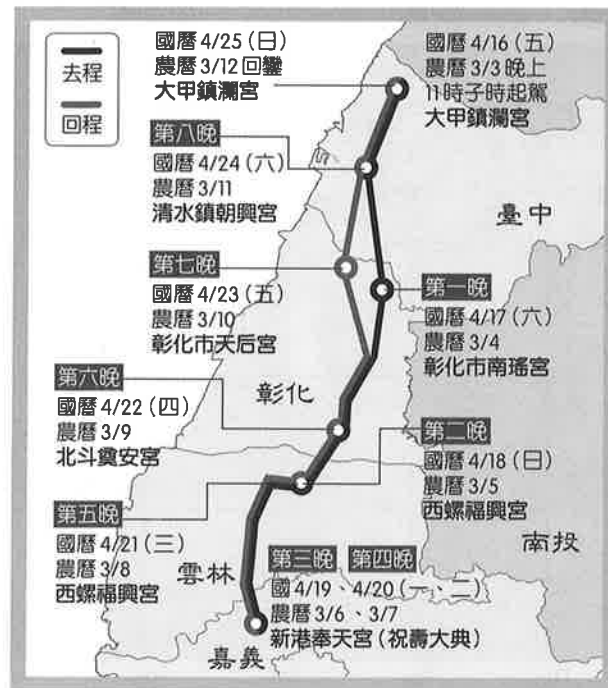
67. 根據路線圖的路徑，當時修士德魯布魯丘行經的路線中，沿途會經過哪些自然景觀帶？

- 甲、寒帶針葉林
- 乙、溫帶草原
- 丙、地中海灌木林
- 丁、熱帶莽原

- (A) 甲乙
- (B) 乙丙
- (C) 甲丙
- (D) 乙丁

68.、69.題為題組

◎媽祖是臺灣民間重要的信仰，而媽祖遶境更是臺灣宗教重要的盛事。圖十七為臺中大甲鎮瀾宮 2010 年遶境的路線及時程圖，請根據該圖回答下列問題：

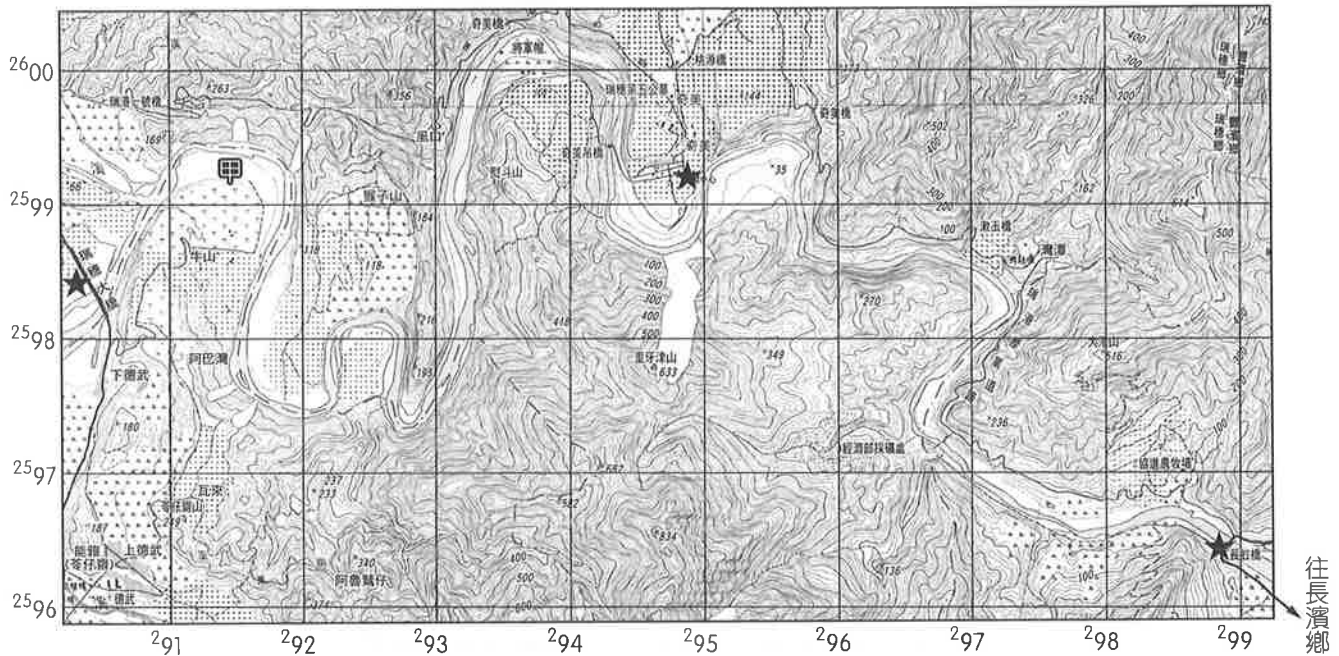


圖十七

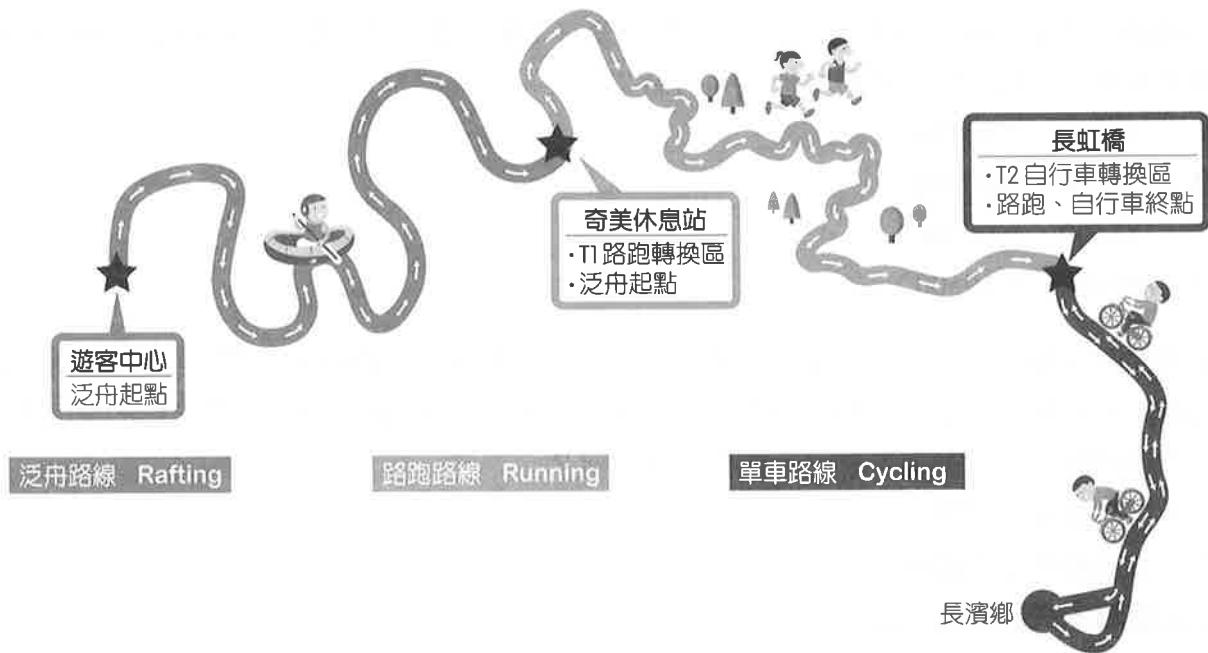
68. 根據圖中路線所涵蓋的縣市來看，若大甲鎮瀾宮 TM 二度分帶坐標為 (211800, 2693300)，則新港奉天宮的坐標位置最接近下列何者？
- (A) (246500, 2744200)
 - (B) (193200, 2485000)
 - (C) (183400, 2606000)
 - (D) (292900, 2619500)
69. 臺灣民間流傳「媽祖婆雨、大道公風」，即每逢媽祖誕辰（農曆 3 月 23 日）便經常下雨，而遇保生大帝（大道公）誕辰（農曆 3 月 15 日）則經常會颳起大風。若從氣候的角度來看，造成該期間天氣不穩定的原因，最有可能為何？
- (A) 強烈熱帶氣旋侵襲
 - (B) 赤道低壓帶北移籠罩全島
 - (C) 高壓籠罩造成空氣下沉
 - (D) 影響臺灣海陸氣團勢力轉變

70.~72.題為題組

◎2020年6月14日臺灣某河川原訂舉辦國際泛舟鐵人三項，活動路線規劃從遊客中心→奇美休息站→長虹橋→長濱鄉為止。圖十八為二萬五千分之一地形圖、圖十九為比賽路線示意圖，圖中★為各活動轉換點。請根據圖中資訊回答下列問題：



圖十八



圖十九

70. 根據圖十八推測該河川名稱為何？

- (A) 荖濃溪
- (B) 秀姑巒溪
- (C) 花蓮溪
- (D) 濁水溪

71. 假設某位活動參與者只想參加「泛舟+路跑」兩項目，若依圖十八推測泛舟起點至長虹橋之河段長度約幾公里？
(A) 7 (B) 11 (C) 14 (D) 19
72. 根據圖十八的訊息，下列敘述何者正確？
(A)長虹橋到赤道的直線距離約 2,597.5 公里
(B)奇美休息站位於河川的凹岸
(C)因應地形條件，甲處宜作為港口利用
(D)泛舟起點經緯度坐標 (23°N, 120°E)

