

110 學年度全國高級中學  
學科能力測驗模擬考試

## 社會考科

—作答注意事項—

考試範圍：第 1～3 冊

考試時間：110 分鐘

作答方式：

- 選擇題用 2B 鉛筆在「答題卷」上作答；更正時，應以橡皮擦擦拭，切勿使用修正液（帶）。
- 除題目另有規定外，非選擇題用筆尖較粗之黑色墨水的筆在「答題卷」上作答；更正時，可以使用修正液（帶）。
- 考生須依上述規定劃記或作答，若未依規定而導致答案難以辨識或評閱時，恐將影響成績並損及權益。
- 答題卷每人一張，不得要求增補。

選擇題計分方式：

- 單選題：每題有  $n$  個選項，其中只有一個是正確或最適當的選項。各題答對者，得該題的分數；答錯、未作答或劃記多於一個選項者，該題以零分計算。

祝考試順利



版權所有 · 翻印必究

第壹部分、選擇題（占 84 分）

說明：第 1. 題至第 42. 題為單選題，每題 2 分。

- 針對 2021 年行政院開放含萊克多巴胺（瘦肉精）美豬進口爭議，各縣市政府祭出地方自治條例，規定瘦肉精零檢出及相關罰責抵制美豬，行政院、衛福部則發函各縣市，要求檢討修正各地方自治條例並於期限內回覆說明。請問關於此次中央與地方的爭議，下列何種說法較為適當？
  - 我國中央與地方採均權制，各縣市制定地方自治條例抵觸中央法規仍屬有效
  - 若地方自治條例與法律的適法爭議欲解決，只有行政院有權聲請大法官釋憲
  - 縣市議會通過的自治條例與中央法規均屬法律位階，須以後法優於前法適用
  - 若地方政府認為美豬進口造成中央與地方的權限爭議，應由立法院協助解決
- 比利時在 2020 年宣布成立新的聯合政府，新政府由 7 個政黨共同組成，距離上一次擁有政府的日子整整相隔 652 天，打破全球承平時期的最長紀錄。比利時國情以多元文化著稱，每個區域中各自的政府、政黨和文化都有所不同，北部荷語文化區的經濟發達，經常與南部較貧窮的法語區產生齟齬。針對比利時的各級政府體制及運作，何者推論較符合該國現況？
  - 在長期缺乏中央政府後，新政府會趨於長期且穩定的執政
  - 中央行政立法互相制衡，新政府官員無法由國會議員兼任
  - 中央與地方採取單一制，中央政府對地方政府具有管轄權
  - 組成新聯合政府的閣揆，通常是由其中最大黨的黨魁兼任
- 小杰和小艾結婚之後，小艾成為家庭主婦專心料理家務，然而小杰和娟娟因工作關係朝夕相處發生婚外情，被小艾知悉後，就欲與小杰離婚，兩人也並未至法院辦理其他財產登記。請問關於三人之間的權利義務關係說明，何者較為恰當？
  - 小杰和小艾依夫妻法定財產制，不論婚前婚後財產都可平均分配剩餘財產
  - 小艾可向警局報案，提告小杰和娟娟侵害其配偶權的民事告訴並加以求償
  - 小杰在婚後繼承的遺產仍計入剩餘財產，小艾可就此遺產向小杰要求分配
  - 小艾在婚姻關係存續內，可和小杰約定支付不含家庭生活費的自由處分金
- 有網友在社群平臺上爆料，某所高中發生性侵案件，消息曝光後，許多網友及媒體紛紛在網路上肉搜加害人的個資，並推測出被害人的身分以及事件細節（雙方皆為未成年），甚至連該校其他學生都遭路人投以異樣眼光，後來相關的報導被網路平臺下架。請問在整起事件的過程中，何項分析屬實？
  - 為保護未成年的事件當事人，網路及媒體禁止登出其身分資訊
  - 雖然性侵害的當事人都未成年，但行為惡劣法官應該主動調查
  - 網友及媒體為主持正義肉搜加害人未公開之資料，行為不違法
  - 網友的轉貼或發文，為受《憲法》明文保障的媒體接近使用權

5. 根據經濟部統計資料顯示，隨著網路購物平臺蓬勃發展以及行動裝置普及，我國零售業網路銷售在 2020 年上半年因疫情限縮民眾外出經濟活動，促使消費管道轉移，網路銷售大幅升溫，年增 17.5%，優於實體零售業的年減 4.8%，受惠於網路零售業商品品項豐富、行動購物介面持續優化、業者「折扣行銷」推升買氣，加以此波疫情助長所致。請問依據上述經濟活動變化的說明，何者較符合現況？
- (A) 網路購物與實體購物係為消費上的互補品，網購增加會使實體銷量減少
  - (B) 網購業者折扣行銷活動，會提高誘因以增加消費者對商品購買的需求量
  - (C) 對實體零售業者而言，會因為消費者需求減少導致價格上漲及成本提升
  - (D) 疫情對於實體零售業而言，可能會增加消費者的外部成本使需求量減少
6. 衛生福利部中央健康保險署公告，擬將 8 大類醫療材料訂定收費價格上限，引發醫界強烈反彈，也驚動總統發表意見。之後衛福部部長多次與醫界溝通之後，確定將自付差額醫材價格設極端值，而 8 大醫材均未超過極端值，才讓此爭議告一段落。在其他條件不變的情形下，請問下列何者是醫材價格制定上限後，最可能引發的結果？
- (A) 設醫材價格上限是為保障消費者，所以消費者剩餘一定會增加
  - (B) 設醫材價格上限可以管制價格亂象，有利於醫療市場經濟效率
  - (C) 設醫材價格上限後，會導致部分業者不願意提供造成市場短缺
  - (D) 設醫材價格上限後，使市場上的供給量大於需求量造成不均衡

### 7、8. 題為題組

- ◎ 某市一名 29 歲的單親媽媽，疑因不堪長期獨力撫養一雙兒女，親手勒斃 2 子，隨後她服藥輕生卻獲救，法官認定單親媽媽「毫無悔意、泯滅人性」，因而判處死刑，引發各界議論。全案未定讞。在這個案件中，網友呈現兩種不同的觀點：
- 觀點一：該名單親媽媽既然忍心殺害自己的親生子女，顯見其行為已是罪無可赦，不判處死刑有違天理，不足以彰顯公義，並應永久隔離於社會以免再次傷害無辜生命，藉此保障善良人民的權益。
- 觀點二：法官無法同理單親媽媽在社會中長期遇到的困境與無助，把「育兒」的責任義務全歸到母親身上，忽略社會支持系統的缺乏，此判決偏頗、民粹，未來會製造及掩蓋類似的家庭問題，造成二次傷害。
- 請問：
7. 此一司法案件因法官判決結果引發的爭議，以下有關法官判決的敘述，何者較符合我國法律的規定？
- (A) 法官可依證據和自由心證判定被告死罪，無需受到外界干預
  - (B) 法官可以要求被告自己證明其無罪，並依證據加以科處論刑
  - (C) 法官的自由心證不適用經驗法則，無法成為科刑判斷的能力
  - (D) 法官可依被告的自白做為唯一犯罪證據，並依法律加以科刑

8. 此案件的判決結果在網路上呈現完全對立的觀點，請依照不同觀點推論下列何項論述最為合理？
- (A)觀點一的網民只採取應報理論支持法官判決，其觀點會有失偏頗
  - (B)觀點二的網民會因此判決結果悖離民眾經驗，支持提出非常上訴
  - (C)觀點二的網民對於司法院推動國民法官制度，會有較高的支持度
  - (D)不論何種觀點，在網路上對此案件的討論，已形成未審先判情形
9. 一位學者針對中南美洲的開發，有以下論述：「此地的國際貿易體系，形成於殖民征服同時展開的貴金屬開採。銀條被送往西太平洋，再運到秘魯卡亞俄港，再轉運到巴拿馬、加勒比，最後西班牙船隊再將銀條運往西班牙。此體系獲益者，是西班牙官員、西班牙國王特許商人及跨國商人等。中南美洲只會獲得被掏空的貨幣、布匹、麵粉及黑奴。」根據引文論述判斷，請問下列哪一敘述最符合此學者的立場？
- (A)中南美洲因貴金屬開採，經濟發展繁盛並促進文明開化
  - (B)歐洲政權促進國際貿易，是以剝削中南美資源為其基礎
  - (C)中南美洲豐富銀礦資源，使歐洲主宰當時世界貨幣經濟
  - (D)歐洲政權引進非洲黑奴，有助於中南美洲貴金屬的開採
10. 軍隊開始進入濱海村落焚燒屋舍，拆毀牆垣，破壞祖先祭壇；家族只有幾天的時間搬遷，除了衣物，通常他們什麼都無法帶走。所有民船都遭到焚毀或鑿沉。未依規定遷離者，一律處死。「我們成了流離失所之人」，一部福建家族回顧史寫道。而另一部家族史也提到：「只是朝著內陸走，直到走不動為止」、「在輾轉遷徙下僥倖未死之人，大量散布在遠近不等的區域」。請問上文描述的场景可能發生在：
- (A)文化大革命時期，因破四舊立四新，致使所有東西都被破壞
  - (B)國共內戰時期，因為共產黨的追擊，造成沿海居民逃亡四散
  - (C)清治時期，因為實施遷界令，導致沿海遭受破壞，人民逃散
  - (D)明朝倭寇海盜猖獗，軍隊為了圍剿海盜，連一般人民也遭殃
11. 以下三則資料，分別是明清時期海安崔氏、安陽馬氏及瑞金鍾氏的家族規約：
- 資料一：江蘇海安崔氏《族約》提到：「教訓子孫，各安生理，毋作非為」；要「悉心向善」，做「盛世良民」。
- 資料二：河南安陽馬氏《條規》：「庶民得安田裡，皆官法有以鎮撫保護者也，宜如何尊敬奉守。」
- 資料三：江西瑞金鍾氏《家規》：「首重談法」，要「歲時在祠與族人講習律令」。
- 依據這三則資料，綜合你已習得的知識，下列推論何者最合理？
- (A)商業發達，訴訟案件繁多，宗族欲培育子孫為訟師
  - (B)朝廷透過宗族力量，控制地方社會，加強統治基礎
  - (C)朝廷為避免儒家親族隱諱現象，特別強化法令宣講
  - (D)地方政府功能較弱，宗族自治宣講法令以穩定社會

12. 甲時期最有力的意象是，依靠軍隊和觀念，將東、西方區隔開來的鐵幕。許多人宣稱乙政權擬定在東邊打造帝國的總計畫，但這其實並不是乙政權的作戰目標，領導人原本也無此意。時勢創造了那樣的機會，乙政權則善用此機會。史家認為，如果西方盟國更早在西邊登陸，乙政權征服的地區大概會比較少。綜合你已習得的知識，下列解讀何者最合理？
- (A)甲時期歐洲各國結盟對抗，導致區域衝突擴大為世界大戰
  - (B)甲時期世界經濟不景氣的氛圍，為法西斯主義崛起的背景
  - (C)乙政權在英、法默許下，併吞其他國家的領土，擴張勢力
  - (D)乙政權積極證明自身政經體制的優越，企圖推動世界革命
13. 某位學者指出，中國為了對廣土眾民做出有效統治，發展出道德的、倫理的文化，「三綱五常」便是其基本概念。上位者是道德的權威，對於在下位者，他們是效法的模範，也擁有支配的權力。此外，中國地廣人眾，在政治力量達不到的地方，則有保甲的地方基層組織，並由士紳做為政治與民間的連結。相應的文化教養是儒家文學，不但承載道德倫理的意識型態，也是一種表達政治符號的書寫體系。至於東南亞的越南，由於幅員相對狹小，其統治基本上較少依靠抽象的意識型態與制度，而是更依賴人與人之間的直接關係。在上位者，從皇帝到新科進士，其身分是維持人民生計與幸福的英雄，而不是道德的模範。所以文化層面，較講求實用，更關心地理、醫藥、算命、占星等。從以上論述思考，下列推論何者較為適當？
- (A)越南雖屬於東亞文化圈，但仍有其獨特的歷史文化背景
  - (B)中國文化博大精深，越南士人難以閱讀及理解儒家經典
  - (C)部分漢人躲避清朝統治而逃亡越南，中國文化傳至越南
  - (D)受朝貢體系影響，越南臣屬中國的同時，亦模仿其文化

#### 14、15.題為題組

◎ 請閱讀下列資料，並回答問題：

17 世紀末，法籍傳教士雷孝思（Jean Baptiste Regis）順應中國皇帝提出的請求，搭乘法國商船「海神號」，與 15 位傳教士一同前往中國。因為他精通天文、曆法、算數，很快就被召入北京工作。

當時的中國皇帝開明、好學，對西方科學抱有極大熱忱，欲運用各種方式，繪製一幅真正的中國地圖。特別是在平亂時，更體悟到地圖的重要。中俄《尼布楚條約》談判時，他認為當時使用的地圖過於簡略，也有許多不合實際之處，更決心依靠傳教士，運用西方量測技術，重新繪製全國地圖。雷孝思便受命參與測繪《皇輿全覽圖》。

雷孝思在中國盡心盡力 40 年，但在年老體衰時，遭逢禁教，身心受創。曾有記載說道：「當皇帝宣布禁教時，傳教士曾與皇帝爭辯，雷孝思亦在列。」最後，雷孝思於北京逝世。

14. 依據資料提供的訊息判斷，下列敘述何者最符合雷孝思所屬教派的特色？
- (A)主張每個人都可以透過《聖經》與上帝溝通
  - (B)國王身兼政、教領袖，傳教士亦由國王管轄
  - (C)信徒應該勤勞工作，證明自己為上帝的選民
  - (D)傳教士應具良善道德，以及足夠的知識水準

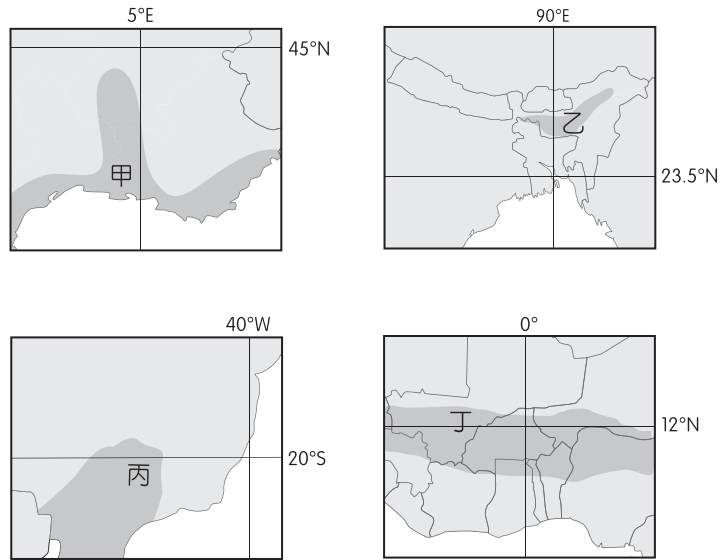
15. 綜合資料提供的訊息及你已習得的知識，關於雷孝斯在中國傳教的經驗，下列敘述何者最合理？
- (A)以西洋知識協助傳教，其對象主要為上層階級
  - (B)以武力做為後盾，其傳教對象主要為普羅大眾
  - (C)容許中國信徒祭祖，為東來的傳教士開創先例
  - (D)欲藉基督教義拯救中國異教徒，鄙視儒家學說
16. 歐洲各國推崇自由與平等的價值，然而對部分的歐洲白人來說，接受穆斯林文化仍會有「歐洲即將伊斯蘭化」的危機感。但歐洲真的會伊斯蘭化嗎？或是走向反伊斯蘭的道路？德國會放棄接納難民的路線嗎？這些議題常被提出討論。請問歐洲若走向反伊斯蘭的道路，拒絕接受難民，根據人口推拉理論判斷，此舉屬於下列何種人口遷移因素？
- (A)人口推力
  - (B)人口拉力
  - (C)中間障礙
  - (D)人口轉型
17. 小翰為了要進行論文研究，繪製某現象的分布圖，在 TGOS 平臺中輸入地址，獲得表一 4 組二度分帶坐標。請問「某現象」最可能是下列何者？

表一

	X 坐標	Y 坐標
甲	295913.870	2767690.683
乙	296050.071	2767694.089
丙	296118.005	2767517.382
丁	296088.363	2767512.620

- (A)臺灣北南東西 4 個極點
  - (B)淡水河流域之 4 座水庫
  - (C)南投縣某 4 家便利商店
  - (D)社後里之老人共餐據點
18. 我們常常能在新聞媒體上看到日本水果價格高昂的報導，日本不僅水果售價昂貴，幾乎所有的農產品都不便宜。日本屬於島國，面積狹小，平原很少，耕地面積十分有限，創造不出規模經濟，導致農產品國際價格偏高。請問日本政府可以採取下列哪些做法，幫助農人創造出農業生產之規模經濟？
- 甲、採取農業精緻化生產
  - 乙、鼓勵農家水稻田轉作
  - 丙、落實區域專業化生產
  - 丁、推動作物栽種多樣化
  - 戊、成立產銷班共同運銷
- (A)甲乙                      (B)乙丁                      (C)丙戊                      (D)甲丁


19. 圖一為 4 個農業區，每區各有一主要經濟作物分布。請問甲~丁地區依序會出現的經濟作物為下列何者所示？



圖一

- (A)甲：黃麻；乙：咖啡；丙：棉花；丁：葡萄
- (B)甲：葡萄；乙：咖啡；丙：茶葉；丁：香蕉
- (C)甲：茶葉；乙：甘蔗；丙：咖啡；丁：葡萄
- (D)甲：葡萄；乙：茶葉；丙：咖啡；丁：棉花

20. 繼地理大發現及工業革命後，近年來全球化成為另一波趨勢。全球化是一個以經濟全球化為核心，延伸到政治、文化、科技、軍事、安全、意識形態、生活方式、價值觀念等多層次、多領域的相互聯繫、影響、制約現象。請問圖二說明全球化將造成何種影響？



圖二

- (A)加速交通革新
- (B)區域組織興起
- (C)削弱環境意識
- (D)貧富差距擴大

21.、22.題為題組

◎ 以下是某位旅行者，在北半球甲、乙、丙、丁 4 個地點所做的旅遊手札：

甲：7 月非常炎熱，少有大雨，雖然沿海的涼流帶來霧氣，還是很難形成降水……，當地人總是期待冬季西風報到，好滋養耐旱果樹。

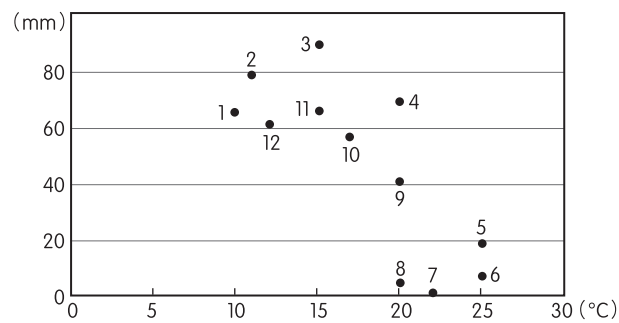
乙：當地人的衣櫃中只有短袖衣服，整年都不用換季；陣雨總在午後報到，每一次的躲雨經驗都很特別，為旅程增添不少意外的樂趣。

丙：一年有 5 個月的月均溫在 30°C 之上，地面很少植物，一起風就會吹起漫天沙塵，旅遊過程非常難以適應。

丁：2 月連下了半個月的綿綿細雨，一年當中難得太陽露臉，雨中活動是居民的日常。

請問：

21. 圖三最有可能為甲～丁何地的氣候資料？



圖三

(A)甲

(B)乙


(C)丙

(D)丁

22. 照片一～四為旅行者所拍下的景觀照片，請問照片一～四依序在甲～丁何地所拍攝？



照片一



照片二



照片三



照片四

(A)甲丁乙丙

(B)丁甲丙乙

(C)丙甲乙丁

(D)乙甲丁丙



23.、24.題為題組

◎ 請閱讀下列資料後，回答相關問題：

資料一：路透社報導，位於南美洲太平洋側的秘魯首都利馬（Lima），日前在一座古印加金字塔內，發現了 16 名被下葬於此的骸骨，從穿著和骸骨研判，極可能是飄洋過海抵達南美洲的華人勞工。在某時期，少部分的英、美「商人」渡海來到福建、廣東地區，以各種天花亂墜的條件，利誘當地農民前往外國打工淘金。此時前往外國的華工，除了少部分是被花言巧語說動而自願前去，其他多半是被迫或綁架的，他們先被運送到葡屬澳門，並用燒紅的烙鐵在耳後打上「C」形印記，被稱為「豬仔」，販運至海外，他們多數遭受奴隸般的嚴苛待遇。

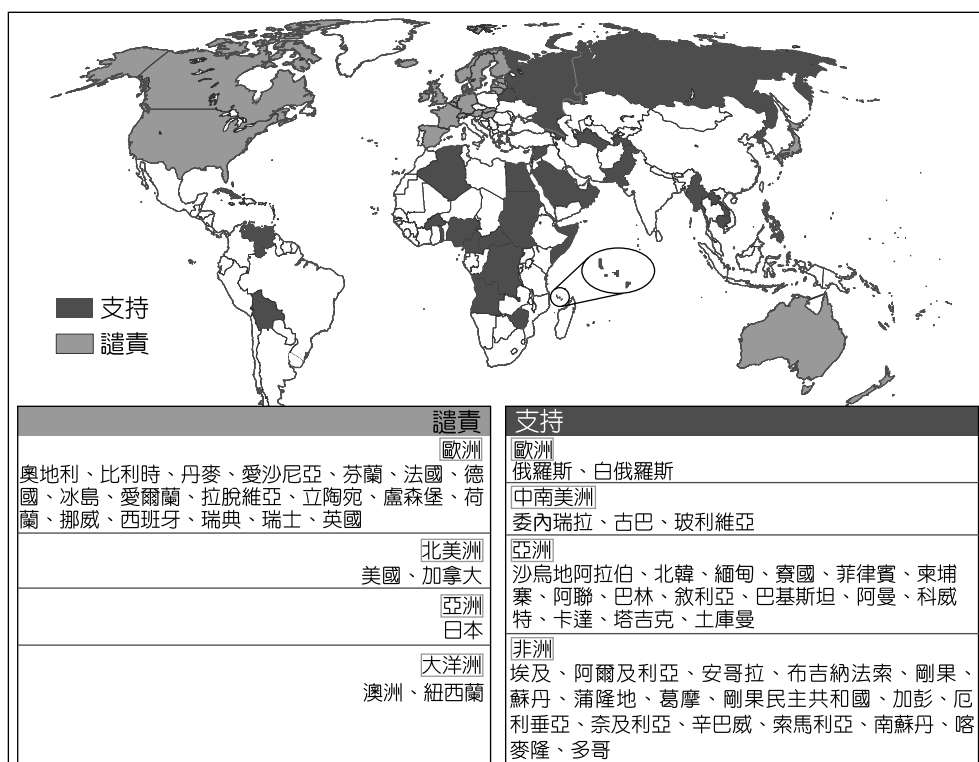
資料二：擺脫西方殖民統治的秘魯，為了加快經濟發展，需要大量的勞力。秘魯國會通過一項法案，引進華工至秘魯「挖鳥糞」。秘魯沿海地區豐富的漁產吸引海鳥聚集，時間久了，沿海小島上就堆積了大量鳥糞。在沒有化肥的時期，鳥糞是一種理想的天然肥料，秘魯的鳥糞是搶手的資源。大約一百多年前，秘魯鳥糞產業進入一個新的階段，原因是此地海岸地帶在耶誕節前後，出現一種特殊的天氣變化現象。美國《氣象學辭彙》對這種特異氣候現象的說明為：「有股沿厄瓜多海岸南下的暖流，大約在耶誕節前後發展而成，將其命名為聖嬰（El Niño），意為耶穌之子。暖流的南下與赤道降雨帶的南移同時發生，當它到達南緯 12 度左右，因為高溫效應，將使得沿岸海域的浮游生物大量死亡。」

23. 資料一提到「在某時期，少部分的英、美『商人』渡海來到福建、廣東地區」，請問其中的「某時期」，與下列何者屬於同一時期？
- (A)鄭和下西洋時，因為貿易與安全需要，有部分人士留駐當地，形成許多麻六甲華人聚落
  - (B)明朝施行海禁政策時期，迫於生計，沿海居民甘犯禁令，走私成為海盜，華人因此移居
  - (C) 19 世紀中期，因為西方國家解放黑奴，中南美洲出現嚴重勞力短缺問題，所以招募華人
  - (D)這是在二戰後期，受到兩岸政治分隔的影響，許多華人被迫逃到東南亞，因此成為僑民
24. 根據資料二之敘述，請分析聖嬰現象發生期間對秘魯的經濟產生何種影響？
- (A)沿海地區之漁獲量下降
  - (B)沿海小島鳥糞層厚度增
  - (C)糧食減產無法自給自足
  - (D)乾旱加劇影響產業發展

25.~27.題為題組

◎ 媒體報導：根據聯合國統計，逾 100 萬名的新疆維吾爾族穆斯林被關押在所謂的「再教育營」中，被迫效忠共產黨的無神論。在那裡，宗教學校和阿拉伯語課程被禁止，小孩也不准參加穆斯林活動。實踐伊斯蘭教信仰在中國部分地區被視為禁忌，信徒在實踐信仰的過程中，因為祈禱、禁食、蓄鬍、戴頭巾而面臨著被逮捕的威脅。中國政府正以反恐怖主義、分裂主義和宗教極端主義為名，企圖「將那裡的宗教社會改造為社會主義社會」。

國際間包括美國、日本和歐洲聯盟國家在內近 40 個國家，在 2020 年 10 月 6 日發表聯合宣言，呼籲中國尊重維吾爾在內的少數民族人權。此外，包含俄羅斯在內等 37 國聯名致信聯合國，表態支持中國的新疆政策，反對將人權「政治化」，雙方陣營壁壘分明。圖四代表對於中國的新疆政策，譴責和支持國家的區域分布。請問：



資料來源：中央社

圖四

25. 根據上文，中國政府在處理新疆問題上，何者並「非」其思考觀點？
- (A)以自我及漢民族的觀點及意識型態，做為判斷新疆維吾爾族的依據
  - (B)以文化位階的觀念認為維吾爾族的穆斯林文化較低劣應該予以禁止
  - (C)認為自身所屬的人種、民族甚至無神論的宗教信仰，優於維吾爾族
  - (D)認為文化各有其優點，漢人與維吾爾族無優劣之分都應該予以尊重
26. 依圖四判斷，下列關於國際間支持與譴責中國的兩大陣營之敘述，何者較為適當？
- (A)支持陣營各國之 HDI 指數較譴責陣營國家為高
  - (B)伊斯蘭教國家基於宗教立場譴責中國新疆政策
  - (C)經濟結盟引發區域分化，兩大陣營因之而產生
  - (D)圖中譴責陣營國家為傳統認知的北方世界國家

27. 現代中國的新疆政策推行目標，除了政治上一統之外，更欲從文化層面消弭差異，使新疆「中國化」，企圖完全解決新疆的反抗。17、18 世紀以來，清朝以優勢武力迫使新疆依附，然新疆的反抗仍未斷絕，故 19 世紀仍有衝突，乃至現代中國執行更徹底的政策來改變新疆。關於清朝與新疆的關係，下列敘述何者最合理？
- (A) 清朝將新疆回民遷徙至沿海省分，加速漢化而消弭差異
  - (B) 清廷在新疆推行改土歸流，避免土司坐大導致難以掌控
  - (C) 清朝實施封禁政策，禁止漢人遷徙新疆衝擊其崛起之地
  - (D) 清朝宣布新疆設省，加強掌控新疆以避免外國勢力侵入

28.、29.題為題組

- ◎ 2020 年 9 月中旬，美國國務次卿柯拉克（Keith Krach）抵達臺灣進行訪問，他在美國國務院的地位，僅次於國務卿與副國務卿，是第三把交椅。柯拉克也是過去 41 年來，美國訪問臺灣的最高級別國務院官員。不過，就在同一天，中共宣布在臺灣海峽實施軍事演習，並且罕見地出動 18 架次戰機在臺海上空騷擾臺灣空域，並且有戰機飛越海峽中線，臺灣戰機也緊急出動十多架次，進行廣播驅離。這場罕見的大規模軍事叫陣，也被認為是 1996 年第三次臺海危機後，中共最激烈的挑釁行動。美中臺三方目前正處於「高度緊張」，卻又「高度平衡」。

有媒體分析，現在的臺灣對美國來說具有非常重要的戰略地位。一方面，美國前國務卿蓬佩奧（Mike Pompeo）曾遊走世界各國，遊說各國加入「反中共大聯盟」的行列；美方更聯合日本、澳洲、印度，以及泰國等東盟國家，準備在印太區域籌組「亞洲版北約」，用來對抗中共侵略、防堵中共擴張。另一方面，臺灣擁有自由、民主、人權等普世價值，不但與美方擁有共享的價值，同時也是幫助中國走向自由與和平的重要參照。前美國副總統彭斯 2018 年 10 月在華府演講時曾公開推崇：臺灣是「中華文化與民主的燈塔」、「擁抱民主的臺灣為所有華人展示了一條更好的道路」。

請問：

28. 文中提及美國一直在兩岸之間扮演關鍵角色，依據美中臺目前的三邊關係以及彭斯談話內容對兩岸之間的說明，下列敘述何者較符合現況？
- (A) 美中之間對「一個中國」的內涵認知完全相同
  - (B) 美臺間關係友好是因為美國承認我國法理主權
  - (C) 彭斯談話說明臺灣對中國具民主和平論的啟示
  - (D) 美臺之間關係密切對美中及兩岸關係影響不大
29. 柯拉克是過去 41 年來，美國訪臺層級最高的國務院官員，他的訪臺除了顯示近年亞洲局勢中，美國對臺灣的重視之外，更反映長期以來美、臺之間的交流關係。根據上述，我們可以如何理解美、臺之間的外交關係？
- (A) 中華民國退出聯合國，導致美國不再派遣正式外交人員訪臺
  - (B) 美國尼克森總統訪中，等同不承認臺灣政權而降低交流層級
  - (C) 中華民國與美國斷交，使美國長期避免派遣高層級官員訪臺
  - (D) 在〈八一七公報〉中，美國承諾減少國務院官員訪臺的次數

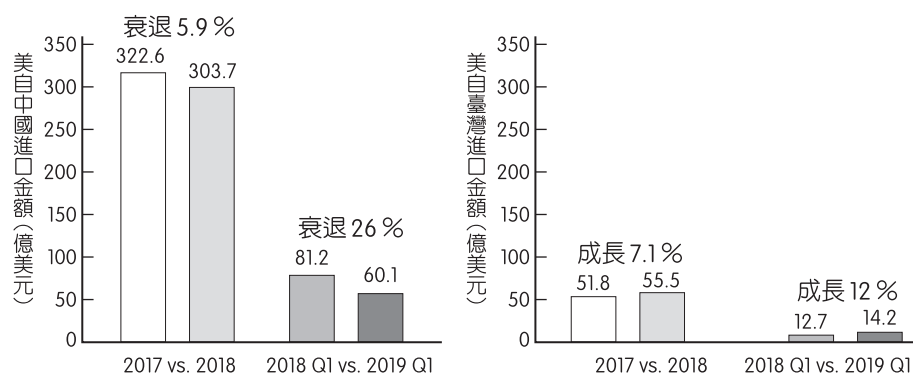
30.、31.題為題組

◎ 此時的核心理念為「開拓人類的理智，並希望人類社會能邁向更完美的境界」。學者們呼籲國王要以國家人民的福祉為己任，改革與人民有關的各種社會議題。無論是基於真心相信，或是單純呼應當時潮流，許多統治者都努力改善國政，同時表現出寬仁大度的風範。因為他們認為「自由」、「權利」不再是少數人能享有的特權，只要生而為人都應當享有。請問：

30. 題文的相關敘述最符合下列哪一時期的思想？
- (A)柏拉圖認為由理性的哲學家治國，才能夠實現人民福祉
  - (B)文藝復興時義大利城市追求富強，故遵從學者改革意見
  - (C)宗教改革者重視信仰自由，學者藉此提出普世人權價值
  - (D)啟蒙運動時期統治者接納學者意見，藉此致力改善國政
31. 從上述這些學者的思想，可判斷出此後為人權的發展帶來何項影響？
- (A)影響美國〈獨立宣言〉與法國〈人權宣言〉的制定，但仍為有限人權概念
  - (B)影響美國制定《民權法案》，並且廢除種族隔離政策以保障黑人的投票權
  - (C)人民的權利從個別權利進步到集體人權，並發展成全世界普世的人權價值
  - (D)個人權利從公民與政治的權利，進展到經濟、社會與文化性的普遍公民權

32.~35.題為題組

◎ 中美貿易戰源起於前美國總統川普在 2018 年宣稱：「中國偷竊美國智慧財產權和商業祕密」，因此根據《1974 年貿易法》第 301 條，對從中國進口的商品徵收關稅。有學者對中美之間的摩擦提出了「修昔提底斯的陷阱」一說，另有媒體以「中美貿易戰：現在開始，是臺灣最好的時代」為標題，剖析臺灣從貿易戰中獲得直接的好處，臺灣的出口型經濟發展模式，持續成為其他國模仿的對象。圖五為美國自中國與臺灣進口貨品的金額。請問：



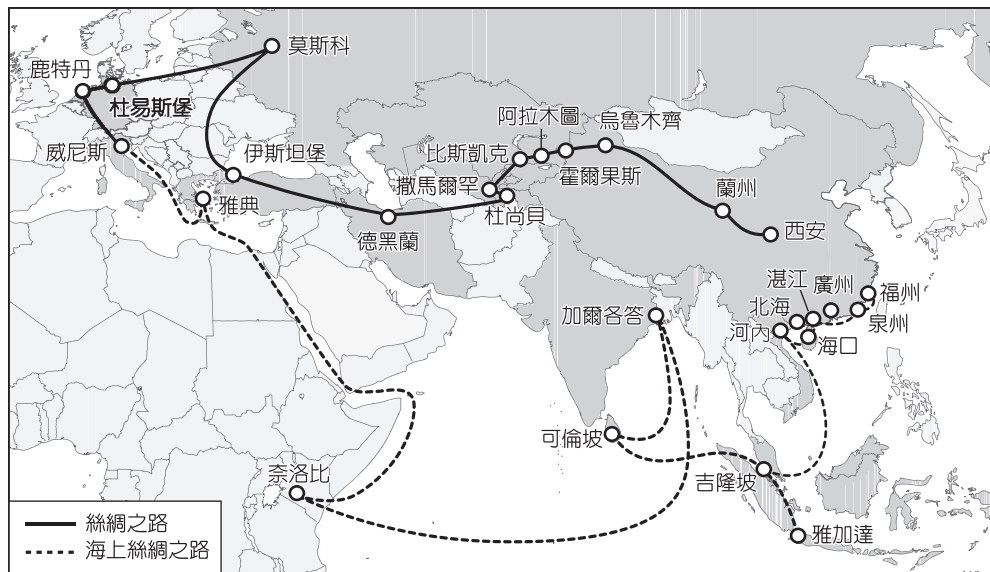
圖五

32. 臺灣形成出口型經濟發展模式，其主要原因與臺灣哪一地理特色有關？
- (A)人口數量規模過小
  - (B)單一經濟色彩濃厚
  - (C)人口成長率漸下降
  - (D)物產多樣而且豐富

33. 依據上文與圖五所示，中美貿易戰後對各國進出口貿易的有利與不利影響，何項說明比較適當？
- (A)臺灣的絕對利益提升，有利我國貿易發展
  - (B)對中國的進口商不利，反而有利於出口商
  - (C)增加臺灣出口的競爭力，有利於總體經濟
  - (D)美國對中國設立高關稅壁壘，有利於美國
34. 根據題幹資料判斷，中美貿易戰對世界經濟體系所產生的影響為下列何者？
- (A)不平等交換更加劇
  - (B)形成三角貿易體系
  - (C)促成了區域專業化
  - (D)跨國供應鏈之重組
35. 修昔提底斯是古代史學家，曾經觀察到某個以海軍為首的國家崛起後，引起另一個以陸軍為首國家的不滿，導致戰爭變得不可避免。修昔提底斯觀察兩強從合作到對立的情況，正好被近年研究國際關係的學者引用，以「修昔提底斯的陷阱」形容美國與中國的緊張關係。請問依據上文敘述，修昔提底斯看到的戰爭為何？
- (A)伯羅奔尼撒戰爭，因為雅典崛起，引起斯巴達的不滿
  - (B)亞歷山大東征，馬其頓崛起，而引起波斯帝國的不滿
  - (C)十字軍運動使法蘭克王國崛起，引起阿拉伯帝國不滿
  - (D)三十年戰爭使法國崛起，因此引起神聖羅馬帝國不滿

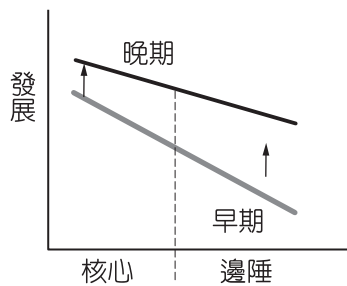
36.~38.題為題組

◎ 中國在 2013 年倡議「一帶一路」，透過以經費援助他國基礎建設的方式，拉攏非洲及中東國家，企圖建構一條陸上絲綢之路及海上絲綢之路，挑戰美國霸權的地位。中國「一帶一路」欲整合的沿線國家多是地緣政治上的高風險國家，這也是部分西方國家詬病「一帶一路」最主要的理由。但是，一味規避風險可能會繼續原有的全球化路徑，甚至進一步固化世界經濟體系中「核心」與「邊緣」之間的金字塔結構。圖六為一帶一路的示意圖。請問：

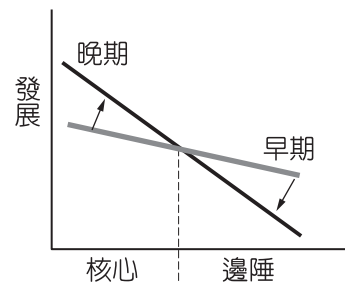


圖六

36. 「一帶一路」的戰略規劃，能解決不少中國國內目前所面臨的問題。請問上述問題包含下列哪些？
- 甲、產能過剩問題  
乙、資源獲取問題  
丙、國家地位問題  
丁、人口老化問題  
戊、工資上漲問題
- (A)甲乙丙  
(B)丙丁戊  
(C)乙丁戊  
(D)甲乙戊
37. 題文中的「一帶」與「一路」分別對應古代絲路中的「陸上絲路」和「海上絲路」；在唐代以後，海上絲路及交流的重要性愈加重要。下列有關於中國海上貿易與交流之敘述，何者正確？
- (A)美洲作物傳入中國，使明清時期糧產增加刺激人口增長  
(B)明清朝廷鼓勵華商到南洋經商，以鄭和出使西洋為顯例  
(C)西班牙商人將美洲銀礦運至巴達維亞，交換中國的貨物  
(D)前往東南亞的華商及手工業者，時常被西洋殖民者奴役
38. 若同學引用核心與邊陲交互作用之兩種模式（如圖七、圖八）來詮釋「一帶一路」背後的政治角力，下列哪一個同學的說法較為合理？



圖七



圖八

- (A)小楷：「一帶一路」的交通建設完備後若加速了沿線國家人口外流，此種現象可用圖七解釋
- (B)小如：中國企圖透過「一帶一路」的戰略規劃進行整合，其所預期獲得的效益可用圖八解釋
- (C)小杰：部分學者不看好「一帶一路」，認為沿線國家無法獲得好處，這種論點可用圖八解釋
- (D)小芳：中國工程技術和管理人員進駐「一帶一路」沿線國家，其所帶來的效益可用圖八解釋

## 39.~42.題為題組

◎ 下列為原住民學者孫大川曾經談到的一段內容，請閱讀後回答問題：

「臺灣原是菲律賓板塊和大陸板塊擠壓隆起的國度，山盟海誓的記號，被完全記錄在本區的地質與景觀上。如果你是南太平洋夏季形成的颱風，調動風雨、海浪和天上的烏雲，以穩定的速度逼近臺灣，你首先碰到的就是本區的山脈，由北向南延伸，像母親的雙臂歡迎你也阻擋你。

後來我才知道這廣大的地區，原本是臺糖的土地，河床的土質，較適宜種甘蔗，以往是茅草和低矮熱帶樹種雜生的地方。耆老都指稱，這裡曾是其祖先經常狩獵之處。我甚至可以想像，○○時代這介於山脈之間的平坦河床，一定是梅花鹿追逐棲息的田野。□□人來了，有效的行政操作，花東土地丈量、登記、分割有了全新的面貌。◆◆承襲□□的國土政策，造成的共同結果是：原住民失去了自己的獵場甚至部落。有時我驅車往來於此地，凝望左右兩邊的青山，和沖刷下來的河道，總不期而然地勾起蠻荒的記憶。

我終於能體會原住民上一輩族老的心情。『大自然』被國家化、私有化、商品化、法條化，人與自然萬物自由交往的親密關係，被硬生生切斷了。我們看日據時代大正年間兩個部落的戶籍資料，其中詳細的註記了『蕃戶』的種種犯罪紀錄，令人驚訝的是這些泰雅人所犯的罪，除了『初犯刺鯨』和違反刀槍管制規定外，絕大多數的犯罪事實皆與『自然採集』的生活習慣有關：『初犯魚藤違反，勞役四日。』『初犯路旁生木亂伐，勞役五日。』『初犯山野燒失，勞役四日。』『再犯捕魚及魚藤使用，勞役三日。』我相信這樣的罪罰不只在這兩個部落，應當是臺灣原住民各部落的普遍經驗。」

39. 依據上文內容判斷，下列推論何者正確？

- (A) 依據花東判斷，他們的耆老可能是屬於泰雅族或布農族
- (B) 祖先為了滿足開港後鹿皮市場需求，在河床飼養梅花鹿
- (C) 從花東土地丈量、登記與分割，可推斷此時為日治時期
- (D) 日治時期政府為奪取山林資源，承襲清代開山撫番政策

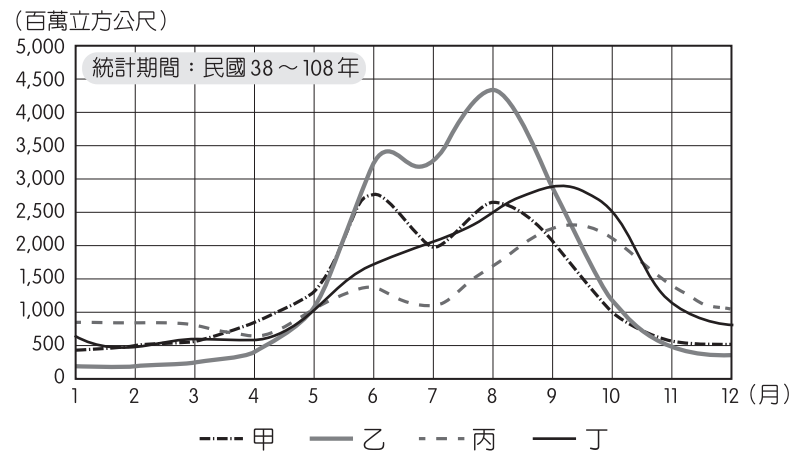
40. 從日本統治時期對原住民族處理自然環境的法律規範，到現在政府制定的《原住民族基本法》中，明訂政府或私人於原住民族土地範圍內之公有土地從事土地開發，應諮商並取得原住民族或部落的同意或參與，對於此法律的轉變，何者詮釋較為恰當？

- (A) 此法律為維護原住民族的自然環境，不得在原住民族土地從事開發
- (B) 原住民族的參政權利受到限制，因此需要立法保障原住民族自治權
- (C) 政府為尊重原住民族集體的文化權，肯定原住民族的種族中心主義
- (D) 此立法肯認原住民族的多元文化主義，並蘊含政府轉型正義的觀點

41. 若以社會正義的角度來看待文中畫線的內容，並追究當年原住民所遭受的不公平待遇，請問何者說明較為適當？

- (A) 現代政府針對過去侵犯人權的不正義行為給予彌補，符合匡正正義的觀點
- (B) 政府正視對原住民族不公平待遇並防止未來再犯同樣錯誤，符合程序正義
- (C) 因早期對原住民族不公平待遇，政府推動積極性差別待遇是考量形式平等
- (D) 政府對原住民族所受的歧視予以彌補，落實無差別對待以改善不公平情況

42. 圖九甲～丁為臺灣四區長期平均的水文歷線圖。請問本區河川最接近圖中哪一代號所表示之水文歷線？



圖九

- (A)甲 (B)乙 (C)丙 (D)丁

第貳部分、混合題或非選擇題 (占 60 分)

說明：本部分共有 8 題組，每一子題配分標於題末。限在標示題號作答區內作答。選擇題與「非選擇題作圖部分」使用 2B 鉛筆作答，更正時，應以橡皮擦擦拭，切勿使用修正液（帶）；「非選擇題書寫部分」用筆尖較粗之黑色墨水的筆作答；更正時，可以使用修正液（帶）。請由左而右橫式書寫，並依題目指示作答。

43.~45.題為題組

◎ 幸福市因為當地的房價及租金都偏高，雖然閒置空屋很多，但消費者仍然買不起、租不到，加上都更改建推動不易，租買資訊不對等諸多問題，導致該市房屋出現市場失靈。幸福市市長為維護居住正義，要求中央、地方政府與民間企業共同合作處理公共事務，並提出了下列三項解決之道：

- (一)社會住宅出租：提升公共服務品質，包括政府委託民間經營托兒、托老機構及加入青年社區服務，營造安全舒適、有溫度的住宅社區環境。
  - (二)民宅更新：對於 30 年以上的 10 萬戶房屋協助各類房屋修繕補助、老屋健檢或提供容積獎勵鼓勵改建。
  - (三)房市健全：致力於資訊透明、交易安全、價稅合理。為降低空屋率，實施「囤房稅」，採取差別稅率，鼓勵屋主釋出空屋。至於租房，市府依照家戶所得與人口數提供租金補貼。
- 請問：

43. 針對幸福市的房屋價格居高不下所衍生出的市場失靈現象，何者說明較符合該現象？（2 分）

- (A)該市的房屋市場被少數屋主所壟斷，形成不完全競爭市場來操弄價格
- (B)該市房屋的供需不平衡現象，導致供不應求，房價上升產生市場失靈
- (C)該市房屋市場的消費者沒有公開透明的租購屋資訊，形成資訊不對稱
- (D)該市的房屋具有公共財特性，屋主不願出售房屋，需要政府介入提供



44. 幸福市市長所提出的解決之道中，對解決外部性問題和對整體經濟的影響，下列何者敘述較為正確？（2分）
- (A)提供社會住宅出租可解決房屋市場中，財產權不明確的問題
  - (B)實施囤房稅會提高屋主的外部成本，促成空屋釋出解決失靈
  - (C)民宅更新拆除改建後所出售的房屋，有助於提升當年的 GDP
  - (D)市府提供租屋補貼和青年志工的社區服務，仍有利經濟成長

45. 媒體針對幸福市市長的住宅政策，提出的評論如下：「幸福市市長在這項住宅政策裡，展現出良好民主治理的品質」。請在作答區中 4 個選項勾選出何者最符合「民主治理」？並從上文內容中，摘要出符合良好民主治理的依據。（4分，限 40 字內）

民主治理（請勾選一項）	摘述依據（限 40 字內）
<input type="checkbox"/> 權力分立 <input type="checkbox"/> 公私協力 <input type="checkbox"/> 地方自治 <input type="checkbox"/> 萬能政府	

46.、47.題為題組

- ◎ 土地問題往往與一個時代的政治、經濟及社會問題息息相關。重要土地制度的制訂或是廢止，通常也代表著社會有了重大的變革。因此，透過土地制度歷史演變的研究，可以擴展我們的歷史視野，了解一地的政治、經濟及社會發展的歷程。以下四段資料，是臺灣各個歷史時期的土地現象，請閱讀後回答問題：

資料甲：

表二

地則	官田	文武官田
上田	18.0	3.60
中田	15.6	3.12
下田	10.2	2.40

單位：石（粟）

資料乙：周婉窈在《臺灣歷史圖說》一書中，形容臺灣的某種土地現象：「如果拿房子來說，○○就是屋主（大房東），□□就是二房東，他們分別向房客收取房租，但只有屋主（大房東）須繳稅給政府。複雜的是，□□大都擁有永佃權，即永久耕作權，並且可以自由地典售佃權。就像二房東可以永遠租賃該屋，並自由處分他的永賃權——如不須屋主同意，將永賃權轉賣他人。」

資料丙：黃叔瓚《臺海使槎錄》：「蓋自紅夷至臺，就中土遺民令之耕田輸租，以受種十畝之地為一甲，分別上、中、下則徵粟，其陂塘隄圳修築之費，耕牛農具籽種，皆紅夷資給，故名曰『王田』。亦猶中土之人受田耕種而納租於田主之義，非民自世其業而按畝輸稅也。」

資料丁：「臣猶恐此次就田問賦，業戶完糧，大租無著，飭令臺北府、縣商同紳士，折中定議，就大租酌扣四成，貼業戶完糧，餘仍照納。業戶既免向隅之弊，更無虧累之虞。大租應完正供，無從推託。」

46. 以上四段資料為臺灣各時期政權的土地政策相關敘述，請依照資料所描述之相關措施，排列其施行之先後順序。(2分)

- (A)甲乙丙丁 (B)乙丁丙甲  
(C)丙甲乙丁 (D)丁甲乙丙

47. 關於資料乙的敘述，請問是指臺灣歷史上何種土地現象？(2分)請依據資料內容簡述判斷的理由。(4分，限30字內)

土地現象(請勾選一項)	判斷的理由(限30字內)
<input type="checkbox"/> 指派漢人軍隊前往各地屯墾駐防 <input type="checkbox"/> 主動提供農耕所需吸引漢人拓墾 <input type="checkbox"/> 農地的所有權與使用權區分複雜 <input type="checkbox"/> 確立繳稅人並核實農地使用狀況	

48.、49.題為題組

◎ 請閱讀下列三則史料後，回答問題：

資料一：革命領導人在紐約的勝利出場，等於是美國革命獲勝一方的凱旋閱兵。整整一週，愛國者們大擺宴席，點燃篝火，張燈結彩地慶祝撤離，還燃放了北美地區有史以來最盛大的煙火表演。……革命領導人和他的朋友們觥籌交錯，把酒言歡直至深夜。為美利堅合眾國乾杯！為美國的歐洲盟友乾杯！為美國那些「為了我們的自由而犧牲的英雄乾杯」！「願美國成為地球上每一位受迫害者的避難天堂」。

資料二：在喜氣洋洋的紐約民眾中間，還夾雜著一些不那麼開心的面孔。對於效忠派，也就是在獨立戰爭期間支持英國的殖民者而言，英軍的撤離令他們愁腸百轉，而非興高采烈。……英國人的撤離把未來該何去何從的緊迫問題擺在他們的眼前。……他們北上來到加拿大，乘船前往英國，遠行至巴哈馬群島和西印度群島；有些人甚至到了更遠的非洲和印度。……在他們看來美國與其說是「受迫害者的避難天堂」，不如說是虎視眈眈的迫害者。

資料三：對十三殖民地的50萬黑奴而言，革命提供了一個異常驚人的機會，英國軍官提出，同意參戰的奴隸即可獲得自由之身。……革命同樣為美洲原住民印第安人提供了一個難以推卻的選擇。經歷了好幾代殖民者對土地如飢似渴的入侵和蠶食，好幾個印第安民族……選擇與大英帝國結盟。

48. 資料一中提到「為美國的歐洲盟友乾杯」，在這一場美國革命戰爭中，有幾個歐洲國家選擇支持美國而非英國，請任舉一個支持美國獨立革命的國家。(2分)

49. 對於三則史料的解讀，以下理解何者較合理？(2分)

- (A)美國獨立之後，黑奴逃往美國，享有自由與平等權  
(B)反對美國獨立者缺乏民主精神，懷念英國殖民體制  
(C)關於美國獨立運動，其民眾的看法及立場非常多元  
(D)美國獨立成功後，以政府力量宣傳反英殖民的論調

50、51.題為題組

◎ 請閱讀下文後回答問題：

資料一：大約從 17 世紀以後，漢人便陸續從中國大陸帶來各種宗教和神明。這些神明所在的廟宇，往往是各個地區的信仰、文化和各種活動的中心。而彰顯慈悲與包容的「有應公」和「萬善爺」，激勵忠義和英勇的「義民爺」，則都是埋骨於這塊土地上的神明。

資料二：彰化、嘉義、雲林（北港）等地也有「義民廟」，所供奉的主要是死於「林爽文事件」的漳泉籍「義民」。此外，像新北市林口區的「義民廟」、臺北市文山區的「義民爺廟」、臺南市鹽水區的「忠義公廟」，則是「抗西、荷」和「抗日」的烈士。

資料三：苗栗以海山線劃分，海線為福佬人的聚落，山線的頭份為客家人聚落。清治時代，中港河流域漢人開墾主要路線，拓墾方向是由竹南沿海平原進入頭份內陸；一直到 1892 年義民廟建廟，義民爺信仰正式在頭份地區落地生根，流域內居民的信仰中心從以神農大帝為主，到媽祖信仰、義民爺信仰並立的演變過程，正是閩人、粵人互動的結果。

50. 從「義民爺」與「有應公」信仰的出現，我們可以推論出下列何者？（2 分）

- (A)這些信仰的出現，可以用來說明臺灣已從移墾社會轉變成定居社會
- (B)義民爺與有應公信仰，反映臺灣信仰跟政府積極提倡有極大的關係
- (C)這類的神明跟媽祖一樣屬於全臺普遍信仰，隨著土地拓墾傳播各地
- (D)義民爺與有應公信仰跨越族群隔閡，形塑臺灣宗教信仰的在地特色

51. 從清治時代後期開始，由於臺灣有全世界重要的「甲」原物料而被捲入世界貿易體系。當時頭份土地的開墾區域與「甲」原物料的生產區域幾乎重疊。資料三中提供頭份的地理位置敘述，請同學就頭份的位置分析自然環境與物產分布的關係，判斷「甲」原物料為何？（4 分）

作物	說明頭份自然環境與該物產分布的關係（限 50 字內）
<input type="checkbox"/> 鹽 <input type="checkbox"/> 糖 <input type="checkbox"/> 樟腦	

52.、53.題為題組

◎ 「本區屬濁水河流域，在日治時期就已有園藝農業。1980 年代，本區花卉種植面積不斷擴大，目前是臺灣最大的花卉生產基地，擁有 5 千多公頃花田，供應全臺 7 成花卉、9 成種苗，因而有『臺灣花都』之美稱。此區花農在種花時就得考慮市場需求：在品種的選擇上，花農很少種植單一品種的花卉；經營面上也必需重視銷售管道的建立。」請問：

52. 「本區」是指臺灣哪一行政區？（2 分）

(A)



山地約占全縣面積 95 %

(B)



山地約占全縣面積 10 %

(C)



山地及丘陵約占全縣面積 75 %

(D)



山地及丘陵約占全縣面積 83 %

53. 根據上文判斷，此區花卉產業的經營特徵應為何？並請從題文擷取兩句文句加以佐證。（4 分）

特徵	佐證證據（從題文擷取，限 40 字內）
<input type="checkbox"/> 商業性 <input type="checkbox"/> 精緻化	

54.~56.題為題組

◎ 佐藤春夫是日本大正民主時期的近代文學作家。佐藤所創作的「臺灣作品」使他在文壇中占有特殊的地位。

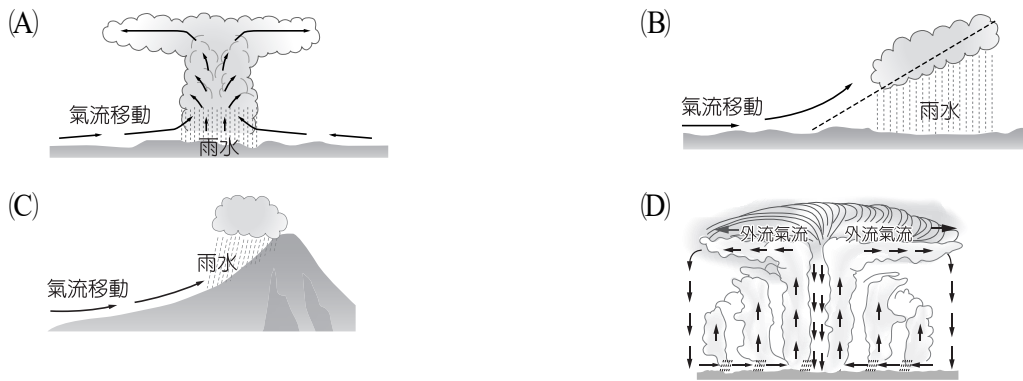
佐藤曾來到臺灣旅行，這趟旅程長達 3 個多月，時任臺灣總督府博物館（今國立臺灣博物館）代理館長的森丑之助給予他許多建言，他也在這趟旅行結束後發表多篇著名的「臺灣作品」。森丑之助再三建議佐藤春夫前往臺灣的「蕃地」觀光，造訪阿里山、日月潭與某地，還強調某地「是在中央山脈附近可以了解生蕃人狀況的絕佳地點」。某地是「泰雅族」居住的地方，當時有「蕃界的第一大都會」之稱。

根據邱若山《佐藤春夫：殖民地之旅》一書中所製作的〈佐藤春夫臺灣島內旅行日程推定表〉，佐藤在 9 月 16 日離開打狗後，於嘉義停留一晚，因當月暴風雨曾肆虐臺灣，前往阿里山之交通尚未恢復，佐藤只好放棄前往阿里山，轉而來到了集集街。他於集集街住宿時，已聽聞「生蕃蜂起，某地的日本人全滅的消息」。

請問：

54. 文中的「生蕃蜂起，某地的日本人全滅」是發生了什麼事件？（2 分）

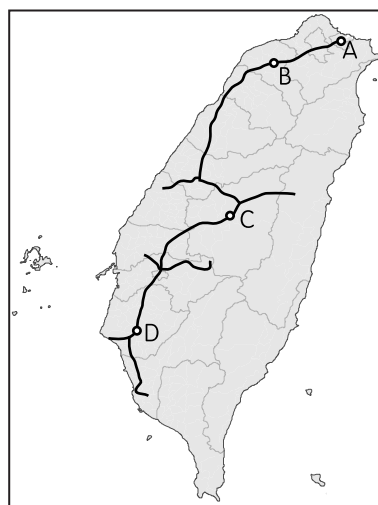
55. 佐藤春夫不得不放棄原訂的阿里山行程，轉往其他地區，是因暴風雨肆虐臺灣所致。請問此時臺灣的暴風雨應是屬於下列哪一種降水類型？（2分）



56. 如果運用地理媒體重新踏查佐藤春夫的路線，圖十衛星影像所呈現的景觀位於圖十一中何地？（2分）



圖十



圖十一

(A) A

(B) B

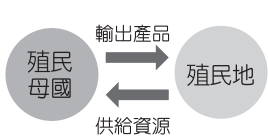
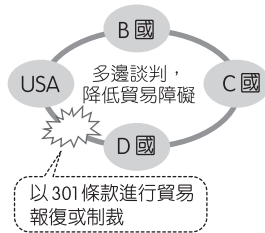
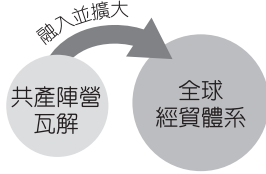
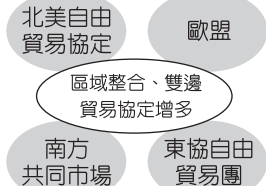
(C) C

(D) D

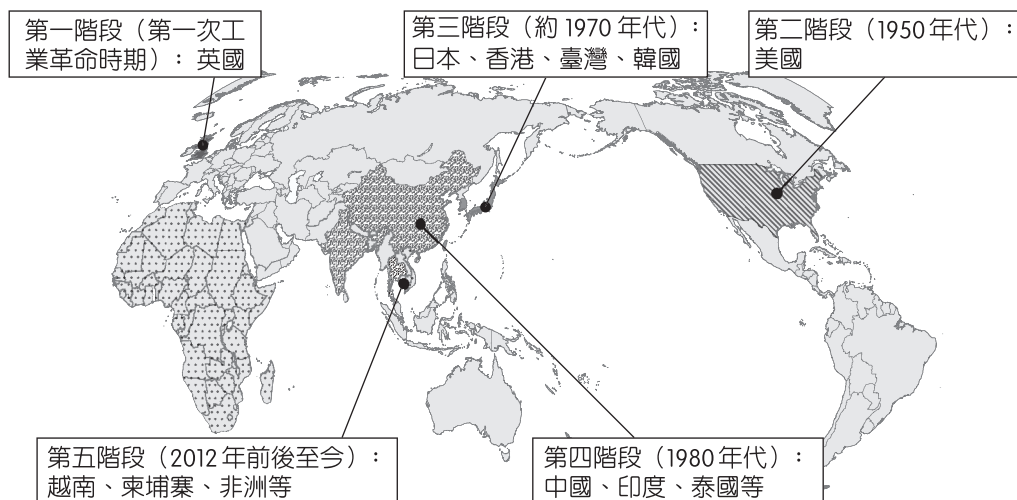
57.~61.題為題組

◎ 資料一：有學者將 19 ~ 21 世紀的全球經貿演變過程分成表三所示的 4 個階段。

表三

第一階段 19 世紀末~ 20 世紀初	第二階段 1950 ~ 1980 年代	第三階段 1990 ~ 2000 年代	第四階段 2001 年迄今
國際貿易快速成長 	國際貿易逐漸成長 	國際貿易快速成長 	國際貿易持續成長 

資料二：工業區位因素的選擇主要目的就是選擇工廠最適當的設置地點，讓工廠的生產成本降至最低，獲得較高利潤，圖十二為全球某種產業區位變化之情形。



圖十二

請問：

- 根據資料二，促成此產業不斷遷廠，其背後所考量的因素為下列何者？（2 分）  
(A)原料、資金      (B)市場、勞力      (C)勞力、技術      (D)動力、市場
- 根據圖十二可知，「歐美日此種產業陸續遷往國外，且不再從事生產，遷出的目的地隨時間而變化」下列哪一個概念最適合解釋這個現象？（2 分）  
(A)區位擴散      (B)區位移轉      (C)區位慣性      (D)區位聚集
- 在資料二中，將全球產業區位分為五個階段，藉以呈現各時期全球製造重鎮的轉變。請問全球產業區位從第二到第三階段的變遷過程中，臺灣政府最可能採取下列哪一項措施？（2 分）  
(A)管制進口以及高額關稅以扶植臺灣本地產業  
(B)採取出口擴張策略，在高雄成立加工出口區  
(C)積極推動十大建設，以建立完整之工業體系  
(D)積極推動經濟轉型，在新竹市建立科學園區

60. 因應資料一全世界貿易的轉變，國際間成立了一個全球性的經貿組織，有關此組織的說明何者較為適當？（2分）
- (A)該組織在第二階段出現具有明確組織架構  
(B)該組織強調互惠不歧視的最惠國待遇原則  
(C)該組織設爭端解決機制且僅做為參考之用  
(D)該組織採取多數決方式以保障會員之權利
61. 承第60.題，請寫出題幹中的國際組織名稱為何？並請分析臺灣具有比較利益的產業適合進口或出口？請勾選一項，並說明原因為何？（4分，限30字內）

此國際組織名稱	
具比較利益的項目適合	<input type="checkbox"/> 進口 <input type="checkbox"/> 出口
原因（限30字內）	

62.~65.題為題組

- ◎ 2020年初開始在世界流行的嚴重特殊傳染性肺炎（COVID-19），各國也開始限制口罩出口，原本可自由往來世界各地的人們，生活習慣有巨大的改變，出門要佩戴口罩、物品要用酒精消毒，疫情嚴重的國家，甚至實施「禁足」。各國幾乎都受到這波疫情影響，美國也不例外，甚至連當時的美國總統川普及第一夫人都染疫。2021年6月中，美國國內死亡人數已突破60萬大關，儘管疫苗已問世，染疫死亡人數仍持續成長，甚至超過兩次世界大戰與越戰中死亡人數之總和。但即使是全美染疫死亡率最高的堪薩斯州戈夫郡（Gove County），該郡「每132人就有1人死亡」，居民仍對口罩命令極大反彈。美國人對於戴不戴口罩存有很大的爭議，有觀察者提出幾個可能原因：一、美國人崇尚自由，認為政府不該過度限制民眾的生活。二、民眾受到政治人物的影響，認為戴口罩沒有用，並且將戴口罩視為對個人健康管理不當，而不是想防止病毒擴散。三、受到恐怖攻擊的影響，美國民眾對於伊斯蘭教穆斯林的蒙面習俗產生反感。綜上所述，美國政府防疫政策的推動上，遇到不小的挑戰。COVID-19疫情，除了影響人民生活外，對全球經濟也造成很大的損害，表四為2020年國內外重點機構對肺炎疫情影響全球經濟的看法。請問：

表四

重點機構（分析時間）	主要看法
經濟合作暨發展組織（OECD） （2020.06.10）	預測2020年世界經濟萎縮6%，並警告若年底爆發第二波疫情，重新實施封鎖，全球經濟萎縮將達7.6%
經濟學人智庫（EIU） （2020.05.15）	COVID-19疫情將重挫全球的進程，甚至逆轉全球化，多國企業界猛然警醒——必須降低對中國製造的依賴性，重塑全球化
臺灣主計總處 （2020.05.28）	雖全球疫情加速擴散，部分生產斷鏈，需求萎縮及原物料價格急漲等負面影響，但國內因疫情相對和緩，生產製造活動如常，商品類消費影響較小，服務類衝擊明顯

62. 美國戈夫郡的民眾對於口罩命令產生的反彈表現來看，若以觀察者所提出的第一個原因，說明了國家的不同目的之間產生了何種爭議？（2分）
- (A)國家安全和社會正義  
(B)公共利益和人民自由  
(C)社會正義和人民自由  
(D)公共利益和國家安全
63. 嚴重特殊傳染性肺炎發生之初，各國開始限制口罩出口，美國陷入難解的口罩荒，請根據表四資料分析其背後的原因為何？（2分）
- (A)口罩產業生產鏈整體外移  
(B)口罩產品的生命週期縮短  
(C)人力成本使口罩價格上漲  
(D)封城的政策影響物流配送
64. 題文畫線處提到因為恐怖攻擊，所以美國對伊斯蘭教蒙面習俗產生反感。關於伊斯蘭極端主義分子屢屢對西方國家發動恐怖攻擊的原因，下列哪一分析觀點較為適當？（2分）
- (A)歐洲各國從大航海時代即排擠穆斯林船隊，雙方埋下仇恨  
(B)西方國家為了石油利益，強力干預伊斯蘭世界，激起衝突  
(C)後冷戰時期美國獨霸世界，使伊斯蘭信仰與文化受到挑戰  
(D)伊斯蘭的聖戰觀念，鼓勵激進組織藉由恐怖攻擊征服世界
65. 依據表四中我國主計總處的分析，說明部分生產斷鏈，需求萎縮及原物料價格急漲的狀況。以全球經濟產業為例，在其他條件不變的情況下，請在答題卷的供需圖中畫出供給線（S）和需求線（D）的改變（請以  $S_1$ 、 $D_1$  表示），並寫出對均衡價格與均衡數量的影響分別為何？（若供給線及需求線畫線不正確，此題不計分，4分）

畫出供需線的變化	對均衡價格和均衡數量的影響	
	均衡價格	
	均衡數量	