

臺北區 110 學年度第一學期  
第一次學科能力測驗模擬考試

## 社會考科

—作答注意事項—

考試範圍：公民：第 1～3 冊（不含經濟）

歷史：第 1～2 冊

地理：第 1～2 冊

考試時間：110 分鐘

作答方式：

- 選擇題用 2B 鉛筆在「答題卷」上作答；更正時，應以橡皮擦擦拭，切勿使用修正液（帶）。
- 除題目另有規定外，非選擇題用筆尖較粗之黑色墨水的筆在「答題卷」上作答；更正時，可以使用修正液（帶）。
- 考生須依上述規定畫記或作答，若未依規定而導致答案難以辨識或評閱時，恐將影響考生成績並傷及權益。
- 答案卷每人一張，不得要求增補。

選擇題計分方式：

- 單選題：每題有 4 個選項，其中只有一個是正確或最適當的選項。各題答對者，得該題的分數；答錯、未作答或畫記多於一個選項者，該題以零分計算。

祝考試順利



版權所有·翻印必究

第壹部分、選擇題（占 100 分）

說明：第 1. 題至第 50. 題為單選題，每題 2 分

1. 2018 年 8 月交通部實施《孕婦及育有六歲以下兒童者停車位設置管理辦法》，規定公共停車場（政府機關、商場百貨、車站、醫院等），都應保留 2 % 汽車停車位供孕婦、育有 6 歲以下兒童者優先使用（若汽車停車格數量未滿 25 個則除外）。若未放置相關證件而占用親子車格（如圖一所示），交通部將自 2019 年 6 月 29 日起依法開罰。請問該政策推動所隱含的平等概念與下述何者相同？



圖一

- (A) 臺灣政府為振興受疫情影響而衰弱之經濟，發行消費專用券，有居留權的配偶皆能領取  
(B) 國內公共場所已開始設置無性別廁所，打破現有的性別區隔，提供不分性別的如廁空間  
(C) 某市府因應托嬰需求之增加，提出規劃 1 區 1 公托中心、1 區 1 親子館等福利政策想法  
(D) 法國《禁止蒙面法》適用所有公民及穆斯林，穆斯林女性僅能於轎車及清真寺穿戴罩袍

2. 課堂中，公民老師介紹歐洲某歷史悠久國家，該國民主政治成熟但政黨林立，少有政黨能在國會取得多數席次而單獨執政，因此政府更迭頻繁。該國總統是位高權輕的象徵，任期 7 年，由參眾兩院議員與全國 20 大行政區推出之 58 名代表共同選出。國會總理負責主要政務工作，他必須擁有參議院多數席位的執政聯盟，政務才容易推行。參與執政聯盟的小政黨一旦脫離執政聯盟，就會使政府運作產生困難。請問針對老師上課內容，以下四位同學對該國政府體制的討論，何者正確？

- (A) 甲生：推測該國政府體制運作，國會可藉由人事同意權、反否決權制衡總統  
(B) 乙生：內閣施政權責相符，政治衝突可經由倒閣或解散國會後重新訴諸民意  
(C) 丙生：該國政黨林立，聯合內閣政局方能穩定，少數政黨的執政定不會發生  
(D) 丁生：該國總理為國家元首，獲得較多立法權支持時行政效能高政局較穩定

3. 大雄與靜香婚後育有一子阿傑與一女小美，一家四口過著幸福快樂的日子。沒想到阿傑某日發生意外車禍死亡，留下妻子雅芃及年僅 4 歲與 2 歲的幼子。日後大雄與靜香決定收養 15 歲的俊志，希望能忘卻失去阿傑的悲痛。不久之後，大雄亦因病過世，婚前婚後皆未與靜香約定夫妻財產制的大雄，共留下遺產 1,300 萬與債務 300 萬，其在親筆遺囑中寫道：「靜香婚後雖為全職家庭主婦，但婚前存款加上婚後自由處分金，理應可晚年生活無虞，因此我身後遺產總額的 1 / 2 皆留給俊志，剩餘再由其他繼承人平分。」此一遺囑分配卻讓靜香、小美與雅芃等人十分不滿，決定訴諸法律保障自己的權利。上述情境所涉及的財產與繼承權利，下列何者最符合我國現行法令的規範？

- (A) 繼承人需概括繼承大雄在財產上的一切權利義務，且需至法院登記，始能以繼承所得遺產為限負債務清償責任  
(B) 阿傑早於大雄死亡，因此阿傑原應繼承的部分，則由其妻子雅芃進行代位繼承，應繼分為大雄遺產總額的 1 / 4  
(C) 靜香可先以配偶身分主張剩餘財產差額分配的權利，再主張《民法》特留分的分配，無須受大雄遺囑的限制  
(D) 俊志在繼承權利上等同於大雄親生子女，且基於尊重被繼承人大雄的意志，俊志可依遺囑取得遺產總額的 1 / 2

4. 某專欄指出：世界衛生大會（WHA）隸屬於聯合國，是世界衛生組織的最高權力機構，主要的職能包括促進流行病和地方病的防治，以及提供和改進公共衛生與疾病醫療等。各會員國每年針對相關議題進行討論與交流。《世界衛生組織憲章》更明述：「(甲)健康是基本人權，是普世價值，不因種族、宗教、政治信仰、經濟或社會情境而有所分別……」。事實上，(乙)我國一直無法以國家身分參加大會，僅能以觀察員身分出席，然自 2016 年蔡英文總統執政後，卻一直遭到中國大陸的阻撓，甚至從 2017 年開始被排除在外。對於前述專欄內容的進一步推論，下列何者最為正確？
- (A)我國近年來無法獲邀出席，是因為無法接受中國大陸的「一邊一國」原則
  - (B)從(甲)可知在全球化之下，國家治理的各面向中，以環境面和政治面更顯重要
  - (C)由於我國法理主權未被普遍承認，造成(乙)僅能以「中華臺北」的名義參與會議
  - (D)上述專欄文章的標題，最可能是「淺談國際組織對普世人權及永續發展的倡議與角力」
5. 大法官解釋第 799 號指出：針對性犯罪者的強制治療，《刑法》第 91 條之 1：「處分期間至其再犯危險顯著降低為止，執行期間應每年鑑定、評估有無停止治療之必要」等語中，「再犯危險顯著降低」之意義可經由專家依其專業知識及社會通念加以判斷，並可由司法審查予以確認；且法條之目的，是為防免受治療者再為性犯罪行為，致危害社會大眾之安全，故此部分合憲。但對於《刑事訴訟法》及《性侵害犯罪防治法》中的相關規定，則均未賦予受處分人在聲請宣告或停止強制治療時，有到庭陳述意見的機會，故此部分違憲。關於前述的大法官解釋，下列說法何者為正確？
- (A)釋憲的效力等同《憲法》，立法院基於上位階法優於下位階法，應即日起廢除舊法
  - (B)該《刑法》條文違反《憲法》上的法律保留原則，容易導致司法公權力的審判濫權
  - (C)《刑事訴訟法》及《性侵害犯罪防治法》對強制治療者的處分已明顯違反比例原則
  - (D)《刑法》強制治療之規定雖限制了明列於《憲法》中的基本人權，但符合公益原則
6. 為籌措出國旅費，阿杰在網路上拍賣收藏多年的職棒球員卡一套，最後由小華以 15,000 元的價格得標。雙方約定於車站進行面交（一手交錢、一手交貨），未料雙方碰面當天，小華赫然發現皮夾遺失，阿杰決定仍將球員卡先行交付給小華，由小華寫下一張書面證明，上頭載明其已收訖球員卡一套，並約定於七天後再次碰面，親自交付 15,000 元給阿杰。然而，經過五天仍未能順利找回皮夾的小華，在第六天主動聯繫阿杰，謊稱球員卡有所汗損而拒絕支付全額價金，要求阿杰將貨款降低為 7,500 元，否則將解除買賣契約。但阿杰拒絕接受小華降低貨款的要求，亦不接受其片面解除契約，要求小華需依原訂契約支付全額。關於上述阿杰與小華的買賣契約關係，下列敘述何者較合乎現行法律的規範？
- (A)契約成立必須雙方意思表示一致，阿杰與小華對於價金並未達成共識，故契約未成立
  - (B)《消費者保護法》中規範通訊交易享有七天猶豫期，小華無需負擔費用即可解除契約
  - (C)因小華並未完成付款，阿杰主張自己仍為球員卡的所有權人，而小華則屬於無權占有
  - (D)小華是球員卡所有權人，但阿杰有要求價金的債權，小華若拒絕支付則屬債務不履行

7. 美國曾因預算不足，聯邦政府執行部門部分或全部關閉。據統計，自 1976 年以來，已超過 19 次政府停擺，表一是美國近 30 年來聯邦政府關閉事件表。部分研究文獻指出，相對於「一致政府」(unified government) 的運作，在「分立政府」(divided government) 下，因行政權與立法權分屬不同政黨所控制，使得政府的運作原則遭受到嚴重的削弱，行政部門與立法部門彼此分歧諉過，易引起行政與立法僵局 (stalemate)、政策制定之僵滯 (policy gridlock) 等問題。關於上文美國「分立政府」的說明與其相關意涵，下列敘述何者為真？

表一

關閉時間	總統 / 黨籍	眾議院多數黨籍	參議院多數黨籍
1990.10.5 ~ 10.9	老布希 / 共和黨	民主黨	民主黨
1995.11.13 ~ 11.19	柯林頓 / 民主黨	共和黨	共和黨
1995.12.15 ~ 1996.1.6	柯林頓 / 民主黨	共和黨	共和黨
2013.10.1 ~ 10.17	歐巴馬 / 民主黨	民主黨	共和黨
2018.1.19 ~ 1.22	川普 / 共和黨	共和黨	共和黨
2018.2.9 (9 小時)	川普 / 共和黨	共和黨	共和黨
2018.12.22 ~ 2019.1.25	川普 / 共和黨	民主黨	共和黨

- (A) 探究分立政府之意涵，可推斷內閣制國家一般不會出現該情形  
 (B) 美國分立政府最重要特色，即為不同政黨共同掌握中央行政權  
 (C) 表中 21 世紀迄今三任總統，處於分立政府時間大過於一致政府  
 (D) 根據文中政府關閉事件表，聯邦政府停擺皆發生在分立政府時期
8. 新聞報導，A 國政府展開全國子女補助實驗，這是 A 國建構社會安全網以來，最大規模的擴張。當局首次以現金補助育有子女的家庭，且不設定給付資格，有 6 歲以下子女的家庭，每位子女每月可領 300 美元，6 ~ 18 歲子女可領 250 美元，現金直接撥給父母。檢視已開發國家的社會安全政策，幾乎只有 A 國未曾對家庭子女提供直接給付。根據 A 國大學研究人員估計，這項津貼補助將使 A 國貧窮孩童的人數減少近一半。根據上文，下列關於 A 國補助政策的討論何者正確？
- (A) 社會權的體現與實踐，政府應保障國民能分配到基本生存的社會資源  
 (B) 津貼補助政策的推動與實施，顯示 A 國在社會安全制度上已臻至完善  
 (C) 補助政策是以自助互助風險分攤的方式提供，財源來自於保費及租稅  
 (D) 補助政策將使 A 國貧窮孩童人數減少，屬貧民救濟公共化之社會救助
9. 「臺北市娛樂公關經紀職業工會」是臺北市第一個沒有店家與經紀人代表，完全以基層從業者組成的職業工會。該工會以保障從業者勞動權益、協助勞動者擺脫職場困境、關注其身心健康與職涯規劃為宗旨，並藉由工會推動產業資訊流通，建立互助橋梁改善社會觀感，協助從業者爭取社會福利與處理勞資糾紛案件。請問文中所提到從業者的勞動權益保障，下列說明何者正確？
- (A) 該工會享有爭議權，代表基層從業者的集體力量，受《勞資爭議處理法》規範  
 (B) 工會受理並協助勞資糾紛案件，保障特殊娛樂勞動者權益為個別勞動權之展現  
 (C) 我國基層從業者組工會之權利主要規範於《勞動基準法》，以積極保障勞動權  
 (D) 勞動權保障下，文中提及之職業工會與社會中所有工會一樣，都能發動罷工權

10. 現代民主政治的運作，逐漸由傳統的「民主統治」模式，轉向強調「民主治理」的精神，尤其著重公民參與決策、公私協力及「民主課責」等相關概念。有關民主治理的核心精神與落實，下列敘述何者正確？
- (A) 民主治理反對專家菁英參與，如石虎保育等議題決策應該由下而上直接由人民審議決定
  - (B) 偏鄉資訊教育可由政府編列預算提供硬體，各資訊大廠則提供師資，落實公私協力精神
  - (C) 市議會針對市政府的路平專案進行質詢監督，屬於行政立法間的權力制衡，非民主課責
  - (D) 為落實公民參與的治理精神，凡政府的重大政策預算皆應以參與式預算或公投方式決定

11.、12.題為題組

- ◎ 緬甸經歷數十年的軍政府統治之後，直至 2015 年才真正舉行具有實質競爭意義的民主選舉。緬甸聯邦議會分成「民族院」（即上議院）與「人民院」（即下議院），其選舉制度乃採單一選區相對多數決制，兩議院共計 664 席中，有 25 % 的 166 席乃由軍方直接任命，剩餘 498 席才由人民直接選舉產生。至於緬甸總統則為間接選舉，人民先選出聯邦議會的兩院議員之後，再由上下議院及軍方各自推舉一名議員組成總統選舉人團（Presidential Electoral College），選舉人團的三名成員可各推舉一名總統候選人，再交由上下議院進行表決，最高得票者當選總統，另兩位候選人則依得票高低依序當選為第一副總統與第二副總統。

翁山蘇姬領導的「全國民主聯盟」在 2015 年及 2020 年大選中，皆贏得議會過半席次並組織政府。然而在 2020 年大選過程中，聯邦選舉委員會卻以疫情控制及內戰動亂的安全理由，取消了部分以少數民族為主的區域選舉，剝奪了近 150 萬人的投票權利，而數以百萬計的羅興亞穆斯林則因不被政府承認為合法公民而剝奪投票權，上述皆讓政府與選舉的公正性遭遇諸多批評。因此選後，軍方即以政府違法與選舉舞弊為由，拒絕承認選舉結果，更在 2021 年 2 月 1 日無預警發動政變，逮捕實質領導人翁山蘇姬、總統溫敏等民選官員，並宣布國家進入為期一年的緊急狀態，引發數十萬計民眾走上街頭和平示威，卻遭遇軍方武力血腥鎮壓。軍方此一違反民主、嚴重侵害人權的行為引起國際關注，歐美亞諸多民主國家紛紛要求軍政府應盡快還權於民。

11. 根據上文中對於緬甸聯邦議會選舉與總統選舉的描述，若與我國及美國的選舉制度相比較，下列何者最可能為正確的論述？
- (A) 緬甸總統的產生與美國總統選舉人團制度相似，皆為人民選舉國會議員後再間接選出
  - (B) 緬甸人民於上下議院的選舉中可投兩票，制度上即為我國立委選舉的單一選區兩票制
  - (C) 緬甸聯邦議會採行選制與我國區域立委相同，因贏者全拿，大黨常具有超額席次優勢
  - (D) 緬甸聯邦議會的軍方保障席次與我國原住民立委席次，皆為保障少數弱勢群體而設立
12. 儘管翁山蘇姬執政期間在羅興亞人議題的處理上引來國際諸多批判，其更曾親自前往位於海牙的國際法庭為政府在羅興亞問題涉嫌犯下「種族滅絕」罪名一案申辯，然而軍方以武力政變方式推翻民主政府，仍有違以民主程序決定政權更迭的人民主權精神。若從民主政治與人權保障觀點看待緬甸政局的發展，下列敘述何者最可能是正確的？
- (A) 政府剝奪少數民族行使投票的權利，乃侵害民主國家憲法保障人民基本權中的社會權
  - (B) 緬甸政府剝奪羅興亞人公民權利甚至涉犯種族滅絕，使政府統治合法性受到國際質疑
  - (C) 基於國家主權不受干涉，僅有緬甸人民有權推翻軍政府，他國無權介入緬甸民主發展
  - (D) 民眾不顧緊急狀態下的禁令走上街頭和平示威、要求恢復民主，乃公民不服從的展現

13.、14.題為題組

◎某年，苗栗縣一名老農依法定程序，取得縣政府核發的建造執照。但隔年經濟部水利署發現其房屋建在大安溪河川區域內，於是禁止現場工作人員繼續施工，並於事後函知縣政府，但此公文卻沒有通知老農。半年後，經濟部以老農違反《水利法》處罰鍰 205 萬元，並限期回復原狀、拆除違禁設施。老農不服而提起訴願，苗栗縣政府在收到訴願書的幾個月後，隨即逕行撤銷其建造執照，並駁回訴願。

13. 若老農不滿訴願遭到駁回，下列何者是他後續可行的救濟途徑？

- (A) 要求苗栗縣政府依法舉辦聽證會，以做為進一步請願的依據
- (B) 尋求地方法院檢察署的幫助，以向苗栗縣政府提出國家賠償
- (C) 因已窮盡訴願的救濟途徑，可向司法院大法官聲請違憲審查
- (D) 逕向行政法院提出第一審的事實審訴訟，如仍不服則可上訴

14. 老農認為其權利受到侵害，較不可能是因為縣政府違反了下列何種原則？

- (A) 法律優越原則
- (B) 信賴保護原則
- (C) 公正程序原則
- (D) 民主程序原則

15.、16.題為題組

◎來自越南的陳鳳凰，幾年前與外派到越南的臺灣人結婚，發現當時臺灣的媒體對「外籍新娘」多屬負面報導，且多半被刻劃成「可憐」或「可惡」的形象。有感於媒體的影響力，她因而想透過製作教學節目，為越裔新住民創造一個屬於自己母語的環境，但大部分的電視臺卻反問她：「收視率呢？誰要看呢？」幾年後，她成功實現理想，成立了「臺灣新住民媒體社會企業」（New Citizen TV，簡稱 NCTV）並在創立茶會上感性地說：「早在 20 年前，我其實已經把我自己視為臺灣人了……」。有位貴賓藉此機會也分享如下的節目片段，希望爭取未來能有機會順利播出：

越南歷史萬花筒

越南在過去有一段很長的時間，是以漢字為基礎的文字系統記事。當地的統治者一直想在這塊難以掌控的土地上，建立中央集權的帝國，因此自中國引進了很多東西，甚至創造了一套借用漢字的文字系統稱為「字喃」……。

15. 針對前述內容，下列何者最可能是陳鳳凰對我國資訊近用情形的觀感？

- (A) NCTV 的成立，顯示族群間資訊近用不平等的問題漸漸縮短距離
- (B) 因國家未能維護移民與移工的新聞自由，造成降低其國家認同感
- (C) 由於財團壟斷媒體，導致在媒體再現的過程中出現自媒體的濫用
- (D) 國人的媒體接近權受到媒體商業化的影響，正逐步走向數位落差

16. 不同於該貴賓分享的越南節目，實際上，19 世紀末越南官方卻改採用拉丁字母拼寫的「國語字」，造成這種轉變的可能原因為何？

- (A) 由法國傳教士發明，因方便人民學習，越南皇帝主動在全國推廣
- (B) 因法國勢力進入越南，越南當局為快速推動西化政策反制而採用
- (C) 中國曾多次發動侵略戰爭，政府決定去漢化以斷開與中國的關聯
- (D) 符合法國政府管理越南的行政需求，有利殖民官員與當地人溝通

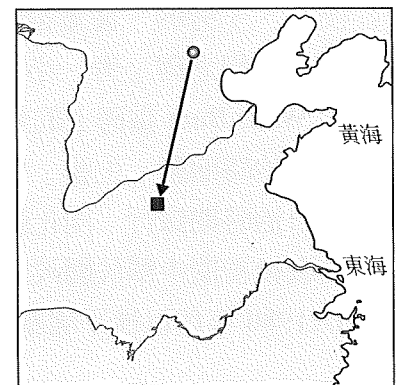
17. 「公司在短期內能使臺灣成為像前葡屬印度或是荷屬錫蘭更好的優秀殖民地——良好的氣候、清潔的空氣、肥沃的土地，位於強國的管轄之外生活著愚蠢的、不信基督教的人民。大量貧窮而勤勞的移民將會從鄰近強大的中國湧入臺灣。這正中我們的下懷。」關於上述史料的理解，下列敘述何者正確？
- (A)這是西班牙總督於 17 世紀初的構想，評估開發臺灣產業的可能性
  - (B)原本以臺灣為轉口港的英國人，開始考慮逕行在臺灣從事生產事業
  - (C)因濱田彌兵衛事件導致荷蘭人難以與日本貿易，而考慮在臺自行生產的可行性
  - (D)漢人移民來此種植水稻，臺灣得以大規模出口水稻的基礎就是在此時期奠定的
18. 小明看到公視即將上演的史詩大戲《斯卡羅》預告片，主要敘述 1867 年發生的「羅妹號事件」，故事主角李仙得和排灣族人，在數年後的 1871 年和 1874 年發生的「琉球人船難事件」及「牡丹社事件」再度出現，因而激起他實際走訪並考察相關遺蹟的熱情。小明到車城時，發現「大日本琉球蕃民五十四名墓」的「大日本」被塗掉，墓基題字也遭破壞。在石門古戰場，原本紀念西鄉從道的「西鄉都督遺蹟紀念碑」被置換為「澄清海宇還我河山」，一旁的「征蕃役戰死病歿者忠魂碑」已遭破壞，僅留基座，並由原址遷於「西鄉都督遺蹟紀念碑」旁。小明發現「霧社事件」也有相同情況，巴蘭社頭目，也是霧社群總祭司 Walis Buni 墓碑上的名字也遭塗毀。請問這到底是怎麼回事呢？
- (A)清治時期對「生番」採取劃界封山所導致的影響
  - (B)日治時期採行「同化政策」與「集團移住」政策
  - (C)戰後初期中華民國政府實施的「去日本化」情況
  - (D)1980 年代以後平埔族群「文化復振運動」的過程
19. 「據說好早以前，曾有讀書人跨海來到本國教書，但成效不好，因為官民都不太重視儒家文化。一直到在這場持續數年的跨國與跨海大戰中，有部分儒者不幸被本國俘虜。這些儒者們在被俘滯留期間，除了可實際觀察到倭奴的生活樣貌，也有機會與我國學者一起推廣儒學文教。」請問這些儒者是遭到哪一國俘虜？
- (A) 12 世紀末的高麗國
  - (B) 14 世紀末的琉球國
  - (C) 16 世紀末的日本國
  - (D) 18 世紀末的越南國
20. 下列有關臺灣民間俚語及其寓意，請選出正確無誤者：
- (A)荷治時期的漢原合作、同仇敵愾擊敗外國勢力，而有「西仔來打咱臺灣，大家合齊來打番」的說法
  - (B)「作官若清廉，吃飯要攪鹽」、「一年官，三年滿」是指明鄭時期首度將漢人的典章制度引進的狀況
  - (C)「臺灣錢，淹腳目」是指清治時期的臺灣，不管是原住民或是漢人移民，經濟起飛，幾乎家家富足
  - (D)「他們的可怕，連哭鬧的孩子都噤聲，令人又懼又恨。」「他們」是指日治時期的「大人」，即是巡查

21. 某論文引用的參考資料如下，依其章名判斷，該論文的題目最可能為何？

- (一)鄭瑞明，〈臺灣早期的海洋移民：以荷蘭時代為中心〉。
- (二)許毓良，〈清代臺灣的人口估量〉。
- (三)陳鴻圖，〈農業環境與移民事業：臺東廳下私營移民村的比較〉。
- (四)許雪姬，〈滿洲國政府中的臺籍公務人員（1932~1945）〉。
- (五)鍾淑敏，〈戰前臺灣人英屬北婆羅洲移民史〉。
- (六)何義麟，〈戰後在日臺灣人的國籍轉換與居留問題〉。
- (七)李廣均，〈從過客到定居者：戰後臺灣「外省族群」形成與轉變的境況分析〉。
- (八)林勝偉，〈從「戰士」到「榮民」：國家的制度建構與人口類屬的形塑〉。
- (九)洪玉儒，〈美國臺灣移民政策的現狀（1980~2004）〉。
- (十)湯熙勇，〈巴西招徠臺灣人移民：1960年代我國政府的態度與人民的反應〉。

- (A)〈戰後的國籍問題〉
- (B)〈人口問題面面觀〉
- (C)〈跨境與殖產剖析〉
- (D)〈移民社會的形成〉

22. 某朝皇帝指示群臣研究遷都到黃河以南地區（如圖二）。隨即有大臣上奏：「遷都以利抵禦強敵，如果成真，京城百姓考慮到南遷道路漫長，禍福難料，很難跟隨陛下與官員們遷移，只會圖利有能力搬遷的豪強大戶。也請陛下三思，京城百姓見到軍隊護衛陛下與百官、官眷離開京城，難道不會認為陛下已無愛民之心了嗎？況且江南之國與我朝不睦，南遷之計，徒增民心不安。」題文中該朝君臣議論遷都的背景，最有可能是下列何者？



圖二

- (A)西晉政府想遷都，抵禦五胡聯軍
- (B)唐朝政府想遷都，抵禦安史叛軍
- (C)北宋政府想遷都，抵禦遼朝大軍
- (D)金朝政府想遷都，抵禦蒙古大軍

23. 電影《一八九五》改編自知名作家李喬作品《情歸大地》，以「乙未戰爭」為背景，生動描述了客籍義勇軍領袖吳湯興與他妻子黃賢妹之間，歷經生離死別、互信互愛的動人愛情。這段臺灣的血淚歷史，曾因為政治、種族等種種因素而刻意遭到掩蓋，直到行政院客家委員會出資協助拍攝，以客家人的視角出發，並匯入福佬人與原住民的元素，完成這部融合臺灣各族群通力合作抗敵的電影作品。請問依據電影《一八九五》的描述，此電影所欲表達的議題可能為何？

- (A)不分族群傾力抗日，展現保家衛土的情懷
- (B)因應退出聯合國後漢賊不兩立的國家尊嚴
- (C)反映保釣運動下主權領土爭議的反日行動
- (D)呈現中華民國政府遷臺後國共對抗的情勢



24. 古中國某朝學者感嘆：「今天我國北方，雖號是大族者，很少有族丁超過千位者，可見得北方大族戶口的減少，族望聲威的衰弱，已難跟江南地區大族相比了。而這些擔任族長者，大多都是有科舉功名，也造成同姓的族親，似成為族長的僕役。造成這樣不太好的風俗，都是長期演變所成。」請判斷這位儒者身處的朝代，最有可能是下列何者？  
(A)漢朝 (B)唐朝 (C)宋朝 (D)明朝
25. 請閱讀以下資料，並回答問題：

我們的國家一直深受宗主國的影響，只學中國歷史，這是因為自古以來我們自己沒有國文（字），只能借助於他人的語言、文字而學，而致自身無任何特色……。19 世紀，我們最後一個王朝——阮福映建立阮氏政權，是受法國的扶助而成立，因此法國人得以獲得在本國自由傳教和經商的權利。法國人通過嚴密的分級管理制度，使教會的影響深入到最基層的教徒之中，有的村落甚至完全天主教化。但之後繼位的明命、紹治、嗣德等諸位君主，卻尊孔崇儒，並採取鎮壓天主教的措施。1858 年，法國以當地禁教、殘殺教徒為藉口發動侵略戰爭，並在 1885 年後，開啟了為期近百年的殖民統治。法國為了方便統治我們國家，以羅馬拼音做為官方語言，雖然引進現代化的基礎建設，卻未積極提升我們國民的教育文化水準。

從文中資料來看，下列選項對該國敘述何為正確？

- (A)此資料說明了從東亞文化圈的形成到國家現代化的過程  
(B)天主教耶穌會傳教士在 16 世紀以前就來到這個國家宣教  
(C)該國被法國殖民統治為期近百年，乃肇因於牡丹社事件  
(D)法國於 19 世紀對該國發動侵略，是帝國主義野心的展現
26. 請閱讀下列三則資料：

資料甲：為了推動臺灣的財政自立以減輕母國對臺灣的財政補助，乃創設臺灣土地調查局，推動全島性的土地調查事業。此一改革除精確調查臺灣各類田園的方位與面積外，並以公債買收大租的方式廢除了大租權，建立了一田一主的土地所有權制度。

資料乙：透過這一系列的土地改革運動，傳統佃農得以轉為自耕農，並從高地租解放出來，有助於提高生產意願及整體農業產量。國家還透過官營企業股票補償地主，將地主的土地資本轉成產業資本，加上提升社會普遍購買力而形成工業製品內需市場，帶動後續經濟的發展。

資料丙：主政期間為籌措建省與各項建設所需財源，乃創設清賦總局，全面清查逃稅隱田，並試圖改革土地稅收體制。此一改革後，應稅田園與土地稅大量增加，土地行政與稅收體制也有部分改變，但一田二主的地權制度仍然維持。

依發生時間先後，三項資料的正確排序者為：

- (A)丙甲乙 (B)甲丙乙 (C)甲乙丙 (D)乙甲丙

27. (一)林獻堂始終以溫和的手段爭取臺灣的自治，此團體的產生是例證之一。  
(二)此團體的努力讓臺灣部分選民終於第一次有投票選出民意代表的經驗。  
(三)此團體為當時臺灣所有從事政治及社會運動中最後瓦解的民間組織。  
請問符合上述三項條件的政治或社會團體是：
- (A)臺灣文化協會 (B)臺灣民眾黨  
(C)臺灣工友總聯盟 (D)臺灣地方自治聯盟
28. 20 世紀初，781 名日本人抵達「甲國」聖托斯港，之後至 1960 年代，日本向「甲國」輸出的移民約 40 萬名移民，其中 70 % 的移民集中在聖保羅 (São Paulo)。根據日本皇家移民公司和甲國簽訂的移民合約，日本移民主要在聖保羅內地以契約勞工方式從事咖啡種植，直到合約期滿才逐漸向聖保羅海邊地區擴散移居，至今仍有 40 % 的日裔移民仍然從事農業生產。對於甲國而言，日裔移民從早期契約制的咖啡園勞動角色，逐漸轉變為自主性農莊、引進新作物，甚至是農業改革的推手。請問「甲國」是指哪個國家？
- (A)日本 (B)祕魯 (C)巴西 (D)智利
29. 請閱讀下列三則資料：
- 資料一：欲理解排華意識的建構，應從歐裔種族觀的角度著手。白人種族主義約可歸納為二種模式：一，以父權的理念，將少數族裔形容為稚童、虛弱無助，需要白人以父親姿態予以照顧，否則無法自立。二，以女性化或閹割少數族裔方式，來突顯白人男性陽剛特質，強化白人統治的正當性。故美國主流社會與其言論常常呈現華人軀體矮小、柔弱無力等印象，強調華人男性缺乏陽剛特質，不足以與白人勞工競爭。
- 資料二：美國西部地區開墾的過程中，由於缺乏歐裔女性的移民，部分華工則填補在美國主流社會中被視為女性的職務——洗衣業與餐館，造成其後美國西部各都市中，洗衣業與餐館成為華人經營的主要行業，加深美國社會對於華人女性化，乃至閹割形象化的塑造。美國主流社會在貶抑少數族裔的論述上，也常與動物形象相關。例如：美國出現華人的形象往往面黃、細眼、尖嘴與暴牙，此「似鼠」形象與美國社會視華人為「吃鼠者」有關，也有認為華人行動鬼祟之意。
- 資料三：排華意識及活動以各種形式，加諸在被美國社會定義為外來者的華人移民。早期對特定華（礦）工課徵高額稅賦，即透過法庭判決剝奪華人的基本人身權利。1880 年代後，美國通過一項專門針對華人的法案，內容重點包括：「禁止華人勞工入境；華人不得入該國國籍；華人的妻子不得前來團聚；華人如果返國探親，即不得再入境。」這項法案帶有明顯的歧視性質。華人在缺乏法律保障下，更進一步成為排華運動的犧牲者，面臨人身攻擊與各種抵制活動的威脅。
- 根據上述資料，下列何者「並未」提及？
- (A)華人移民人數不斷增加，對美國的民主政治與社會治安造成極大隱憂  
(B)美國出現排華風潮是因為華工占去多數就業機會，造成白人工作權益受損  
(C)華人移工在美國的基本人權遭受剝削，排華法案通過後，華人處境更備受威脅  
(D)資料一先敘述白人種族優越論的歧視，繼而在資料二闡述對華人不良的刻板印象

30. 以下為二次世界大戰後有關臺灣主權及國際地位演變的三份重要文件，摘錄重要敘述如下：

甲文件	第一條 中華民國與日本國間之戰爭狀態，自本約發生效力之日起，即告終止。…… 第二條 日本國業已放棄對於臺灣及澎湖群島以及南沙群島及西沙群島之一切權利、權利名義與要求。
乙文件	第五條 每一締約國承認對在西太平洋區域內任一締約國領土之武裝攻擊，即將危及其本身之和平與安全。茲並宣告將依其憲法程序採取行動，以對付此共同危險。…… 第六條 為適用於第二條及第五條之目的，所有「領土」等辭，就中華民國而言，應指臺灣與澎湖；就美利堅合眾國而言，應指西太平洋區域內在其管轄下之各島嶼領土。
丙文件	任何企圖以非和平方式來決定臺灣的前途之舉——包括使用經濟抵制及禁運手段在內，將被視為對西太平洋地區和平及安定的威脅，而為美國所嚴重關切；提供防禦性武器給臺灣人民；……本法律的任何條款不得違反美國對人權的關切，尤其是對於臺灣地區一千八百萬名居民人權的關切。

請依據三份文件摘錄的內容，選出敘述正確的選項：

- (A)甲文件為舊金山和約，是 1951 年由中日兩國所簽
- (B)三份文件產生時間依序是甲文件→乙文件→丙文件
- (C)乙文件及丙文件皆為美國政府制定發表的對臺政策
- (D)直到甲文件簽署後，澎湖才第一次隸屬於臺灣管理

31. 以下兩份資料與清末到日治時期臺灣多數人使用的語言有關。

資料一：清末臺灣的第一份報紙內容（圖三）。

資料二：為某報紙的評論：「……臺灣文學以臺灣人、臺灣事為題材，在臺灣通用的語言包括：官方的日本語及民間的臺灣閩南語、客家語、原住民語。然而，這些語言有很大部分無法轉寫成中國白話文，因此對於強調『我手寫我口』的白話文學來說，要用中國白話文來創作臺灣文學，有其實踐上的困難。」



圖三

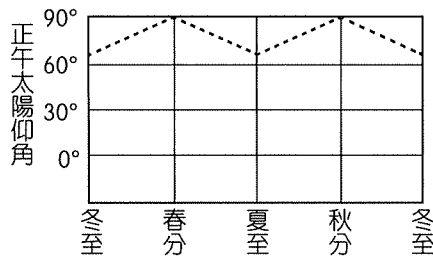
綜合上述內容，請選出正確的敘述：

- (A)資料一為傳教士甘為霖在臺灣發行的報紙，所用語言是將閩南語以拼音文字書寫而成
- (B)賴和的「一桿秤仔」夾雜白話文及閩南語，即是結合白話文運動及臺灣人用語的習慣
- (C)白話文學運動推動成功後，日治時期文言文的創作逐漸消失，作家都改以白話文寫作
- (D)資料二是反共文學作家針對部分鄉土文學作家以市井小民的視角探討社會生活的意見

32. 「德川幕府第八代將軍吉宗，鑒於幕府財政入不敷出，開始大力推行許多新政策。其中為解決封建經濟的停滯，因而重視實用的學問，不但解除部分禁書令，亦准許輸入中國人翻譯與基督教無相關之西方科技圖書，如《幾何原本》、《泰西水法》、《職方外紀》等書，促成日後『蘭學』的發展。……而蘭學的興起，使日本與西歐文明世界開始接觸，累積許多關於西方科學及工業新知，奠定日本近代化基礎，同時亦提高了一般日人對世界情勢的認識。其後，一群接受洋學之士，對於幕府專制政權和處理『黑船事件』方式表示不滿，有志之士除了批評幕府的鎖國政策，並主張實用經濟，藉政治、兵制的西化運動改革來統治世界。……19世紀末，日本有位知識分子著文如下：『日本雖位於亞細亞之東，但日本國民精神已脫離亞細亞的頑固守舊，邁向西洋文明之風，但不幸的是，鄰近有兩個硬把自己關在房間內的國家，皆不思改進之道，也因此，我國與其等待鄰國的開明，不如脫離其行列與西洋文明國共進退，而對待那兩國，只要模仿西洋人對他們的態度即可，不必特別予以同情。』」根據上述資料，關於題幹的解讀，下列何者正確？

- (A)「蘭學」的倡導是為因應國內洋學之士欲改革幕府的政治體制，朝西方文明發展
- (B)日本「蘭學」的興起與中國科技書籍的傳入有關，有助於日本認識學習西方知識
- (C)從資料中可看出西化運動即是明治維新，而文中提及的兩國最可能為中國、越南
- (D)此時的日本已入侵中國，戰爭爆發，皆因知識分子提倡日本應該與東亞國家結盟

33. 圖四中的虛線為某一個城市，一年的正午太陽仰角紀錄，請問這最可能是下列哪一個城市？



圖四

- (A)中國北京
- (B)英國倫敦
- (C)澳洲雪梨
- (D)厄瓜多基多

34. 照片一、二拍攝於臺北市街道，請問照片一、二依序呈現出何種概念？



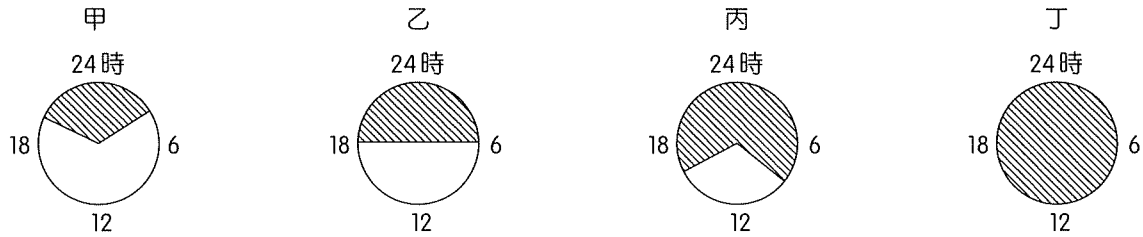
照片一



照片二

- (A)藝術城市、智慧城市
- (B)智慧城市、生態城市
- (C)生態城市、宜居城市
- (D)永續城市、智慧城市

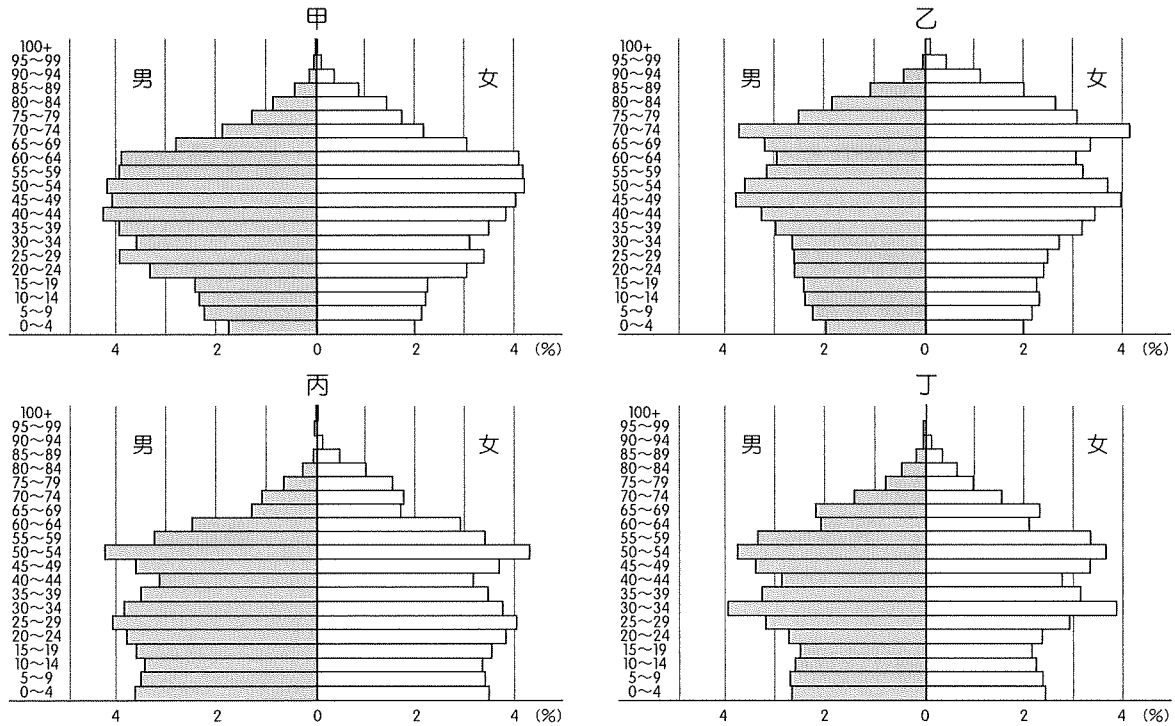
35. 圖五甲~丁為 6 月 21 日 4 個都市的日夜變化圖，圖中斜線為夜間，請問圖中何者的緯度最高？



圖五

- (A)甲 (B)乙 (C)丙 (D)丁


36. 圖六是東亞中、日、北韓、南韓 4 個國家 2020 年的人口金字塔，請問依中國、日本、北韓、南韓四國的順序，應為下列何者？



圖六

- (A)甲乙丙丁 (B)乙甲丁丙 (C)丙丁甲乙 (D)丁乙丙甲


37. 照片三是在臺灣的一段隧道口所拍攝，上方大字為「石城」，左向箭頭指向「福隆」，右方箭頭指向「大里」，請問該段隧道通過下列哪一座山脈？



照片三

- (A)玉山山脈 (B)雪山山脈 (C)中央山脈 (D)海岸山脈

38. 以下照片為某人旅遊所攝，何者最可能攝於東亞文化區？



39.、40.題為題組

◎近日國際上的競爭，突顯出臺灣在半導體業是全球最強，已經到了全世界不能沒有臺灣的地步。不像一般電子代工業，可以很機動性的去各個國家設廠，半導體業的晶圓代工與電子代工業不同，是無法隨便移動的產業，必須要有從上游的 IC 設計和下游的封裝測試，臺灣在 36,000 平方公里的土地上，這些上下游產業都相當完整，人才也很齊備。回顧臺灣的半導體業是在 1980 年代臺灣經濟朝向發展高科技工業，工業產品朝資本、技術密集轉化下的產物。當時政府積極延聘海外人才回國，並著手規劃「新竹科學園區」，吸引國內外廠商投資積體電路、電腦及周邊設備等。請問：

39. 臺灣的半導體業起於 1980 年代，經濟朝向高科技工業發展之際，當時臺灣面臨經濟轉型的歷史背景為何？

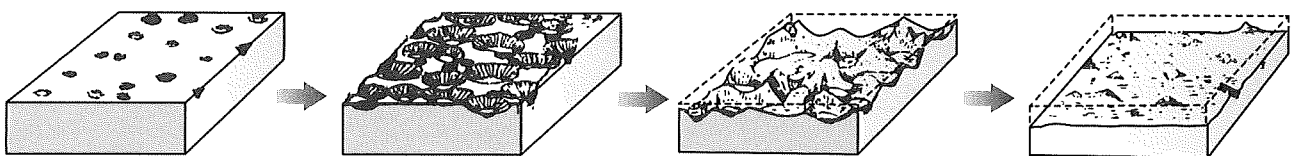
- (A) 增強國防，以期完成反攻中國大陸的使命
- (B) 引進外資，以彌補臺灣資金、技術不足的問題
- (C) 解決環境汙染，工資上升經營成本增加
- (D) 賺取外匯，以支援臺灣工業化發展進程

40. 文中敘述指出臺灣晶圓代工的優勢，是在於下列哪一項的特色？

- (A) 規模經濟
- (B) 產業群聚
- (C) 標準製程
- (D) 政策保護

41.、42.題為題組

◎地理課時老師在黑板繪出如圖七的示意圖。請問：



圖七

41. 該課堂主要是講述下列哪一項主題？

- (A) 喀斯特洞穴地形
- (B) 石灰岩地表演育
- (C) 焚燒森林與暖化
- (D) 陸地沉降與地貌

42. 下列哪一項環境條件，與該地景的出現關係最密切？

- (A) 氣候乾燥植被稀少
- (B) 人口密集都市化高
- (C) 沿海地區海水入侵
- (D) 岩層下有不透水層

43.、44.題為題組

◎臺東美麗灣渡假村開發案爭議逾 16 年，解約仲裁結果在 2020 年 10 月出爐，臺東縣政府應支付 6.29 億元買回建築物。臺東縣長表示縣府將 100 %持有美麗灣的所有權與使用權，會將沙灘部分重回戲水海灘，並朝公有海水浴場方向規劃，也將部分土地交由部落認養使用。然而，有多個民間環境團體透過聲明表示，支持臺東縣府「還海於民」主張，但要求必須公開仲裁資訊，並拆除美麗灣。聲明提到：「一個違法應拆除的建築物須由國庫 6.29 億買回，就意味著這個離譜事件，不僅犧牲海岸環境及人民權益，更將財團業者自己造成的金錢損失，轉嫁由全國納稅人承擔。」請問：

43. 2004 年，臺東縣政府將杉原海水浴場 BOT 給美麗灣渡假村公司，請問 BOT 的作法和下列何者最相似？

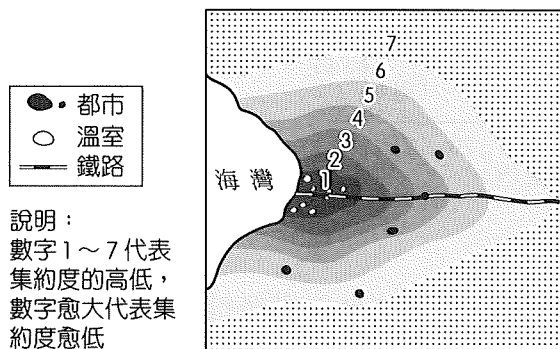
- (A)高雄市辦理市長罷免投票
- (B)健保費中央地方共同分擔
- (C)雙北合辦世界壯年運動會
- (D)桃園市廣設非營利幼兒園

44. 美麗灣渡假村開發案爭議，主要原因在於開發公司在提出申請案時，最初只有申請經營海水浴場，沒有提到興建飯店與渡假村。依法飯店或旅館設置達 1 公頃以上者就要環評，臺東縣政府卻同意美麗灣公司透過基地切割先送 0.9997 公頃進行開發申請，配合民間財團，讓他們一路修改開發範圍，企圖規避環境影響評估。請問上述的開發案必需經過的環境影響評估，與地理學中的哪一項傳統的分析方式最相似？

- (A)空間傳統
- (B)人地傳統
- (C)區域傳統
- (D)地科傳統

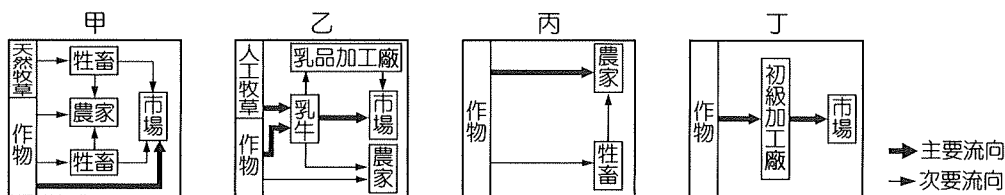
45.、46.題為題組

◎圖八是中美洲常見的都市規模分布型態及農業土地利用集約度的示意圖，圖中黑色區塊的面積表示都市規模的大小，該區域只有一條鐵路自海岸通往內陸。請問：



圖八

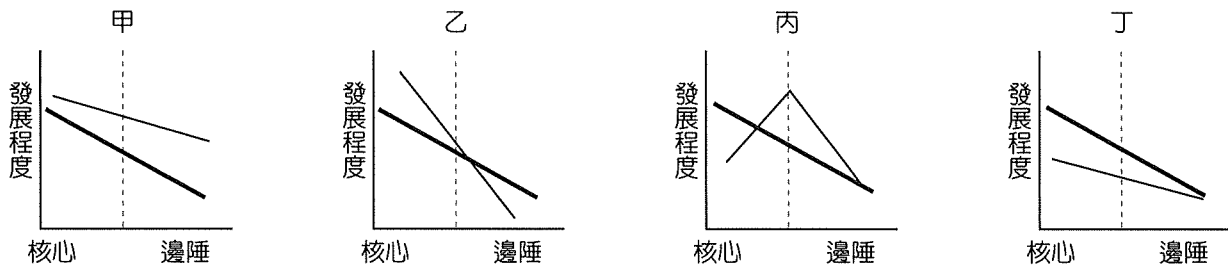
45. 圖八顯示的都市規模分布，與圖九中甲~丁哪一項農業活動關係最密切？



圖九

- (A)甲
- (B)乙
- (C)丙
- (D)丁

46. 若以核心—邊陲理論討論此種國家的內部發展，圖十粗黑線為原來該國內部發展情形，較細的黑線為發展一段時間後的情形，請問該國的發展前後應以甲～丁何者表現較佳？

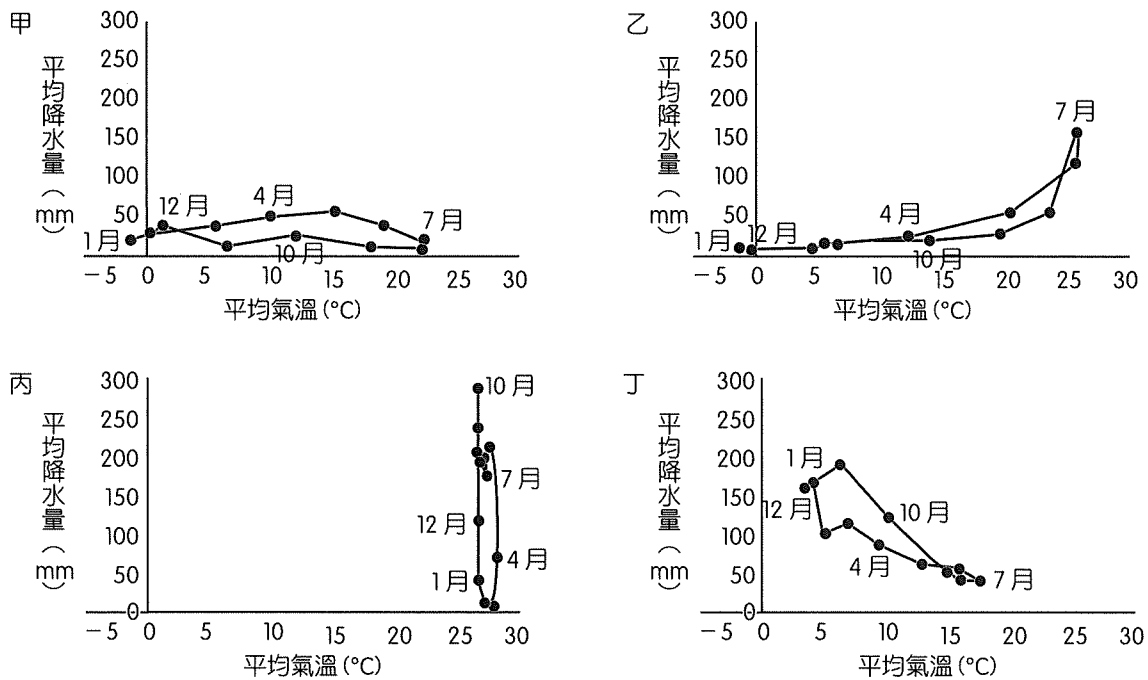


圖十

- (A)甲 (B)乙 (C)丙 (D)丁

47、48.題為題組

◎圖十一是 4 種氣候類型散布圖。請問：



圖十一

47. 照片四是某人在旅行時所攝，請問該地氣候最可能是圖十一中甲～丁何者？

- (A)甲  
(B)乙  
(C)丙  
(D)丁



照片四


48. 圖十一中這 4 種氣候類型中，何者降雨主要是因為 I.T.C.Z.的對流作用造成的？

- (A)甲 (B)乙 (C)丙 (D)丁



49、50.題為題組

◎照片五是澎湖、蘭嶼、小琉球、金門（未依序）4 個離島的照片，照片均顯示出各島嶼的地質特色。請問：




照片五

49. 4 張照片中，何者最具明顯的沉水特性？

- (A)甲
- (B)乙
- (C)丙
- (D)丁

50. 照片六、七分別是照片五甲～丁中哪兩個島嶼的人文景觀？



- (A)甲乙
- (B)丙丁
- (C)甲丙
- (D)乙丁

第貳部分、混合題或非選擇題（占 44 分）

說明：本部分共有 8 題組，選擇題每題 2 分，非選擇題每一子題配分標於題末，限在標示題號作答區內作答。「非選擇題書寫部分」用筆尖較粗之黑色墨水的筆作答；更正時，可以使用修正液（帶）。若因字跡潦草等原因，致評閱人員無法清楚辨識，其後果由考生自行承擔。請由左而右橫式書寫，否則將酌予扣分。

一、混合題

51.、52.題為題組

◎政府基於非核家園政策及能源轉型目標，預計於桃園大潭觀塘工業園區，興建中油第三液化天然氣接收站（簡稱「三接」），2025 年完工後可確保北部電力供應穩定並有效減少空汙。然而，三接的興建極可能破壞觀塘園區中珍貴的藻礁生態，由多個關心此議題之民間團體共同組成的「搶救大潭藻礁行動聯盟」，在與政府協調停止興建三接、重新進行選址卻未獲接受之後，發起「珍愛桃園藻礁」公投，獲得超過五十萬民眾的踴躍連署。

51. 公民可透過組織團體來表達對特定議題的立場、並與政府溝通協商政策內容，甚至可發起公民投票來訴諸民意、決定政策的未來發展。上文畫線處，公民團體之行動所展現的公民權利性質，最接近我國憲法所保障的何種基本權利？（1 分）。又，以我國憲法的基本權保障而言，此項權利屬於列舉基本權或概括基本權？（1 分）
52. 上方題文中提及的中油第三液化天然氣接收站，是為了供應台電大潭電廠所需的能源，請問此工程所在的位置最接近下列哪一組座標？
- (A) (351082, 2766994)
- (B) (25.01, 121.03)
- (C) (151213, 2555848)
- (D) (23.12, 121.41)

53.、54.題為題組

◎甲男某日晚間至農園徒手攀折乙男種植的兩根甘蔗，乙男事後發覺報警，警方調閱監視器錄影畫面後，到甲男家查看發現有兩根甘蔗，案件經調查後移送檢察官偵查。甲男偷甘蔗的原因相當特別，竟是為了女友要嫁女兒，必須要有兩根甘蔗和竹子，才能按照婚嫁習俗吊豬肉在上面。甲男從事粗工，經濟狀況不好，曾因酒駕被罰，身上背有債務。因不好意思拒絕女友要他準備兩根甘蔗的要求，最終做出錯誤的選擇，偷了價值 200 元的甘蔗。甲男到案後對犯行坦承不諱，深表後悔，且將甘蔗歸還，然乙男卻認定，甲男是有不良紀錄的人，其證詞並不可信，且其攀折自己辛苦栽種之甘蔗行為惡劣，認為法官應從重處罰。在法院審理案件過程中，法官除針對監視器錄影畫面證據外，亦確認甲男證詞與其生活狀況，在不違背論理與經驗法則下，經審酌甲男「犯罪之動機目的」、「犯罪所生損害」及「犯罪後態度」，判決罰款 3,000 元或易服 3 天勞役。

53. 根據上文內容，有關此案討論，下列敘述何者正確？
- (A)因乙男發覺自家甘蔗被偷而報警，檢察官可依被害人乙男的自訴而對甲男進行起訴
  - (B)甲男所竊之物僅值 200 元且罪證明確，檢察官因所犯之罪屬於輕罪可聲請妥速審判
  - (C)檢察官訊問竊嫌甲男時，應告知其可保持緘默，犯罪偵查階段，甲男可聘請辯護人
  - (D)甲男因經濟狀況不好且為照顧女友，其竊盜行為事出有因適用阻卻違法事由不起訴
54. 文中最終判決結果為罰款 3,000 元或易服勞役 3 天，請問依文中所述，推測法官審理該案件做出判決，極可能是依據何種論點？並簡述之（4 分，限 50 字內；「依據論點」和「簡述論點」須同時作答始計分）。

依據論點（請勾選一項）	簡述論點
<input type="checkbox"/> 罪疑惟輕原則 <input type="checkbox"/> 自由心證原則 <input type="checkbox"/> 特別預防理論 <input type="checkbox"/> 刑法謙抑思想	

55.、56.題為題組

◎阿昌某天整理家中塵封多年的舊報紙時，無意間讀到以下兩則新聞片段：

新聞一：日前，某鴨肉專賣店指控，社群網站上出現六個冒名的同名粉專，並且這些假粉專故意用挑釁的語氣謾罵曾到該店消費的顧客，造成該店家的名聲遭受惡意破壞，數名關注假粉專的民眾更因而發文「這是全國公認的事實！」引發社會輿論。為打擊這類假訊息的層出不窮，行政院會近日通過《刑法》修正草案，新增規定「以廣播電視、電子通訊、網際網路或其他傳播工具，散布流言或以詐術損害他人之信用者，加重其刑二分之一」。對此，行政院相關單位呼籲，希望立法院能盡快通過委員會審查，遏止不正當的、惡意的、影響民生安定的假新聞。

新聞二：社群網站上擁有數千名「好友」的某教授發文控訴，民進黨計畫在 2025 年之前消滅故宮博物院，吸引長期追蹤其發文且時常相互交流想法的網友同仇敵愾，甚至發起以「所有國人的憤怒」為標題的抵制政府串聯活動。隨後，警方以觸犯《社會秩序維護法》之「散布謠言，足以影響公共之安寧」移送裁罰，引起社會大眾議論紛紛。事後士林地方法院裁判認為，該名教授是對可受公評之公共事務表達評論，且未影響公共安寧，因此裁定免罰。有民眾擔憂政府在查處散布謠言時，恐會侵害人民的言論自由，造成寒蟬效應；也有學者建議應修法，避免過去以來不同法官在適用該法條時，往往各自解讀，導致不同法官的審理結果卻完全相反的情況。

55. 依據上述兩篇新聞片段的內容，分析其中的法律修改與適用，下列闡述何者最為正確？
- (A)在新聞一的內容中，該《刑法》修正草案的提出，稱為委員案
  - (B)在新聞二的內容中，法院的裁判可以做為一種法律解釋的管道
  - (C)在新聞一的描述中，通過委員會審查前必須先經過黨團協商
  - (D)在新聞二的描述中，學者建議修法主要是為了符合比例原則

56. 歸納這兩篇新聞內容，對於社群網站影響公共意見形成的方式，下列何者的詮釋最為貼切？請在答題卷的表格中勾選一項，並寫出據以判斷的理由。（4分，限 50 字內；「影響的方式」和「判斷的理由」須同時作答始計分）

影響的方式（請勾選一項）	判斷的理由
<input type="checkbox"/> 置入性行銷 <input type="checkbox"/> 媒體娛樂化 <input type="checkbox"/> 同溫層效應	

57.、58.題為題組

◎《自由中國》原以檢舉共產政權暴行與宣揚自由美德為目的，不久之後就開始抨擊國民黨政權。1956年10月刊行「蔣介石誕辰特別號」，專欄中就蔣介石再度參選的問題嚴加批判，並要求設立更符合憲法的國會制度，他與當局的關係自此惡化，以致無可挽救的地步。……《自由中國》對專制政體的抗議，到了1960年，也就是被停刊的前夕，邁入推動成立反對黨的組織——中國民主黨。參與組黨的人士中不乏在地人士，如郭雨新、高玉樹、許世賢或李萬居。這些中國自由派的知識分子錯在不該結合臺灣本地菁英共同關心臺灣前途，以致觸犯當局禁忌。該組織以「知匪不報」為名，遭到強制解散，主謀的雷震當然是在逮捕的名單之列。

57. 根據文中「專欄中就蔣介石再度參選的問題嚴加批判，並要求設立更符合憲法的國會制度」所述，請問蔣介石可以再度參選，及不符合憲法的國會制度，是依據哪一法源？（寫出法律全名，2分）

58. 以民主國家憲法保障的公民自由及權利而言，「《自由中國》對專制政體的抗議，到了1960年，也就是被停刊的前夕，邁入推動成立反對黨的組織——中國民主黨。參與組黨的人士中不乏在地人士，如郭雨新、高玉樹、許世賢或李萬居。這些中國自由派的知識分子錯在不該結合臺灣本地菁英共同關心臺灣前途，以致觸犯當局禁忌。」政府對雷震及《自由中國》雜誌的處置牴觸了哪幾項？

甲、結社自由

乙、出版自由

丙、請願權利

丁、言論自由

(A)甲乙丙


(B)甲乙丁

(C)甲丙丁

(D)乙丙丁

59、60.題為題組

◎秦始皇統併六國後，七次巡遊帝國各地時，先後豎立了七塊石碑，史稱「秦刻石」。其中，六塊位於今天華北地區（一塊在河北省，五塊在山東省），一塊在浙江省。七塊石碑後因天災人禍，相繼亡佚或碎裂，要靠拼合才能窺全貌，如圖十二。現在要探究「秦刻石」碑文內容，只能依賴史書記錄及後人拓本。以下是刻石內容摘錄：



圖十二

刻石內容摘錄 1	討伐亂逆，威動四極，武義直方。戎臣奉詔，經時不久，滅六暴強
刻石內容摘錄 2	六國回關，貪戾無厭，虐殺不已。皇帝哀眾，遂發討師，奮揚武德
刻石內容摘錄 3	聖法初興，清理疆內，外誅暴強。武威旁暢，振動四極，禽滅六王
刻石內容摘錄 4	六王專倍，貪戾傲猛，率眾自強
刻石內容摘錄 5	功戰日作，流血于野，自泰古始。世無萬數，陀及五帝，莫能禁止。乃今皇帝，壹家天下，兵不復起
刻石內容摘錄 6	皇帝躬聽，既平天下，不懈於治。夙興夜寐，建設長利，專隆教誨。訓經宣達，遠近畢理，咸承聖志

59. 依據「秦刻石」內容摘錄，請問秦始皇在前述地區豎立刻石的主要用意，最有可能是下列何者？

- (A)登錄東方六國戶口
- (B)威嚇東方六國百姓
- (C)籠絡東方六國貴族
- (D)統一東方六國風俗

60. 依據時空背景，請判斷哪一則刻石字句的描述，與日後秦代國運發展明顯背離呢？（1分）勾選後，請略述看法（請摘錄佐證字句並引用史事說明，40字內，3分）。

刻石摘錄 (請勾選一則)	摘錄佐證字句與引用史事說明
<input type="checkbox"/> 刻石摘錄 1 <input type="checkbox"/> 刻石摘錄 4	
<input type="checkbox"/> 刻石摘錄 2 <input type="checkbox"/> 刻石摘錄 5	
<input type="checkbox"/> 刻石摘錄 3 <input type="checkbox"/> 刻石摘錄 6	

61.、62.題為題組

◎ 韓劇《愛的迫降》讓不少人開始對「脫北者」感到好奇。1950 年朝鮮半島陷入內戰，亦是民主與共產兩大陣營的第一場熱戰，中共甚至火力支援北韓；1953 年內戰結束後，雙方簽訂停戰協議，確立了朝鮮半島南北分治的局面。在分裂後的北韓士兵與民眾想盡辦法逃離，媒體稱呼他們為「脫北者」。南韓政府設立「統一部」專責處理國家統一事務，也因此面對脫北者上，與其說他們是「移民」，倒不如更像是「自己人」。

在大韓民國土地上，其實有不少和劇中男主角一樣的脫北者。來到南韓的脫北者，政府會先排除間諜滲入的可能性，其後就會被政府進行安置，做基本的生活訓練讓他們融入當地生活，南韓政府也會視情況給予脫北者補助。雖然雙方人民同文同種，但長期分離情況下，兩國的教育、生活、思想與文化等方面都有極大的差異。例如，南方比北方更加開放，接觸更多的外來文化，語言中摻雜外來語，可能會致使脫北者難以理解與融入，甚至被當地人排擠，讓他們感覺到逃離了一個落後又封閉的國家，卻住進了一個充滿歧視與監控的牢籠。另一方面，雖然南韓政府會提供脫北者補助金，但補助並非長期的，他們仍須覓職謀生，而且南韓就業競爭極為激烈，脫北者頗難找到適合的工作。根據南韓政府的調查，脫北者在南韓的失業率高達四成，最後，這些脫北者或選擇逃回北韓，或前往其他國家。

61. 現今南、北韓亦敵亦友的關係，源於二戰後朝鮮半島分裂、內戰所致，而當時建國之初的中國共產黨，其領導人提出「□、保家衛國」的口號，出動了人民志願軍入朝參戰，獲得了一大勝利。請問□應填上哪一口號？（請填答專有名詞才給分，2 分）

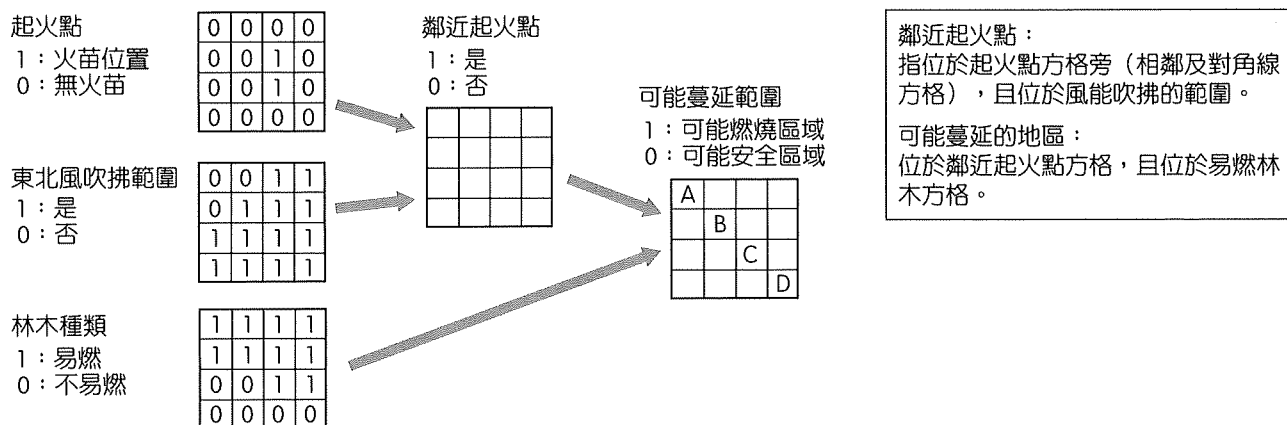
62. 根據推拉理論，下列關於「脫北者逃往南韓」遷移行為的敘述，哪些正確？

- 甲、自由開放的經濟屬於目的地的拉力因素
- 乙、由於南韓僅有拉力因素，所以促成脫北者移動
- 丙、政府的嚴密監控是遷移的中間障礙因素
- 丁、留在北韓的家人屬於原居地的推力因素

- (A)甲乙                      (B)乙丙                      (C)甲丙                      (D)丙丁

63.、64.題為題組

◎GIS 的一個重要的功能是天然災害的模擬預測，圖十三是地理資訊系統對森林火災的模擬預測圖，圖上顯示森林火災蔓延的相關訊息。請問：



圖十三

63. 圖十三的分析方式為 GIS 的何種空間分析方法？  
(A)環域分析 (B)地形分析 (C)疊圖分析 (D)路徑分析


64. 圖中的格子 (A, B, C, D) 數字為何？(2 分)

數字	
----	--

65.~67.題為題組

◎照片八是某地海岸景觀，甲為某種自然地形，乙是在道路和海水間的人為設施，請問：

65. 海岸出現乙設施，代表該地會有下列哪一項現象？  
(A)海岸堆積  
(B)海岸侵蝕  
(C)陸地上升  
(D)陸地下沉



照片八

66. 甲地形的名稱為何？(2 分)

地形名稱	
------	--

67. 形成甲地形的內、外營力各為何？(4 分)

內營力	
外營力	

二、非選擇題

68. 細數此區的風雲人物，實在不勝枚舉。如「漢醫執照第一人」黃玉階，他在此擔任區長，任內建樹頗多，於 1899 年首創「天然足會」，掃除了閩南女子纏足陋習。廈門渡臺的李春生，後為洋行幫辦，幫助英商杜德 (John Dodd) 經營臺灣北部產銷，成效甚佳；後改任和記洋行總經理，從事貿易，無往不利，臺灣茶葉輸出以他做得最成功，長年經營，成了鉅富。又如來自噶瑪蘭、有「臺灣孫中山」之稱的蔣渭水，他行醫、從事政治活動的大本營也設在此。還有當年「義賊」廖添丁的「活動基地」也在此，他來無影、去無蹤的劫富濟貧傳奇，在當地耆老中仍膾炙人口。關於以上種種描述，此地區是指何處？(2 分)

