

臺北區 108 學年度第一學期
第一次學科能力測驗模擬考試

社會考科

—作答注意事項—

考試範圍：公民與社會第二～三冊

歷史、地理第一～二冊

考試時間：110 分鐘

題型題數：

- 單選題：共 72 題

作答方式：

- 用 2B 鉛筆在「答案卡」上作答；更正時，應以橡皮擦擦拭，切勿使用修正液（帶）
- 未依規定畫記答案卡，致機器掃描無法辨識答案者，其後果由考生自行承擔

祝考試順利



99363105-28

版權所有·翻印必究

◆單選題（占 144 分）

說明：第 1. 題至第 72. 題皆計分。每題有 4 個選項，其中只有一個是正確或最適當的選項，請畫記在答案卡之「選擇題答案區」。各題答對者，得 2 分；答錯、未作答或畫記多於一個選項者，該題以零分計算。

1. 某位美國商人從事比特幣投資致富，利用其資金與妻子加入「海上家園」計畫，此項計畫號稱在國際海域建構自己的海上家園，可以不受任何國家法律的約束，他們在普吉島外 13 海哩的區域建構，卻遭到泰國政府的驅逐，甚至面臨國際訴訟。請依據上文與相關法律概念判定，下列分析何者正確？
- (A) 泰國主張有理，此作為侵犯其領海範圍
 - (B) 海上家園的房子已侵犯泰國的經濟海域
 - (C) 該名商人可尋求美國政府庇護，因為海上家園屬於美國延伸領土
 - (D) 若泰國政府透過國際裁決拆除海上家園，應是透過 WTO 爭端解決機制處理

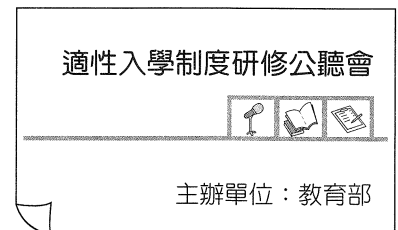
2. 根據下文報導內容與總統制的相關概念，下列解讀何者正確？

美國總統川普首次行使否決權駁回國會決議：你們有自由，我有責任

美國總統川普（Donald John Trump）為因應與墨西哥邊境的「毒品、黑幫及偷渡客的入侵」問題，希望於兩國邊界建築圍牆，但是國會拒絕邊界築牆的撥款之後，川普改以宣布國家緊急狀態來籌措築牆經費。美國有線電視新聞網 2019 年 3 月報導，美國總統川普行使其職權，否決國會終止其宣告國家緊急狀態的決議。川普認為南部邊境的局勢將威脅美國國民的安全，並表示「國會有自由通過這項決議，而我有責任否決它。」

美國民主黨領袖查克·舒默（Chuck Schumer）發表聲明，批評川普的決定：「緊急狀態並不存在，國會曾多次拒絕他的邊境築牆預算；墨西哥也不會付錢；兩黨在兩院都通過決議，否決他口中的虛假緊急狀態。」

- (A) 川普可自行提出修築邊境圍牆法案，不必經由國會同意
 - (B) 若不同意國會通過的法案，美國總統川普可行使覆議權
 - (C) 國會通過此法案必須經由最高行政首長川普的副署才能公布
 - (D) 若國會因此案對川普提出且通過不信任案，川普可解散國會
3. 某天阿玲走在路上看到一張海報如圖一，深入了解後發現是因教育部於 103 學年度首次實施 12 年國民教育之後，對於入學作業時程過長、超額比序爭議等項目進行檢討，希望儘快凝聚各界共識。根據上述內容判斷，此項政策屬於政府決策過程的哪一個階段？



圖一

- (A) 政策合法化
- (B) 政策規畫
- (C) 政策評估
- (D) 問題認定

4. 請依據下文內容與我國中央政府相關職權判斷，下列敘述何者正確？

「大法官提名審薦小組」成立，將協助總統提名四位大法官人選

陳碧玉、黃璽君、羅昌發、湯德宗四位大法官於 2011 年就任，任期將於 2019 年 9 月期滿，「司法院大法官提名審薦小組」將協助__甲__依據《中華民國憲法增修條文》規定，提名四位大法官人選，咨請__乙__同意後任命。大法官擔負「憲法守護者」的角色，行使職權攸關人民基本權利保障及穩定民主憲政發展，因此大法官任期順利銜接，才能維繫國家憲法機關正常運作。

- (A)另有十二名大法官任期於 2019 年 9 月尚未屆滿
 - (B)甲為我國的最高行政首長，可以向國會提出覆議案
 - (C)乙可提出總統、副總統罷免案以及審理正副總統彈劾案
 - (D)新任的四位大法官，不須具備法官身分亦可在憲法法庭審理
5. 文化部自 2010 年開始舉辦「臺灣國際文化創意產業博覽會」等各項活動，2019 年以「Culture On the Move——文化動動動」為主題獲得許多好評，不過亦有部分民眾表達不同看法，認為文博會的資源集中在金字塔頂端或都會地區。如果此一輿論引發軒然大波，文化部長可能必須做好隨時離開職位的心理準備。請依據上述內容與我國文官體制判斷，下列敘述何項正確？
- (A)文化部長的任用不必經由總統的同意
 - (B)文化部長若因此離職是擔負行政責任
 - (C)文化部長必須通過有關國家文化政策的國家考試，始可擔任
 - (D)文化部長可能在行政院長下臺時一併辭職，兩者皆是政務官

6. 2017 年，英國舉行下議院選舉，650 個選區之中，保守黨僅獲得 318 席，表現不如預期，導致首相梅伊面臨「僵局國會」的情勢。而工黨則獲得 262 席，與上屆相比增加 30 席；表一所示為各個政黨的總席次、得票率。關於英國國會大選結果之敘述，下列何者正確？

表一

政黨	總席次	全國得票率
保守黨	318	42.4 %
工黨	262	40.0 %
蘇格蘭民族黨	35	3.0 %
自由民主黨	12	7.4 %
北愛爾蘭民主統一黨	10	0.9 %
其他	13	略

- (A)保守黨獲得最多席次，可推斷英國屬於一黨獨大制
- (B)此次大選結果，若想要組成聯合內閣只有兩種方式
- (C)若首相組閣，則內閣閣員不能具有國會議員的身分
- (D)首相梅伊是最高行政首長，而英國女王是國家元首

7.、8.題為題組

◎ 表二為 2016 年我國舉行第 9 屆立法委員選舉的開票結果。依據表二資訊，回答下列問題：

表二

政黨	政黨得票率	不分區立委	區域席次	原住民立委	總席次
民進黨	44.1 %	丁	49	1	68
國民黨	26.9 %		20	丙	35
親民黨	6.5 %		0	0	3
時代力量	6.1 %		乙	0	甲
無黨團結聯盟	0.64 %		0	1	1
無黨籍			1	0	1

7. 關於我國立法委員選舉制度的敘述，下列何者正確？
(A)不分區立委採比例代表制，沒有加入政黨的參選人亦能分配席次
(B)原住民立委採取複數選區相對多數決制、單記制，總共選出 6 席
(C)區域立委採取單一選區相對多數決制，應有二分之一的婦女保障名額
(D)此選舉為單一選區兩票制，屬於混合制的聯立制，有利兩黨制之形成
8. 依據我國現行法規與選舉制度分析表中數據並判斷，下列敘述何者正確？
(A)此次時代力量的政黨總席次甲，比親民黨少
(B)我國的區域立委總席次是 75 席，乙應是 5 席
(C)國民黨原住民立委席次丙應是 5 席，比民進黨多
(D)丁為 18 席，顯示民進黨不分區立委席次比國民黨多
9. 白雲老師介紹我國七次修憲的歷程，並擬出一道題目測驗學生：「從中央政府體制的調整判斷我國總統職權的強化，其中哪些變化可看出憲政體制朝向總統權力大增的方向？」根據上述內容判斷，下列何者正確？(甲)廢除國民大會代表(乙)限縮行政院長副署權的範圍(丙)總統享有直接任命行政院長的權限(丁)若行政院長因不信任案辭職，總統得解散立法院(戊)立法院行使不信任案提案權
(A)(乙)(丙)(丁) (B)(乙)(丁)(戊) (C)(甲)(丙)(丁)(戊) (D)(甲)(乙)(丙)(丁)(戊)
10. 依據下文敘述與《公民投票法》修訂的相關規定，下列解讀何者正確？

2017 年，我國通過《公民投票法》修正案，大幅降低提案與連署門檻，2018 年底迎來首次 10 項公民投票案與地方公職人員選舉一併舉行，從連署送件到開票過程均引發諸多爭議。而此次公民投票結束之後，朝野各政黨及民間團體對於《公民投票法》再次提出相關的修正建議，且數名立委明確提出修法方向，例如人權議案不能公投等類似提案。

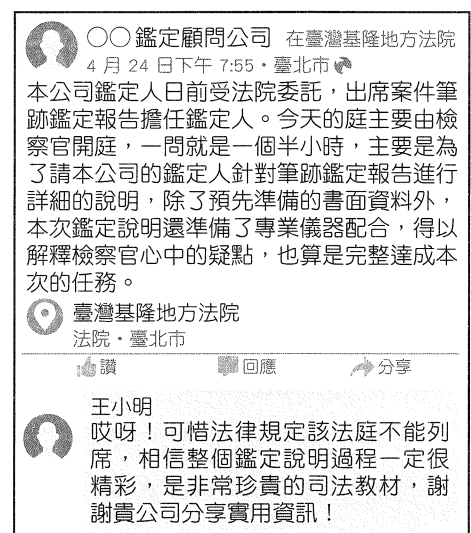
- (A)假若 2018 年沒有通過的公投案，同案於隔年不可再提出
(B)此法規定人事任命案與政府投資案可成為公民投票提案
(C)防禦性公投由行政院提案，經總統核可之後，再交由中央選舉委員會同意即可舉行
(D)公投案的投票人數須達投票權人總數過半數，且有效投票數過半數同意，即為通過

11. 小琉球一向是國內旅遊的熱門景點，國人喜愛到當地觀賞海龜，但是遊客帶來過多塑膠製品，增加當地生態環境的負擔，因此屏東縣政府、地方民宿業者與商家合作，採取另外一種保護環境的經營模式，包含設置飲水機、推廣租借低污染的電動機車等，透過公部門與民間企業合作建構當地特色，也藉此因應中央財政困難的觀光政策，此種做法最符合哪一項概念？
- (A)地方自治 (B)地方治理 (C)均權制度 (D)地方分權

12.~14.題為題組

- ◎ 司法院大法官釋字第 748 號最初是來自祁家威的個人聲請，其於 1986 年至臺北地方法院請求與另一名男性公證結婚遭到拒絕，自此他透過行政、立法、司法部門，窮極各種司法管道企圖爭取同性婚姻權益。2019 年 4 月，立法院曾召開朝野協商，針對行政院「司法院釋字第 748 號解釋施行法草案」、國民黨「公投第 12 案施行法草案」，以及民進黨「司法院釋字第 748 號解釋暨公投第 12 案施行法草案」，三項同婚專法草案版本進行逐條討論並於院會做出最終處理。同年 5 月，立法院通過行政院版本《司法院釋字第 748 號解釋施行法》，其中第 4 條明定「成立第 2 條關係應以書面為之，有 2 人以上證人之簽名，並應由雙方當事人，依司法院釋字第 748 號解釋之意旨及本法，向戶政機關辦理結婚登記。」確定 5 月 24 日起，同性伴侶可以向戶政機關辦理結婚登記，我國成為第一個同性婚姻合法化的亞洲國家。
12. 前述提及祁家威先生的行為，若以柯柏格的道德階段分析，前述現象應是哪種取向，且最有可能的原因是什麼？
- (A)人際關係和諧取向：為取得同志族群的稱讚，希望成為理想的典範
(B)法律與秩序取向：若法律侵犯人性尊嚴，則必須修正不適當的法律
(C)社會契約取向：認為法治的存在應該有益於社會與個人，具有彈性
(D)避罰服從取向：因害怕違法遭到處罰，因此不斷主張修正現行制度
13. 2017 年大法官宣告《民法》同性不得結婚的規定違憲，而臺灣社會在兩年期間不斷對話溝通，甚至利用公民投票反映民意，直至 2019 年通過《司法院釋字第 748 號解釋施行法》。關於本釋憲案與修法過程的敘述，下列何者正確？
- (A)此施行法所明定之結婚形式要件與《民法》結婚的規範相同
(B)若遇有爭議的法案，可在逐條表決的院會之後進行黨團協商
(C)為彰顯主權在民精神，人民、法人與政黨皆可提法律修正案
(D)宣告違憲之隔日起，各地戶政機關即可接受同志的結婚登記
14. 某次立法院召開黨團協商審理《司法院釋字第 748 號解釋施行法》草案的過程，曾有委員表示「因為釋憲在前，而公投在後，根據新法優於舊法原則，所以應要優先適用公投結果」，進而引發社會大眾的熱烈討論。請以所學的法律知識判斷，下列敘述何者正確？
- (A)我國所有法律皆適用「新法優於舊法」原則
(B)釋憲的法位階應高於法律，而低於憲法本文
(C)我國的公民投票尚無法透過人民連署提案修改憲法
(D)草案在黨團協商階段時顯示立法程序尚未通過一讀

15. 88 歲的老榮民劉明芝，原籍是湖南長沙，18 歲便跟隨國民政府軍隊來臺，退伍之後擔任清潔隊員長達 34 年，雖然其生活清苦與簡樸，卻將畢生儲蓄全數捐給榮民之家與榮民榮譽基金會，總金額高達 700 萬元，榮民之家的員工曾苦勸他不要捐款這麼多，應該留一些錢給自己。但是劉明芝認為錢財為身外之物，現在日日有飯吃已經心滿意足，他一直學習成為對社會更有貢獻的人，而捐款是現在唯一能夠做到的回饋。若從畫線部分判定該位榮民的行為符合道德，主要是基於哪一個理論？
- (A) 效益論 (B) 義務論
(C) 社群論 (D) 德行論
16. 我國公民的權利意識逐漸深化，許多勞工藉由團體力量爭取權益，期盼能夠改善勞動條件。如某家航空公司的機師工會，曾以罷工爭取改善疲勞航班，增添人力等訴求。2018 年立法院通過《勞動基準法》修正案，調整工時、工資等勞動條件的最低標準，以保障勞工權益。而勞動契約應由勞資雙方合議定之，雇主不得主張《民法》契約自由原則。若勞資雙方對於契約內容無法達成共識，則政府將會介入協調並促進溝通。請問政府介入私法情形的法律概念和下列敘述何者相符？
- (A) 17 歲少年觸犯刑事行為，適用《少年事件處理法》
(B) 親屬之間產生財務糾紛，適用和解或調解等救濟方式
(C) 買賣屬於《民法》契約，特種買賣適用《消費者保護法》
(D) 高中生考試作弊而遭到校方退學，得向上級機關提出訴願
17. 15 歲的阿玉在火鍋店打工，因而認識同齡並就讀高中的阿金，熱戀的兩人在兩情相悅之下發生性行為。依據我國相關法律規定分析上文，下列何者正確？
- (A) 阿玉在火鍋店打工，其年齡資格已經違反《勞動基準法》相關規定
(B) 阿玉的父母並不是被害人，因此無權對阿金提出妨害性自主的告訴
(C) 除了刑事責任之外，阿金可能須擔負民事侵權行為的損害賠償責任
(D) 兩人是兩情相悅之下發生性行為，因此阿金不構成妨害性自主之罪
18. 圖二的臉書（Facebook）發文來自臺灣某鑑定顧問公司的粉絲專頁，該公司至法院擔任筆跡鑑定人並發表相關想法，長期關注司法議題的高中生王小明看到此則貼文並寫下留言。根據圖文內容判斷，下列敘述何者正確？
- (A) 根據王小明的留言，民眾不能列席是基於偵查不公開原則
(B) 若是檢察官開庭主導，代表目前該項案件已進入審判階段
(C) 該項案件的文書鑑定可能是涉及遺產分配的民事訴訟案件
(D) 該案法庭所處的基隆地方法院僅處理民事及刑事訴訟案件



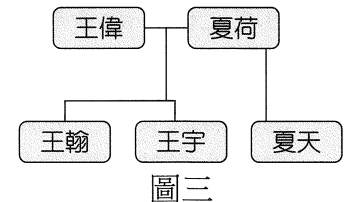
圖二

19. 部分民眾曾向教育局檢舉，許多公立中小學以發掘特殊才藝專長為由，另外成立音樂班、美術班等，將學生進行分班教學。此舉明顯違反國家義務教育「正常教學、常態編班」原則，希望學校能夠將特殊才藝班學生重新打散回歸各班；但是部分家長表達反對意見，其理由是特殊才藝班學生是依照校方規定編班，且已熟悉原屬班級環境，若是再次強行拆班，將不符合「○○原則」。根據上文內容推斷，「○○原則」是指哪一項行政法原則？
(A)明確性 (B)法律優位 (C)法律保留 (D)信賴保護
20. 24 歲的阿芬是星際航空公司的空服員，她發現機艙的餐點通常會準備過剩，當飛機抵達目的地之後，許多剩餘食品直接當成廚餘丟棄。雖然阿芬知道剩餘食品屬於公司所有，但是每趟值勤結束之後，仍於未告知公司的情况之下帶走剩餘食品與用品。根據上文內容與「犯罪構成要件」判斷，下列分析何者正確？(甲)其行為符合阻卻違法事由(乙)其行為具備行為有責性(丙)就客觀要件而言，帶走物品屬於《刑法》竊盜行為(丁)就主觀要件而言，阿芬並沒有將物品占為己有的意圖
(A)(甲)(丁) (B)(乙)(丙) (C)(甲)(乙)(丙) (D)(乙)(丙)(丁)
21. 新聞曾報導一案例：勇哥是一名自營的計程車司機，某日他酒後駕車途中遭到警察臨檢，因擔心受罰而加速逃逸，直到警察追車攔阻並強行停車受檢。由於當下違規駕駛計程車，因此其小客車駕照遭到吊銷，主管機關依法連同他的機車駕照一併吊銷，勇哥認為這個處罰根本不合理，然而大法官的解釋認為，職業駕駛人必須比一般駕駛人具有更高標準的規範，因此法規的手段有助於達成駕駛人接受酒測的目的，且此手段沒有過當。關於前文所述，下列分析何者正確？
(A)依照「不當聯結禁止原則」，吊銷該名司機的機車駕照是違法行為
(B)若其他溫和手段不具備相同效果，顯示此行政處分符合「適當性原則」
(C)吊銷職業駕照將侵害工作權，違反憲法保障之基本人權，故該處分無效
(D)該名司機酒駕並逃逸臨檢，主管機關吊銷其汽機車駕照，符合「比例原則」
22. 2019 年 7 月起，最高法院的民事庭、刑事庭設置「民事、刑事大法庭」，而最高行政法院設置「大法庭」，各審判庭得依所屬審判事務類型向大法庭提案，針對法律見解歧異的問題由大法庭統一見解，大法庭僅針對提案法律問題做出決定，即將案件移回承審法庭。設置大法庭的目的是為了達到終審法院統一法律見解之目的，使裁判具有安定性與可預測性。關於此項變革以及我國現行的裁判制度，下列敘述何者正確？
(A)實施之後，我國審判制度從三級三審制走向二級四審制
(B)大法庭制度實施之前，我國並沒有統一法律見解的制度
(C)大法庭的見解可約束各法院的裁判，故應由大法官擔任
(D)大法庭僅針對提案法律問題做出見解，不屬於終局裁判

23. 某日小鐵接到一通不明的跨國來電，對方聲稱是一名檢察官，要求小鐵配合辦案。不過小鐵確信這通來電屬於詐騙電話的前提之下，請判斷其中哪段對話具有問題，足以讓這位「檢察官」露出馬腳？

- (A)你好，我是負責偵辦此一公訴案件的檢察官，敝姓林
- (B)最近我們接獲某一位線民告發，指控你涉及詐騙犯罪
- (C)地檢署已經簽發搜索票，我們將會逐一清查你的帳戶
- (D)你可以行使緘默權，亦可以委任律師擔任你的辯護人

24. 電視劇《幸福在我家》的劇情：王偉與夏荷這對夫妻，育有兩名親生兒子王翰、王宇，而夏天則是夏荷與前夫所生的女兒，王偉沒有收養夏天，但是兩人情同父女，一家人和樂融融。根據上文與我國《民法》規定判斷，下列敘述何者正確？



- (A)若王偉欲收養夏天，必須訂定書面契約且獲得法院裁定認可
- (B)王偉和其兒子王翰、王宇，三人與夏天的親屬關係屬於姻親
- (C)夏天是夏荷的婚生子女，但是對王偉而言，則是非婚生子女
- (D)王偉逝世時，王翰、王宇與夏天繼承的遺產應繼分比例相同

25. 一份觀察紀錄記載著：「統治者藉由盛大的排場、精心設計的儀式，讓地方代表震攝於領導的威儀，感受統治集團的強大力量。統治者在儀式中發給地方代表藤杖，代表權力的授予，並強調須定期繳回，重新頒授。另一方面，在現場為了要準確傳達統治者的要求，也會有各種即席翻譯，新港語、虎尾壠語、山地語、馬卡道語、排灣語、魯凱語。同時部分顯要人物，如大肚王、琅嶠首領，也會受到特別禮遇。」請問這份紀錄記載的是下列何者的盛況？

- (A) 4 世紀初的建康，團結吳姓
- (B) 17 世紀初的大員，地方會議
- (C) 19 世紀中的琅嶠，解決船難
- (D) 20 世紀初的臺北，臺灣博覽會

26. 出土於湖北的《睡虎地秦墓竹簡》，收入一些法律文書，其中記載著一段資料：「查封被審訊人某里士伍甲的房屋、妻、子、奴婢、衣物、牲畜。甲的房屋、家人計有：堂屋一間、臥室二間，都有出入口，房屋用瓦蓋、設有木造門，門前有桑樹十株。妻名某，已逃亡，查封時不在場。女兒：成年女子某，沒有丈夫。兒子：未成年男子某，身高六尺五寸。奴僕：未成年女子某，及公狗一隻。」資料中的哪些紀錄可以做為當時政府施政的參考？

- (A)女兒已成年，政府可依此徵調其入伍服役
- (B)兒子的資料，可做為其是否被徵兵的依據
- (C)被審訊人無田產，僅需以白銀繳交人頭稅
- (D)依人口計算該戶在均田制下可獲得的土地

27. 以下三段資料都是關於中國某位皇帝的作為：

資料一：大臣建議：「唐、虞無佛圖而國安，齊、梁有寺舍而祚失者，未合道也。但利民益國，則會佛心耳。夫佛心者，大慈為本，安樂含生，終不苦役黎民。」

資料二：皇帝召集群臣、沙門、道士等辯論三教先後，定儒教為先，道教為次，佛教為後；並於一年後下敕禁斷佛、道二教，「融佛焚經，驅僧破塔，……寶刹伽藍皆為俗宅，沙門釋種悉作白衣」；並於破北齊之後，「……一切佛塔，掃地悉盡，……八州寺廟，出四十千，盡賜王公，充為第宅，三方釋子，滅三百萬，皆復軍民，還歸編戶。」

資料三：「自廢以來，民役稍希，租調年增，兵師日盛，東平齊國，西定妖戎，國安民樂，豈非有益？」

根據上述資料，下列何者敘述正確？

- (A) 這個皇帝是北魏太武帝
- (B) 這個皇帝是北周宣帝
- (C) 皇帝禁斷佛、道二教，主因是為了富國強兵
- (D) 皇帝禁斷佛、道二教，主因是為了恢復儒家思想

28. 錢穆《國史大綱》：「尚書六官，各有所職，儻無折中，則恐互相推避，互相炫匿，故總攝以宰相。宰相亦慮有未周，見有所偏，乃先之以中舍（中書舍人之簡稱）之雜判，庶得盡群謀而伸公論。又繼之以給事（門下省之屬官）之駁正，復得塞違而繩愆。此等制度，可謂宏大又兼精密。」根據上述的制度，下列何者解讀正確？

- (A) 宰相與樞密院分掌軍政，司法歸御史臺，形成三權分立
- (B) 中書的決策權受到門下省的審駁權牽制，權力無法獨大
- (C) 皇帝權力與三省間的運作關係，呈現出宰相權力的低落
- (D) 所有的軍國大事都取決於宰相，使得皇帝有名卻無實權

29. 某個年代後，臺灣文學出現了一個巨大的轉變，內地人與本島人本來涇渭分明，如今開始用起同樣的語言創作，有了交集。此時兩方的作家都注意臺灣民俗的內涵，並出現大量以歷史題材創作的小說，與國姓爺鄭成功相關的故事更是當時作家書寫的主題之一。一位作家特別引用當時人並不重視的《臺灣外記》取代連橫的《臺灣通史》，對鄭克塽的繼位正統提出質疑。該作家的小說中寫道：「克塽與文正公（陳永華）商議，為彌補他父親反攻大陸失敗，他決定放棄收復中國，寄望有日能富國強兵，征服安南、緬甸，以臺灣為重建大明帝國之南方基地。」內容暗喻擁有向東南亞和南洋擴張的克塽才是真正繼承大明正統者。請問這位作家寫作的背景最可能與下列何者相符？

- (A) 豐臣秀吉時代對韓半島、臺灣的擴張
- (B) 清治後期重建延平郡王祠，團結對外
- (C) 日治初期強調日人統治臺灣的正統地位
- (D) 日治後期南進政策與大東亞共榮圈理想

30. 經歷了秦末動亂與楚漢相爭，西漢立國初期到處都是殘破的景象。人民飢餓貧困，常必須賣兒鬻女以維持生計。朝廷的財政更為緊絀，無力從事建設。漢初的人口減少，大城市人口只剩下原本的十分之二至十分之三。人口銳減除了由於大量人口死於戰亂外，更因大批人口為避禍而逃亡離散，無法計算。對此，政府採取何項措施以為因應？
- (A)對外平息征戰，對內則落實與民休息政策 (B)奪回燕雲十六州，以增加人民的墾殖區域
(C)實施土地國有制，降低農民購地開墾負擔 (D)推崇孔孟思想，藉以穩定並重塑社會秩序
31. 在經歷過臺灣統治者一連串的措施後，長久處於「界外」的原住民，首度面對具備龐大武力的國家，並對其傳統領域展開前所未有的侵犯。在面對這樣的侵犯下，原住民與統治者間發生多起對抗事件，最終，統治者突破了番界，將全島大部分納入了實質統治版圖。原住民可以自主的空間在經歷此一過程後，只剩下中央山脈了。請問文中原住民遭遇到的是什麼政策的影響？
- (A)荷蘭統治下的武力征服 (B)清治前期大甲西社事件
(C)清治後期的開山撫番 (D)日治時期的理蕃事業
32. 《史記》中有漢朝與周邊國家往來的相關記載，摘記如下：
- 資料一：南越王趙佗在秦朝滅亡後，起兵占桂林、象郡，自立為南越武王。漢高祖初定天下時，為避免動亂而放棄征討趙佗。漢高祖十一年，派遣陸賈去立趙佗為南越王，和他剖符定約，互通使節。
- 資料二：閩越王無諸為越王勾踐的後代，秦統一天下後把他的王號廢掉，把土地規劃為閩中郡。漢高祖五年，又立了無諸做閩越王，統治閩中原有的地域。
- 資料三：朝鮮王滿曾占領真番、朝鮮等地。漢惠帝時天下剛剛安定，遼東太守就約結王滿做漢的外臣，防守塞外的蠻夷。傳到他的孫子右渠時，沒有去晉見過漢天子。漢天子下詔攻擊朝鮮。最後漢朝平定朝鮮，劃分為四個郡。
- 請問上述資料應如何解讀較為合理？
- (A)三項資料中的外族在西漢初期皆被納入漢帝國版圖
(B)資料一的南越須每年繳交賦稅給漢政府，以示服從
(C)資料二的閩越投降漢朝後，其統治者改由漢朝直接派任
(D)資料三的朝鮮地位變化，是漢朝將藩屬收入疆域的表現
33. 以下一段是君臣之間的對話：
- 大臣：「甲舉國來犯，深入中國千里餘，即使退兵都必須花上十幾天，因此只要下令各地堅壁清野，他們的百萬大軍不用打仗也會餓死。現在他們的處境十分危急，只要我們堅持些時日，他們便不得不投降，我們甚至可以收復燕雲十六州等失土。……如臣的策略得用，則臣保證百年間不再有戰爭，不然臣恐四、五十年後，戰事又將再起。」
- 皇帝：「朕不忍生靈塗炭，不如暫且聽其和談，四、五十年還早得很，焉知那時不會出現安邦定國的良材？」
- 請問此時為什麼朝代？甲國為哪一國家？
- (A)北宋，西夏 (B)南宋，金 (C)北宋，遼 (D)南宋，蒙古

34. 西晉時頒布占田法令，規定官員與人民占田的大小與蔭佃戶的數量，表三即為官員與平民占田的土地面積與蔭佃戶數量簡表。請問這份資料提供了什麼訊息？

表三

身分	一品	二品	三品	四品	五品	六品	七品	八品	九品	平民（一戶）
土地（頃）	50	45	40	35	30	25	20	15	10	1
佃戶（戶）	50	50	10	7	5	3	2	1	1	0

- (A) 依身分位階不同而有不同的占田規定，顯見政府欲建立公平的賦稅制度
 (B) 顯示土地兼并的盛行已非政府所能控制，只能完全承認並給予合法地位
 (C) 承認土地私有的同時又給予限制，可見政府調合現實與控制兼并的企圖
 (D) 賦予官員大批土地開發權利，這是民貧兵弱、政府無力發展經濟的表現
35. 資料一：19 世紀末，一名外觀與漢人無異的大清軍官與英國領事見面。這名出身新港社的軍官告訴英國領事，他的族人是當年鄭成功攻克臺灣後，留在臺灣對新主人宣誓效忠的三千名荷蘭人（紅毛）後裔。
- 資料二：1864 年，馬雅各醫師伴隨官員拜訪「番人」時，岡仔林（Kongana，新港社後裔移居地，今臺南左鎮）的一位耆老前來見馬雅各，並以幾近失傳的族語試圖與馬雅各交談；當耆老發現馬雅各完全聽不懂他所說的一切時，顯然相當失望。他似乎認為祖先留下的族語應可與眼前的「紅毛番」溝通。
- 資料三：屏東縣排灣族曾流傳一首〈荷蘭歌〉，當地人說是三、四百年前荷蘭人教導他們族人的歌曲，他自己也不懂其中的意思。經調查後發現原來是「福佬語」所唱的一首〈勸番歌〉。內容大致如下：「勸番不必要跣郎，跣郎不能當衣糧，跣得郎來無好處，是福是禍要思量……官兵大砲與洋槍，番仔如何能抵擋……莫如歸化心不變，學習種茶與耕田，剃頭穿衣為百姓……。」
- 請問關於三則資料的解讀，下列何者較為合理？
- (A) 資料一證明了荷蘭人並未被鄭氏驅離，並且成為新港社的祖先
 (B) 資料二表示荷蘭人對新港社影響甚小，其教導的語言無法溝通
 (C) 資料三可看出荷蘭人應對排灣族有影響，並指導他們農業發展
 (D) 三則資料顯示記憶易有時間錯置的問題，與現實狀況有所出入
36. 這是中國頒布某次中、日衝突的宣戰詔書：「……朝鮮又有土匪變亂，該國王請兵援剿……當即諭令李鴻章撥兵赴援，甫抵牙山，匪徒星散。乃倭人無故派兵突入漢城，嗣又增兵萬餘，迫令朝鮮更改國政……各國公論，皆以日本師出無名，不合情理……乃竟悍然不顧……反更陸續添兵……（中國）是以添兵前往保護。詎行至中途，突有倭船多隻，乘我不備，在牙山口外海面開砲轟擊。」根據上文敘述，請問下列何者正確？
- (A) 文中的土匪變亂是東學黨之亂
 (B) 文中的土匪變亂是江華島事件
 (C) 後來導致了牡丹社事件的發生
 (D) 後來簽訂《馬關條約》，割讓臺灣、山東半島和澎湖

37. 資料一：「蕞爾之區，力農止有此數，分一人之力於園，即少一人之力於田；多插一甲之蔗，即減收一甲之粟。」「爾種蔗者有糖不足以為穀，非特無以完公，更思靡可餬口！數萬軍民需米正多，則兩隔大洋，告糴無門；縱向內地舟運，動經數月，誰能懸釜以待？」

資料二：「以前臺灣居住漢人有數萬名，自隸清以後，居民年年回歸泉州、漳州、廈門等地，現僅有漢人數千名居住。故糖與鹿皮的生產量已不及從前的十分之一。」

資料三：「這裡的統治者十分苛刻，他徵召 7 萬名士兵，在第一個三年付錢和米糧給這些士兵，也給他們一些土地讓他們生活。但最後卻拿走他們的米和錢，也不讓他們回到中國。現在的蔗糖產量，不到之前統治者的五分之一。」

請問從這三則資料的內容來判斷，其時間先後順序應為何？

- (A)資料三→資料二→資料一 (B)資料二→資料三→資料一
(C)資料一→資料二→資料三 (D)資料三→資料一→資料二

38. 以下兩則資料皆敘述同一件史事：

資料一：改革政策實行之前：「方今地畝人丁日漸減少，且額外增役，有加無已。細訪其故，或富豪併吞地土，或勢要強占戶丁，……遂致閭閻小民甘心拋荒田產，逃移四方。」

資料二：某一政治家為他自己所實施的政策下一個結論：「清丈事極妥當，糧不增加而輕重適均，將來國賦既易辦納，小民如獲更生。」

請問這位政治家是誰？他所推行的政策為何？

- (A)商鞅：廢井田，開阡陌，鼓勵生產並允許土地私有
(B)王莽：他實行「王田」制度，將土地收歸國有並禁止買賣
(C)王安石：他推動「青苗法」，以低利貸款給農民，避免豪強剝削
(D)張居正：他實行「量地計丁」、「計畝徵銀」，使貧農不致「產去稅存」

39. 表四為某學者針對乾隆年間滿人巡臺御史六十七來臺考查繪製的《番社采風圖》中的文字所做的整理。根據此表內容，下列解讀何者較為正確？

表四 臺灣縣以北各縣廳番社的文化元素類型

縣廳	淡水廳	彰化縣	諸羅縣
相關番社	岸裡、大甲東、大甲西、後壠、中港、竹塹、霄裡、南崁、芝巴裏、八里坌等社	東螺、西螺、大武郡、半線等社	目加溜灣、哆喀噶、麻豆、霄壠等社
專屬元素	捕鹿①、瞭望	迎婦	捕魚、揉採②、渡溪
跨廳縣元素	舂米、織布、刈禾	舂米、刈禾、織布	舂米、乘屋、社師
普遍元素	牛車、守隘（防番出沒）		

（註：①捕鹿—各社聚眾捕鹿。②揉採—揉採芭蕉、檳榔等，名為「採摘」）

- (A)可看出外人對於平埔族的認識有限，並且單一化
(B)從中可以觀察到清治臺灣以來平埔族發展的演變
(C)消極治理下的清朝官員抄襲舊有文獻，毫無變化
(D)表中顯現原住民的社會文化隨區域不同而有差異

40. 梁啟超在《中國學術思想變遷之大勢》一書中，曾批評某時代之學風：「流為狂禪，滿街皆是聖人，酒色財氣不礙菩提路，猖幻至此。」事實上，梁啟超所批評的「某時代」學風，當時也有學者予以嚴厲指責，試問下列何者即是以具體學術行動予以批判？
- (A)朱熹著《四書集注》，主張先泛觀博覽而後歸之約
(B)呂祖謙編輯《近思錄》，統整北宋理學家思想精華
(C)顧炎武著《天下郡國利病書》，訪查各地民情風俗
(D)吳敬梓著《儒林外史》，揭露傳統科舉制度的弊病
41. 表五所列是清治時代與日治時期的八景。1927 年《臺灣日日新報》票選出臺灣八景。但早在康熙 35 年，文人高拱乾寫作《臺灣府志》時便寫了臺灣八景。其中可以觀察到差異和有趣的地方，如「雞籠積雪」，現代的我們便會產生疑問：「基隆會下雪嗎？」對當時的文人來說，基隆不是一個容易到達的地方，距離反而展現出某種意境，中國的北方會下雪，那臺灣的最北之地應該也會下雪，透過這些想像和景物融合，陌生的地方也會變得親切。到了日治時期，舊有的八景可能不合時宜，藉由報紙的票選，重新選出人們心目中的八景，在報紙的介紹中，也會明確告訴我們確切的美景是什麼。請問配合這段敘述，下列哪一選項的解釋是合理的？

表五 清治時代與日治時代的八景

高拱乾《臺灣府志》， 康熙 35 年（1696）	安平 晚渡	沙鯤 漁火	鹿耳 春潮	雞籠 積雪	東溟 曉日	西嶼 落霞	斐亭 聽濤	澄臺 觀海
《臺灣日日新報》 （1927）	八仙山	鵝鑾鼻	太魯閣峽	淡水	壽山	阿里山	日月潭	基隆旭岡

- (A)新舊八景的變化從具象的景點轉變成抽象的意境
(B)清朝統治前期陸上交通十分方便，促成八景出現
(C)日治時期鐵路網與例假日的建立，休閒活動興盛
(D)新八景票選有強烈政治意味，企圖抹去清朝文獻
42. 「當社會改革露出端倪時，改革的擁護者並非那些無知的或不分是非的人，而是屬於這樣的人，即他們敢於獨立思考，並能從商業的觀點預測到大清國未來除非融入世界其他民族的發展行列，否則可能發生巨大的政治災難。改革派的最大弱點是在做出政治判斷時，缺乏實踐經驗做為依據，他們試圖在朝廷或人民都沒有做好準備工作的情況下，就立即推翻大清國延續已久的古老秩序，或者在現實政治鬥爭中非常不善於利用人們對既有體制的反對。」（資料來源：美國《紐約時報》，1900 年 12 月 23 日）
- 根據以上資料，請問下列何者正確？
- (A)這是自強運動，失敗的原因是守舊派的反對
(B)這是立憲運動，失敗的原因是主政者沒有改革的魄力
(C)這是戊戌變法，失敗的原因是妨礙了既得利益者的權利
(D)這是庚子後新政，失敗的原因是裁減機構，守舊派反對

43. 資料一：木村（學校老師）：「我對你們講過多少次了，留辮子是滿洲清國人的象徵。你們臺灣人都是漢人，不是滿洲人，支那被滿洲人併吞掉，支那人成了清國奴，才留辮子的。現在你們臺灣人和清國沒有關係了，為什麼不剪掉辮子呢？」

資料二：世良勝太郎與秀女談戀愛，論及婚嫁。但秀女的爸爸反對：「阿爸不喜歡日本人，而且妳要想清楚，現在嫁給他對妳好嗎？他可能馬上要當兵去南洋了，戰場凶險很難預料，他如果戰死了妳怎麼辦？何況日本軍敗相已露，戰死的可能性很高。即使沒死，日本敗戰之後，日本人大概也不能留在臺灣了。」

資料三：吳拜帶著小孩一同前往花蓮就職，因為花蓮地方小，原本小孩就讀臺南附屬公學校，現在要進入日本人為主的小學校比較容易。雖然吳拜對日本人統治有很強的反抗意識，但是面對小孩的教育和將來，他還是想替小孩爭取最好的機會。他知道要讓小孩念小學校，考中學才比較有機會。

以上三則資料分別代表日本殖民統治臺灣的三個不同時期。由資料配合時代的相關敘述，下列選項何者最為適當？

- (A) 三則資料依時間先後排序，應為資料一→資料三→資料二
- (B) 資料一為皇民化運動時期，老師希望教導學生成為真正的日本人
- (C) 資料二為內地延長主義時期，鼓勵內臺共婚，拉近臺日雙邊關係
- (D) 資料三為漸進主義時期，臺灣人對於日本統治還有很強烈的反抗

44. 資料一：元朝科舉分為鄉試、會試和御試（又稱廷試）三級。鄉試由地方官推舉二十五歲以上、具孝義之名、學問有成者參加。各行省從鄉試中選出三百人（蒙古人、色目人、南人、漢人各選出七十五人），他們進京應考由中書省主持的會試，再錄取一百人（蒙古人、色目人、南人、漢人各選出二十五人），取得御試資格，御試合格者為進士，定三甲名次。

資料二：

考試等第	蒙古人	色目人、南人、漢人
第一甲	從六品	正七品
第二甲	正七品	從七品
第三甲	正八品	從八品
其他授官規定	蒙古人、色目人應考漢人、南人科目中舉者，加一等授官	

根據上述兩則資料，請問下列何者正確？

- (A) 元朝的科舉考試合乎儒家因材施教的理想
- (B) 科舉結果各種族皆有錄取，可謂是公平的考試
- (C) 根據上文可以看出元朝的科舉制度延續了唐宋科舉制度的傳統
- (D) 漢人與南人應考較不容易，應是蒙古人防範漢人與南人的表現

45. 冠廷是個商人，一次運貨途中他登上帕米爾高原，綜目遠眺，看到一群群的駱駝商隊，滿載著貨物在貿易道路上各自向東西方移動。商隊中有王朝的使者、中亞的牧人、西域各族的商旅，以及大月氏騎兵隊的騎士等。他們彼此間語言、服裝互不相同，卻都走過了杳無人煙的沙漠或偶然可見的綠洲。商旅不絕於途，促成了不同區域間商品與文化的交流。請問冠廷所見景象，與何事件關係最密切？
- (A)蒙古西征 (B)鄭和下西洋 (C)開榷場貿易 (D)張騫出使西域

46.~48.題為題組

- ◎ 請閱讀下列資料，回答問題：

資料一：行政長官公署沿用總督府的多項措施，例如設置山地保留地、山地管制等。保留地是為維護山地人民生計、推行山地行政所保留的國有土地，原住民不得任意將之進行買賣或交換贈與。因保留地為國有地性質，所以政府可不經原住民同意便使用。

資料二：亞泥位於花蓮新城山礦場的採礦權於 2017 年 11 月 22 日到期，但經濟部卻通過延展開礦權利 20 年，引發環保團體及當地居民不滿。反亞泥還我土地自救會的族人及民間團體乃在 23 日展開封路抗爭，反對亞泥再挖 20 年，要求撤銷亞泥礦權展限。

資料三：原住民傳統領域包括祖靈聖地、舊部落土地、現在部落土地、墾耕土地、祭典土地與狩獵區六大範圍。但目前有許多傳統領域土地成為財團的開發預定地或私有地，使傳統領域範圍只剩下現在部落的保留地。

46. 日本殖民統治時期設置原住民保留地的背景應為何？
- (A)為避免漢番接觸而劃定番界，隔出原住民活動區
(B)為開發山林資源而劃設原住民的生活與活動區域
(C)漢人移墾衝擊原住民的部落範圍，因而設保護區
(D)霧社事件後為安撫賽德克族，因而規劃保護區域
47. 從三則資料可知，政府雖設置山地保留地，卻又形成嚴重的原保地流失。其主因為何？
- (A)原住民受到利益驅使，私自將土地出售
(B)水土保持不佳，常因災害導致土壤流失
(C)原住民族不珍惜土地，常隨意贈與他人
(D)政府將保留地視為國有地任意開發使用
48. 日治時期以來即設置山地保留地，對原住民族的生活區域與土地利用多有規劃與限制。資料二的事件顯示原住民處理土地問題時的態度，此態度的出現最可能與哪項因素有關？
- (A)受中國化影響，使原住民族開始重視土地所有權
(B)廢除刑法一百條，使原住民能走上街頭爭取權益
(C)透過教育的普及，使原住民對自身權益更加重視
(D)為應付田賦徵實政策，原住民需要土地生產作物

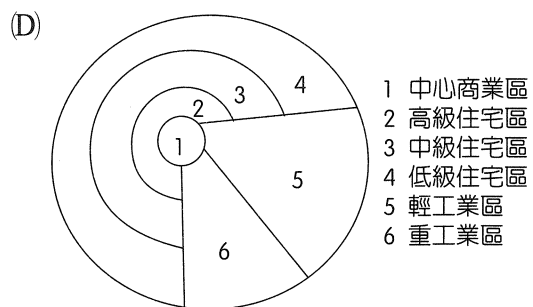
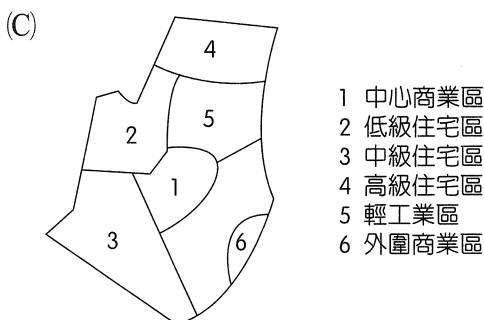
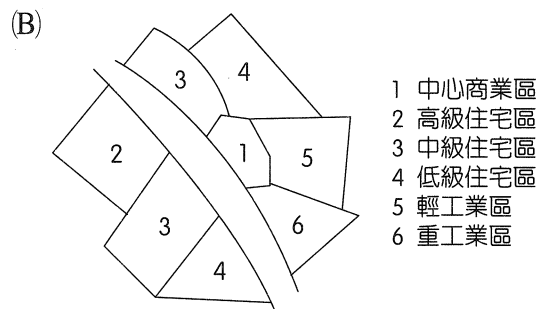
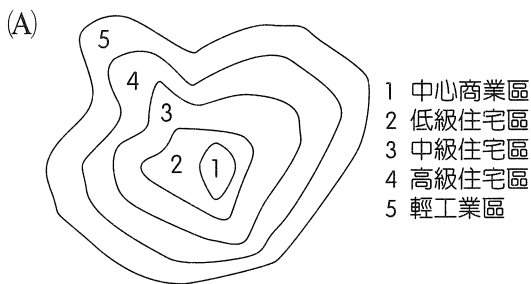
49. 關於東非饑荒的新聞高頻率地躍上國際新聞版面，從 2015 年開始，幾乎年年都有大規模災情傳出，各大國際組織不斷呼籲各國政府及社會大眾及時投入救援。最近一年，又傳出災情，從 2018 年 10 ~ 12 月的短雨季開始，到 2019 年 3 ~ 5 月的長雨季期間，都得不到雨水補注，以索馬利亞為例，此次乾旱已造成數百萬人無法獲得穩定的食物來源，其中接近一半是孩童。請問在文中所提到的長雨季是指下列哪一個風帶所帶來的雨水補注？

- (A) 貿易風
- (B) 盛行西風帶
- (C) 赤道無風帶
- (D) 馬緯度無風帶

50. 根據日本厚生勞動省最新發布的數據顯示，2018 年日本國內出生的嬰兒人數為 92 萬 1 千人，連續 3 年低於 100 萬人。日本是世界上屈指可數的長壽國，同時也是超高齡社會。國內 65 歲以上人口高達 3,516 萬人，占總人口的 27.7 %，反觀 15 歲以下人口數量現僅有 1,559 萬人，占總人口的 12.3 %，意味著當地的勞動人口將逐漸減少。根據以上敘述，日本的扶養比推估約為多少？

- (A) 12.3 %
- (B) 27.7 %
- (C) 40.0 %
- (D) 66.7 %

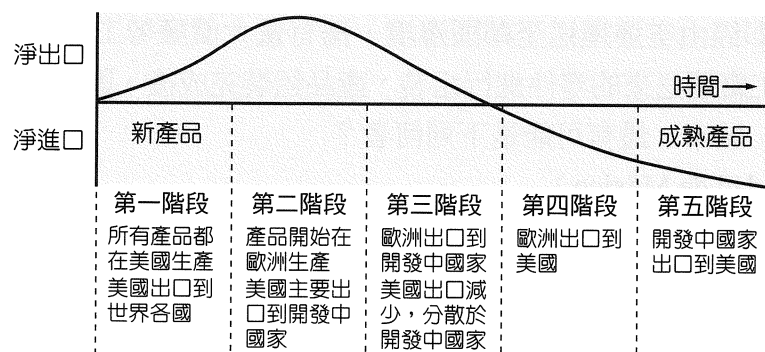
51. 天津濱海新區作為中國經濟增長的「第三極」，經過自 1990 年代開始的工業東移戰略，天津市已經初步形成了「中心城區－濱海新區」和「天津港－天津南港」的雙城雙港都市格局。請根據以上敘述，判斷天津的都市內部結構最接近下列何種模式？



52. 世界超級迷你小國——摩納哥，人均收入可達 16 萬美元，其主要經濟來源為博奕、觀光、金融業等。因摩納哥無須繳納所得稅的制度，吸引了大批其他國家的富豪來此避稅移民，移入人口遠高於外移人口，而使其成為世界上人口最稠密的國家之一，但摩納哥也面臨了高物價與房價上漲的問題，請問以人口推拉理論來看，以下敘述何者正確？

- (A) 人口稠密屬於推力
- (B) 所得稅制屬於拉力
- (C) 高物價與房價上漲屬於推力
- (D) 富豪來此避稅屬於中間障礙

53. 有學者利用產品生命週期 (product life cycle) 的概念，研究美國某產業生產與銷售區位的變化，獲得圖四所示的結果。下列哪一個概念，是導致該產業區位變遷的主因？



圖四

- (A) 區位移轉
- (B) 區位擴散
- (C) 區位聚集
- (D) 區位優勢

54. 臺灣首顆自主研发衛星「福爾摩沙衛星五號」於 2017 年在美国加州成功發射升空，每兩天會定時經過臺灣上空，負責拍攝高解析度的衛星影像。圖五為福衛五號拍攝臺灣某地區的影像，請問根據此圖，下列哪些衛星影像判讀結果是正確的？

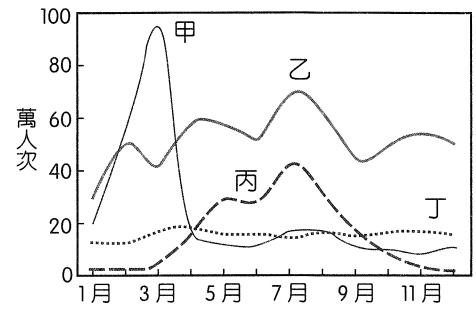


圖五

- 甲、a 處為魚塭
- 乙、b 處為機場跑道
- 丙、c 處常見的天然災害應為土石流
- 丁、圖片中常見的海岸地形為沙岸

- (A) 甲乙
- (B) 乙丙
- (C) 乙丁
- (D) 丙丁

55. 圖六是 2010 年臺灣主要觀光地區，包括臺北 101 觀景臺、澎湖國家風景特定區、墾丁國家公園及陽明山國家公園（非依序）的旅次分布圖。圖中甲地觀光人次有明顯的淡旺季之別，該地在旺季時，吸引特別多旅客造訪的主因為何？



圖六

- (A)春吶音樂祭
- (B)動、植物景觀
- (C)民俗慶典
- (D)地質地形景觀

56. 美國某跨國科技公司接到國內客戶的訂單後，位在馬來西亞的硬碟製造廠，三日內便備好零組件，第四天即經由空運運送至鄰國邊境，擁有量大價廉勞工的「甲」城市，與由全球分工鏈中的其他工廠運送來的零件進行組裝，產品組裝完成後，隨即運送到國內客戶手中。請問文中的「甲」城市，最有可能是下列何者？

- (A)墨西哥市（Ciudad de México）
- (B)溫哥華（Vancouver）
- (C)華雷斯城（Ciudad Juárez）
- (D)哈瓦那（La Habana）

57. 表六是當前世界六大洲（亞洲、歐洲、非洲、北美洲、中南美洲和大洋洲）的總人口和土地面積資料。請問哪兩洲之間的「時空壓縮」程度較高？

表六

	甲	乙	丙	丁	戊	己
總人口（百萬人）	4,494	1,250	745	643	362	42
土地面積（萬平方公里）	4,458	3,022	1,018	2,274	1,481	854

資料來源：2017 World Population Data Sheet

- (A)甲丙
- (B)乙丙
- (C)丙戊
- (D)丁戊

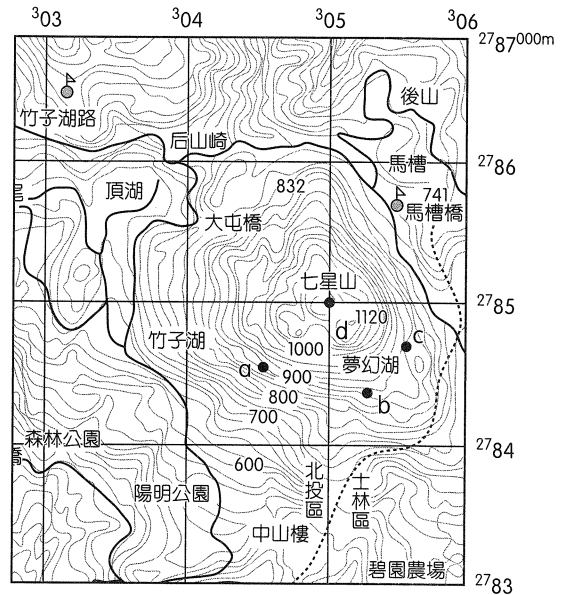
58. 傳統上，服裝業的供應鏈是許多廠商參與其中的多層次結構，即產品從成衣廠到服裝企業，然後經由零售商場等通路流向市場。不過最近出現所謂網路型 SPA（自有品牌專業零售商經營模式），這些企業懂得在生產和物流上善用資訊科技（IT）技術，在銷售方面也澈底依靠網路來完成。例如：美國一家公司「Everlane」便十分擅長網路型態 SPA 的經營，該公司會在其官網上刊登「公開透明資訊」，藉此來增加消費者的信任度，以達到提升市場的效果。請問上述該產業的新經營模式，可歸屬於知識經濟的何種類型？

- (A)服務業的知識經濟
- (B)傳統產業的知識經濟
- (C)高科技產業的知識經濟
- (D)教育文化產業的知識經濟

59. 圖七為臺灣經建版地形圖，請問根據此圖，下列地圖判讀結果，有哪些是正確的？

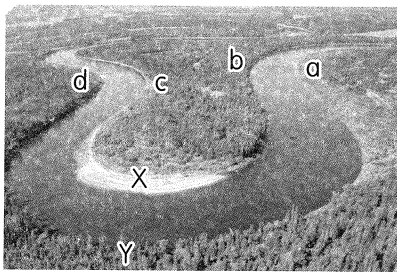
- 甲、a 的坡向為西北向
- 乙、bc 之間無法互相通視
- 丙、屬於橫麥卡托方位投影
- 丁、d 點距離赤道約 305 公里
- 戊、d 點距離 121°E 約 55 公里
- 己、a 點所在位置的網格坐標為 (0484)
- 庚、b 點為順向坡，容易有地滑的災害

- (A)甲乙丁
- (B)乙丁己
- (C)乙戊己
- (D)丁戊庚



圖七

60. 王同學在照片一的 XY 河段位置做河水深度測量，結果如表七所示（單位：m），請問下列針對測量結果的分析有哪些正確？



照片一

表七

距左岸的距離	0	2	4	8	10	13
水深	0	1.8	4.9	7.4	7.1	6.7
距左岸的距離	16	19	24	27	30	
水深	6.3	5.3	2.8	0.8	0	

- 甲、a 岸是滑走坡
- 丙、該河由 ab 段流向 cd 段
- 戊、b 岸、d 岸的堆積作用大於侵蝕作用

- 乙、c 岸比 d 岸適合建河港
- 丁、曲流頸會在河道左岸截彎取直

- (A)甲乙丙
- (B)乙丙戊
- (C)丙丁戊
- (D)甲丙丁

61.、62.題為題組

◎ 小明在臺灣某地旅遊，手持採用二度分帶坐標的 GPS 記錄移動軌跡，該軌跡起始坐標為 (227404, 2427884)，終點坐標為 (229301, 2429003)。請問：

61. 小明的移動方向為何？

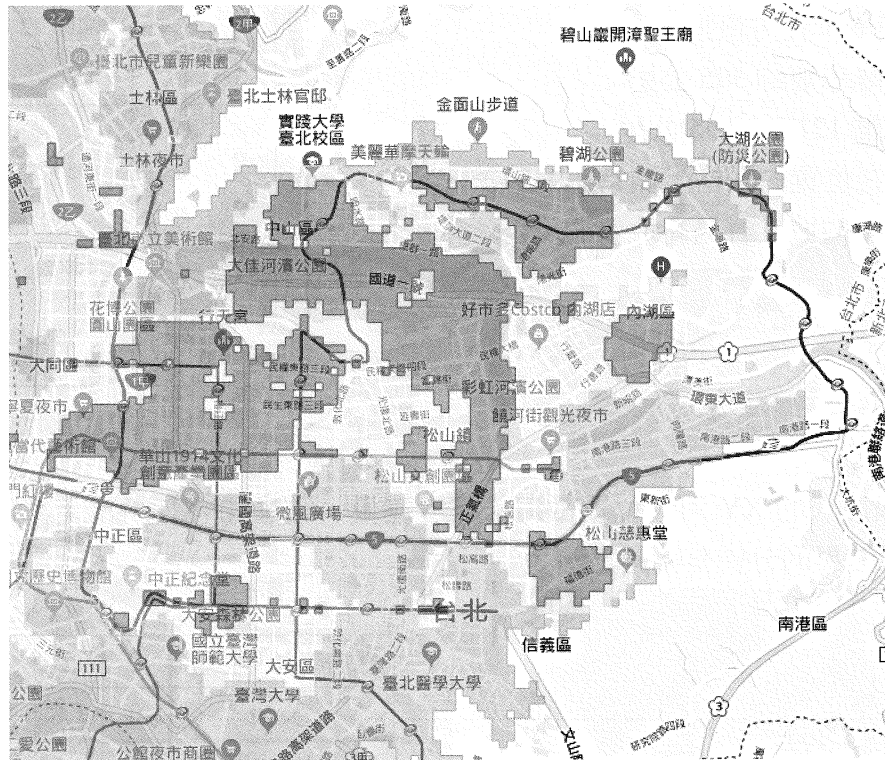
- (A)東北
- (B)東南
- (C)西南
- (D)西北

62. 小明的旅遊途中，最有可能看到下列哪些地景？

- (A)長春祠、斷崖、大理岩
- (B)臺灣水韭、小油坑、擎天崗
- (C)珊瑚礁、熱帶季風林、鐘乳石
- (D)布農族、八通關古道、臺灣黑熊

63、64.題為題組

◎ 經濟部中央地調所於 2016 年啟動「土壤液化潛勢查詢系統」，提供社會大眾在防災規劃或住屋選址時做為參考。圖八為臺北盆地的「土壤液化潛勢圖」，圖中顏色較深區域代表土壤液化發生機率較高。請問：



圖八

63. 發生土壤液化的條件為何？

- 甲、強烈地震
- 乙、超抽地下水
- 丙、地水下位較高
- 丁、地下水位較低
- 戊、土壤砂粒含量高
- 己、土壤黏粒含量高

- (A)甲丙戊
- (B)甲丙己
- (C)乙丁戊
- (D)乙丙己

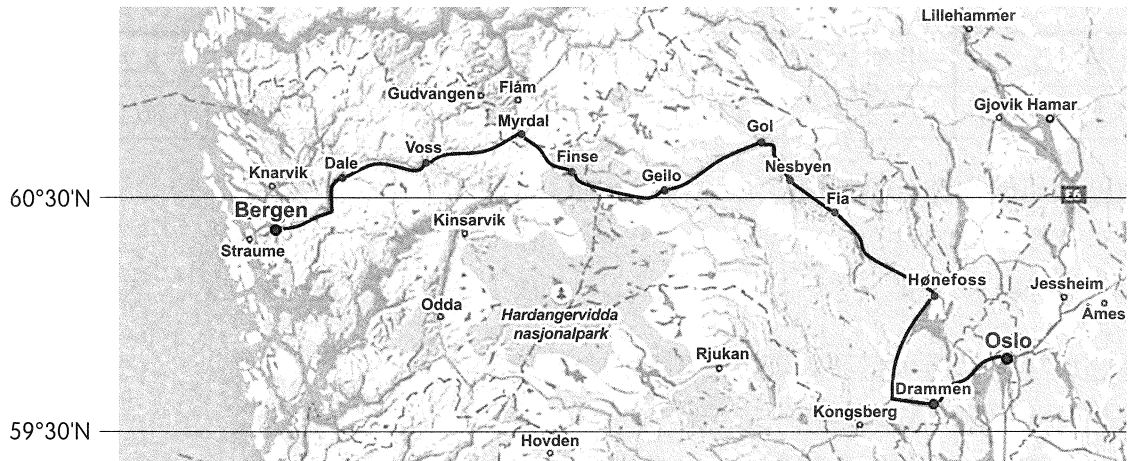
64. 從土壤液化潛勢圖（圖八）來判斷，以下敘述何者正確？

- 甲、若要看更詳細的地圖，應使用更小比例尺
- 乙、行政區界的空間資料儲存方式是以向量模式來儲存
- 丙、土壤液化潛勢區的空間資料儲存方式是以網格模式來儲存
- 丁、土壤液化潛勢區與行政區界同時在地圖中顯現，需使用 GIS 中的地勢分析功能

- (A)甲乙
- (B)甲丙
- (C)乙丙
- (D)乙丁

69.、70.題為題組

◎ 圖九是某旅遊雜誌為讀者所選出的歐洲最佳鐵道旅行的路線之一——卑爾根鐵路（Bergensbanen），根據圖九資料，請問：



圖九

69. 在鐵道旅程沿線上，下列哪一景觀最「不容易」見到？

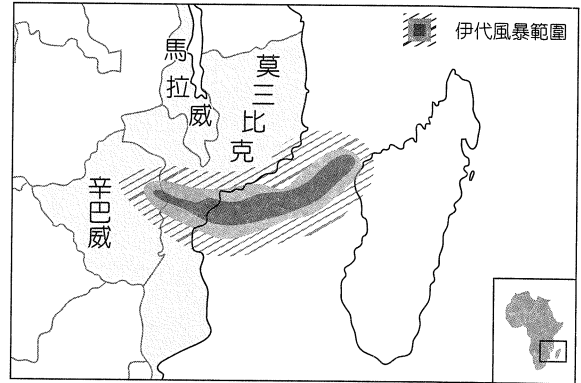


70. 此段鐵路旅程中，下列哪一主題最有可能被實踐？

- (A) 可以印證聚鐵鋁化作用的澱積層
- (B) 可以見到樹冠高低成層的植被
- (C) 可以見到凍融的崩解作用證據
- (D) 可以欣賞到日不落的永晝奇觀

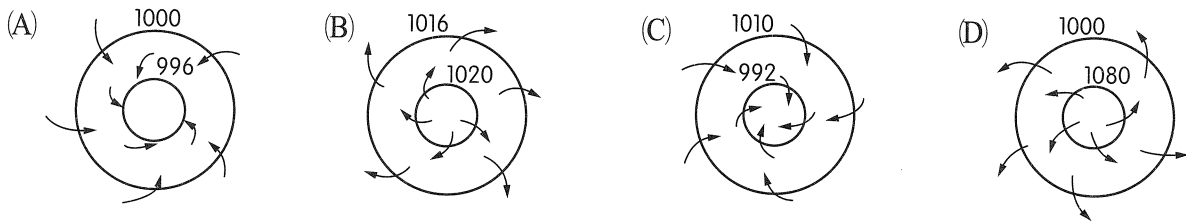
71.、72.題為題組

◎ 在 2019 年 3 月分時，馬拉威、莫三比克和辛巴威遭伊代風暴 (Idai) (圖十) 襲擊，造成嚴重氾濫，估計接近千人喪生，超過 300 萬人受到直接影響，數以十萬計的人需要援助。4 月分時，同一地區又遭肯尼斯 (Kenneth) 風暴，儘管登陸後，即於 48 小時內消散為熱帶風暴，但猛烈的風勢與「超過 4 公尺高」的洪水，也在莫三比克東北沿海造成毀滅性災情。請問：

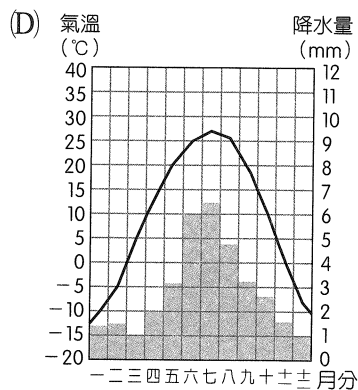
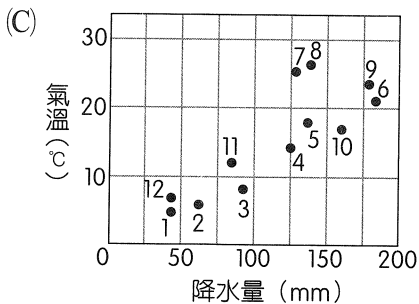
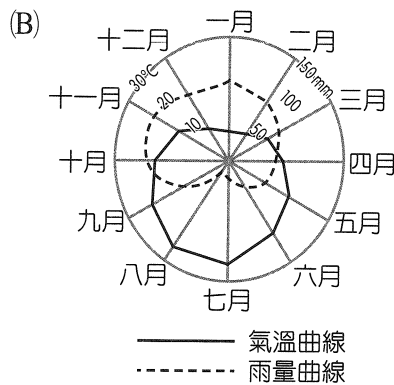
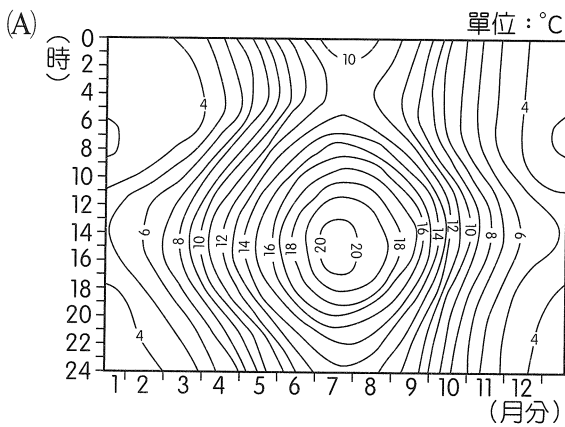


圖十

71. 下列 4 張氣流平面圖中，何者可以表示伊代與肯尼斯風暴的水平氣流流向？



72. 下列哪一圖幅所代表的氣候類型，最有可能出現上文中的氣象災害？



社會考科詳解

題號	1.	2.	3.	4.	5.	6.	7.	8.	9.
答案	(B)	(B)	(C)	(D)	(D)	(D)	(B)	(D)	(A)
題號	10.	11.	12.	13.	14.	15.	16.	17.	18.
答案	(A)	(B)	(C)	(A)	(C)	(D)	(C)	(C)	(A)
題號	19.	20.	21.	22.	23.	24.	25.	26.	27.
答案	(D)	(B)	(D)	(D)	(C)	(A)	(B)	(B)	(C)
題號	28.	29.	30.	31.	32.	33.	34.	35.	36.
答案	(B)	(D)	(A)	(C)	(D)	(C)	(C)	(D)	(A)
題號	37.	38.	39.	40.	41.	42.	43.	44.	45.
答案	(A)	(D)	(D)	(C)	(C)	(C)	(A)	(D)	(D)
題號	46.	47.	48.	49.	50.	51.	52.	53.	54.
答案	(B)	(D)	(C)	(C)	(D)	(C)	(B)	(D)	(C)
題號	55.	56.	57.	58.	59.	60.	61.	62.	63.
答案	(B)	(C)	(C)	(B)	(C)	(A)	(A)	(C)	(A)
題號	64.	65.	66.	67.	68.	69.	70.	71.	72.
答案	(C)	(B)	(B)	(A)	(D)	(D)	(C)	(C)	(C)

1. (B)

難易度：易

出處：公民與社會（二），國家的形成與目的

解析：(A)領海的範圍為 12 海浬，該海上家園設置於 13 海浬，並沒有侵犯泰國領海。(C)延伸領土是指一國於外國設置的「領事館或大使館」等。(D) WTO 爭端解決機制主要是處理「各會員國貿易爭端」，而不是國際訴訟裁決。

2. (B)

難易度：中偏難

出處：公民與社會（二），政府的體制

解析：(A)若美國總統欲提出法案，須委由同黨成員向國會提出。(C)(D)副署、不信任案等制度設計屬於內閣制的特徵。

3. (C)

難易度：易

出處：公民與社會（二），政府的運作

解析：題幹提及「對於入學作業時程過長、超額比序爭議等項目進行檢討」，可推斷此項政策執行之後，相關政府單位對於政策內容進行評估，故答案應選(C)。

4. (D)

難易度：中偏難

出處：公民與社會（二），政府的體制

解析：(A)司法院設大法官十五名，因此扣除四名，剩餘十一名。(B)甲為「總統」，應是我國的國家元首，僅具有覆議核可權。(C)乙為立法院，《憲法增修條文》規定，立法院對於總統、副總統之彈劾案，須經全體立法委員二分之一以上之提議，全體立法委員三分之二以上之決議，聲請「司法院大法官」審理。

5. (D)

難易度：易

出處：公民與社會（二），政府的運作

解析：(A)行政院副院長，各部會首長及政務委員，由行政院長提請總統任命之。(B)政務官或事務官違反行政法義務並產生公法上不利益，必須承擔行政責任，屬於一種法律責任；但是該名文化部長並沒有違反行政法義務，請辭下臺屬於「政治責任」的展現。(C)文化部長屬於政務官，由行政院長提請總統任命，不須具備公務人員考試通過資格。

6. (D)

難易度：中偏難

出處：公民與社會（二），政府的體制

解析：(A)根據學者雷伊(D. Rae)的分類標準，「一黨獨大」的政黨體系是指一個政黨掌握超過七成以上的國會席次，但是英國保守黨僅獲得 42.4%。(B)由於沒有任一政黨取得國會過半數席次，必須由數個政黨組成聯合內閣，通常會尋求「過半數」政黨聯盟，可能的組成方式超過兩種以上，如保守黨得分別與工黨、蘇格蘭民族黨、自由民主黨組成聯合內閣。(C)內閣制的特徵是行政與立法結合，因此國會議員得兼任內閣閣員。

7. (B)

難易度：中偏難

出處：公民與社會（二），政府的體制、人民的參政

解析：(A)各政黨提出一份候選人名單，並取得 5% 政黨票門檻，才能依據「政黨名單順序分配」當選席次，因此無黨籍之獨立參選人無法取得不分區立委席次。(C)區域立委並沒有婦女保障名額的相關規定。(D)我國立委選舉採取

混合制的「並立制」。

8. (D)

難易度：中偏易

出處：公民與社會（二），人民的參政

解析：(A)(B)區域立委共 73 席，時代力量的區域立委席次獲得乙 3 席（ $73 - 49 - 20 - 1 = 3$ ），我國立法院總席次為 113 席，因此時代力量的總席次甲為 5 席，大於親民黨總席次。(C)原住民立委席次共 6 席，丙為 4 席（ $6 - 1 - 1 = 4$ ）。(D)民進黨的不分區立委席次獲得 18 席（ $68 - 49 - 1 = 18$ ）；國民黨的不分區立委席次獲得 11 席（ $34 - 18 - 3 - 2 = 11$ ）。

9. (A)

難易度：中偏易

出處：公民與社會（二），民主政治與憲政主義、政府的體制

解析：(甲)廢除國民大會代表並不會增加總統的職權；(乙)第三次修憲之後，總統發布依《憲法》經國民大會或立法院同意任命人員之任免命令，無須行政院院長之副署；(丙)第四次修憲之後，行政院長改由總統直接任命，無須經由立法院同意；(丁)《憲法》本文未賦予總統解散立法院之權，第四次修憲之後，當行政院長因不信任案辭職，得呈請總統解散立法院；(戊)立法院行使不信任案提案權與總統職權並沒有關聯。

10. (A)

難易度：中偏難

出處：公民與社會（二），人民的參政

解析：(A)主管機關公告公民投票之結果起 2 年內，不得就同一事項重行提出。(B)《公民投票法》規定，人事事項不得做為公民投票之提案。(C)防禦性公投是指當國家遭受外力威脅，致國家主權有改變之虞，「總統」得經行政院會之決議，就攸關國家安全事項，交付公民投票。(D)公民投票案投票結果有效同意票多於不同意票，且有效同意票達投票權人總額四分之一以上者，即為通過。

11. (B)

難易度：易

出處：公民與社會（二），政府的體制

解析：(A)由地方居民以選舉決定地方代議與行政機關成員，並依其代議機關的意思決定或以地方公民投票決定地方事務。(B)以地方政府為核心，並與中央政府、民間企業、非營利組織與社區產生的結構性互動關係。(C)凡事務有全國一致性質者，劃歸中央；有因地制宜性質者，劃歸地方；不偏於中央集權或地方分權之權限劃分體制。(D)中央政府將部分統治權賦予地方政府並監督其授權之事務，僅於必要情形才會介入處理。

12. (C)

難易度：難

出處：公民與社會（三），道德與個人發展

解析：(A)題幹提及「窮極各種司法管道企圖爭取同性婚姻權益」，期盼透過司法途徑保障基本人權，並沒有提及其希望成為理想的典範。(B)法律與秩序取向強調「服從團體規範、尊重法律權威，以法條做為判斷依據」，即使部分法律可能侵害人權，但是仍以遵守為前提。(C)社會契約取向注重人與人之間的平等性與互惠性，認為法律應保障人權與人性尊嚴，因此面對現階段尚未保障的同性婚姻權利應爭取入法，而不是單純遵守現行法律。(D)題幹提及「窮極各種司法管道企圖爭取同性婚姻權益」，期盼透過司法途徑保障基本人權，並沒有提及「害怕違法遭到處罰」。

13. (A)

難易度：中偏易

出處：公民與社會（二），人民的參政；公民與社會（三），法律基本理念與架構

解析：(A)《司法院釋字第 748 號解釋施行法》與《民法》對於結婚的形式要件規範皆是「書面登記、兩人以上證人、向戶政機關登記」。(B)如遇有爭議法案，一讀會之後可至相關委員會審查或交付黨團協商。(C)僅有中央政府與立法委員或黨團可提出法律修正案。(D)宣告違憲之兩年內，仍以《民法》該項規定做為結婚登記的法源依據。

14. (C)

難易度：中偏易

出處：公民與社會（二），人民的參政；公民與社會（三），法律基本理念與架構

解析：(A)《刑法》適用從舊從輕原則。(B)釋憲的法位階等同於憲法本文。(D)「黨團協商」屬於一讀會之後的程序。

15. (D)

難易度：易

出處：公民與社會（三），道德與社會規範、道德與個人發展

解析：德行論強調道德人格的優位性，重視人的性格特點、氣質，關注的是「行為者」，其重點在於「我應該要成為什麼樣的人」（成為對社會更有貢獻的人），必須透過實踐（將畢生儲蓄全數捐給榮民之家與榮民榮譽基金會）才能彰顯價值與意義，而實踐必須具備正義、勇氣與誠實等三種德行，藉此養成良好道德習慣，故答案應選(D)。

16. (C)

難易度：中偏難

出處：公民與社會（三），法律基本理念與架構、憲法與人權、行政法與生活、民法與生活、紛爭解決機制

解析：(A)屬於「特別法優於普通法」原則，因此優

先適用特別法。(B)屬於私法上的紛爭解決機制。(C)政府以公權力(《消費者保護法》)介入私領域(《民法》契約自由原則)的情形,與題幹情形相似。(D)屬於公法(行政法)之範疇。

17. (C)

難易度：中偏難

出處：公民與社會(三),民法與生活、刑法與生活、紛爭解決機制

解析：阿金與阿玉皆未滿16歲,依據《刑法》第227條規定,兩人均是加害者與被害人,除了刑事責任之外,可能須擔負民事的損害賠償責任,故答案應選(C)。(A)15歲以上未滿16歲之受僱從事工作者,屬於《勞動基準法》規範的童工。(B)《刑事訴訟法》規定,被害人之法定代理人(阿玉的父母)或配偶,得獨立告訴。(D)基於保護未滿16歲之男女,即使沒有違反當事人意願或出於自願發生性行為,皆構成妨害性自主罪(非告訴乃論)。

18. (A)

難易度：中偏易

出處：公民與社會(三),紛爭解決機制

解析：圖文提及鑑定人出席的案件由「檢察官」開庭,屬於偵查庭,基於「偵查不公開」原則,因此一般民眾不能列席,故答案應選(A)。(B)圖文提及檢察官召開偵查庭,可推斷該項案件尚未進入審判階段。(C)圖文提及檢察官負責偵辦與開庭,可推斷該項案件應是「刑事」案件。(D)地方法院尚有行政訴訟審理權、公證事項及其他職權。

19. (D)

難易度：中偏易

出處：公民與社會(三),行政法與生活

解析：《行政程序法》第8條：「行政行為,應以誠實信用之方法為之,並應保護人民正當合理之信賴。」即是「信賴保護」原則,是指人民對行政機關之行為(特殊才藝專長分班)已產生信賴,且該信賴值得保護,則應避免人民遭受不可預見的負擔或喪失利益(重新打散回歸各班);但若是基於保護或增進公共利益而必須變更其行為者,則必須補償人民利益之損失,故答案應選(D)。

20. (B)

難易度：中偏易

出處：公民與社會(三),刑法與生活

解析：該名空服員為18歲以上且能正常服勤,因此具有責任能力(行為有責性),其行為具備犯罪故意(《刑法》竊盜行為),故答案應選(B)。(甲)其行為不符合任一款阻卻違法事由;(丁)就主觀要件而言,該名空服員明知剩餘食品屬於公司所有,仍在未告知公司的情況之下帶走,具有將物品占為己有的意圖。

21. (D)

難易度：中偏易

出處：公民與社會(三),行政法與生活

解析：《道路交通管理處罰條例》第35條規定,汽車駕駛人拒絕接受酒精濃度測試之檢定者,或第68條規定,汽車駕駛人因違反本條例及道路交通安全規則之規定,受吊銷其駕駛執照處分,吊銷其執有各級車類之駕駛執照。大法官釋字第699號解釋文,表示此項法律規定與《憲法》第23條比例原則尚無牴觸,而與《憲法》保障人民行動自由及工作權之意旨無違,故答案應選(D)。(A)欲處分之事項(酒後駕車)與欲採取的措施(吊銷駕照)具有實質關聯性。(B)若有多種措施均可達成目的,國家應採取對人民侵害最小者,此為「必要性」原則。(C)酒後駕車不僅危害他人生命、身體、財產等權益,亦妨害公共安全與交通秩序,因此與限制酒駕者的工作權之間並沒有顯失均衡,所以此項處分具有法律效力。

22. (D)

難易度：中偏易

出處：公民與社會(三),紛爭解決機制

解析：(A)實施大法庭制度之後,我國審判制度仍以三級三審制為主。(B)我國司法院大法官解釋憲法,並有統一解釋法律及命令之權。(C)民事、刑事大法庭分別由「最高法院院長」及其指定之庭長,擔任大法庭之審判長。

23. (C)

難易度：易

出處：公民與社會(三),紛爭解決機制

解析：搜索票應由檢察官向法院聲請,並由「法官」簽名核發,故答案應選(C)。(A)由檢察官負責偵辦起訴的案件即是公訴案件。(B)告發是指犯罪之被害人或第三人向偵查機關(包括檢察機關、司法警察機關)申報犯罪事實。(D)緘默權為刑事犯罪嫌疑人或被告對於檢察官或法官訊問,得拒答問題或保持沉默的權利;被告有權委任律師擔任辯護人。

24. (A)

難易度：難

出處：公民與社會(三),民法與生活

解析：(B)(C)王翰、王宇與夏天屬於「旁系血親」,而王偉與夏天則是「直系姻親」。(D)王偉與夏天屬於直系姻親,由於王偉並沒有收養夏天,因此夏天並不是法定繼承人。

25. (B)

出處：歷史(一),早期臺灣

解析：地方會議是荷蘭東印度公司一年一度對原住民傳達政策、行使權力的場合;同時,透過藤杖的授予,建立了荷蘭統治者與地方各地村社的連結。從會議中會使用的各種臺灣原住民

民語言，和出席的人士（大肚王）可判定，至少是 18 世紀中大甲西社事件之前，中部平埔族尚未衰落前的情況。(A)即東晉剛南遷之時，南方各世族尚未歸附，王導藉由安排展現北方文化強大的一面，讓南方世族歸附，與文中授予權杖及原住民族語言並無相關。(C)羅妹號事件後，李仙得親自至琅嶠與部落首領談判，解決船難事件，但彼此關係為平等的兩方，並非上對下的關係。(D) 1935 年始政 40 周年博覽會為日本展現殖民臺灣的成果，並非用此博覽會來穩固原住民的統治。

26. (B)

出處：歷史（二），秦漢至隋唐

解析：資料出自《雲夢睡虎地秦墓竹簡·封診式》。秦國可能在商鞅變法後就已全面實施戶籍制度，此即編戶。秦滅六國、統一天下後，亦延續了此一制度，將全國人民，不論男女長幼，皆加以調查並列入名冊，做為政府賦稅、徵兵的依據。(A)秦代女性不須服兵役。(C)以白銀繳稅為明朝中葉後的政策。(D)均田制出現於北魏，至唐德宗廢止，故與秦朝無關。

27. (C)

出處：歷史（二），秦漢至隋唐

解析：根據資料一至三所述滅佛事蹟、資料一「齊、梁有寺舍而祚失者」（應是北齊與南朝梁）及資料二「破北齊」，文中的皇帝應是北周武帝，(B)北周宣帝在北周武帝死後繼位，宣復佛法；並根據資料一至三所述滅佛事蹟，強迫三百萬僧侶還歸編戶，沒收寺院龐大的財產，主因是為了富國強兵，而不是想徹底消滅佛教思想，所以沒有如北魏太武帝般坑殺僧尼，也沒有嚴辦逃往深山堅持修行的僧侶。

28. (B)

出處：歷史（二），秦漢至隋唐

解析：錢穆所言即為唐朝的三省制：中書省決策，門下省審駁，尚書省執行。門下省對皇帝與中書省的決策有封駁的權力，因此對皇權有一定程度的約束。(A)(C)(D)錢穆《國史大綱》這段文字並未指出軍事、政治與司法的三權分立，也未呈現宰相權力低落及皇帝權力有名無實的情形。

29. (D)

出處：歷史（一），日本統治時期

解析：1937 年中日戰爭爆發後，日本對於臺灣的控制與介入愈來愈深，如報紙漢文欄的廢除、楊逵主導的《臺灣新文學》停刊，1920 年代開始的臺灣新文學運動畫下了休止符。但不代表臺灣文學進入了空白階段，反而是一個新的轉變。在臺日人開始注意臺灣民俗的議題，臺灣人則轉而運用日文寫作來關注相關的議題。國姓爺鄭成功的存在對於臺灣、日本、中國都深具國族意涵，因此在日本統治

之初便會成為大家寫作的題材，強調日本統治的正統和追尋臺灣人的認同，這種認同在中日戰爭時有更迫切的需求，因此相關作品大量出現。此外，連橫的《臺灣通史》為日治時期的作品，(A)、(B)可先排除。(C)日治初期臺灣人使用日語創作的情形較不普遍，亦排除。小說中強調征服安南、緬甸、南進基地等南洋擴張的觀念，符合 1930 年代後日本重視以臺灣為南進基地向東南亞擴張的理念，故選 (D)。此小說為西川滿（在臺日人）寫於 1940 年的〈赤崁記〉。

30. (A)

出處：歷史（二），秦漢至隋唐

解析：西漢初期方經歷大亂，導致百姓流離失所，全國荒地甚多，百廢待舉。於是漢高祖在土地私有制的基礎上，鼓勵人民開發田地，重建農業經濟。後繼的文帝、景帝延續無為而治、與民休息的施政原則，使國家經濟逐漸恢復繁榮景象，但也帶來土地兼併問題，影響後世甚鉅。(B)五代時，石敬瑭割讓燕雲十六州予遼，換取遼對其稱帝的支持；宋朝建立後，亦曾試圖攻取燕雲十六州以安定北方疆界，但未成功。(C)西漢時期隨著經濟復甦，土地兼併問題日益嚴重，至王莽時，推行土地國有制，企圖解決兼併現象。(D)漢初採行黃老治術，創造安定的文景之治，武帝時才轉為獨尊儒術，積極展開各項建設並對抗外族。

31. (C)

出處：歷史（一），清朝統治時期

解析：(A)(B)主要針對的是臺灣西部的平埔族群。(C)(D)界外的原住民首次遭遇到國家勢力的侵犯，便是清朝決定積極治臺後的「開山撫番」，並著手經營東部，也因此引起原住民多次的反抗。最終控制了界外的平地地區，但中央山脈的討伐失敗，並未真正納入控制。中央山脈原住民實際被政府強化控制，必須等到日治時期。

32. (D)

出處：歷史（二），秦漢至隋唐

解析：中國對於內臣，會透過郡縣、賦役直接統治百姓；對於周邊民族等外臣（藩屬），則以冊封其領導者、要求納貢，建立彼此關係與政治秩序，間接管理其人民。資料一「派陸賈去立趙佗為南越王」、資料二「又立無諸為閩越王」可知南越、閩越在西漢初期皆曾接受漢朝冊封，臣屬於漢朝，但實際上是完全獨立。資料三中「遼東太守就約結王滿為外臣」得知朝鮮在西漢時期，初為藩屬，直到「平定朝鮮，劃分為為四個郡」，才被漢朝劃分郡縣，納入帝國版圖，成為內臣。(A)三項資料中的外族起初皆是受封於西漢，為漢帝國的藩屬、外臣。(B)南越在武帝之前為漢

帝國臣屬國，需納貢而非繳交賦稅。(C)閩越為漢的外臣，一定程度上仍能保有原本的政府體制，漢朝大多不會干涉閩越的權力繼承。

33. (C)

出處：歷史(二)，宋、元、明與盛清

解析：由「收復燕雲十六州等失土」可知此為北宋君臣之間的對話，甲國應為遼國。

34. (C)

出處：歷史(二)，秦漢至隋唐

解析：西晉統一天下時，地方上已呈現土地、民戶被地方豪強土族兼併的情形。政府乃頒行占田法令，對平民和官僚制定不同準則，在確認人們對土地的所有權，重新掌握戶籍資料的同時，也試圖限制豪強勢力的過度發展。占田制只定下合法登記的土地數量，而不過問實際占田數量是否達到法定畝數，除了可確保政府有穩定的稅收，更變相鼓勵農戶努力開墾以補足占田額度的耕地。不過，此舉雖有助於農業的復甦與發展，卻無法阻止豪強土族兼併土地，使土地兼併之風久久不衰。(A)因身分而有面積大小不同的占田，已是一種不公平。(B)政府並未完全承認，而是給予一定的限制。(D)這是政府為降低官員士族反抗而產生的折衷方式。

35. (D)

出處：歷史(一)，清朝統治時期

解析：(A)荷蘭人從未有這麼大批的軍力在臺灣，且在鄭成功來臺之後，多數撤離。此批部隊應為荷蘭東印度公司收編臺南平原四大社祖先而組成的武力。(B)新港社族語並非荷蘭語，雖然荷蘭統治時期在學校教育中有教導荷蘭語，但並未取代原住民語言，學校教育仍會用原住民語言來授課。同時在會議中，荷蘭人也會透過用新港語來宣達政令。語言之所以無法溝通，並非荷蘭人對新港社影響小，而是耆老將荷蘭人與祖先連結在一起，認為他們語言相通。(C)是排灣族誤將清治後期的〈勸番歌〉與荷蘭時期有所連結。〈勸番歌〉的發音是福佬話，內容中提到種茶，所以絕對不會是荷蘭人所教導的歌曲。

36. (A)

出處：歷史(二)，晚清之變局

解析：光緒20年(1894)，因為朝鮮發生東學黨之亂，中國應朝鮮國王之請，派兵支援，日本大舉出兵，蓄意發動戰爭，以突擊的方式攻擊清廷海陸軍隊，爆發了甲午戰爭。(C)牡丹社事件發生於同治13年(1874)。(D)應為割讓臺灣、遼東半島和澎湖。

37. (A)

出處：歷史(一)，清朝統治時期

解析：資料三是英國商人觀察鄭氏政權的狀況。鄭氏為了維持足夠的軍力對抗清朝，必須利用臺

灣的資源來維持，也因此與荷蘭時期相比，許多原本的甘蔗田必須改種穀物；同時為了避免這些軍隊被清朝吸收或逃回家鄉，而有較為嚴格的管制。資料二是清朝擊敗鄭氏政權，將臺灣納入版圖初期。由於長期海禁跟遷界令的實施，東南沿海陷入死氣沉沉的狀態，清朝透過將臺灣的漢人移回東南沿海，試圖復原以前的情況，但同時也造成臺灣經濟發展缺少人力來生產。資料一則是在中國東南沿海恢復後，又開始有過剩的人口往臺灣移動，使得臺灣生產提升。同時因糖的價格比米來的高，使得人民普遍種植甘蔗，引來官員的憂慮，擔心荒年之時，恐有缺糧危機，此時再從內地運糧恐緩不濟急。荷蘭時期沒有數萬軍民需糧問題，鄭氏時期即因糧食不足才以臺灣為根本，此時不可能再向內地運糧。

38. (D)

出處：歷史(二)，宋、元、明與盛清

解析：資料一在敘述張居正變法的背景，當時賦役冊籍破壞，土地兼併、田賦混亂、徭役逃徼的問題極為嚴重。因此以一條鞭法改革，先將全國土地重新丈量，並將田賦、力役及其它雜稅，合併徵收銀兩，改變歷代賦、役平行徵收的形式。資料二的結論：「清丈事極妥當，糧不增加而輕重適均，將來國賦既易辦納，小民如獲更生」即符合張居正一條鞭法的內容。

39. (D)

出處：歷史(一)，早期臺灣

解析：從表中可以看出不同區域有其專屬的特色，顯現出不同地區番社文化的差異，但也可以看出有相同的部分。故(A)並未顯示單一化。(B)表中只可看出六十七考查時間的狀況，而無法看到整個清治時期的演變。比較明顯的一點是，鹿皮在大甲溪以南的人口稠密地區已經絕跡，但在清治初期人口不多時還可見到。(C)《番社采風圖》至今仍是考察平埔族社會文化的重要第一手資料，並非直接抄襲而成。

40. (C)

出處：歷史(二)，宋、元、明與盛清

解析：程朱學派強調多讀書，鑽研事理，而王陽明的良知之學卻主張書不用多讀，只要發明本心，一般人亦有機會成為聖賢，因而有「滿街皆是聖人」之譏，故可知梁啟超所述為晚明的陽明心學。(A)朱熹主張與心學背道而馳，且為南宋學者。(B)呂祖謙為南宋學者。(C)顧炎武著《天下郡國利病書》，屬於批判心學的經世致用一派之作，為正解。(D)吳敬梓著《儒林外史》，揭露科舉制度的弊病，與敘述不符。

41. (C)

出處：歷史（一），日本統治時期

解析：(A)應為從舊八景的抽象意境轉為新八景的具象景點。(B)清朝統治前期南北陸上交通並不方便，因此才可能有「雞籠積雪」的想像。(D)當初的票選並無特別提到舊有的八景。但有學者會特別注意到而將兩者加以比較，可以看出時代的變化。

42. (C)

出處：歷史（二），晚清之變局

解析：根據時間點與文中的說明，可以判斷出是戊戌變法，主政者康有為和梁啟超等皆是沒有太多實務經驗的知識分子，其改革內容妨礙了既得利益者的權益，如廢八股，也因此招致了保守派的反擊——戊戌政變的發生。

43. (A)

出處：歷史（一），日本統治時期

解析：資料一的剪辮運動為漸進主義政策時期，屬於日治初期時改良傳統習俗政策的一環。資料二從日軍已露敗相，時間已經在太平洋戰爭爆發後，所以此時為皇民化運動時期，臺灣開始面臨戰爭威脅。資料三符合內地延長主義時期的日臺共學政策，或在皇民化運動初期時的學制，但因題目強調分屬三個不同時期，所以為內地延長主義時期。【參考資料：吳宏仁著（2016）。《一個家族·三個時代：吳拜和他的子女們》。臺北：玉山社。】

44. (D)

出處：歷史（二），宋、元、明與盛清

解析：(A)應是種族歧視的表現。(B)雖各族皆有錄取，但考試的內容和所授之官位不公平。(C)資料一和二並無法看出延續唐宋科舉制度的傳統，答案以(D)為宜。

45. (D)

出處：歷史（二），秦漢至隋唐；宋、元、明與盛清

解析：西漢武帝時派遣張騫出使西域，雖未獲得外交上的成果，卻暢通了絲路交通，使中國與西亞、東歐等地有了更直接的交流機會。(A)已無大月氏。(B)為海線，不可能看到駱駝商隊。(C)榷場貿易是指宋代於邊境設官辦的貿易場所，以與遼、西夏交易。

46. (B)

出處：歷史（一），日本統治時期

解析：原住民保留地最初稱為山地保留地，民國 79 年改為山胞保留地，民國 83 年修正為原住民保留地後沿用至今。現今原住民保留地的概念與分布，主要來自日治時期。大正初期，「蕃地」的治安日漸平穩，各地隘勇線漸次裁撤，臺灣總督府展開中央山地的林野整理，並從 1925 年起，針對「蕃地」山林，進行地籍的整理事業。至 1928 年，總督府依需要保存程度的不同，將林野地區分為「要存

置林野」、「準要存置林野」與「不要存置林野」，其中「準要存置林野」即「蕃人占有地」，是「蕃人保留地」的基礎。

47. (D)

出處：歷史（一），中華民國時期：當代臺灣

解析：資料一中提到「保留地為國有地性質，所以政府可不經原住民同意便使用」，可知保留地雖是為保障原住民族生計、開發山地經濟而來，但卻無法完全掌握在原住民族手中，反而任由政府將土地移作其他建設之用，導致土地不斷流失。

48. (C)

出處：歷史（一），中華民國時期：當代臺灣

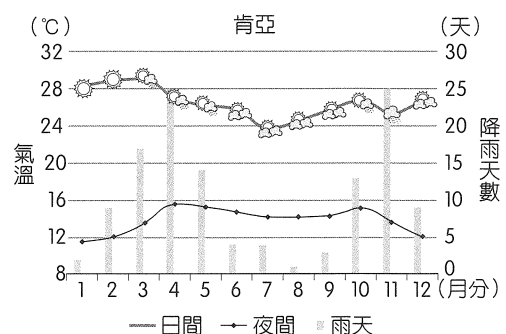
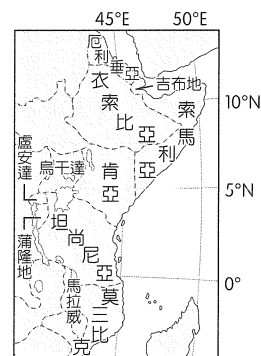
解析：民國 57 年，政府為提升國民素質，將原本的六年義務教育改制為九年國民義務教育，在教育日益普遍的狀況下，人民的知識水平獲得提升，強化了自我意識與權利觀念。尤其在解嚴後，群眾運動獲得法律保障，族群、性別、教育、就業等問題受到更多重視，各種形式的社會運動漸趨蓬勃。(A)原住民族的還我土地運動旨在爭取傳統領域土地，與一般的土地所有權意義不同。(B)人民得以進行社會運動應與解嚴關係較密切。(D)中華民國自 1988 年起全面停徵土地實物稅，與後來的原住民族的「還我土地運動」無關。

49. (C)

出處：通論地理 五、氣候與水文

目標：能了解影響氣候之要素

解析：(C)東非的位置及雨溫圖（以肯亞為例）如圖示，3～5 月的長雨季是 I.T.C.Z. 向北移動時，帶來的雨水。



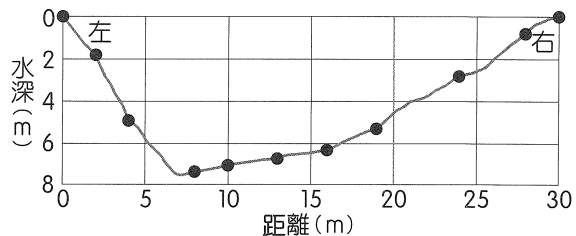
熱帶輻合區 (I.T.C.Z.) 的遷移影響非洲大陸的季節性降水模式。地圖上的陰影顯示了雲反射率最高的區域，這與 I.T.C.Z. 的月平均位置相對應。



50. (D)
 出處：通論地理 十一、人口組成與人口成長
 目標：能了解人口扶養比的意義
 解析：人口扶養比 = (幼年人口 + 老年人口) / 壯年人口，即 $(12.3\% + 27.7\%) / (100\% - 12.3\% - 27.7\%) = 66.7\%$ ，故選(D)。
51. (C)
 出處：通論地理 十二、都市聚落與都市化
 目標：能了解都市內部結構的意義
 解析：(A)為同心圓模式。(B)為扇形模式。(C)為多核心模式。(D)融合了同心圓模式與扇形模式。文中提及天津「雙城雙港」的都市格局，應屬於(C)多核心模式。
52. (B)
 出處：通論地理 十一、人口組成與人口成長
 目標：能了解人口遷移的推拉理論
 解析：(A)人口稠密屬於中間障礙。(C)高物價與房價上漲屬於中間障礙。(D)富豪來此避稅屬於拉力。
53. (D)
 出處：通論地理 八、第二級產業
 目標：能理解導致產業區位擴散移轉的關鍵因素
 解析：(D)一地原有的工業區位條件，如廉價勞力、充足的原料與廣大的市場等優勢，會因為生產技術的進步、交通革新、勞動條件、環保法令改變，以及產品生命週期變短等因素的變化，使得原先具備的比較利益喪失而失去區位優勢，導致工業區位向外擴散、移轉至更具有比較利益的新區位。
54. (C)
 出處：通論地理 二、地圖
 目標：能判讀衛星影像
 解析：甲、a 處為港口；乙、b 處為臺中機場；丙、c 處為河流下游，不會有土石流。
55. (B)
 出處：通論地理 九、第三級產業
 目標：能判別臺灣主要觀光景點的差異性和特色
 解析：甲地為陽明山國家公園；乙地為墾丁國家公園；丙地為澎湖國家風景特定區；丁地則是 101 觀景臺。(B)陽明山國家公園春天 3 月花季會吸引大量遊客，是年中最具特色的旅遊旺季。
56. (C)
 出處：通論地理 八、第二級產業；通論地理 十二、都市聚落與都市化
 目標：能認識國際分工的趨勢；能判別主要都市的

區位

- 解析：(C)擁有大量廉價勞工的邊境鄰國應是指墨西哥，華雷斯城位於美墨邊境，是美墨邊境加工帶上最大的工業城。(A)墨西哥市地處墨西哥高原南部，不在美墨邊境。(B)溫哥華在加拿大西岸。(D)哈瓦那是古巴首都。
57. (C)
 出處：通論地理 八、第二級產業；通論地理 十一、人口組成與人口成長
 目標：能依據人口數量和土地面積判別排序六大洲；能了解交通與資訊革新的影響
 解析：表中的甲為亞洲、乙為非洲、丙為歐洲、丁為中南美洲、戊為北美洲、己為大洋洲。(C)其中歐洲與北美洲之間的交通與資訊革新程度最高，兩洲之間的時空壓縮程度也較高。
58. (B)
 出處：通論地理 十、高科技知識產業
 目標：能了解知識產業類型
 解析：(B)服裝業原本屬於傳統產業，而引進資訊科技提升競爭力則成為傳統產業的知識經濟。
59. (C)
 出處：通論地理 二、地圖
 目標：能判斷地圖
 解析：甲、a 的坡向為西南向；丙、屬於橫麥卡托圓柱投影；丁、d 點表示距離赤道 2,785 公里；庚、b 點無法確定是否為順向坡，需有地質剖面圖。
60. (A)
 出處：通論地理 四、地形
 目標：能辨識各種主要地形；能分辨地形營力的作用
 解析：由深度判斷出左岸是凹岸（等深線如下），再由圖中看出 Y 岸是凹岸，因此河流由 ab 段流向 cd 段。bc 的位置侵蝕作用較強，截彎取直會發生在右岸；a 岸是堆積作用較明顯，是滑走坡；c 岸是凹岸適合河港；bc 岸侵蝕作用較明顯。



61. (A)
 出處：通論地理 二、地圖
 目標：能了解二度分帶坐標表示方法
 解析：(A) X 坐標數字變大代表向東方移動；Y 坐標數字變大代表向北方移動。
62. (C)
 出處：通論地理 二、地圖
 目標：能了解二度分帶坐標表示方法
 解析：(C) Y 坐標 2429 除以 110，大約位於 22°N ，為墾丁一帶。

63. (A)

出處：通論地理 一、地理概說

目標：能了解土壤液化的成因

解析：(A)土壤液化三條件為砂粒含量高、充足地下水、地震。

64. (C)

出處：通論地理 三、地理資訊

目標：能了解 GIS 的儲存方法及應用

解析：甲、若要看更詳細的地圖，應使用更大比例尺；丁、土壤液化潛勢區與行政區界的呈現是使用 GIS 中的疊圖分析。

65. (B)

出處：通論地理 五、氣候與水文

目標：能判斷氣候類型；能依據氣候資料推論其位置

解析：該地區長期平均年均溫約為 7.7 °C、年降水量為 273.5 mm，可以判斷屬於溫帶乾草原（或荒漠草原）。(A) (37°47'N, 28°55'E) 位在希臘雅典附近，屬於溫帶地中海型氣候。(B) (37°47'N, 107°24'E) 位在中國寧夏自治區花馬池，屬於溫帶乾草原（或荒漠草原）氣候。(C) (37°47'N, 8°31'W) 位在葡萄牙南部，屬於溫帶地中海型氣候。(D) (37°47'N, 122°25'W) 位在美國舊金山市，屬於溫帶地中海型氣候。

66. (B)

出處：通論地理 五、氣候與水文；通論地理 七、第一級產業

目標：能判斷氣候類型；能依據氣候資料推論農業特色

解析：(B)該地區長期平均年均溫為 7.7 °C、年降水量為 273.5 mm，可以判斷屬於溫帶乾草原（或荒漠草原），較缺乏水資源，森林或小麥作物不易生長，僅能採行較粗放的牧羊業，並利用春夏的草本花卉養蜂和全年較充足的日照來建置太陽能。

67. (A)

出處：通論地理 十、高科技知識產業

目標：能了解產品生命週期理論

解析：文中提及無人駕駛電動貨車是在道路上實現自動化技術商業化的全球首例，故應屬於(A)導入期。

68. (D)

出處：通論地理 八、第二級產業

目標：能了解產業連鎖的意義

解析：(A)工業慣性指當地許多工廠形成緊密的連鎖關係後，即使有其他更好的區位，工廠也不易遷離。(B)「德鐵信可」跟「Einride」之間並非生產同類產品的工廠合併或策略聯盟。(C)「德鐵信可」跟「Einride」之間並無因上、下游產業的空間聚集而獲得經濟效益。(D)物流業者與運輸業者之間存在產業連鎖的關係，故選(D)。

69. (D)

出處：通論地理 四、地形；通論地理 五、氣候與水文；通論地理 六、自然景觀帶

目標：能分辨地形營力的作用；能認識不同生態系的自然景觀帶

解析：(A)針葉林。(B)冰河地形可見懸谷瀑布。(C)挪威馬鹿分布於北歐。(D)岩峰、方山較常見於乾燥地區。

70. (C)

出處：通論地理 四、地形；通論地理 五、氣候與水文；通論地理 六、自然景觀帶

目標：能分辨地形營力的作用；能認識不同自然景觀帶的分布與特色；能認識土壤化育及環境的關係帶

解析：(A)聚鐵鋁化作用主要在高溫多雨地區。(B)樹冠高低成層是對熱帶雨林地描述。(D)日不落永晝奇觀要在北極圈內才可見。

71. (C)

出處：通論地理 五、氣候與水文

目標：能了解影響氣候之要素；能認識天氣系統中的氣旋

解析：伊代與肯尼斯為侵襲非洲南部（南半球）的熱帶氣旋。故選(C)南半球的氣旋。

72. (C)

出處：通論地理 五、氣候與水文

目標：能了解影響氣候之要素；能認識天氣系統中的氣旋；能認識氣候分類意義

解析：(A)溫帶海洋性氣候。(B)溫帶地中海型氣候。(C)副熱帶季風氣候。(D)溫帶沙漠氣候。