


Ch3 海岸與島嶼



重點①：海岸的種類

一、沙岸

- (一) 成因：由海水、河川堆積作用而形成
- (二) 特性：海岸線通常較為平直，海水較淺，多沙灘、沙洲、潟湖等海岸地形
- (三) 發展：_____ 漁業（魚塭、蚵架）、晒鹽（如台南七股）、海水浴場（如福隆）

■ 潟湖（又稱內海）：沙洲與陸地間所圍成的半封閉之淺水海域

二、岩岸

- (一) 成因：山地、丘陵逼近海岸而形成
- (二) 類型：
 1. _____ 式（_____ 式）海岸：由岬角、灣澳組成，海岸線曲折
 2. _____ 式海岸：懸崖峭壁，海岸線陡直，如花蓮的清水斷崖
- (三) 發展：谷灣式海岸因海岸線曲折，且海水較深，多天然良港，適合航運、漁業



三、珊瑚礁海岸

- (一) 生長環境（此為補充知識，同學們參考即可）：
 1. 海水溫度常年在 18°C 以上，最適溫度為 25°C ~ 30°C 間
 2. 海水鹽度 28‰ ~ 38‰ 間
 3. 海水清澈且陽光充足的淺海



(二) 類型

1. 裙礁：直接生長在海岸岩床上，主要沿著大陸或島嶼邊緣形成（如臺灣墾丁）
2. 堡礁：位於大陸的邊緣，與陸地之間有瀉湖（礁湖）相隔（如澳洲大堡礁）
3. 環礁：島嶼下沉到海底，形成珊瑚礁中間無陸地的瀉湖（如東沙環礁群島）

裙礁	堡礁	環礁

(三) 發展：觀光產業（如臺灣墾丁、澳洲大堡礁）




單選題：請利用下列右圖資訊，回答 1~2 題（將答案寫在題號前方）

臺南沿海有大片的海埔地與許多離岸沙洲，不但是臺灣早期開發的重要地區，也擁有兩處國際級濕地，因而政府於數年前提出成立「臺江國家公園」的規劃。此國家公園不僅可保育生態環境、歷史資產，同時更可以利用當地的傳統產業來發展具地方特色的生態旅遊，是一座兼具自然、歷史、產業三大特色的國家公園。請根據本文回答 1-2 題：

1. 根據上文敘述，下列何者是在此國家公園中最常見到的自然景觀？
 - (A) 岬角
 - (B) 瀉湖
 - (C) 珊瑚礁
 - (D) 沖積扇
2. 文中提及的傳統產業，最可能是指下列何者？
 - (A) 水泥業
 - (B) 採礦業
 - (C) 製茶業
 - (D) 晒鹽業



重點②：臺灣的海岸



北部：_____海岸

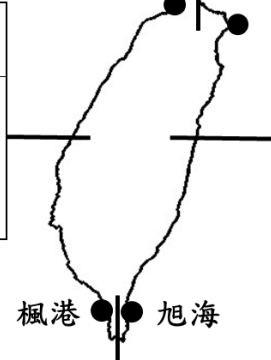
1. 海岸線_____，岬角、灣澳相間
2. 利於漁業、航運，如基隆
3. 奇岩怪石，觀光業，如野柳



西部：_____海岸

1. 海岸線平直，缺乏天然良港
2. 多沙洲、潟湖，發展養殖漁業
3. 早期亦發展晒鹽業（如臺南）

淡水河口 | 三貂角



東部：_____海岸

1. 面_____，位於板塊交界處
2. 海岸線陡直，缺乏天然的良港
3. 觀光業，如_____國家公園



南部：_____海岸

1. 由珊瑚礁所構成，地表崎嶇
2. 觀光業，如_____國家公園



牛刀小試

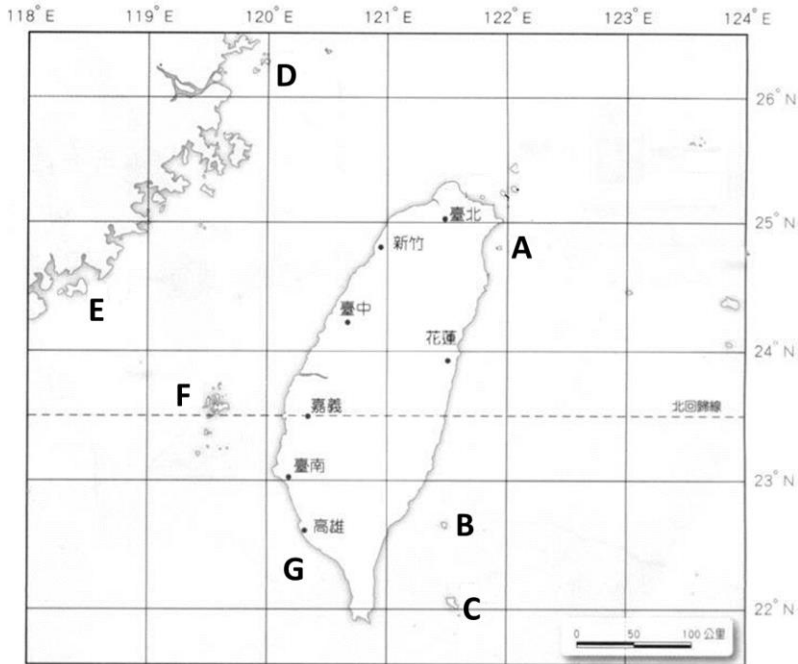
單選題：請利用下列右圖資訊，回答1~3題（將答案寫在題號前方）

1. 小晉眼前是非常壯麗的懸崖峭壁，且斷崖逼近海岸。請問：小晉最可能在臺灣何處？
 (A) 北部海岸 (B) 南部海岸 (C) 東部海岸 (D) 西部海岸
2. 大緯今年夏天到某海灘遊玩，腳下踩著崎嶇的珊瑚礁海岸。請問：大緯最可能在臺灣何處？
 (A) 北部海岸 (B) 南部海岸 (C) 東部海岸 (D) 西部海岸
3. 城武來到臺灣拍攝電影，取景地點是一片海水浴場，他看到許多傳統的漁產業，於是他上前詢問那些工作的婦女，聽到她們正在唱「青蚧嫂」這首歌！請問：城武最可能抵達何處？
 (A) 北部海岸 (B) 南部海岸 (C) 東部海岸 (D) 西部海岸



重點③：臺灣的島嶼



一、臺灣的離島位置



【請填入離島名稱及島嶼類型】

- A _____，屬 _____ 島
- B _____，屬 _____ 島
- C _____，屬 _____ 島
- D _____，屬 _____ 島
- E _____，屬 _____ 島
- F _____，屬 _____ 島
- G _____，屬 _____ 島

二、島嶼的類型

類型	大陸島	火山島 	珊瑚礁島 
成因	沿海丘陵因海面 _____，或陸地 _____，形成大陸島	因板塊活動而造成。臺灣的離島大多屬於此種類型	由海底的珊瑚礁露出海面而形成
舉例	1. _____ (位於廈門灣內) 2. _____ (位於閩江口外) 【註】上述兩島屬花崗岩地質	1. _____ (屬宜蘭縣) 2. _____ (屬台東縣) 3. _____ (屬台東縣) 4. _____ (主權爭議) 5. _____ (玄武岩)	1. _____ (國家公園) 2. _____ (屬屏東縣)