


# Ch4 中國的人口



## 重點①：中國的人口分布

### 一、分布特徵：【胡煥庸線】

<p>概念</p>	<p>由中國地理學者<u>胡煥庸</u>，於1935年首次提出，他說：「自黑龍江之<u>瑯琿</u>（現稱黑河）向西南作一直線，至雲南之<u>騰衝</u>為止，分全國為東南與西北兩部……」。</p>
<p>說明</p>	<ul style="list-style-type: none"> <li>■ 東半部人口稠密，面積約占43%，但人口卻占約94%</li> <li>■ 西半部人口稀疏，面積約占57%，但人口僅占6%</li> </ul>
<p>圖示 (點子圖)</p>	

## 二、影響人口分布的因素

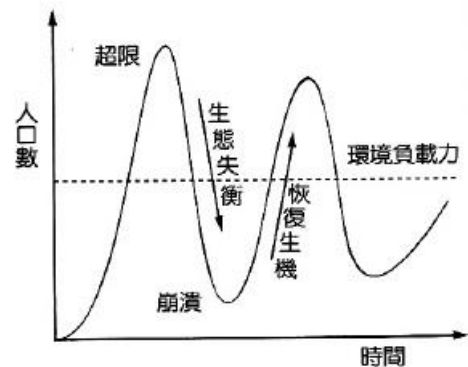
因素	說明
地形	<ul style="list-style-type: none"> <li>■ 東半部平原較廣，有利【農業】發展，人口密度較大</li> <li>■ 西半部多山地、高原，人口較為稀疏</li> </ul>
氣候	<ul style="list-style-type: none"> <li>■ 東半部【距海較近】，屬【季風氣候】，雨量較豐沛，有利農業，人口較多</li> <li>■ 西半部【距海較遠】，多屬【高地】、【乾燥】氣候，人口分布較為稀疏</li> </ul> <p>→ 西半部人口主要集中在河谷、綠洲地區（水源考量）</p>



### 地理放大鏡：【環境負載力】

一、定義：生活環境所能供養生物數量，及容納、分解穢物的能力。

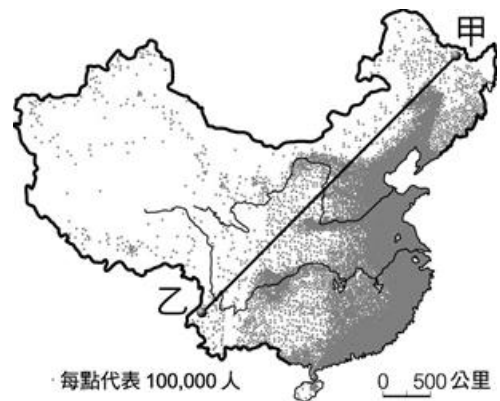
二、說明：若生物數量（人口數）超過糧食供應的極限，環境負載力便會抑制生物數量的成長，甚至產生一系列環境問題。



### 牛刀小試

題組：共有三題，請參考右方地圖，並在題號前面選出正確的答案

- 此種圖示方式名稱為何？
  - 曲線圖
  - 人口結構圖
  - 點子圖
  - 人口金字塔
- 圖中甲、乙分別代表下列何者？
  - 黑河—昆明
  - 吉林—重慶
  - 哈爾濱—騰衝
  - 黑河—騰衝
- 造成中國東西兩側人口分布懸殊的主因為何？
  - 氣候
  - 緯度
  - 政策
  - 礦產



### 三、民族分布的特色

- 主要民族 (91.5%)：漢族
- 少數民族 (8.5%)：共 54 族，其中以壯族 (15%) 最多

少數民族	分布地區	重要特色
壯族	廣西壯族自治區	人口最多的少數民族
苗族	雲貴高原	歷史悠久，廣泛分布於中國西南山區
回族	寧夏回族自治區	中國境內分布最廣的民族，信仰伊斯蘭教
滿族	東北地區	以農、牧業維生，生活方式接近漢族，旗袍服飾
藏族	西藏自治區	分布於青藏高原，信仰藏傳佛教，以游牧為主
蒙古族	內蒙古自治區	生活在草原地區，牧民逐水草而居（蒙古包）
維吾爾族	新疆維吾爾	主要以農業維生，花帽服飾（朵巴）
哈薩克族	自治區	主要以牧業維生，有「原野上的雄鷹」之稱



地理放大鏡：中國官方統計資料有 56 族，為什麼多了 1 族？

中國的國家統計局將臺灣的高山族（即原住民統稱）納入資料當中，因此中國自稱有「56 族」。但本講義的作者，與臺灣的地理課本立場一致，認定為 55 族！

武功秘笈

#### 【本節重點摘要】

1. **地形**對民族的影響：【雲貴高原】及【橫斷山脈】，因地形崎嶇，交通不便，故此區是中國少數民族最多元的地區。
2. **氣候**對民族的影響：中國東半部氣候較濕潤，各族多以農業維生；而西半部氣候較乾燥，各民族則多以畜牧業維生。
3. **位置**對民族的影響：新疆是中國邊境，哈薩克族與維吾爾族的生活方式與中亞民族相近。





## 重點②：人口問題與政策

### 一、人口過多

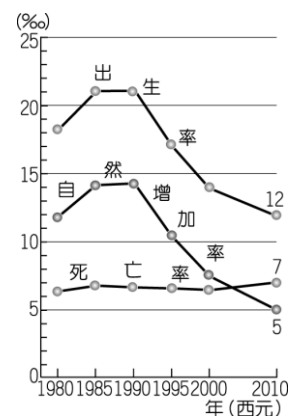
說明	中國總人口數約為 13.6 億人，是全世界人口最多的國家	
優勢	勞力充足（世界工廠）、市場潛力大（世界市場）	
問題	資源過度使用，衍生一系列的經濟、社會問題	
對策： 一胎化	時間	1980 年代起，正式實施一胎化政策
	內容	每對夫妻只能生一胎，企圖減緩人口快速膨脹的壓力
	結果	自然增加率下降（但人口基數龐大，每年增加的人口數依然相當可觀）
衍生 問題	人口 問題	<ul style="list-style-type: none"> <li>■ 性別比失衡（2014 年，中國的性別比約 115）</li> <li>■ 人口高齡化（目前中國老年人口約佔總人口比例約 10%）。</li> </ul>
	社會 問題	<ul style="list-style-type: none"> <li>■ 鉅觀尺度：勞動力不足、老年人福利與安養問題（高齡老人獨居的「空巢家庭」，家庭功能不足）等</li> <li>■ 微觀尺度：「小皇帝」現象（被父母捧在手上的獨生子女，被寵壞）。</li> </ul>
終結 一胎化	2015 年 10 月 29 日，中國正式宣布實施長達 30 餘年的一胎化政策，正式解禁，全面開放家庭可養育兩名子女。	



牛刀小試

單選題：請在題號前面選出正確的答案

1. 附圖為中國近年來的人口出生率、死亡率、自然增加率統計圖，由圖中資料判斷，下列相關敘述中，何者正確？
- (A) 出生率下降、人口數減少 (B) 死亡率下降、人口數增加
- (C) 出生率下降、人口數增加 (D) 死亡率上升、人口數減少。



## 二、人口結構失衡

性別比失衡	原因	傳統的重男輕女觀念、一胎化政策
	問題	溺嬰事件、未申報戶口（無法受教育或外出工作）
	對策	解禁一胎化政策、推廣性別平等觀念等
人口高齡化	原因	醫療衛生進步、一胎化政策
	問題	勞動人口比例降低、加重經濟負擔
	對策	解禁一胎化政策、重視社福政策、老人安養照護等



單選題：共有三題，請在題號前面選出正確的答案

1. 右圖為中國人口政策的宣傳海報，圖中的宣導觀念，和中國哪一種人口特性的關係最密切？

(A) 人口密度過高 (B) 民族多元國家  
(C) 壯年男子移出 (D) 實施一胎化政策



2. 中國以實施一胎化政策來強行控制人口數量的變化，然而卻引起其他的人口問題。請問：中國實施一胎化政策造成了下列哪一種人口問題？

(A) 人口分布不均 (B) 城鄉發展失衡 (C) 人口素質降低 (D) 性別比失衡

3. 晉緯參加中國大陸的海報繪畫比賽，該比賽緣由為政府欲提出某項政策，並透過此繪畫比賽徵求宣傳海報，因此他畫了右邊這張海報參加競賽。請問：根據右圖，政府應會提出下列哪項政策？

(A) 老年安養政策 (B) 性別平等政策  
(C) 教育普及政策 (D) 勞動工作政策



### 三、人口素質較低

原因	中國國土面積廣大，資源分配不均，加上早期社會發展程度不高，受教人口比例較低
現狀	教育水準仍有一定比例在國中以下（鄉村地區較明顯），15歲以上不識字者約占4%
對策	從政策面下手，如教育普及、教育資源有效分配等



單選題：請在題號前面選出正確的答案

1. 小林擔任國中教師已超過十年，為了讓生活過得更豐富，他決定中年轉行，預計前往中國投資。他在蒐集評估各項資料時，發現國民教育程度是相當重要的參考指標之一。請問：國民教育程度和下列何者的關係較大？
- (A) 人口分布      (B) 人口結構      (C) 人口性別      (D) 人口素質

### 四、城鄉人口流動

原因	隨經濟發展步伐，中國城鄉間人口流動愈趨明顯，有【都市化】現象〔註一 ㊦〕
問題	【城鄉二元分隔制度】(戶籍制度)，讓城市與鄉村人口不易流動，鄉村人在都市地區沒有社會福利保障，加上都市地區房價、物價日益高漲，生活壓力越來越高
影響	【盲流】、【農民工】、【春運】、【沿海地區缺工】(部分產業轉往內陸發展，越來越多人選擇回到故鄉或鄰近地區工作)等現象



〔註一 ㊦〕何謂都市化 (urbanization)？

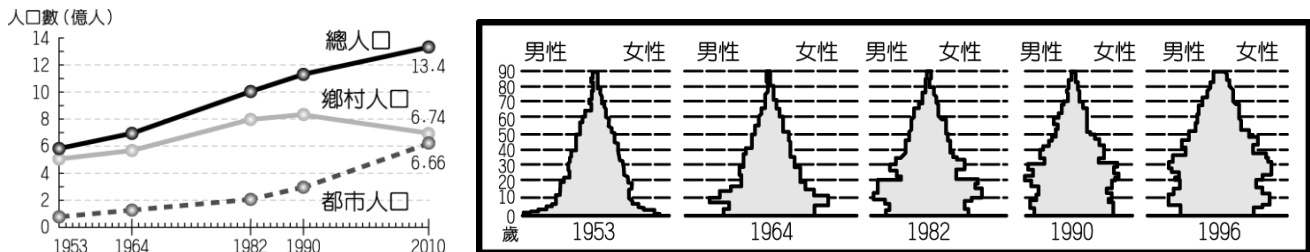
都市化：鄉村人口往都市地區移動的過程，稱都市化。

都市化程度：都市人口數 / 全國總人口數 x 100%



單選題：共有五題，請在題號前面選出正確的答案

■ 下圖為近年來中國城鄉人口變化圖與中國人口金字塔變化圖，請回答第 1-3 題：



- 根據中國城鄉人口變化圖判斷，這種城鄉人口流動的情形和下列哪一個因素關係最大？
  - 計畫生育
  - 經濟發展
  - 氣候變遷
  - 糧食生產
- 根據中國城鄉人口變化圖判斷，中國的都市人口與鄉村人口的人數，以下列哪一時期人數差距最大？
  - 1964 年
  - 1982 年
  - 1990 年
  - 2010 年
- 根據中國人口金字塔圖判斷，中國的人口演變過程和其人口自然增加要素的關係為下列何者？
  - 出生率變高、死亡率變高
  - 出生率變高、死亡率變低
  - 出生率變低、死亡率變低
  - 出生率變低、死亡率變高
- 中國境內的上海、北京、廣州等都市近年來發展快速。請問：這些都市吸引人口遷入的共同因素為何？
  - 礦藏豐富
  - 經濟發展
  - 糧食充足
  - 氣候暖溼
- 近年來中國的人口大量移入東南沿海地區，此種人口遷移現象和當地哪一種人口拉力的關係最大？
  - 就業機會多
  - 生活空間大
  - 教育水準高
  - 交通較方便。