


# Ch3 魏晉南北朝的分與合



## 3-1 魏晉南北朝的政治發展

### 一、三國鼎立與西晉的統一

背景	東漢末年， <u>黃巾之亂</u> 平定後，群雄割據：		
	1. 北方：_____挾天子以令諸侯（ <u>東漢獻帝</u> ）		
	2. 南方： (1) _____：三顧茅廬 - 劉備帶著關羽、張飛求訪諸葛亮 (2) _____：周瑜為重要將領		
時間	東漢獻帝建安 13 年（西元 208 年）		
地點	赤壁（今湖北省）		
經過	<u>赤壁之戰</u> ：控制北方的曹操，率領大軍南下荊州，劉備與孫權組成聯軍，在長江赤壁一帶以火攻大破曹軍，曹操敗仗後返回北方		
結果	戰後劉備勢力迅速崛起，與曹操、孫權形成三國鼎立的局面		
三國鼎立	項目	開國	滅亡
	<u>曹魏</u>	_____篡東漢（西元 220 年），定都於 <u>洛陽</u> ，改國號為魏（國力最強）	西元 265 年，大臣_____篡漢，改國號為晉，史稱 <u>西晉</u> ，為晉武帝
	<u>蜀漢</u>	劉備在四川稱帝，定都於 <u>成都</u> ，以繼承漢朝正統自居，沿用漢為國號（國力最弱）	西元 263 年，曹魏攻入，劉備投降，蜀亡
	<u>孫吳</u>	孫權占據長江中下游地區，定都於 <u>建業</u> ，建國號為吳	西元 280 年，西晉出兵，吳滅亡

#### 【重點整理】

1. 三國的首都地點：魏\_\_\_\_\_；蜀\_\_\_\_\_；吳\_\_\_\_\_
2. 三國的國力評比：\_\_\_\_\_ → \_\_\_\_\_ → \_\_\_\_\_
3. 三國的滅亡順序：\_\_\_\_\_ → \_\_\_\_\_ → \_\_\_\_\_

## 二、西晉的滅亡 (重要必考)

五胡內徙	1. 五胡： <u>匈奴</u> 、 <u>鮮卑</u> 、 <u>氐</u> 、 <u>羌</u> 、 <u>羯</u> 2. 內徙：西漢中葉起，胡人陸續遷入中國邊境，由於風俗不同，經常產生胡漢衝突
背景	<b>八王之亂</b> (291~306) 1. 背景：晉武帝司馬炎建國後，政治腐敗，大封宗室為王 2. 內容：諸王擁兵自重，為爭奪中央政權，宗室內鬥，互相殘殺 3. 影響：境內胡人叛亂，後引發戰爭，禍及社會，加劇西晉統治危機
	<b>永嘉之禍</b> (311) 1. 背景： <u>匈奴</u> 利用八王之亂，起兵叛晉 2. 內容： <u>晉懷帝永嘉 5 年 (西元 311 年)</u> ，匈奴人攻陷洛陽，擄走懷帝，後 <u>司馬睿</u> 在貴族的支持下，建立 <u>東晉</u> (西元 317 年)，西晉滅亡

【補充知識】晉武帝大封宗室為王

晉武帝鑑於曹魏因宗室無權而速亡，故大肆分封宗室，除了有封地、軍隊之外，又有選任官吏的權力。西晉宗室諸王逐漸成為重要的政治力量。後來到了晉惠帝時，引發了骨肉相殘的八王之亂

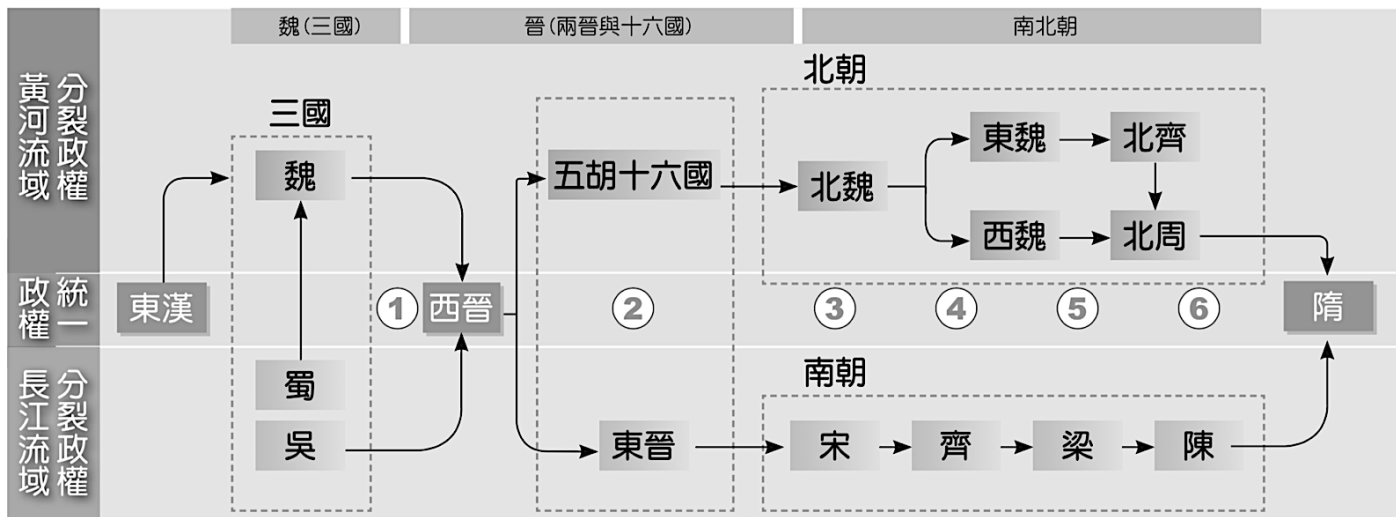
【問題思考】何不食肉糜？

晉武帝接見大臣，總是閒話家常而不關心國事，大臣們也競相崇尚奢華，曾有人每天耗費大筆金錢準備山珍海味，卻總覺得沒有好吃的飯菜。晉武帝過世，晉惠帝即位。當時民間的饑荒問題很嚴重，某次當惠帝聽到許多百姓沒飯吃而餓死時，說出了一段經典名言：「何不食肉糜？」請問：上述內容反映了西晉政治人物的何種現象？（請將最適合的選項，於前方空格中打勾）

- 西晉統一天下後，聚集財富以從事國家建設   
  西晉的皇帝、大臣採無為而治的方式治國  
 西晉朝廷沒有開國的新氣象，不知民間疾苦   
  西晉瀟灑炫富風氣，老百姓無不追求致富

## 三、南北對峙 (重要必考)

西晉亡國後 (兩晉與十六國)	
北方	五胡十六國：在西晉 <u>永嘉之禍</u> 後，北方胡族紛紛建國，進入_____的分裂局面
南方	東晉：西晉滅亡後， <u>晉室南遷</u> ，司馬睿在 <u>建康</u> (今江蘇南京) 稱帝 (晉元帝)。後來權臣_____篡位，改國號為 <u>宋</u> (西元 420 年)，與之後建立的齊、梁、陳，合稱為「 <u>南朝</u> 」
南北朝	
北朝	1. _____族建立的 <u>北魏</u> (西元 439 年)，統一北方，結束了五胡十六國的紛亂局面 2. 北魏分裂： <u>東魏</u> (後被北齊所篡)、 <u>西魏</u> (後被北周所篡) 3. 北周滅北齊，外戚_____篡北周，改國號為 <u>隋</u> ，是為 <u>隋文帝</u> ；隨後南下滅陳，一統中國 (西元 589 年)
南朝	1. 權臣 <u>劉裕</u> 篡東晉，改國號為 <u>宋</u> 2. 四代： <u>宋</u> → <u>齊</u> → <u>梁</u> → <u>陳</u> (合稱南朝)



繪製心智圖



牛刀小試

填充 & 單選題：共有 18 題（第一題為填充題），請將答案寫於題號之前

1. 請參考右圖，並完成下方的空格



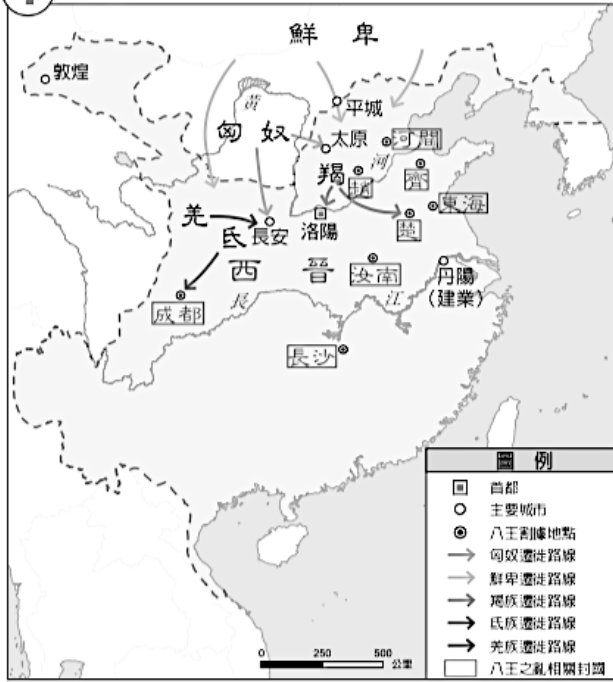
代號	國名	創建者
A		
B		
C		

2. 秦漢至隋唐間有個分裂時代，南北方各有勢力共存，此指何者？

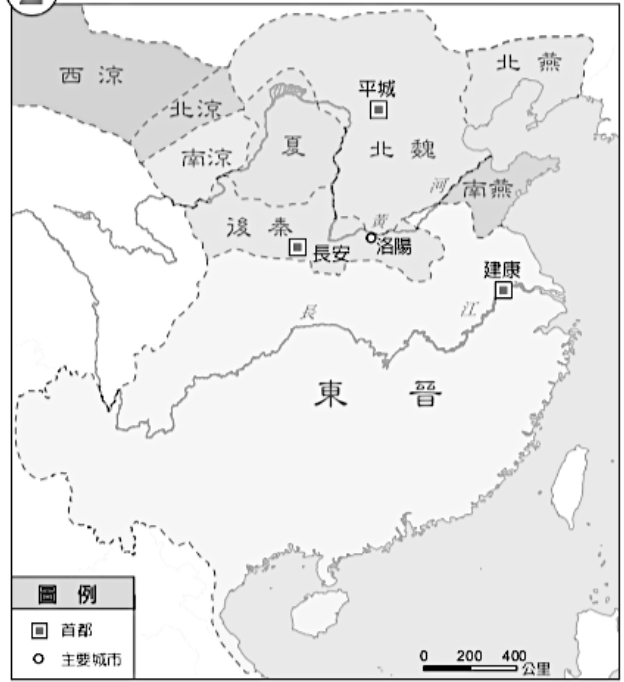
- (A) 春秋戰國      (B) 五代十國      (C) 楚漢相爭      (D) 魏晉南北朝

3. 回溯歷史，在南北朝對峙中，隋文帝楊堅曾先後滅了哪些國家，進而完成統一大業？  
 (A) 篡陳，滅北周 (B) 篡梁，滅北齊 (C) 篡北周，滅陳 (D) 篡北齊，滅梁
4. 中國歷史上五胡十六國的分裂局面，北方曾經短暫的由下列哪個朝代所統一？  
 (A) 北魏 (B) 北齊 (C) 北周 (D) 北宋
5. 長江流域經濟富庶，是隋唐帝國的經濟重心，曾開鑿運河將江南的物資運補京師所需。下列哪個朝代首先定都在長江流域？  
 (A) 孫吳 (B) 蜀漢 (C) 曹魏 (D) 東晉
6. 中國歷史上所稱的「南北朝」，不包含下列哪個朝代？  
 (A) 西晉 (B) 東魏 (C) 北周 (D) 梁
7. 魏晉南北朝時期，下列哪一北方民族在中原建立北魏？  
 (A) 匈奴 (B) 鮮卑 (C) 羌 (D) 氐
8. 五胡十六國時期，華北呈現一片兵荒馬亂，而同時期南遷的晉室，在江南何處建立了東晉政權？  
 (A) 建康 (B) 咸陽 (C) 洛陽 (D) 成都
9. 歷史老師說：「天下大勢，合久必分，分久必合。」魏晉南北朝時期就是最佳寫照。魏晉南北朝時期，只有在下述哪個時期呈現統一的局面？  
 (A) 東晉 (B) 東魏 (C) 西晉 (D) 梁
10. 東晉亡後，偏安南方的政權被合稱為「南朝」。請問：其中不包含下列哪一國？  
 (A) 梁 (B) 宋 (C) 陳 (D) 魏
11. 中國歷史常有因分封宗室子弟而後引起宗室之亂，造成骨肉相殘的慘劇。下列何者是導致晉朝國勢中衰的關鍵史事？  
 (A) 八王之亂 (B) 犬戎之禍 (C) 黃巾之亂 (D) 永嘉之禍
12. 西晉哪位皇帝被外族所俘虜，而導致國家滅亡？  
 (A) 晉武帝 (B) 晉惠帝 (C) 晉元帝 (D) 晉懷帝
13. 魏晉南北朝時期，篡位事件不斷發生。其中東晉是被何人所篡？  
 (A) 楊堅 (B) 王莽 (C) 曹丕 (D) 劉裕
14. 三國時代流傳許多膾炙人口的故事。有關三國時代魏、蜀、吳的亡國順序，下列何者正確？  
 (A) 魏→蜀→吳 (B) 吳→蜀→魏 (C) 蜀→魏→吳 (D) 蜀→吳→魏
15. 西晉末年，五胡中首先叛晉，攻陷洛陽的是何族？  
 (A) 匈奴 (B) 鮮卑 (C) 羌 (D) 氐
16. 西晉與東晉的歷史分界，應為下列哪個事件？  
 (A) 八王之亂 (B) 犬戎之禍 (C) 黃巾之亂 (D) 永嘉之禍
17. 晉緯打電動時，喜歡扮演劉備，他說：「此人雖然在三國之中，所佔土地最小，國力最弱，但卻最堅持正統……」。請問：上述正統指的應為下列何者？  
 (A) 魏 (B) 漢 (C) 吳 (D) 齊
18. 「魏」晉南北朝中之「魏」所指的是下列哪一個國家？  
 (A) 南北朝的北魏 (B) 三國時的東魏 (C) 南北朝的西魏 (D) 三國時的曹魏

1 西晉(265~316年)



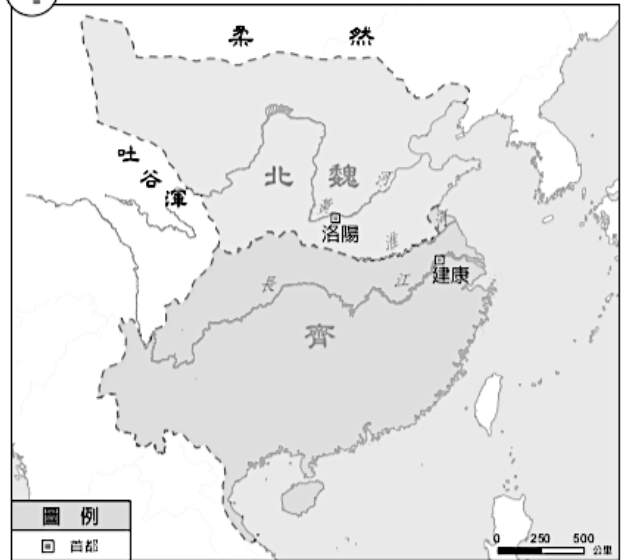
2 東晉(317~420年)、十六國(304~439年)



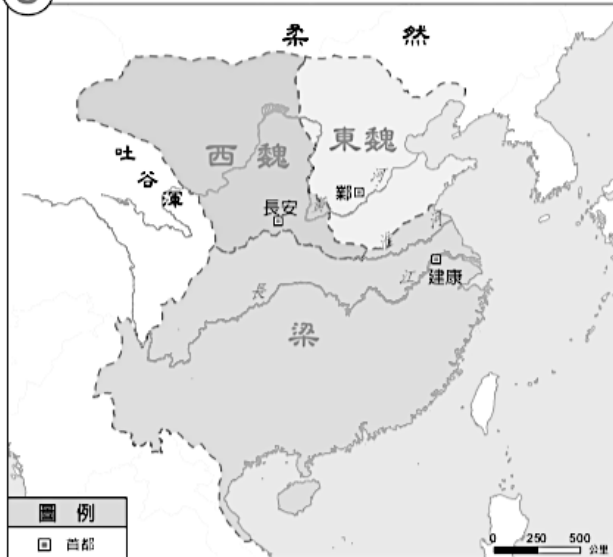
3 宋(420~479年)、北魏(386~534年)



4 齊(479~502年)、北魏(386~534年)



5 梁(502~557年)、東魏(534~550年)、西魏(535~557年)



6 陳(557~589年)、北齊(550~577年)、北周(557~581年)





## 3-2 胡漢融合與南方開發

### 一、北方：胡漢融合 (重要必考)

時間	五胡十六國期間，胡漢接觸頻繁	
說明	代表	<u>北魏孝文帝</u>
	遷都	從 <u>平城</u> (山西大同) 南遷到_____ (理由：平城地處偏僻、氣候嚴寒、保守勢力多)
	措施	1. 改穿漢服 2. 改說漢語 3. 胡漢通婚 4. 改用漢人姓氏
	影響	1. 加速胡漢民族的交流與融合，進而消除胡漢之間的隔閡 2. 部分鮮卑人反對，影響日後北魏分裂 (東魏、西魏)

#### 【補充知識】六鎮之亂

北魏國家積極與漢人士族合作，促使漢人士族的權力日益升高。自從北魏遷都洛陽後，達官顯貴遷往洛陽附近，胡人反被派到北邊防禦外族。北魏在北邊設立防衛設施，稱為「北鎮」，當地人則稱「城民」。孝明帝正光 5 年 (西元 524 年)，以北方六鎮為主的城民發起暴動，並將矛頭指向洛陽的公卿集團，稱為「六鎮之亂」或「城民叛變」。

六鎮之亂撕裂了統一的北魏王朝，北魏朝廷為了平定動亂，調派爾朱榮的軍隊，而他的部將高歡和宇文泰則分別割據北魏的東西部分，形成東魏、西魏的局面；到了他們的兒子高洋、宇文覺時，更廢魏帝自立，建立東魏—北齊、西魏—北周。史學家將「東魏—北齊」、「西魏—北周」及「梁、陳」稱為後三國時代。

### 二、南方：經濟開發

氏族南遷	原因	<u>永嘉之禍</u> (西元 311 年) 後，北方長期戰亂
	影響	從北方帶來農耕技術與人力，加速南方經濟的開發 → 經濟重心從北方的黃河流域，逐漸轉移到南方的 <u>長江流域</u>
<u>六朝</u>	意義	皆定都於 <u>南京</u> (當時稱： <u>建業</u> 、 <u>建康</u> )
	國家	_____、_____、 <u>宋</u> 、 <u>齊</u> 、 <u>梁</u> 、 <u>陳</u> (重要必考)
	貢獻	1. 開發江南地區，局勢較安定，經濟逐漸繁榮 2. 魏晉南北朝時期是中國經濟重心逐漸南移的關鍵時代



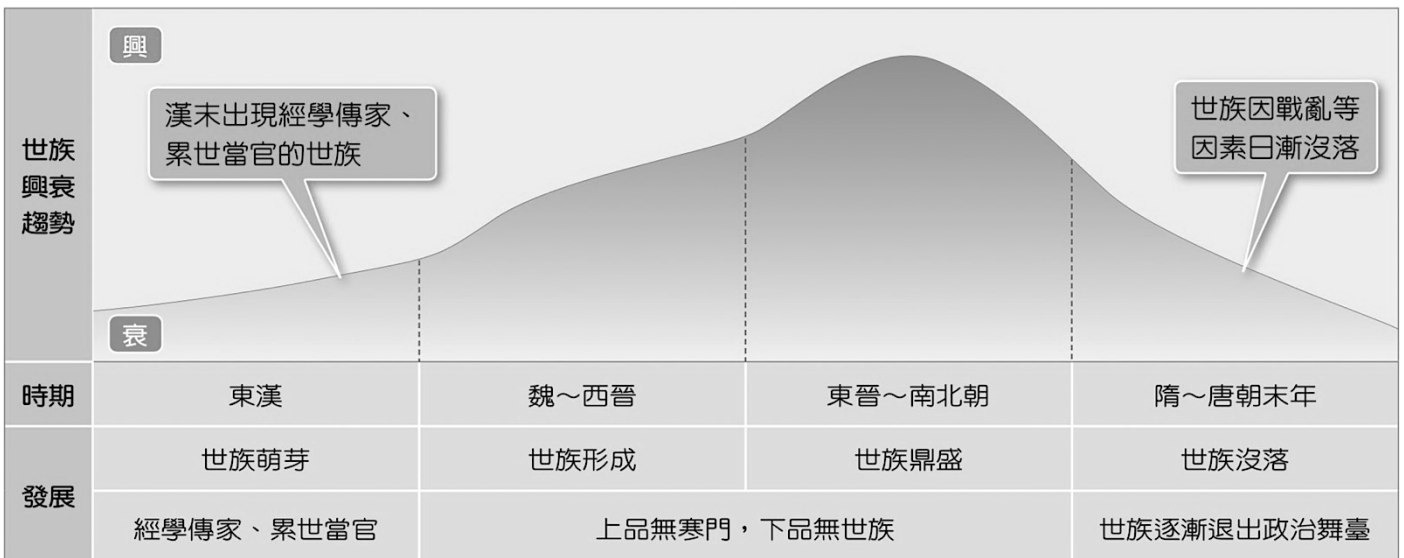
## 3-3 講究身份的世族社會

### 一、經學傳家

成因	1. 漢代崇尚儒術，經學大多傳給家族子弟，容易擁有任官資格，形成「經學世家」 2. 朝廷以經學取士，任用熟讀經書者為官，經學世家逐漸壟斷官職，成為顯赫的 <u>士族</u>
結果	世族獨佔官職，出身寒微者不易作官
特色	<u>五經</u> 成為世人必讀之書

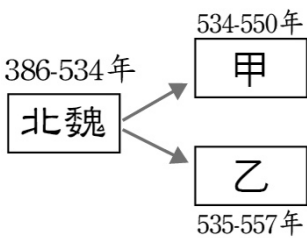
### 二、九品官人法

時間	<u>曹魏</u> 開始推行九品官人法
性質	1. 初期以家世、才能、德行評定士人等級，共分為九品，作為政府任用官吏的依據 2. 後來因負責選拔的官員多為士族，評選時逐漸只重視家世背景，不問才德
結果	1. 造成「 <u>上品無寒門，下品無士族</u> 」的現象 2. 凡事講求 <u>門當戶對</u> ，以維持士族的社會地位 (1) 政治：多掌有政治權力 (2) 經濟：擁有土地，且享有減免稅賦和免除勞役的特權 3. 連皇帝都對士族有所顧忌





單選題：共有 9 題，請將答案寫於題號之前

- 魏晉南北朝時期政局動盪不安，但是世族在社會上仍然維持崇高地位，不受政局的變動影響，與當時朝廷採用的哪種選官制度有關？  
(A) 察舉制度 (B) 科舉制度 (C) 封建制度 (D) 九品官人法
  - 無忌翻開《中國姓氏源流考》一書，發現他的姓氏起源列在「改姓氏」一欄的舉例中，如右表。這是受到哪位帝王政策的影響？  
(A) 西晉武帝 (B) 漢武帝 (C) 東漢光武帝 (D) 北魏孝文帝
- |     |     |    |    |     |     |     |    |
|-----|-----|----|----|-----|-----|-----|----|
| 改姓氏 | 鮮卑姓 | 拓跋 | 拔拔 | 丘穆陵 | 步六孤 | 紇豆陵 | 賀賴 |
|     | 漢姓  | 元  | 長孫 | 穆   | 陸   | 寶   | 賀  |
- 中國歷史上的六朝指的是吳、東晉、宋、齊、梁、陳等六個朝代。這六個朝代皆定都在今日的哪個城市？  
(A) 北京 (B) 成都 (C) 南京 (D) 洛陽
  - 魏晉南北朝時代，孫吳、東晉和南朝四代有何歷史貢獻？  
(A) 促進胡漢融合 (B) 促進江南開發 (C) 推展清談風氣 (D) 維護世族地位
  - 九品官人法依家世、才能、德行來選拔人才，但選拔者多為世族，常偏袒世族子弟，造成「上品無寒門，下品無世族」的社會現象。此種制度自何時開始實施？  
(A) 東漢 (B) 東晉 (C) 北魏 (D) 曹魏
  - 孤獨鴻是北朝初期的山西人士，他的哪個舉動違背了當朝的漢化政策？  
(A) 從洛陽遷居平城 (B) 與漢人女子結婚 (C) 改漢姓，說漢語 (D) 棄胡服，穿漢服
  - 北魏因推行漢化政策，增進了胡漢的融合，卻也造成境內部分貴族的不滿而致使國家分裂，如右圖所示。圖中的甲和乙分別為下列何者？  
(A) 東魏、西魏 (B) 南魏、北魏  
(C) 東齊、東周 (D) 北齊、北周
- 
- 阿敏是位鮮卑族人，回憶起年輕時代為了響應政府的漢化政策，讓他的一生有了很大的轉變。下列有關他一生的敘述，何者正確？  
(A) 他原本姓拓跋，因應政府政策更改姓氏為元 (B) 皇帝下令，禁止國人娶胡人  
(C) 他與家鄉父老皆以故鄉話（胡語）閒話家常 (D) 遷居洛陽，仍採用胡人籍貫
  - 中國歷代選用人才的方式各有不同，但九品官人法在魏晉南北朝卻實施了約 300 多年，這對當時的社會產生了下列何種影響？  
(A) 出現布衣卿相，平民百姓獲重用，當官者大幅增加  
(B) 社會流動不易，出現上品無寒門，下品無士族現象  
(C) 經學大師講學蔚為風尚，各戶家庭子弟皆投入學習  
(D) 萬般皆下品，唯有讀書高風氣興盛，促成社會流動





## 3-4 清談風氣與佛道盛行

### 一、清談與玄學

性質	拋開現實，崇尚玄妙哲理的談論
發展脈絡	魏晉南北朝時期，儒學衰微，政治混亂，士人為了避禍，興起清談風氣
代表人物	<u>竹林七賢</u> （嵇康、阮籍、山濤、王戎、阮咸、劉伶、向秀）
三玄	<u>老子</u> 、 <u>莊子</u> 、 <u>易經</u>
影響	有助士人個性解放，但也使部分士人忽視禮教，崇尚玄虛，形成放蕩不羈的人生觀

### 二、道教

起源	中國的本土宗教	
時間	成立於 <u>東漢末年</u>	
舉例	<u>五斗米道</u>	1. <u>張陵</u> 所創 2. 要求信徒必須繳交白米五斗，故稱五斗米道
	<u>太平道</u>	1. <u>張角</u> 根據太平經所創立，故稱太平道 2. 曾發動 <u>黃巾之亂</u> ，失敗後趨於式微
特色	1. 初期：因以符水與符書替人治病、降魔，深受一般民眾信仰 2. 魏晉南北朝：道教吸收老莊思想與佛教內容，逐漸流傳於統治階層，一度成為北魏國教（北魏太武帝）	

### 三、佛教

起源	外來宗教，起源於 <u>印度</u>
興起	<u>西漢末年</u> 從西域傳入（絲路）
特色	1. <u>東漢明帝</u> ： <u>洛陽</u> 的 <u>白馬寺</u> ，是中國第一座佛寺 2. <u>南朝梁武帝</u> ：魏晉南北朝動亂頻繁，梁武帝提倡佛教，大量翻譯佛經，佛教廣為流傳 3. 三大石窟：山西 <u>雲岡石窟</u> （北魏）、河南 <u>龍門石窟</u> （北魏）、甘肅 <u>莫高窟</u> （五胡十六國）

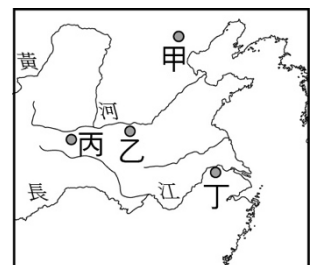
#### 【補充知識】田園隱逸詩人：陶淵明

生於魏晉南北朝，出生於沒落的宦官家庭，個性耿介，不為五斗米折腰，辭官回家後皆隱居不仕，著有許多經典作品，其中以桃花源記最為人所樂道。他用桃花源象徵一種與世無爭的烏托邦，藉由桃花源的美好，批判了當時社會（晉宋）的爭奪與衝突。




單選題：共有 8 題，請將答案寫於題號之前

- 「竹林七賢」是中國歷史上著名的一群文人，他們時常聚集在竹林中高談闊論，長醉不醒，衣不蔽體；他們常討論如：蛙鳴和蟬叫的意義、聲音有沒有快樂和悲傷的分別等問題。「竹林七賢」所代表的是哪個時代與學風？  
(A) 春秋戰國，百家爭鳴 (B) 兩漢經學，獨尊儒術  
(C) 魏晉玄學，放縱不羈 (D) 唐朝佛學，超然物外
- 晉緯參觀國立歷史博物館的展覽，內容是介紹道教千年來的種種故事。請問：晉緯最可能在展覽中聽到下列何種內容？  
(A) 道教是中國本土宗教 (B) 道教比佛教還早出現於中國  
(C) 張陵創立了太平道 (D) 道教文物多屬於宮廷的文物
- 小明前往中國參觀山西雲岡和洛陽龍門石窟造像，當他看到巨大且表情刻畫細膩的石像時，不禁發出驚呼聲；當地導遊告訴他這些石窟主要是反映出魏晉南北朝某種宗教的盛行。導遊所說的「某種宗教」是指下列哪個宗教？  
(A) 道教 (B) 回教 (C) 佛教 (D) 印度教
- 面對不安的時局，宗教成為世人寄託身心的憑藉。佛教教人超脫痛苦，吸引了廣大信眾，並對中國的思想、風俗、建築藝術等產生了深遠的影響。佛教於何時由大月氏使者傳入中國？  
(A) 東漢末年 (B) 西漢末年 (C) 曹魏時期 (D) 魏晉南北朝
- 佛教開始傳入中國時，尚未普遍流行。直到何時，佛教才開始日益興盛？  
(A) 東漢年年 (B) 西漢末年 (C) 曹魏時期 (D) 魏晉南北朝
- 梁武帝曾大修佛寺、佛塔，獎助佛經翻譯，甚至自己還出家當和尚，因而被稱為「菩薩皇帝」。上述發生於下列哪個時期？  
(A) 東漢年年 (B) 西漢末年 (C) 曹魏時期 (D) 魏晉南北朝
- 魏晉南北朝時期，士人喜愛談論三玄，請問：清談的思想，最可能是以哪個學派的論點為基礎？  
(A) 儒家 (B) 道家 (C) 法家 (D) 墨家
- 老李到中國旅遊，看到一座翻修的古老佛寺，導遊說：「這座佛寺是中國最早的佛寺，曾有印度高僧在此翻譯佛經，對佛經的傳布貢獻極大。」這座佛寺位於在圖中的何地？  
(A) 甲 (B) 乙 (C) 丙 (D) 丁

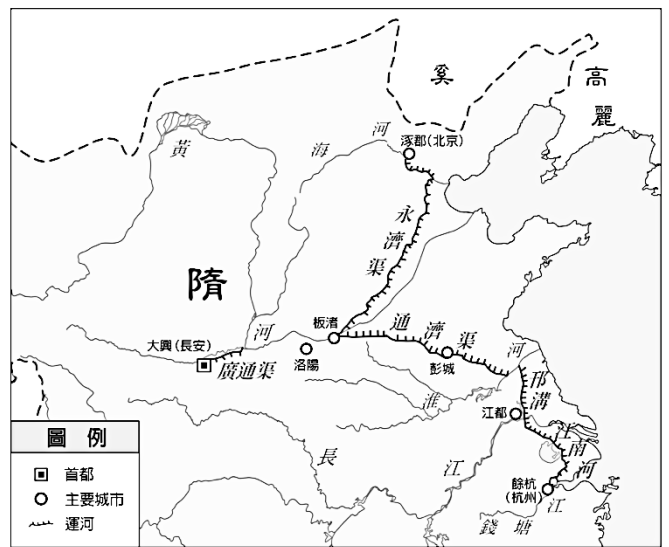


# Ch4 胡漢融合的隋唐帝國



## 4-1 隋唐的興亡

開國	隋文帝楊堅。勤於政事，國家富裕，人民安康，史稱開皇之治		
繼位	隋煬帝楊廣。多才多藝，懂得惺惺作態，然好大喜功，奢侈殘酷		
作為	營建新都	原因	長安舊城殘破，水污染嚴重，故營建新都 <u>大興城</u> （後仍稱長安）
		特色	1. <u>坊市分離</u> ：坊（住宅區）市（商業區）之間築牆分隔 2. 規劃方正整齊，坊市都有固定的開放與關閉時間
	實施科舉	背景	廢除九品官人法，改行科舉制度
		特色	不問門第，士人報名參加考試，考取者任官職，平民入仕機會增加
	開鑿運河	隋文帝	<u>渠</u>
隋煬帝		<u>永濟渠、通濟渠、邗溝、江南河</u>	
亡國	1. 建設虛耗國力，加上隋煬帝三次征伐高麗，賦役繁重，叛亂紛起 2. 西元 618 年，_____（唐高祖）趁機起兵，建立唐朝，隋亡		



### 【補充知識】隋煬帝的功與過？

楊廣是隋朝第二位皇帝，同時也是亡國之君。自從唐初《隋書》以來，隋煬帝多是奢侈、殘酷的暴君形象，認為開鑿運河等行為都是在滿足個人貪圖享樂的慾望。但也有學者重新審視他的作為，給予正面評價，例如：楊廣在即位前便受命率軍南下滅陳；即位後營建東都洛陽，加強對山東地區的控制；運河也能促進經濟與文化的交流……。

### 【問題思考】《登科後》，孟郊（唐朝詩人）

「昔日齷齪不堪言，今朝放蕩思無涯。春風得意馬蹄疾，一日看遍長安花。」請細讀此首詩作，運用你的歷史知識，說明它的意涵。



## 4-2 唐朝盛衰與五代十國

### 一、唐朝的盛世

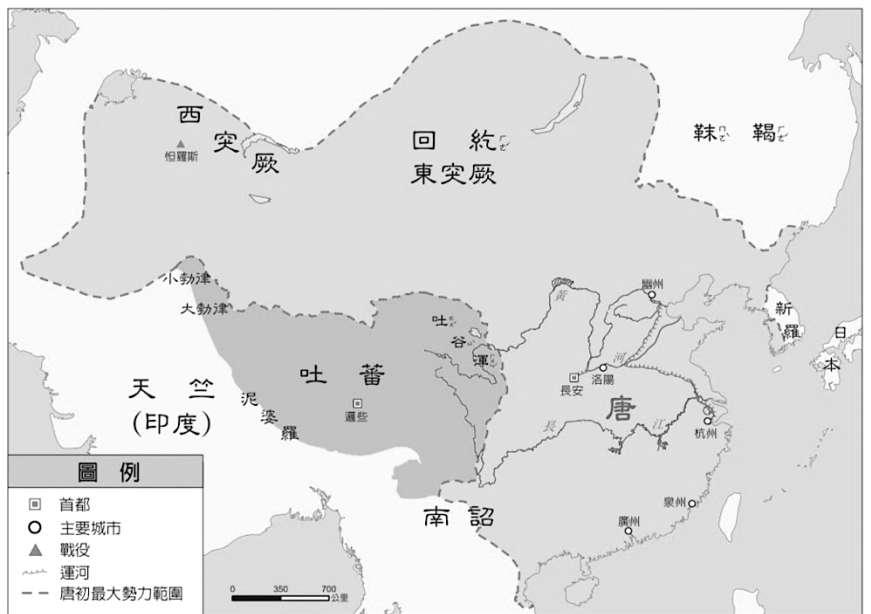
<b>唐高祖</b>	隋末大亂，李淵趁機起兵，建立唐朝，是為唐高祖，最後統一天下
<b>唐太宗</b>	1. <b>玄武門之變</b> ：李世民藉由玄武門之變，奪得皇位，是為唐太宗 2. 對內：開創_____之治，知人善任、容納直諫 3. 對外：擊滅 <u>東突厥</u> ，聲威大振，西北各族君長紛紛歸順，唐太宗有_____尊號
<b>唐高宗</b>	太宗死後繼位，大權逐漸落入武后（武則天）的手中
<b>武則天</b>	中國史上唯一的女皇帝，改國號為周。重視科舉、提拔人才，使國力維持穩定
<b>唐玄宗</b>	_____之治：任用賢能，勵精圖治，國家富強康樂，國力發展到最高峰

#### 【歷史故事】明爭暗鬥下的玄武門

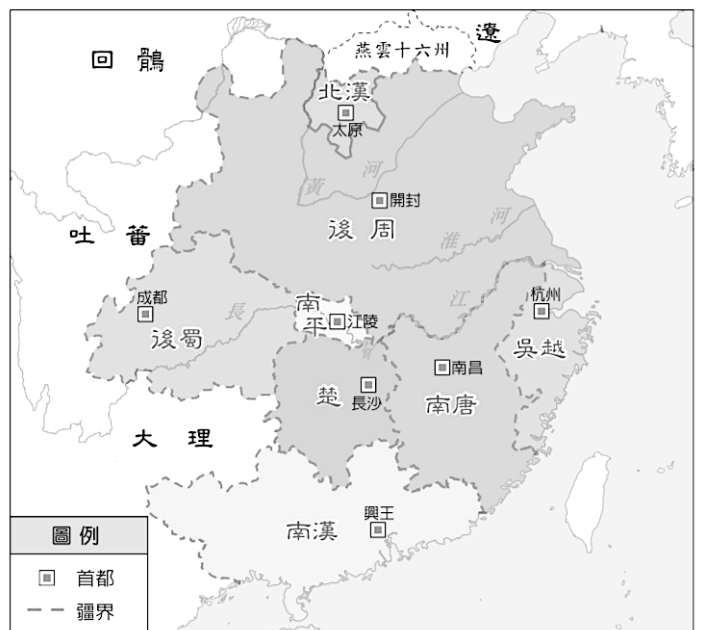
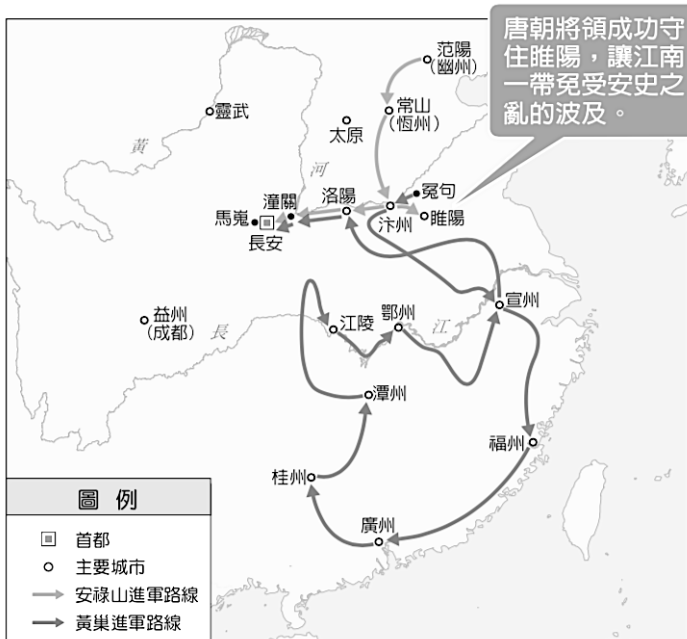
玄武門是唐朝皇宮內的北宮門，歷史上著名的「玄武門之變」與開創唐朝盛世的唐太宗李世民有關。唐高祖李淵即位後，封長子李建成為太子，二子李世民為秦王，四子李元吉為齊王。其中，李世民屢有戰功，且有勇有謀，手下擁有一些許多謀士勇將，太子建成心知自己的威信不如弟弟世民，心生妒忌，便與元吉共謀，打算用毒酒殺死李世民。李世民喝下毒酒卻未死亡，卻也因此得知他們的詭計，於是進宮和唐高祖李淵告狀，高祖答應隔天一早叫兄弟三人進宮，由他親自審問。結果，李世民隔天一早派人埋伏於玄武門，等到建成、元吉接近時，命人用箭當場射死兩人。最後，唐高祖只能讓位給李世民，成為歷史上鼎鼎大名的唐太宗。

### 二、唐朝的衰亡

內亂	<b>安史之亂</b>	<b>黃巢之亂</b>
性質	<b>將領叛變</b>	<b>民變</b>
背景	唐玄宗晚年安於享樂，寵幸 <u>楊貴妃</u> ，政治日漸敗壞	唐朝末年 <u>天災</u> 頻仍，民變四起
時間	唐朝中期（玄宗天寶 14 年，西元 755 年）	唐朝後期（僖宗乾符元年，西元 874 年）
地點	黃河南北一帶（起兵於北方范陽，攻陷長安洛陽）	遍及大江南北
經過	胡人將領 <u>安祿山</u> 和部將 <u>史思明</u> 起兵叛唐，攻占 <u>長安</u>	唐朝賴以維繫的 <u>江南經濟</u> 被嚴重破壞
結果	唐代宗時期（西元 763 年），由郭子儀平定	黃巢降將 <u>朱溫</u> 平定
影響	國力由盛轉衰 1. 中央： <u>宦官亂政</u> 、 <u>牛李黨爭</u> （牛僧孺、李德裕） 2. 地方： <u>藩鎮割據</u> ，各地增設_____，常抗朝廷	朱溫平定亂事後不久，篡唐建 <u>後梁</u> ，進入 <u>五代十國</u> 時期（黃河流域先後建立： <u>梁</u> 、 <u>唐</u> 、 <u>晉</u> 、 <u>漢</u> 、 <u>周</u> ，稱五代）



左上：禮賓圖	右上：唐朝疆域圖
左下：安史 / 黃巢之亂	右下：五代十國後期



牛刀小試

單選題：共有 16 題，請將答案寫於題號之前

- 唐朝在下列哪個事件發生後，使南方經濟嚴重破壞，間接造成唐朝的滅亡？  
 (A) 安史之亂                      (B) 黃巢之亂                      (C) 牛李黨爭                      (D) 玄武門之變
- 唐朝人宋漢民坐船從長安出發，目的地是揚州（長江邊）拜訪朋友，他沿途不需經過哪條運河？  
 (A) 邗溝                              (B) 江南河                              (C) 通濟渠                              (D) 廣通渠
- 英國科學期刊研究指出：西元 618 年到 907 的中國盛世唐朝，最終是因為氣候變遷而亡。當時氣候乾燥、農業歉收，導致農民起義，帶亂世平定後唐朝已不可為。請問：上述應是哪個事件？  
 (A) 安史之亂                      (B) 黃巢之亂                      (C) 牛李黨爭                      (D) 玄武門之變

4. 白居易《長恨歌》詩云：「.....漁陽鼙鼓動地來，驚破《霓裳羽衣曲》.....。」上文應是描寫哪件關鍵史事，使唐朝國力由盛轉衰？
- (A) 安史之亂 (B) 黃巢之亂 (C) 牛李黨爭 (D) 玄武門之變
5. 「憶昔開元全盛日，小邑猶藏萬家室。稻米流脂粟米白，公私倉廩俱豐實。」上文描述的是唐代哪位帝王的盛世？
- (A) 唐高祖 (B) 唐太宗 (C) 唐高宗 (D) 唐玄宗
6. 樹明是唐代的官員，回想年輕時，他是經由哪種選官制度而飛黃騰達？
- (A) 封建制度 (B) 察舉制度 (C) 科舉制度 (D) 九品官人法
7. 安康上臺報告安史之亂的經過，下列哪項說錯了？
- (A) 發生於天寶年間 (B) 玄宗逃往四川 (C) 經濟遭受破壞 (D) 幸賴朱溫所平
8. 隋代立國僅十五年，留下重要建設影響後世深遠。探究隋帝國滅亡的主要原因為何？
- (A) 役使民力 (B) 外戚干政 (C) 宦官弄權 (D) 藩鎮割據
9. 歷史課，老師進行有獎徵答活動，題目是「歷史上皇帝因好大喜功，三征高麗，終致亡國者當推何人？」小晉要如何口答，才能得到獎品？
- (A) 隋文帝 (B) 隋煬帝 (C) 唐高祖 (D) 唐玄宗
10. 小力到日本旅行，導遊說：「京都是日本知名的文化古都，街道整齊有序，它是模仿隋唐時期□□的格局興建的。」導遊所稱的□□是指哪個城？
- (A) 南京 (B) 北京 (C) 長安 (D) 洛陽
11. 歷史老師講述隋代運河「永濟渠」的興建目的，應會提到哪個重點？
- (A) 軍事運輸 (B) 運送旅客 (C) 糧食補給 (D) 巡幸江南
12. 蕭章上臺報告說：「唐朝政府採取聯合外族的策略，利用叛軍內訌的機會平定了為時八年的亂事，但國勢因此衰弱。」蕭章報告的是下列哪個歷史事件的影響？
- (A) 安史之亂 (B) 黃巢之亂 (C) 牛李黨爭 (D) 玄武門之變
13. 「天下大勢分久必合，合久必分」。在盛唐之後，取而代之的是五代十國的分裂局面。五代中的後梁是下列何人所建？
- (A) 楊堅 (B) 朱溫 (C) 安祿山 (D) 史思明
14. 小緯在歷史課本上看到一段資料：「在位期間，勤於政事，崇尚節儉，節省政府開支，國家因而富足，史稱『開皇之治』。」上文是在讚揚哪位皇帝的政績？
- (A) 隋文帝 (B) 隋煬帝 (C) 唐太宗 (D) 唐玄宗
15. 杜甫的詩往往反映著社會現象。「烽火連三月，家書抵萬金」是生活在唐朝中葉的他，遭逢的哪場變故？
- (A) 安史之亂 (B) 黃巢之亂 (C) 永嘉之禍 (D) 黃巾之亂
16. 「天可汗」尊號的賦予，與下列何人何事關聯最密切？
- (A) 隋煬帝征高麗 (B) 太宗滅東突厥 (C) 高宗征西突厥 (D) 唐玄宗征大食



## 4-3 隋唐的經濟與社會

### 一、經濟發展

特色	經濟繁榮，中外貿易頻繁	
貿易	陸路	許多 <u>胡商</u> 經由絲路到 <u>長安</u> 等城市貿易
	水路	<u>阿拉伯商人</u> 經由海路到 <u>廣州</u> 貿易（唐政府在廣州設立_____，類似今日海關）
貨幣	_____：唐朝中葉開始，商業更加繁榮，為了方便貨幣攜帶與使用，發明了飛錢	

1		2		3		4	
	商人外出經商，銅錢沉重不便攜帶。		商人以銅錢換取收據。		商人輕鬆前往目的地。		商人抵達目的地後，以收據換回銅錢。

### 二、兼容並蓄的社會風貌

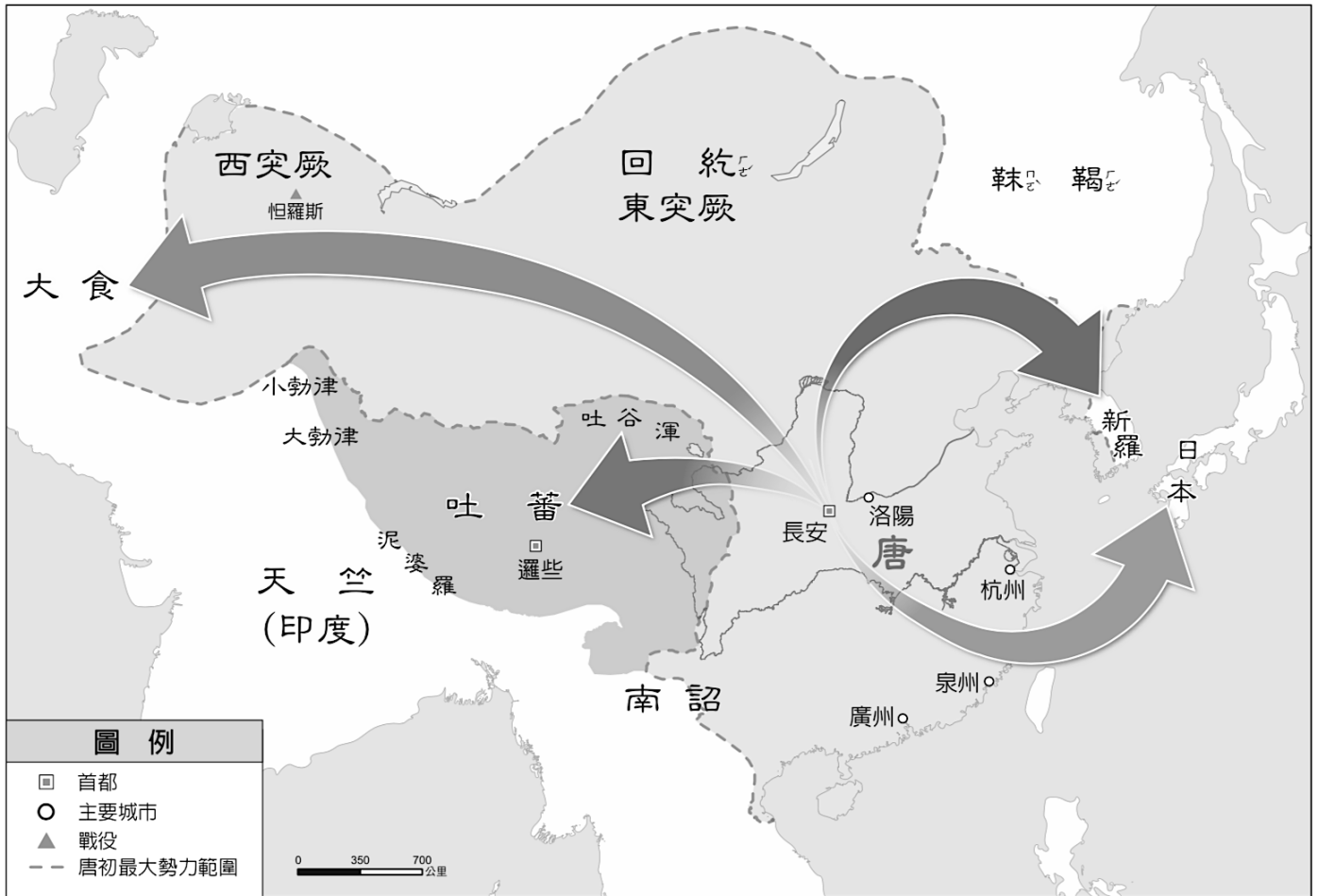
特色	隋唐社會因容納各種文化而呈現多元色彩，主要特色是「胡漢融合、兼容並蓄」
說明	胡商帶來胡食、胡服、胡樂、胡舞

### 三、外來宗教的傳布

項目	傳播時間	特色
<u>佛教</u>	西漢末年	唐太宗時， <u>玄奘</u> 不畏艱難，前往印度取經，回國後致力翻譯佛經
<u>道教</u>	東漢末年	張陵創立五斗米道，張角創立太平道
<u>景教</u>	唐朝	屬於 <u>基督教</u> 的派別之一
<u>回教</u>	唐朝	即伊斯蘭教。西域回紇人多信仰此教，故稱回教。唐玄宗於西安建大清真寺
<u>摩尼教</u>	唐朝	由波斯人摩尼所創，主張善惡二元說，在長安建有寺廟



## 4-4 大唐文化的傳播



國家	說明
<u>新羅</u>	位於朝鮮半島，權力模仿中國漢字、立法、儒學與佛教，有 <u>          </u> 國之稱
<u>日本</u>	<ol style="list-style-type: none"> <li><u>          </u>：日本多次派遣遣唐使到中國，學生、僧侶隨行，學習中國文化與佛法</li> <li><u>大化革新</u>： <ol style="list-style-type: none"> <li>時間：7世紀中期，<u>孝德天皇</u>在位時</li> <li>方式：以唐代制度為藍本，展開唐化運動</li> <li>文字：<u>平假名</u>（採漢字楷書偏旁而成）、<u>片假名</u>（簡化漢字草書而成）</li> </ol> </li> </ol>
<u>吐蕃</u>	<u>唐太宗</u> 時， <u>文成公主</u> 嫁到吐蕃，將佛教、農業技術傳入西藏，促進漢藏交流
<u>大食</u>	<ol style="list-style-type: none"> <li><u>          </u>之役：<u>唐玄宗</u>時，唐朝軍隊與大時（阿拉伯帝國）交戰於怛羅斯，戰敗</li> <li><u>西傳</u>：因戰役失利，許多士兵被俘虜，有些原本是造紙工匠，因而西傳</li> </ol>

（重要必考，務必將以上四國的位置與特色熟記）





## 4-5 隋唐的文化成就

項目	特色
<b>書法</b>	「顏柳」： <u>顏真卿</u> 、 <u>柳公權</u> ，皆擅長楷書，各具特色
<b>繪畫</b>	<u>吳道子</u> ：擅長山水畫與人物畫，有畫聖之稱
<b>文學</b>	詩是唐朝文學的主流，代表人物如下： 1. <b>詩</b> ： <u>李白</u> （字太白，喜飲酒，其詩多浪漫富想像力） 2. <b>詩</b> ： <u>杜甫</u> （字子美，生於唐朝由盛轉衰的時期，關懷國家安危與社會實況）
<b>工藝</b>	<u>唐三彩</u> ：以黃色、綠色、褐色為主，色彩絢麗，題材豐富，具備高度藝術價值



牛刀小試

單選題：共有 7 題，請將答案寫於題號之前

【題組】請參考右圖，回答第 1~3 題：

- 盛唐時期，一位來自「君子國」的留學生李康，在中國長安城學習儒家經典。請問：君子國位於何處？  
(A) 甲 (B) 乙 (C) 丙 (D) 丁
- 唐代的吐蕃，立國於右圖中哪個區域？  
(A) 甲 (B) 乙 (C) 丙 (D) 丁
- 東亞唐化除新羅和吐蕃之外，尚有以下何國？  
(A) 大食 (B) 回紇 (C) 日本 (D) 波斯
- 911 恐怖分子攻擊美國事件，喚起了世人對於「伊斯蘭教」的研究熱潮。而這個創立於阿拉伯半島的宗教，在何時傳入中國？  
(A) 漢朝 (B) 魏晉南北朝 (C) 隋朝 (D) 唐朝
- 日文的片假名採漢字楷書偏旁簡化而成，平假名是仿漢字草書而成。日本文字於下列何時製成？  
(A) 秦 (B) 漢 (C) 隋 (D) 唐
- 隋唐時代，我們在長安等大城可以買到「胡食」，看到「胡姬」歌舞、「漢戴胡帽，胡戴漢帽」、細腰窄袖的「胡裝」等景觀，這顯示當時是一個什麼樣的社會？  
(A) 兼容並蓄的社會 (B) 胡漢分裂的社會 (C) 戰爭頻繁的社會 (D) 兵荒馬亂的社會
- 中國青藏鐵路通車後促進西藏地區的開發。在歷史上，有助於漢藏之間交流的是哪位歷史人物？  
(A) 張騫 (B) 班超 (C) 玄奘 (D) 文成公主

