


Ch5 多民族並立的宋元時期



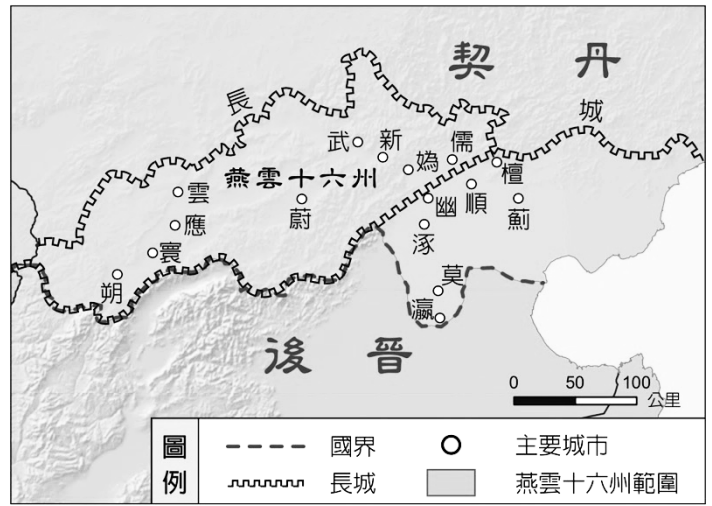
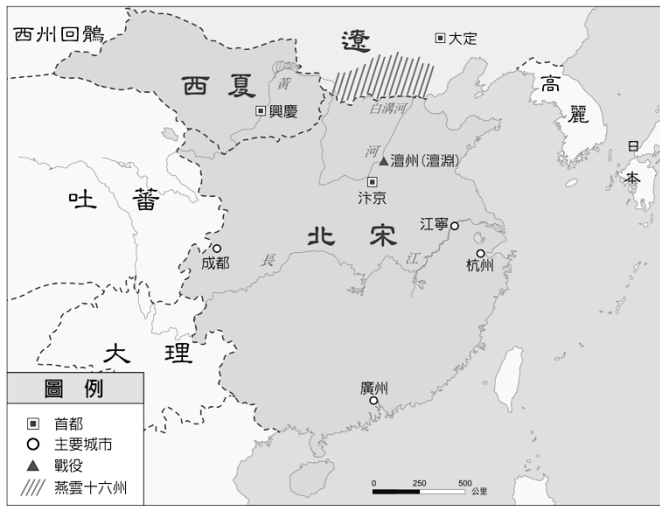
5-1 宋的建立與前期外患

一、北宋的基本國策

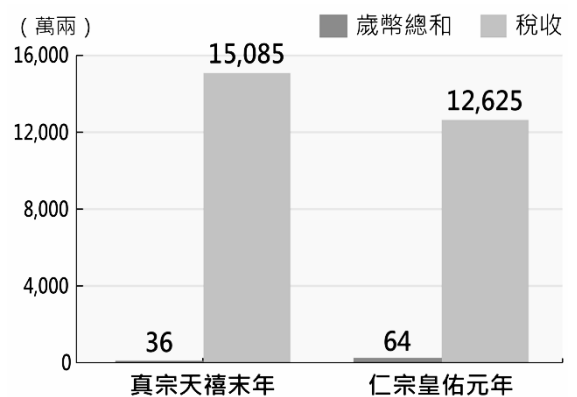
建國	1. _____ 兵變 ：五代後周將領_____北上抵禦契丹，藉機變篡後周稱帝，是為 2. 首都：_____（今河南開封）
基本國策	主軸 宋太祖以「 強幹弱枝，重文輕武 」為基本國策
	實施 1. _____：宋太祖在酒宴中，勸說軍隊將領辭職，交出兵權，將兵權收歸中央 2. 實施文人政治：禮遇文人
	結果 1. 解決唐末以來藩鎮擁兵自重的弊害 2. 導致宋朝國勢積弱不振

二、北宋前期的外患

外患	<u>遼</u>	<u>西夏</u>
部族	_____族	_____族
建國	五代初期，取得 <u>燕雲十六州</u> ，成為北方強國	位於宋朝的西北方
與宋關係	<u>之盟</u> ：北宋與遼議和 1. <u>宋真宗</u> 時期：遼軍南侵，皇帝接受了宰相 <u>寇準</u> 建議親征，最後雙方簽訂「 <u>澶淵之盟</u> 」 2. 影響：宋每年給遼「 <u>歲幣</u> 」（銀、絹），維持了一百多年的和平	1. 西夏多次攻打宋 2. 宋與西夏談和：每年給西夏財物，以換取和平



【問題思考】請參考右圖（北宋歲幣與稅收的比較），你／妳認為給予外族財物以換取和平的做法如何？請說明原因：



單選題：共有 13 題，請將答案寫於題號之前

- 維持百年的和平。這是北宋與哪個國家所簽訂？
 - 西夏
 - 遼國
 - 金國
 - 蒙古
- 北宋時期的「澶淵之盟」開啟了國與國的對等關係，此乃北宋與哪個外族所簽訂？
 - 党項
 - 東突厥
 - 匈奴
 - 契丹
- 後周將領趙匡胤因策動下列哪一事件而取得政權，進而得到天下，建立宋朝？
 - 玄武門之變
 - 陳橋兵變
 - 杯酒釋兵權
 - 安史之亂
- 何人建立政權後，集權中央，徹底解決唐中葉以來藩鎮割據的問題？
 - 宋太祖
 - 宋太宗
 - 宋真宗
 - 宋神宗
- 宋國建立初期，以「強幹弱枝，重文輕武」為基本國策，採用這項政策的主要原因應為何者？
 - 免軍人挾兵干預朝政
 - 受唐代科舉制度的影響
 - 邊族貧弱而國防無憂
 - 盼終止綜是內鬥的弊病

6. 漫畫中國史中有一幅圖片如右。該圖所描述的為宋代之史實，這場戰爭讓宋朝與遼簽訂了「澶淵之盟」。圖中的君王應是下列何者？

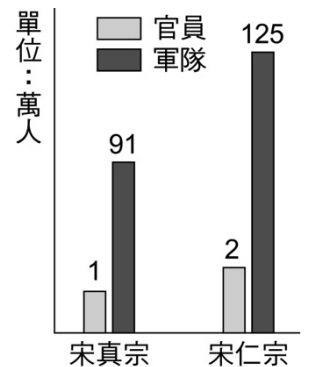


- (A) 宋太祖 (B) 宋太宗
(C) 宋真宗 (D) 宋神宗

7. 強幹弱枝政策將地方上的各項權力收歸中央，並優待文人，以解決武將擁兵自重的問題。這應是哪位皇帝在位時所推動？

- (A) 宋太祖 (B) 宋太宗 (C) 宋真宗 (D) 宋神宗

8. 歷史課時，老師以右圖來說明北宋前期官員與軍隊人數的成長情形。右圖中的情況帶來哪個不良的影響？



- (A) 財政負擔 (B) 外患增加
(C) 邊防不振 (D) 重武輕文

9. 某電視劇的劇情如下：士兵們齊聲說：「請將軍披上黃袍當皇帝，帶領我們走出困境吧。」將軍：「嗯，好吧，竟然大家擁護我，我便擔任皇帝帶領國家走出困境。」依你的歷史知識判斷，這位將軍應該是下列何人？

- (A) 李世民 (B) 趙匡胤 (C) 劉備 (D) 劉邦

10. 宋立國之初，外有強敵侵略，內有財政負擔，為尋求解決之道，有識之士提倡改革變法以求富國強兵。請問：宋初面臨哪些強敵的威脅？

- (A) 女真、党項 (B) 契丹、女真 (C) 女真、蒙古 (D) 契丹、党項

【題組】請參考右圖，回答第 11~13 題：

11. 與宋國簽訂「澶淵之盟」的國家，位於右圖何處？

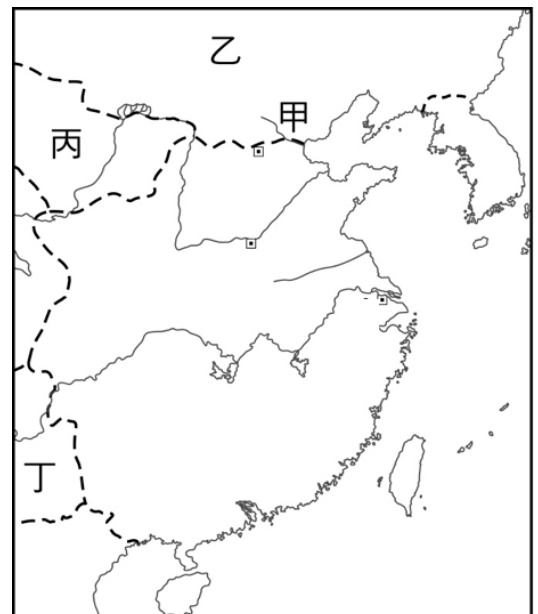
- (A) 甲 (B) 乙 (C) 丙 (D) 丁

12. 由党項族建立的西夏國，位於右圖何處？

- (A) 甲 (B) 乙 (C) 丙 (D) 丁

13. 請問「燕雲十六州」大約位於右圖中的何處？

- (A) 甲 (B) 乙 (C) 丙 (D) 丁





5-2 北宋的變法

背景	<ul style="list-style-type: none"> ● 財政負擔沉重： 1. 對外：北宋自開國以來，為抵禦外族而擴充軍隊（冗兵） 2. 對內：禮遇文人，官員人數不斷增加（冗官） 	<p>(萬兩)</p> <p>【北宋英宗治平二年財政收入圖】</p>
時間	宋神宗時期	
人物	_____	
目標	富國強兵	
內容 (補充)	<ol style="list-style-type: none"> 1. 青苗法：低利貸款給農民 2. 市易法：賤買貴賣，允許人民抵押買賣，平抑物價 3. 免役法：改差役為雇役，人民可捐錢以免除勞役 4. 軍器監：招聘優良人員改良武器 	
結果	<ol style="list-style-type: none"> 1. 王安石過於剛愎自用，不肯接納他人意見，加上用人不當，貪官污吏問題引發民怨 2. 新舊黨爭：朝廷內支持新法的「新黨」與反對新法的「舊黨」(代表人物：司馬光)兩大政營彼此攻擊，造成政治惡化，導致北宋國勢更加衰弱 	



牛刀小試

單選題：共有 4 題，請將答案寫於題號之前

1. 右圖漫畫中進行對話的君臣各是何人？

- (A) 宋太祖、寇準 (B) 宋太祖、王安石
(C) 宋真宗、寇準 (D) 宋真宗、王安石

2. 馮夢龍《警世通言》：「熙寧新法諫書多，執拗行私奈爾何，不是此番元氣耗，虜軍豈得渡黃河。」文中提到的事件，與下列何人關係最密切？

- (A) 寇準 (B) 王安石 (C) 司馬光 (D) 趙匡胤

3. 有關「王安石變法」的敘述，下列何者**錯誤**？

- (A) 獲司馬光的支持 (B) 目標為富國強兵 (C) 背景為財政困難 (D) 演變為新舊黨爭

4. 宋神宗是一位年輕有為的君主，為改善國家積弱不振、財政困難的窘境，因此支持大臣變法，卻因大臣剛愎自用，引發黨爭，導致變法失敗，國勢更加衰弱。宋神宗重用何人變法改革？

- (A) 寇準 (B) 王安石 (C) 司馬光 (D) 趙匡胤





5-3 金的崛起與南宋偏安

一、金的崛起

建國	北宋末年，位於東北的 <u>女真族</u> 領袖_____叛遼稱帝，國號「 <u>金</u> 」		
與宋關係	聯合北宋攻打遼國	雙方協議，北宋攻打遼國，滅遼後，燕雲十六州歸北宋，而過去宋朝給遼的歲幣，則改繳給金	
	之禍	時間	宋欽宗靖康 2 年（西元 1127 年）
		經過	金在滅遼後，揮兵南下，攻陷汴京，擄走徽、欽二帝
結果	北宋滅亡，宋室南遷， <u>宋高宗</u> 即位，定都_____（浙江杭州），史稱「南宋」		

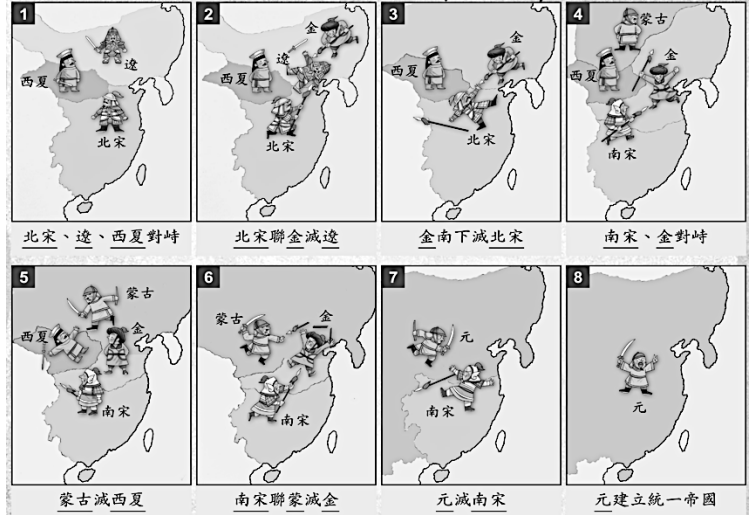
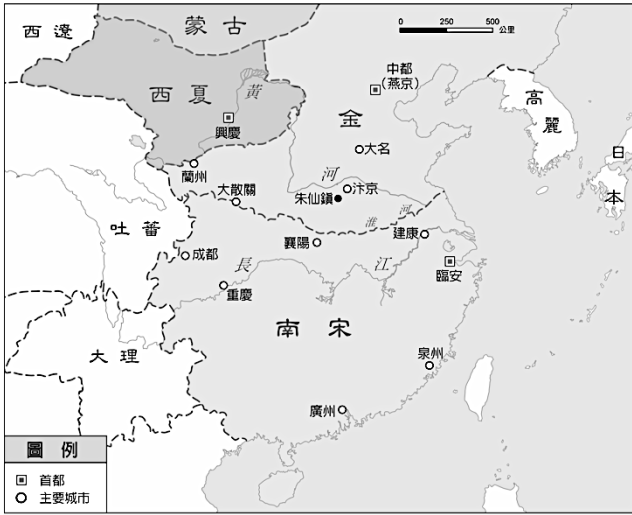
二、南宋偏安

建國	靖康之禍後，宋室南遷， <u>宋高宗</u> 即位，定都 <u>臨安</u> （浙江杭州），史稱「 <u>南宋</u> 」		
偏安江南	<p>1. 南宋建國初期：</p> <p>(1) 飽受金國威脅</p> <p>(2) 名將_____多次打敗金兵，免於滅亡</p> <p>(3) <u>宋高宗</u>及宰相_____等人急於求和，以「<u>莫須有</u>」的謀反罪處死岳飛，與金議和</p> <p>2. 宋金議和後：</p> <p>(1) 宋、金又多次戰爭與議和</p> <p>(2) <u>蒙古</u>興起後，南宋聯合蒙古滅金，最後南宋也被蒙古人所滅</p>		

【閱讀思考】岳飛的滿江紅

怒髮衝冠，憑欄處，瀟瀟雨歇。抬望眼，仰天長嘯，壯懷激烈。三十功名塵與土，八千里路雲和月。莫等閒，白了少年頭，空悲切。靖康恥，猶未雪；臣子恨，何時滅！駕長車踏破賀蘭山缺。壯志飢餐胡虜肉，笑談渴飲匈奴血。待從頭，收拾舊山河，朝天闕。

1. 閱讀滿江紅這首著名的宋詞後，你認為詞作的背景是什麼事件？_____
2. 「胡虜」、「匈奴」指的應該是哪個民族？_____
3. 此事件導致哪兩位皇帝被俘虜？_____
4. 岳飛最後被哪一位宰相給害死？_____

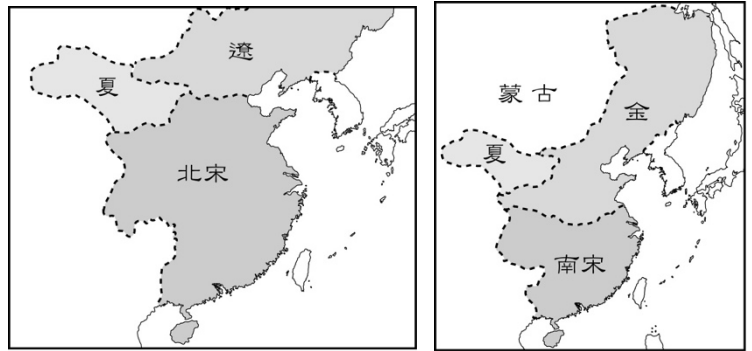


(圖片細節請參考課本 p.123~124 頁)



單選題：共有 6 題，請將答案寫於題號之前

1. 歷史課時，老師在黑板展示下列兩圖。由左圖演變到右圖，顯示老師上課的主題最可能是下列何者？



- (A) 安史之亂 (B) 澶淵之盟
(C) 陳橋兵變 (D) 靖康之禍

2. 下列有關北宋周邊國家與其族名的配對，何者正確？

- (A) 遼—女真，西夏—党項，金—契丹 (B) 遼—契丹，西夏—女真，金—党項
(C) 遼—契丹，西夏—党項，金—女真 (D) 遼—女真，西夏—契丹，金—党項

3. 老蔣遊歷杭州西湖時看到一幅對聯，如右圖所示。這是為了紀念哪位南宋時期的抗金英雄而寫的？



- (A) 秦檜 (B) 岳飛 (C) 司馬光 (D) 王安石

4. 「山外青山樓中樓，西湖歌舞幾時休？暖風燠得遊人醉，直把杭州當汴州。」此詩描述當時京城繁榮的景象外，也暗諷當時的人不懂的居安思危，忘記哪個事件的教訓？

- (A) 安史之亂 (B) 澶淵之盟 (C) 陳橋兵變 (D) 靖康之禍

5. 中國歷史上分為前、後期的朝代有很多，若依歷史來判斷，「前期統一天下，後期卻只能偏安南方」的是下列哪些朝代？

- (A) 周、漢 (B) 晉、宋 (C) 周、晉 (D) 漢、宋

6. 《射雕英雄傳》郭靖的父親在他年幼時遭到金兵殺害，母親逃難於蒙古，獨自將他一人扶養長大。他從小拜師「江南七怪」，後來在黃蓉的協助下，跟著「洪七公」學習「降龍十八掌」……。請問：下列哪一個國家最不可能出現在郭靖所處的時代中？

- (A) 遼國 (B) 西夏 (C) 金國 (D) 蒙古



5-4 元朝的統治

蒙古國的建立	時間	南宋中期，13 世紀初
	人物	_____： 1. 統一蒙古各部落，建立「蒙古國」 2. 被推舉為_____ 3. 鐵木真及繼位者先後亡 <u>西夏</u> 、滅 <u>金</u>
蒙古西征	經過	1. 共發動 <u>三次</u> 西征，建立橫跨歐、亞、非的大帝國 2. 四大汗國：窩闊臺、察合臺、欽察、伊兒（參考課本 p.125 地圖）
	影響	促進文化交流，如 <u>火藥</u> 傳到西方
建立元朝	建國者	_____ 建立元朝，是為「元太祖」
	首都	_____（北京）
攻滅南宋		1. 元世祖忽必烈於至元 16 年（西元 1279 年）滅 <u>南宋</u> 2. 蒙古族成為第一個統一中國的草原民族
元朝滅亡		1. 種族政策：_____ 人（地位最高，擔任中央到地方的重要官員）、_____ 人（多擔任財務職位）、_____ 人、_____ 人，其中漢人、南人在政治、法律、科舉等方面，都受到不平等的對待 2. 帝位爭奪、財政紊亂（貪官污吏、濫發紙幣）、荒災連年

【重點整理】請排列「北宋～元」間各國的亡國順序（提示：北宋、南宋、西夏、遼、金、元）



牛刀小試

單選題：共有 4 題，請將答案寫於題號之前

- 某一本中國古帝王實錄中記載著以下事蹟：「南下滅宋，建立元國……」。這本書的主角是誰？
(A) 鐵木真 (B) 忽必烈 (C) 王安石 (D) 岳飛
- 蒙古除了三次西征之外，還消滅中國境內的許多國家，下列何者不是被蒙古所滅？
(A) 西夏 (B) 遼 (C) 金 (D) 南宋
- 元帝國橫跨歐亞二洲，疆域遼闊。同學們討論造成元帝國衰亡的原因，下列說法何者不正確？
(A) 帝位紛爭 (B) 貪官污吏 (C) 種族歧視 (D) 藩鎮割據
- 在元朝，深受統治者的信任，多掌管經濟相關事務的是哪個階級人士？
(A) 蒙古人 (B) 色目人 (C) 漢人 (D) 南人



5-6 宋元的學術與文化


科學制度	宋	1. 內涵：宋代實行 <u>文人政治</u> ，以科學作為選拔人才的主要方式 2. 影響：加速社會流動，也逐漸形成「 <u>萬般皆下品，唯有讀書高</u> 」的風氣 3. 特色：_____、_____以防止作弊		
	元	以 <u>朱熹</u> 的「 <u>四書集注</u> 」作為科學考試的定本		
理學發展	1. 內涵：宋代儒學學者融合了佛、道思想，提出新的儒學觀念，強調品德修養，被後人稱為理學（又稱為新儒學） 2. 代表： <u>南宋</u> 的 <u>朱熹</u> ，他將_____、_____、_____、_____合稱四書，而他的四書集注則在元代成為科學考試的定本			
文化特色	文學	宋詞	代表： <u>蘇軾</u> 、 <u>李清照</u>	
		元曲	代表： <u>關漢卿</u> 、 <u>馬致遠</u>	
	史學	代表	北宋， <u>司馬光</u> ， <u>資治通鑑</u>	
		內容	中國第一部 <u>編年體通史</u> ，記錄戰國到五代的史事	
	藝術	宋朝	<u>宋徽宗</u> ，精通繪畫、書法，以「瘦金體」最具特色	
		元朝	<u>趙孟頫</u> ，將繪畫融入書法的技藝	
	科技	書籍	代表	北宋， <u>沈括</u> ， <u>夢溪筆談</u>
			內容	記載北宋當時的科技成就
		三大發明	<u>火藥</u>	1. 唐末：即有火藥武器 2. 北宋：應用於軍事上 3. 外傳：隨 <u>蒙古西征</u> 時，傳到歐洲等地
			<u>印刷術</u>	1. 發明：北宋， <u>畢昇</u> ，膠泥活字版印刷數 2. 特色：改良以往雕版印刷不能重新排版的缺點，並提升印刷效率 3. 影響：有助於教育普及 4. 外傳：隨 <u>蒙古西征</u> 時，傳到歐洲等地
<u>指南針</u>	1. 宋代：用於航海 2. 外傳：經 <u>阿拉伯人</u> 傳入歐洲，成為西方地理大發現的重要配備			



單選題：共有 13 題，請將答案寫於題號之前

- 宋代學者提出以理為主的儒學概念，主張理是宇宙生成根本的道理，人必須注重知識養成與道德實踐。當時學者是受到下列哪兩種思想的影響？
(A) 伊斯蘭教、道家 (B) 佛教、道家 (C) 道教、法家 (D) 基督教、墨家
- 資料一：記錄戰國到五代的史實。資料二：編年體通史的代表作。資料三：司馬光所著作編撰。由上述三項資料可得知，這應是對下列哪本書籍的描述？
(A) 《三國演義》 (B) 《夢溪筆談》 (C) 《資治通鑑》 (D) 《四書集注》
- 從「上品無寒門，下品無世族」，到「萬般皆下品，唯有讀書高」這兩者之間的轉變，主要是因為何種制度在宋元時期成為國家提拔人才的主要管道？
(A) 封建制度 (B) 察舉制度 (C) 科舉制度 (D) 九品官人法
- 顏齡是元代的讀書人，他如欲參加科舉考試，必須熟讀下列哪部書籍？
(A) 《資治通鑑》 (B) 《夢溪筆談》 (C) 《四書集注》 (D) 《漢書》
- 故宮博物院中蒐藏了許多歷代的墨寶，其中有一幅「鵲華秋色圖」出自某位元代大家，相傳這位畫家出身於宋朝宗室，他將書法的技藝融入於繪畫之中。這位畫家是下列何人？
(A) 宋徽宗 (B) 馬致遠 (C) 關漢卿 (D) 趙孟頫
- 我們欲欣賞「元曲」可到圖書館翻閱哪位文學家的作品？
(A) 蘇軾 (B) 李清照 (C) 司馬光 (D) 關漢卿
- 指南針西傳歐洲後，促成新航路的發現。指南針西傳的媒介是下列何者？
(A) 女真人 (B) 党項人 (C) 阿拉伯人 (D) 契丹人
- 現在的學生使用的課本不但印刷精美，插圖又生動活潑，這要歸功於印刷術的蓬勃發展，回顧中國歷史，活字版印刷術最早起源於哪位發明家的創舉？
(A) 沈括 (B) 畢昇 (C) 司馬光 (D) 張擇端
- 南宋時，他曾在廬山白鹿洞書院講學，制定學規。畢生精力用於著書立說、講學教徒。他集宋代理學之大成，建立一套完整的體系，後世視為理學正宗。上述指的是何人？
(A) 朱熹 (B) 蘇軾 (C) 司馬光 (D) 沈括
- 明代科舉取士的內容以四書、五經為主。所謂的四書不包括下列哪部書籍？
(A) 論語 (B) 中庸 (C) 莊子 (D) 大學
- 阿晉想要深入研究「開皇之治」、「貞觀之治」、「開元之治」等史事，可參考下列哪本史書？
(A) 《史記》 (B) 《漢書》 (C) 《三國演義》 (D) 《資治通鑑》
- 宋人大多有范仲淹「士當先天下之憂而憂，後天下之樂而樂」的胸襟，懷抱濃厚的社會責任感，形成特殊的士大夫文化。請問：該文化的形成與下列何者並無關聯？
(A) 宋代有重文輕武的風氣 (B) 經濟發達，城市生活多采多姿
(C) 科舉制度造成社會流動 (D) 理學成為當時的學術思想主流
- 小緯蒐集蘇軾、李清照、辛棄疾三人的生平事蹟寫了一篇報告，他想為這篇報告下個標題，下列哪個選項最適合？
(A) 熱衷研究的科學家 (B) 英勇的海外探險家
(C) 真情流露的音樂家 (D) 文情並茂的文學家

Ch6 明代與盛清的發展



6-1 明朝的盛衰

明太祖 朱元璋	建國	元朝末年，群雄並起， 朱元璋 脫穎而出，定都_____（南京），國號「明」
	內政 措施	<ol style="list-style-type: none"> 1. 因朱元璋出身民間，了解民生疾苦，故嚴懲官吏，減輕稅賦，改善經濟 2. 廢除_____制度：集國家大權於一身 3. 特務機關 - _____：監控臣民言行 4. 摧殘文人：_____（在殿廷上仗打朝臣）、_____（從文人的文章中摘取字句，羅織罪名，構成冤獄，並時常牽連許多人） 5. 分封諸子為王，以屏障皇室，造成日後骨肉相殘局面
明惠帝 朱允炆	之變 ：有鑒於諸王的視力太大，威脅中央，因此進行「削藩」，結果燕王朱棣不滿，起兵反抗，攻陷首都南京，惠帝失蹤，燕王自立為王，是為明成祖	
明成祖 朱棣	內政 措施	<ol style="list-style-type: none"> 1. 遷都_____、興建_____城 2. 疏通運河（_____大運河）：使南方物資能穩定運往北方、修築長城 3. 北伐蒙古：此時的明朝國勢達於極盛 4. 派遣_____下西洋：史明朝聲威遠播，提高國人向海外發展的興趣，奠定日後華僑在東南亞的社會、經濟基礎 5. 重用宦官，讓宦官主持特務機關 - _____：埋下宦官干政的種子
明神宗 朱翊鈞	衰亡 背景	明朝中期以後內憂外患問題嚴重：宦官把持大權，政風敗壞，又有黨爭問題；此外，長年對外用兵，使得財政負擔更加沉重
	改革 措施	_____的改革：言行考核，澄清吏治；整頓軍事，鞏固北方國防；實行_____法，將人民應繳納的田賦和勞役合併，按畝徵銀
	結果	<ol style="list-style-type: none"> 1. 張居正死後，改革後繼無人 2. _____黨爭：顧憲成在東林書院講學，議論朝政，獲得部分官員、文人的支持，被視為東林黨；僖宗時，反對東林黨的官員依附魏忠賢，互相迫害
邊界 外患	<ol style="list-style-type: none"> 1. 先有蒙古侵擾，後來又有女真人的進犯 2. 東南沿海常受到倭寇騷擾 	
流寇 之亂	<ol style="list-style-type: none"> 1. _____：天災不斷，大批災民與饑兵互相結合，形成「流寇」 2. 李自成、張獻忠勢力最大：西元 1644 年，李自成攻陷北京，思宗自縊殉國，明亡 	



單選題：共有 11 題，請將答案寫於題號之前

1. 依右圖內容，判斷是中國哪位皇帝的作為？

- (A) 明太祖 (B) 明惠帝
(C) 明成祖 (D) 明神宗

恐功臣威脅
政權

藉胡惟庸案
廢除丞相

集權、強化
君主專制

2. 元末，各地群雄並起，何人在江南士人協助下，建立明朝，定都應天，是為明太祖？

- (A) 劉邦 (B) 司馬炎 (C) 趙匡胤 (D) 朱元璋

3. 「將田賦與力役合併折錢，依土地面積徵收銀兩，使賦役貨幣化，簡化政府徵收手續。此外，政府雇人服役，亦讓農民有時間從事更多生產活動。」以上是明代哪位皇帝在位期間的改革？

- (A) 明太祖 (B) 明惠帝 (C) 明成祖 (D) 明神宗

4. 廷杖是指在朝廷杖責大臣的刑罰，不僅屈辱，並可能傷殘，甚至致死。中國歷史上首先設立廷杖折辱大臣的是何人？

- (A) 明太祖 (B) 明惠帝 (C) 明成祖 (D) 明神宗

5. 東廠是明代的特務機關，由宦官主掌，專職刺探情報與監視臣民。可逮捕、審訊嫌疑犯，而不須經由司法機關同意。此機關始設立於何時？

- (A) 明太祖 (B) 明惠帝 (C) 明成祖 (D) 明神宗

6. 主張嚴行考核吏治、整頓軍事、鞏固北疆、行一條鞭法，將田賦和力役折錢，按畝徵銀的是誰？

- (A) 徐光啟 (B) 張居正 (C) 鄭和 (D) 魏忠賢

7. 明末陝西發生嚴重饑荒，災民與長期缺餉的士兵結合，四處劫掠，其中勢力最大的是哪些人？

- (A) 李自成、顧憲成 (B) 李自成、張獻忠 (C) 顧憲成、胡惟庸 (D) 胡惟庸、張獻忠

8. 明初曾實施海禁政策，阻礙了中國對外貿易的進行。當時明太祖禁止人民出海的主要原因為何？

- (A) 防範倭寇 (B) 防鄭氏侵擾 (C) 防日本侵略 (D) 禁止歐洲人來中國

9. 中國歷史在朝代快滅亡時，往往老百姓受苦最多，最後官逼民反，老百姓就跟政府拼了。明朝末年的民亂事件，其領袖有下列何人？

- (A) 張獻忠 (B) 黃巢 (C) 朱元璋 (D) 吳三桂

10. 《明史》對於明思宗的評價如下：「性多疑而任察，好剛而尚氣。任察則苛刻寡恩，尚氣則急遽失措。」這位皇帝死於哪場亂事？

- (A) 黃巾之亂 (B) 流寇之亂 (C) 黃巢之亂 (D) 三藩之亂

11. 海山電視頻道為了製作「闖王李自成」節目而遠赴中國拍攝場景。若根據李自成為亂區域位置分布，他們的拍攝場景主要位於右圖哪個流域？

- (A) 甲 (B) 乙
(C) 丙 (D) 丁





6-2 清朝的建立與盛世

一、清朝的建立

清帝	大事紀
<u>清太祖</u>	明朝末年，東北的 <u>女真族</u> 在努爾哈赤的領導下崛起，他建國號金（史稱後金），起兵犯明
<u>清太宗</u>	皇太極繼位後，改國號「 <u>清</u> 」，改族名為「 <u>滿洲</u> 」
<u>順治帝</u> (<u>清世祖</u>)	1. 流寇攻陷北京， <u>明</u> <u>山海關</u> 守將_____降清，引清兵入關 2. 清兵逐一消滅流寇與南明勢力
_____ 帝 (<u>清聖祖</u>)	1. 平定吳三桂為首的「_____之亂」 2. 攻克臺灣，穩定清朝的統治

二、清朝的統治政策：高壓懷柔並行

高壓	1. 屠殺抗清人士 2. 強迫漢人 <u>薙髮留辮</u> ：要求漢人依滿洲人習俗薙髮留辮，表示臣服，否則處死 3. 大興 <u>文字獄</u> 、嚴禁士人結社 (1) 雍正年間，徐駿：「明月有情遠顧我，清風無意不留人」→ 死！ (2) 千龍年間，胡中藻：「一把心腸論濁清」→ 死！
懷柔	1. 禮遇明朝遺臣 2. 舉行科舉

三、康雍乾盛世

皇帝	基本介紹	康雍隆盛世 - 簡介
_____ 帝 (<u>清聖祖</u>)	1. 愛新覺羅玄燁 (1654~1722, 66 歲) 2. 在位約 61 年 (次久)	1. <u>康熙</u> 穩定清朝統治的基礎 (1) 1681 年，平定三藩之亂 (2) 1683 年，派遣施琅攻克臺灣 2. 康雍乾皆勤於政事，文治武功強盛 3. 由盛轉衰： <u>乾隆中期</u> 以後，因揮霍無度，財政日漸困難，加上官員貪污腐敗，人民生活困苦，清朝逐漸走中衰
_____ 帝 (<u>清世宗</u>)	1. 愛新覺羅胤禛 (1678~1735, 53 歲) 2. 康熙第四子，在位約 12 年	
_____ 帝 (<u>清高宗</u>)	1. 愛新覺羅弘曆 (1711~1799, 88 歲) 2. 雍正第四子，在位約 63 年 (最久)	



單選題：共有 11 題，請將答案寫於題號之前

1. 清初分封明降將為三藩，爵位可世襲。□□有鑑於三藩勢力對政權產生威脅，欲撤其封號，因而激起三藩舉兵叛變。上文中□□指的是哪位皇帝？
(A) 順治 (B) 康熙 (C) 雍正 (D) 乾隆
2. 歷史老師說：「明亡後，他原本已投降李自成，但後來得知在北京的家人遭到迫害，愛妾陳圓圓被奪，衝冠一怒為紅顏，轉而投降滿清，引清兵入關。老師講述的是何人的事蹟？
(A) 吳三桂 (B) 李自成 (C) 努爾哈赤 (D) 張獻忠
3. 有史學家曾指出 1644 年，中國出現三位皇帝，除入關的順治皇帝之外，尚有下列哪些人？
(A) 神宗、顧憲成 (B) 惠帝、張獻忠 (C) 熹宗、胡惟庸 (D) 思宗、李自成
4. 下列是某本傳記的部分記載：「東北的女真族在他的領導下崛起，並創建八旗制度，將所有人民都編到旗下，亦兵亦農，形成一個強而有力的組織。」由內容研判，傳記中的主角是誰？
(A) 努爾哈赤 (B) 皇太極 (C) 清聖祖 (D) 清高宗
5. 歷史上有「和珅跌倒，嘉慶吃飽」一語，是說哪位清朝皇帝在位時寵信和珅，吏治逐漸敗壞，國勢也開始由盛轉衰？
(A) 清聖祖 (B) 清世宗 (C) 清高宗 (D) 清太宗
6. 下列何人統一女真部落，創滿文，組織八旗，建國號「金」？
(A) 努爾哈赤 (B) 皇太極 (C) 清聖祖 (D) 清高宗
7. 滿清入關後為籠絡人心，曾採取哪項措施？
(A) 實施科舉取士 (B) 鼓勵集會結盟 (C) 要求薙髮留辮 (D) 大興文字獄
8. (甲) 吳三桂引清兵入關 (乙) 平定三藩之亂 (丙) 平定流寇 (丁) 施琅攻臺 (戊) 消滅南明。請問：滿清統一中國的順序為何？
(A) 甲乙丙丁戊 (B) 甲丙戊丁乙 (C) 丙甲戊乙丁 (D) 甲丙戊乙丁
9. 若要探討秦始皇與康熙帝的共同點，下列敘述何者正確？
(A) 他們都有修建長城與運河 (B) 他們都對統一中國做出貢獻
(C) 他們都是屬於漢人的政權 (D) 他們都是該朝代第二位皇帝
10. 有關乾隆晚期以後之敘述，下列何者錯誤？
(A) 多次戰爭，財政困難 (B) 貪贓枉法，吏治敗壞
(C) 官員烏力，民生困苦 (D) 下令削藩，引起三藩之亂
11. 下列何者並非康雍乾盛世的代表人物？
(A) 清聖祖 (B) 清太宗 (C) 清高宗 (D) 清世宗



6-3 明清的經濟發展

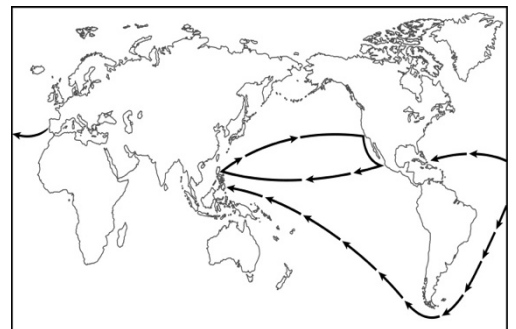
農業	1. 傳入： <u>明朝</u> 中期以後， <u>玉米</u> 、 <u>蕃薯</u> 與 <u>馬鈴薯</u> 等 <u>美洲作物</u> 傳入中國 2. 影響：這些作物耐旱多產，減緩當時因人口增加而造成的糧食不足問題		
手工業	明清時期，手工業分工日益精密，專業市鎮紛紛興起，如江西 <u>景德鎮</u> 的 <u>青花瓷</u>		
國內商業	1. _____：明清，商業蓬勃發展，形成地域性的商人集團，稱「商幫」(山西、徽州) 2. _____：商人在各大城市建立會館，作為同鄉人士寄宿聯絡或商業往來的居所		
對外貿易	明朝	<u>海禁政策</u>	目的：為了防範倭寇
	清朝		目的：為了抵制鄭氏政權
	康熙	將臺灣收入版圖，解除海禁，對外貿易活絡	
	雍正	中外貿易只准在_____州進行	
貨幣發展	1. 明初貨幣元以紙幣為主，銅幣為輔，後來因紙幣濫發，嚴重貶值，民間拒絕使用 2. 因對外貿易長期出超，白銀自海外大量輸入，取代了紙幣 3. 形成「_____」、「_____」並用的制度，一直持續到清朝末期		



牛刀小試

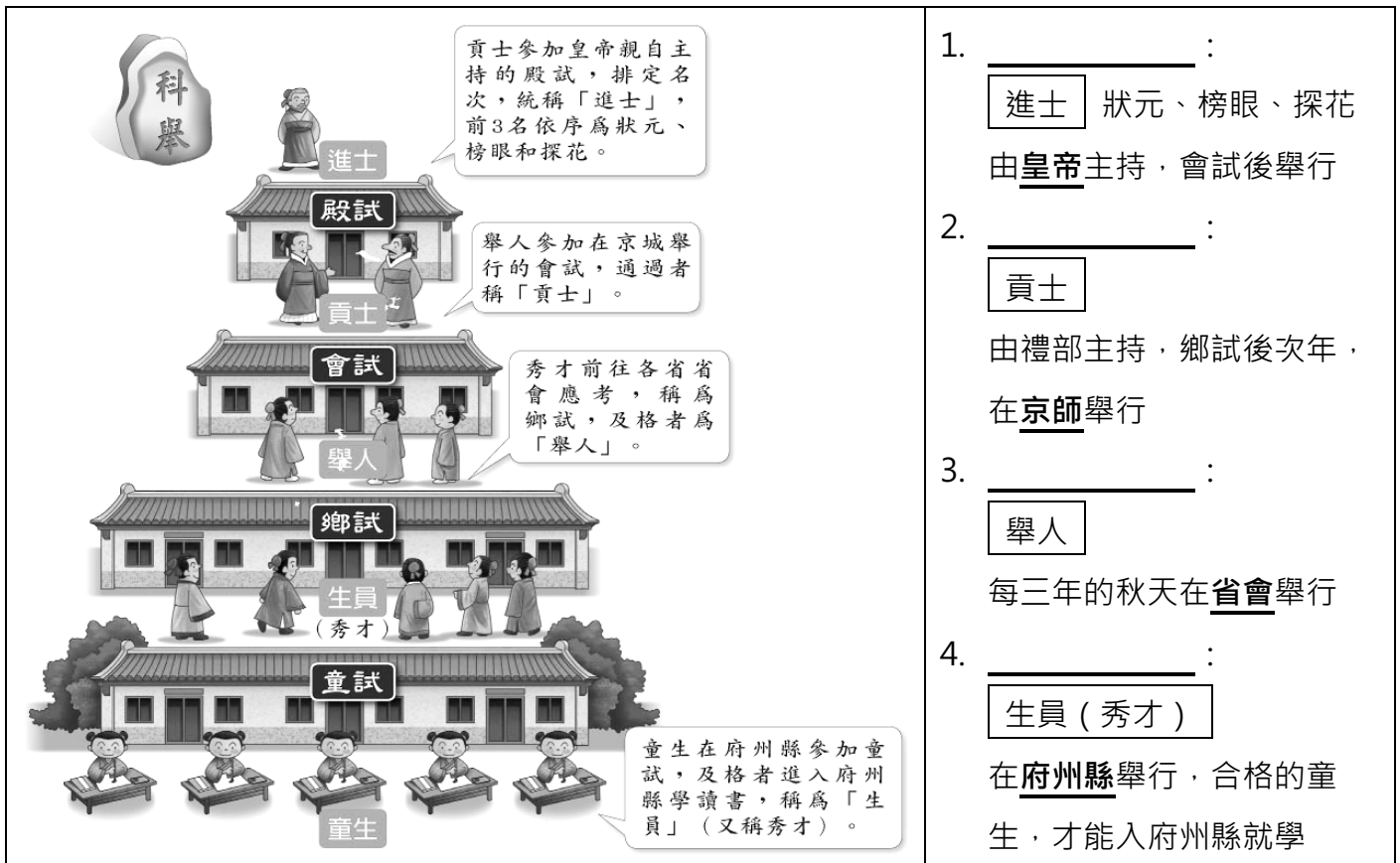
單選題：共有 4 題，請將答案寫於題號之前

- 下列關於明清經濟之敘述，何者錯誤？
(A) 新作物如番薯、玉米自非洲傳入 (B) 商業繁榮，形成地域性的商幫組織
(C) 使用貨幣以銅錢與白銀並用為主 (D) 專業市鎮的興起，例如江西景德鎮
- 關於明朝實施海禁政策的敘述，下列何者正確？
(A) 為了打擊鄭氏政權而實施 (B) 為防堵倭寇而實施
(C) 只准許鄭和進行航海行為 (D) 臺灣納入版圖後才解除
- 右圖為明末東西貿易路線——海上絲路，西班牙人以何種貨幣交換東方物品？
(A) 銅錢 (B) 白銀 (C) 黃金 (D) 紙幣
- 盛清時期，僅開放廣州一口，做為外國商人貿易的地點，由公行代理，外國人不可直接與中國人進行貿易。這應是哪位皇帝在位時的施政？
(A) 順治 (B) 康熙 (C) 雍正 (D) 乾隆





6-4 科舉與士紳階級



1. _____ :
進士 狀元、榜眼、探花
由皇帝主持，會試後舉行
2. _____ :
貢士
由禮部主持，鄉試後次年，
在京師舉行
3. _____ :
舉人
每三年的秋天在省會舉行
4. _____ :
生員 (秀才)
在府州縣舉行，合格的童
生，才能入府州縣就學

1. 考試內容：以「四書」、「五經」為命題範圍
2. 格式：嚴格規範文章字數與格式，稱爲「八股文」(要求排比對偶，文分八大部分)
3. 影響：屬於僵化的考試方式，對讀書人的思想造成很大的束縛
4. 待遇：明清對於通過科舉的是人與官員相當禮遇，形成「士紳階級」，享有司法特權，並能夠免除勞役，在身份地位、生活服儀等方面有很大的區隔。但身份並非世襲，若仕紳的後代不求上進，則將淪為平民；而平民通過科舉，則能晉升為士紳



牛刀小試

單選題：共有 2 題，請將答案寫於題號之前

1. 中國目前有個反應科舉制度的博物館：「江南貢院陳列館」，是中國古代最大的科舉考場。當時南京為江南省首府，而「貢院」所舉行的考試屬於下列哪一種？
(A) 童試 (B) 鄉試 (C) 會試 (D) 殿試
2. 舉人梁山伯「十年寒窗苦讀」，將赴京城趕考，請問他參加的是何種國家考試？
(A) 童試 (B) 鄉試 (C) 會試 (D) 殿試



6-5 明清的文化成就

文學	<p>明清文學主流：「<u>小說</u>」</p> <p>1. 明：羅貫中「_____」、施耐庵「_____」、吳承恩的「_____」</p> <p>2. 清：曹雪芹「_____」</p>
科技	<p>1. 代表：明朝的<u>宋應星</u>，《<u>天工開物</u>》</p> <p>2. 內容：記載中國農業、手工業等生產技術與操作方法</p>
醫藥	<p>1. 代表：明朝的<u>李時珍</u>，《<u>本草綱目</u>》</p> <p>2. 內容：記載藥物近兩千種，及中國古代藥物學之大成</p>

重點整理：唐至清代的文學主流

朝代	文學主流	代表人物 (作品)	
唐	詩	「詩仙」李白 「詩聖」杜甫	
宋	詞	蘇軾、李清照	
元	曲	關漢卿、馬致遠	
明	小說	羅貫中	三國演義
		施耐庵	水滸傳
		吳承恩	西遊記
清		曹雪芹	紅樓夢



6-6 中西的文化交流與中斷

背景	<u>明朝中期</u> (15世紀末)：歐洲人發現到東方的新航路
國家	<p>1. <u>葡萄牙</u>：最早藉由海路直達中國，並以_____作為貿易據點</p> <p>2. 西班牙：曾佔領菲律賓為貿易據點</p> <p>3. 荷蘭：曾佔領臺灣</p>
媒介	<p>1. 西方商人</p> <p>2. 天主教耶穌會：明末清初，傳教士<u>利瑪竇</u> → 傳教特點：為博得中國士人的好感，允許教徒可以祭祖拜孔</p>
文化交流	<p>1. 將西方科技傳入中國</p> <p>(1) 火砲、天文曆法</p> <p>(2) 數學：利瑪竇和明朝大臣_____，合譯術學著作<u>幾何原本</u></p> <p>(3) 地理學：_____ <u>皇帝</u>命傳教士赴全國各地測量，繪成<u>皇輿全覽圖</u>，是中國第一部畫有經緯線的的圖</p> <p>2. 中國文物的西傳：瓷器、中國典籍、園林建築等</p>
中斷	<p>1. _____ <u>皇帝</u>「<u>禁教</u>」：雍正即位後，因傳教士涉及宮廷政爭，故下令禁教</p> <p>2. 影響：此後百年正是西方政治、科技快速發展的時期，中國失去跟上西方腳步的機會</p>

西班牙與葡萄牙新航路圖 (務必留意西、葡人的路線差異)



牛刀小試

單選題：共有 7 題，請將答案寫於題號之前

- 這是一部世界上使用最久的教科書，於明朝末年，由西洋傳教士傳入中國，為中西文化交流開啟了新頁。上文所描述的是哪部書籍？
(A) 幾何原本 (B) 天工開物 (C) 本草綱目 (D) 皇輿全覽圖
- 「他於明末來到中國傳教，因尊重中國人祭祀孔子的傳統，因而大受士大夫的歡迎。他是將天主教傳入中國的第一人。」上文敘述的是哪位天主教傳教士的事蹟？
(A) 利瑪竇 (B) 吳承恩 (C) 馬偕 (D) 徐光啟
- 明中葉以後，歐洲人東來貿易傳教，直到哪位皇帝在位時，因傳教士捲入皇位之爭，而皇帝下令禁教，中西文化交流因此中斷？
(A) 順治 (B) 康熙 (C) 雍正 (D) 乾隆
- 小緯在網路上購買〈中國博物館系列—天工開物 DVD〉，應會介紹到下列何人的事蹟？
(A) 宋應星 (B) 吳承恩 (C) 李時珍 (D) 曹雪芹
- 「這本小說不僅闡揚關羽、張飛等人忠義的精神，且能增人智謀，對中國民間思想的影響極大。右圖為該本小說中的一則插畫。」上文是史學家對哪本小說的推崇？
(A) 《三國演義》 (B) 《水滸傳》 (C) 《西遊記》 (D) 《紅樓夢》
- 如欲研究清代貴族生活的腐敗與當時的社會生活，可參考哪部小說？
(A) 《三國演義》 (B) 《水滸傳》 (C) 《西遊記》 (D) 《紅樓夢》
- 西班牙人以美洲白銀來購買中國絲綢等物品的航線，被稱為海上絲路，請問明清時期，除了西班牙以馬尼拉為貿易據點外，尚有哪國人以澳門作為對中國貿易據點？
(A) 荷蘭人 (B) 英國人 (C) 葡萄牙人 (D) 西班牙人