


# Ch5 政黨與利益團體



## 5-1 政黨的意義與功能

意義	政黨是由一群具有相同政治理念的人所組成的團體	
目的	贏得選舉，取得政府的權力與職位，進而實現其政治理念	
功能	<b>組織政府與監督政府</b>	1. <u>          </u> 黨：選舉獲勝而掌握行政權，可組織政府，制定與執行各項政策 2. <u>          </u> 黨：選舉中未能獲選的政黨，有監督政府之責
	<b>培育與甄選政治人才</b>	透過黨內審核提名候選人，參加公職人員的選舉。如政黨多半透過黨內初選的方式，篩選候選人
	<b>匯集民意與服務選民</b>	1. 設置黨部或服務處：提供選民基本服務 2. 建立溝通管道：收集民眾意見，並將政府施政傳遞給人民
	<b>教育民眾增進民主知能</b>	民眾可以透過政黨活動，學習如何參與政治、意見表達和利益維護。此外，亦可宣導政治理念與政策，強化選民的政治認知



牛刀小試

單選題：共有 12 題，請將答案寫於題號之前

- 2016 年的總統大選，國民黨進行黨內初選後，原先推出代表洪秀柱柱柱姐，但卻在選前三個月之際，提案開臨時全代會，決定壞上國民黨主席朱立倫剪綵王，代打上陣，結果大輸民進黨。請問：辦理初選，應有助於治黨發揮哪個功能？  
(A) 匯集民意                      (B) 教育民眾                      (C) 服務選民                      (D) 徵選人才
- 晉緯是為剛上任的鮮肉立法委員，他發表聲明：「日後將結合各地同黨市議員，成立聯合服務處，對於民眾絕不會有黨派之分與身家調查。」請問：此份聲明稿中，反應政黨在民主國家中扮演下列何種角色？  
(A) 匯集民意                      (B) 教育民眾                      (C) 服務選民                      (D) 徵選人才為迎戰
- 2020 年的總統大選，各政黨紛紛進行黨內初選，希望推出最好的代表，贏得選舉。而辦理黨內初選，最有助於政黨發揮哪一項功能？  
(A) 匯集民意                      (B) 教育民眾                      (C) 服務選民                      (D) 徵選人才

4. 在民主政治的運作過程中，為了匯集民意，表達民意，促成政府與人民間的有效溝通，可以藉由哪種制度的健全運作來達成此目標？
- (A) 政黨政治                      (B) 均權制度                      (C) 地方自治                      (D) 五權分立
5. 每逢選舉之前，許多政黨常會使用電話訪問方式進行民意調查，藉此了解選民對有意參選者的支持度，作為辦理初選或輔選的參考。政黨上述做法的目的為何？
- (A) 組織政府                      (B) 監督施政                      (C) 招募新黨員                      (D) 推荐候選人
6. 某國政黨積極推動「檢討健康保險制度」的議題，針對現行政策存在的問題、理想的運作模式和可能的調整方向提出諸多討論，上述內容最能說明政黨的何項功能？
- (A) 主導組織政府                      (B) 提升民主素養                      (C) 推薦候選人才                      (D) 推擬定公共政策
7. 比較執政黨與在野黨，下列敘述何者正確？
- (A) 只有執政黨才能夠設立選民服務處                      (B) 在選舉中勝出的政黨便成為執政黨
- (C) 在野黨指派黨內成員擔任政府職位                      (D) 質詢與監督政府屬於執政黨的工作
8. 當執政黨組成的政府提出新的政策或法案時，在野黨便會針對此政策或法案提出評論與建議。這是政黨的哪項功能？
- (A) 民意的匯集與表達                      (B) 政治菁英的培育和甄選
- (C) 監督政府的施政內容                      (D) 促進民眾對政治的認知
9. 許多政黨在大學校園內舉辦活動，希望能藉此招募新進黨員，並宣揚其政治理念以及主張。政黨在此發揮了哪項功能？
- (A) 民意的匯集與表達                      (B) 組織政府與監督政府
- (C) 政治菁英的培育和甄選                      (D) 促進民眾對政治的認知
10. 每次選舉時，各政黨總是全力規劃競選活動，也提出競選政見以爭取選民認同。民眾藉由參與政黨的活動，了解政黨所主張的政治理念，此作為能展現政黨的哪項功能？
- (A) 推荐候選人參與選舉                      (B) 增長民眾的政治認知
- (C) 組織政府與監督政府                      (D) 匯集民意與服務選民
11. 朝野政黨候選人針對未來政見，透過電視辯論，讓民眾也能藉此了解國家重大議題。這是政黨的哪項功能？
- (A) 民意的整合與表達                      (B) 培育和甄選政治人才
- (C) 增長人民的政治認知                      (D) 組織政府與監督政府
12. 臺北市政府工程處進行橋墩維修工程，未進行妥善防護，導致河川遭受汙染。反對黨市議員批評市府未善盡監督責任，要求市府回應。上述為下列何種政黨功能？
- (A) 組織政府或監督政府                      (B) 推荐候選人參與選舉
- (C) 服務選民與匯集民意                      (D) 藉機透過記者會替自己造勢



## 5-2 政黨制度的型態

型態	制		制	制
	制	制		
內涵	執政黨不允許其他政黨挑戰其執政地位，甚至不允許反對黨的存在	國家只有一個政黨長期在國會擁有過半席次，小黨無法與該大黨抗衡	國家不只兩個政黨，而是有兩個勢均力敵的政黨，故此兩大黨經常交替執政	國家有三個以上的政黨在國會中佔有一定席次，但沒有政黨可取得過半席次
執政黨	壟斷政府權力	長期擁有多數席次	兩黨選舉競爭執政權	沒能擁有過半席次
小黨	不允許競爭或存在	小黨無法與之抗衡	缺乏執政權	具影響政治關鍵地位
特色	權力集中，有效推動政府決策		兩黨制衡，體現政黨政治的精神	組成 <u>聯合政府</u> ，有利推動政府政策
問題	人民缺乏表達意見機會，缺乏其他的政黨監督	缺乏抗衡、監督政府的力量，執政黨容易出現腐敗現象	忽略少數聲音，無法反映不同階層、職業的意見	政黨之間較容易出現衝突，且責任不清，降低行政效率
舉例	中國、古巴	新加坡	美國	德國、義大利、荷蘭

【猜猜看】下列四張漫畫，各自代表某一種政黨的型態，請根據內容，寫出分別屬於何種型態？





單選題：共有 8 題，請將答案寫於題號之前

- 「在法律上，這個國家只允許一個政黨存在，不容許其他的政黨與之並存。」依據上文判斷，這是哪種政黨體制？  
(A) 多黨制 (B) 一黨專政制 (C) 兩黨制 (D) 一黨獨大制
- 某國境內有兩個主要的政黨存在，兩大政黨皆有機會取得政權，但還是得透過選舉與其他小黨公平競爭。請問：上述國家是何種政黨體制？  
(A) 多黨制 (B) 一黨專政制 (C) 兩黨制 (D) 一黨獨大制
- 在某些國家，長期由單一的政黨掌握政權，雖有其他政黨合法存在，但小黨的政治實力無法和這個大黨相抗衡，這是哪種政黨體制？  
(A) 多黨制 (B) 一黨專政制 (C) 兩黨制 (D) 一黨獨大制
- 北韓長期由共產黨執政，並不允許其他政黨的存在。由此可知，北韓屬於哪種政黨體系的國家？  
(A) 多黨制 (B) 一黨專政制 (C) 兩黨制 (D) 一黨獨大制
- 若一個國家內存在許多政黨，卻沒有任何一個政黨可以在國會選舉中獲得過半數的席次。在這種情形下，各政黨必須互相合作，組成聯合政府來施政。下列哪一配對符合上述政黨政治型態？  
(A) 多黨制：德國 (B) 一黨獨大：英國 (C) 兩黨制：中國 (D) 一黨專政：新加坡
- 下表是 2013 年德國聯邦議院 ( 德國國會 ) 的選舉結果，由表中的資訊可知，下列何者為德國政黨政治的型態？

政黨分類	基督教民主聯盟	社會民主黨	左派黨	綠黨	基督教社會聯盟
當選席次	40.5%	30.5%	10.2%	10%	8.8%

- (A) 多黨制 (B) 一黨專政制 (C) 兩黨制 (D) 一黨獨大制
- 下表是四個國家的政黨政治運作情形。依表中資料推斷，哪國政府最可能採行聯合政府的型態？

國家	政黨數	國會席次比例
(A)	2	A黨85%、B黨15%
(B)	6	C黨60%、D黨40%
(C)	108	E黨45%、F黨25%、G黨20%、H黨10%
(D)	12	I黨80%、J黨17%、其他3%

- 目前世界上大多數國家皆有政黨組織，政黨制度也各有不同，其中兩黨制是具代表性的一種政黨制度型態。下列關於兩黨制的敘述，何者錯誤？  
(A) 國內只有兩個政黨，例如美國 (B) 兩黨互相制衡得以對彼此形成約束力  
(C) 缺點為較難反映各階層的民意 (D) 小黨雖能合法參政，但難取得執政權



## 5-3 政黨政治的運作原則

<b>依法組黨 公平競爭</b>	1. 結社自由：《憲法》保障人民結社自由 2. 組成政黨：民眾可根據《政黨法》，向 _____ 部申請備案設立政黨 3. 公平競爭：建立公平競爭的環境，各政黨有合理使用公共場地、傳播媒體等權利
<b>國家人民 利益優先</b>	面對政黨之間的競爭時，應以人民福祉為優先，國家整體需求為依歸，共同謀求國家社會的進步，而非流於一黨之私，指圖謀一黨之利益，阻礙國家發展
<b>尊重包容 不同政黨</b>	1. 多數決原則：遵守少數服從多數，多數尊重少數的原則 2. 政黨協商：無論什麼政黨，都需協商與溝通，尋求雙贏方案，創造全民最大福祉



### 牛刀小試

單選題：共有 5 題，請將答案寫於題號之前

- 各政黨在競爭的過程中，政府與大眾傳播媒體不得偏袒或打壓某一政黨，以建立良性競爭的環境。上述為何種政黨政治的運作原則？
 

(A) 依法組黨與公平競爭                      (B) 國家與人民利益優先

(C) 服從多數與尊重少數                      (D) 尊重包容與理性協商
- 在議會中，由於不同政黨對於法案內容見解不盡相同，為盡速通過法案，黨團協商有其必要性。上述為何種政黨政治的運作原則？
 

(A) 依法組黨與公平競爭                      (B) 國家與人民利益優先

(C) 服從多數與尊重少數                      (D) 尊重包容與理性協商
- 若占國會多數席次的執政黨不理會在野黨的意見與主張，將造成政黨惡鬥，影響國家建設。這是違反了何種政黨政治的運作原則而造成的結果？
 

(A) 依法組黨與公平競爭                      (B) 國家與人民利益優先

(C) 服從多數與尊重少數                      (D) 尊重包容與理性協商
- 朝野政黨對於健保法的修法內容擁有不同意見，為了使法案的修正能順利通過，則需要經由黨團協商。上述為何種政黨政治的運作原則？
 

(A) 依法組黨與公平競爭                      (B) 國家與人民利益優先

(C) 服從多數與尊重少數                      (D) 尊重包容與理性協商
- 立法院曾被國外媒體批評為「無能國會」，並列舉臺灣國會的各種作秀亂象，此現象違反政黨運作的何項原則？
 

(A) 依法組黨與公平競爭                      (B) 國家與人民利益優先

(C) 服從多數與尊重少數                      (D) 尊重包容與理性協商



## 5-4 政黨輪替

意涵	透過選舉，原本的執政黨敗選成為在野黨，在野黨勝選成為執政黨，就稱為_____	
發展過程	早期	過去長期由中國國民黨執政，到民國_____年解嚴後，人民才能合法組織政黨
	轉折	民國 89 年，民主進步黨贏得總統大選，開啟政黨輪替的新局面
	現今	1. <b>第二次政黨輪替</b> ：民國_____年，執政黨為國民黨（時任總統為馬英九） 2. <b>第三次政黨輪替</b> ：民國_____年，執政黨為民進黨（時任總統為蔡英文）
意義	1. 政黨輪替是檢視國家是否民主化的指標之一 2. 可讓各政黨相互制衡，也可使政黨在制定與施行政策時，更能充分對人民負責	
缺失	缺乏尊重與包容：各政黨為了贏得選戰，候選人常會有言語暴力、抹黑造謠、激化對立等行為，相當不可取	



單選題：共有 3 題，請將答案寫於題號之前

- 「政府的組成是基於人民的同意，而這是臺灣政治第三度的總統換人做做看，也是告訴全世界，人民鐘擺效應，才能維護安定的國家局勢，也是為全世界民主政治立下一個典範。」上述為某則新聞的報導內容，根據其內容判斷，下列何者最可能是該新聞的標題？
 

(A) 一黨專政            (B) 政黨輪替            (C) 聯合政府            (D) 多黨制度
- 多數執政、少數監督是政黨政治運作的重要原則，這種原則主要是採取哪種運作方式？
 

(A) 贏得選舉的政黨之黨員人數，必須要比監督施政的政黨人數還多  
(B) 大選中獲得多數票的政黨負責執政，而得票較少者負責監督政府  
(C) 執政黨必須是該國國內人數最多的族群，人數少者負責監督施政  
(D) 執政黨分配多數的黨員組織內閣，並執行政策，被稱為「在野黨」
- 解嚴以後臺灣對於政黨的自由大幅增加，而關於臺灣政黨政治的敘述，下列何者正確？
 

(A) 民國 76 年前，我國政黨數量過多，政局不穩  
(B) 民國 85 總統直選後，人民可自由組成政黨  
(C) 民國 97 總統選舉後，出現第二次政黨輪替  
(D) 民國 105 總統選舉結束，國民黨取得執政權



## 5-5 民主社會中的利益團體

### 一、利益團體的基本概念

項目	說明	
意涵	由一群具有共同理念或利益的人組成，欲影響政府政策的制定與執行，以維護團體利益	
類型	依照成立目的與服務對象的不同，可分為基於自身利益或公共利益而組成的團體： 1. <b>自身利益</b> ：工會、同業公會 2. <b>公共利益</b> ：消費者保護團體、婦女團體、環保團體、教育改革團體等	
運作	1. <b>宣傳理念</b> ：利用傳播媒體宣傳團體的理念與目標 2. <b>遊說</b> ：向政府官員或民意代表提出要求，以保障團體的利益 3. <b>支持</b> 理念相同的公職候選人 4. <b>請願</b> ：《請願法》第二條「人民對國家政策、公共厲害或其權益之維護，得職權所屬之民意機關或主管行政機關請願」 5. <b>遊行示威</b> ：《集會遊行法》第一條「保障人民集會、遊行之自由，維護社會秩序」	
功能	正面	1. 反映民眾意見：表達特定團體與族群的意見 2. 提供專業建議：提供立法機關在不同層面的專業問題之建議與看法
	負面	利益團體若只關注自身利益，而不考量公共利益，則對國家社會有不好的影響

### 二、利益團體與政黨的比較

項目	利益團體	政黨
目的	保障、增進團體成員或公眾的利益	取得執政權
途徑	請願、遊說、示威遊行、媒體宣傳等	參加選舉活動
參與選舉方式	支持理念相同的候選人	推出候選人參選
政策面向	與團體裡亦有關的特定政策	提出全面性的政策
舉例	1. 勵馨基金會：反雛妓、兒童性侵、單親婦女 2. 陽光基金會：顏面損傷及燒傷者	1. 民進黨 2. 時代力量

【閱讀題組】請仔細閱讀下列文章內容，回答第 1~3 題：

每到秋冬季節，臺灣的空氣品質問題都非常嚴重，尤其是會致癌的細懸浮微粒（PM2.5）的濃度總是偏高。樹黨、臺灣健康空氣行動聯盟、臺灣水資源保育聯盟、護樹聯盟等全臺多個環保團體，為了呼籲政府重視相關議題，除了製作宣導影片說明空氣汙染的危害外，更在 2015 年 6 月 6 號舉辦「606 反空氣汙染全臺大遊行」活動。邀請民眾戴上口罩、防毒面具，在全臺 9 縣市同步展開遊行、健走，並向政府提出包括課徵能源稅、修法擴大綠地、校園升空汙旗等具體訴求，以期改善空氣品質，維護民眾健康。

1. 文中提到的臺灣水資源保育聯盟是基於何種目的所形成的利益團體？  
 成員自身利益       公共利益
2. 上述環保團體運用了哪些方式來表達其訴求？（複選）  
 利用傳播媒體宣揚理念       向政府陳情、請願  
 提名候選人參加選舉       號召民眾走上街頭遊行
3. 為了讓環保理念可更具體地成為政策或法令，下列哪個團體最有可能提名候選人投入選戰？  
 樹黨       臺灣健康空氣行動聯盟       護樹聯盟       臺灣水資源保育聯盟




單選題：共有 4 題，請將答案寫於題號之前

1. 臺灣環境保護聯盟與臺灣生態學會與召開記者會，呼籲各界重視白海豚的生存問題。有關上述團體的敘述，下列何者是正確的？  
(A) 他們是科技產業團體      (B) 他們是社會性團體  
(C) 他們屬於政治性團體      (D) 他們是職業性團體
2. 政黨和利益團體的成立，皆須依循下列何種法律的規範？  
(A) 《選舉罷免法》      (B) 《國家安全法》  
(C) 《人民團體法》      (D) 《集會遊行法》
3. 利益團體與政黨是現代國家常見的人民團體，關於兩者之訴求主張與運作方式的敘述，下列哪一項錯誤？  
(A) 利益團體會支持與其立場相同的候選人      (B) 政黨在運作時應以國家及人民利益為優先  
(C) 利益團體會透過集會遊行表達自身訴求      (D) 政黨只關心與自己黨員利益相關的政治議題
4. 利益團體為了達成其目的，常常會透過大眾傳播媒體宣傳其理念，向政府進行各種活動來表達訴求，企圖影響政府的決策或法案的通過。下列何種活動不包括在內？  
(A) 進行示威抗爭      (B) 推荐候選人參選  
(C) 遊說大眾與辦理講座      (D) 向相關行政機關陳情或開記者會



# Ch6 政治參與和選舉



## 6-1 政治參與的意義

### 一、權能區分

意義	<b>權能區分理論</b> 由孫中山提出，主張人民有_____，政府有_____。	
角色	政府	人民的公僕，以專業能力治理國家
	人民	享有參與政治的權利，選賢與能
功能	若政府無法增進人民福祉，人民有權依法更換。人民透過政治參與和選與，成為國家主人	

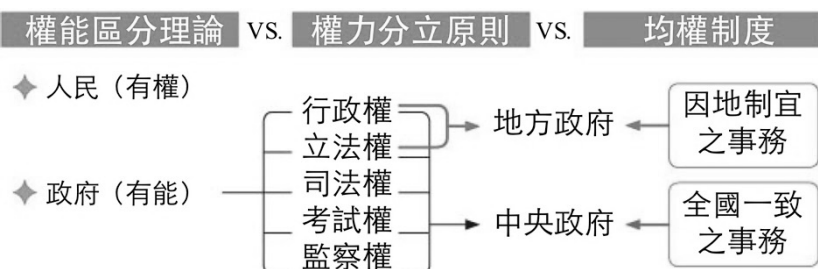
### 二、政治參與

內涵	人民關心政治或企圖對政治事務發揮影響力的所有活動
方式	1. 常見方式：關心時事、與他人討論政治、捐款給政黨或候選人、參加遊行、投入政黨活動、參與選舉及公民投票、擔任政府官員 2. 其中，最普遍也最重要的方式為_____
功能	1. 了解政府的運作 2. 體認公民對社會的責任 3. 落實主權在民的理念

#### 【概念澄清】「國民」與「公民」

- 國民：凡具有中華民國國籍者，即為我國的國民
- 公民：年滿\_\_\_\_\_歲的國民，享有選舉權

#### 【概念澄清】「權能區分」、「權力分立」與「均權制度」





## 6-2 選舉的意義與功能

選舉的意義		
公民基於個人意願，依法選出行政首長或民意代表等公職人員的過程		
選舉的功能		
對象	內容	
對選民	<u>選出公職人員</u>	選民可依據候選人提出的政見與平時參與政治事務的表現，選出適合的公職人員，代表人民制定法律和管理國家事務
	<u>影響政府決策</u>	選民可藉由選舉，對於政黨與候選人所提出的政策與公共議題，表達支持或反對的態度，進而影響政府政策的制定，藉此提供選民影響決策的機會
對政黨	<u>合法取得政權</u>	透過定期選舉，使獲勝的政黨取得執政的合法性與正當性，也有助於政權的和平轉移，維持政局的穩定與延續（政權轉移）
對政府	<u>展現責任政治</u>	<u>定期選舉</u> ：透過選舉可以檢視執政者的施政效能，使執政黨克盡己職，展現良好的政績，繼續贏得選民的支持，否則很可能在下次選舉中遭到汰換，成為在野黨，為執政失敗負起責任
	<u>合法組成政府</u>	<u>政黨輪替</u> ：經由選舉過程，當一政黨取得多數民意的支持，就可獲得組成政府的合法性而成為執政黨



牛刀小試

單選題：共有 12 題，請將答案寫於題號之前

- 政治參與的方式有很多種，其中下列哪種方式是最普遍的方式？  
 (A) 參與選舉            (B) 議論政治            (C) 遊行抗議            (D) 加入政黨
- 民主政治強調人民主動參與，下列各項行為，屬於政治參與的有幾項？(甲)選舉；(乙)參加利益團體；(丙)投書到市長信箱；(丁)出席里民會議。  
 (A) 一項            (B) 二項            (C) 三項            (D) 四項
- 民國九十八年的花蓮縣長選舉中，三位候選人都以「興建蘇花高速公路」為主要政見。這三位候選人的訴求，是希望能發揮選舉的哪項功能？  
 (A) 展現責任政治    (B) 政權合法轉移    (C) 影響政府決策    (D) 進行政黨輪替

4. 民主國家中，政黨透過選舉進行理性競爭，若在野黨在大選中擊敗執政黨而取得政權，也不會造成社會動盪。以上內容最能顯現選舉的哪項功能？
- (A) 選出公職人員 (B) 影響政府決策 (C) 政權合法轉移 (D) 展現責任政治
5. 第八屆立委選舉結果，中國國民黨取得 64 席，民進黨攻下 40 席，親民黨與臺聯都是 3 席，無黨籍 1 席，無黨團結聯盟是 2 席。由上述內容可見選舉的哪種功能？
- (A) 選出公職人員 (B) 影響政府決策 (C) 政權合法轉移 (D) 展現責任政治
6. 人民為了選出心目中理想的候選人，可以透過下列哪些方式達到了解候選人的政見？(甲) 參加政見發表會；(乙) 參考民意支持度；(丙) 收看候選人電視辯論會；(丁) 關心選舉新聞
- (A) 甲乙丙 (B) 甲乙丁 (C) 甲丙丁 (D) 乙丙丁
7. 公民投票支持理想的候選人，使候選人能順利當選，以實踐競選時的承諾。若從人民角度而言，這最能說明選舉的哪些功能？(甲) 選出公職人員；(乙) 影響政府決策；(丙) 合法轉移政權；(丁) 展現法治政治
- (A) 甲乙 (B) 甲丁 (C) 乙丙 (D) 乙丁
8. 在民主國家中，下列哪位人士的行為屬於參與政治的方法？
- (A) 小齊每天收看報紙關心明星緋聞 (B) 小丸子參加興建核能電廠的公聽會
- (C) 王大明參加社區舉辦的登山健行 (D) 宜亭每逢假日到海邊參與淨灘活動
9. 晉緯是海山高中三年級的學生，他每天收看電視新聞來關心現今社會的政治發展；此外，他還可以用哪種方式來參與政治？
- (A) 到立法院和立法委員共同制定法律 (B) 參加公職人員選舉，以獲得執政權
- (C) 透過公民投票直接投下神聖的一票 (D) 平時和身邊師友討論國家重要大事
10. 民主政治非常重視人民對政治事務的參與。下列敘述中，哪項不是政治參與所能發揮的功能？
- (A) 政府施政將更加貼近民意 (B) 可以落實主權在民的理想
- (C) 提升政府形成決策的正當性 (D) 人民必須以政府的意見為主
11. 選舉的功能很多，下列關於選舉主要功能的敘述，哪項錯誤？
- (A) 人民透過選舉選出適合的公職人員 (B) 執政者努力實現競選政見以求連任
- (C) 政黨提出競選政見以爭取執政機會 (D) 人民發動革命，用武力推翻執政者
12. 選舉的功能很多，下列有關選舉功能的敘述，哪項錯誤？
- (A) 選民可以透過公民投票，影響政府政策的制定
- (B) 可以推荐優秀人才進入政壇，取得在野的機會
- (C) 執政黨因為選舉壓力，必須克盡職責為民興利
- (D) 藉定期選舉檢視政府效能，落實政權合法轉移



## 6-3 選舉的原則與過程

### 一、選舉的原則

原則	內涵
<u>原則</u>	1. 基本概念：凡具有中華民國國籍並年滿_____歲 <sup>1</sup> 的國民，戶籍設在選舉區達_____個月以上（選舉總統、副總統必須設籍達_____個月以上），且 <u>未受監護宣告</u> 者，皆享有投票權，不因其財產、性別、種族、階級等而受影響 2. 受監護宣告：指因精神障礙或其他心智缺陷，以致沒有能力處理自己事務，法院得做出監護宣告
<u>原則</u>	每位選民的選票數皆相同，而且每張選票具有同等價值，也就是「 <u>一人一票、票票等值</u> 」的原則
<u>原則</u>	由選民自己投票選出行政首長或民意代表，不須透過他人代表行使選舉權，以落實 <u>主權在民</u> 的理念
<u>原則</u>	1. 內涵：選民能依照個人的自由意志，圈選自己支持的候選人，確保選舉的自由 2. 目的：避免人情包袱及可能遭受的威脅利誘 3. 作法：必須使用投票所提供的專用戳章，不得在選票上註記個人姓名、不可亮票、不得強制他人公開選票 4. 別稱：又稱「 <u>祕密投票原則</u> 」



單選題：共有 12 題，請將答案寫於題號之前

- 沙烏地阿拉伯國王宣告該國女性將擁有投票權及地方議會參選權，使當地女性歡欣鼓舞，此宣告也寫下該國八十年以來歷史性的一頁。這則新聞說明之前沙烏地阿拉伯關於參政權的限制，違反哪項選舉的原則？  
 (A) 普通原則      (B) 平等原則      (C) 直接原則      (D) 無記名原則
- 小緯投票時太緊張，誤將自己的印章蓋在選票上。他的行為已經違反哪項選舉原則？  
 (A) 普通原則      (B) 平等原則      (C) 直接原則      (D) 無記名原則

3. 下列哪項選舉原則，可以保障選民的安全不受威脅？  
 (A) 普通原則 (B) 平等原則 (C) 直接原則 (D) 無記名原則
4. 為避免選民受到任何形式的威脅利誘，選民在投票時不用在選票上註記姓名，也禁止以任何方法公開自己的選票。上述措施主要是基於哪種選舉原則而設的規定？  
 (A) 普通原則 (B) 平等原則 (C) 直接原則 (D) 無記名原則
5. 昌佑在返鄉投票的旅程中發生了車禍，無法親自投票，於是拜託爸爸幫他投下神聖的一票。上述昌佑的行為違反哪項選舉原則？  
 (A) 普通原則 (B) 平等原則 (C) 直接原則 (D) 無記名原則
6. 歐美國家在選舉制度剛出現時，有許多人因為受到財產、性別或種族等限制，而沒有投票權。這些限制違反哪種選舉原則？  
 (A) 普通原則 (B) 平等原則 (C) 直接原則 (D) 無記名原則
7. 在 1996 年以前，我國所舉行的總統副總統選舉，是由人民選出國民大會代表後，再由國民大會代表選舉總統副總統。這種作法與現今的哪種選舉原則不符？  
 (A) 普通原則 (B) 平等原則 (C) 直接原則 (D) 無記名原則
8. 投票時，不分性別、宗教、種族和身分之貴賤，「票票等值」，這是指選舉的哪種原則？  
 (A) 普通原則 (B) 平等原則 (C) 直接原則 (D) 無記名原則
9. 在投票場所外，四位人士正在討論選舉的原則，其中哪位說法最符合選舉的「平等原則」？  
 (A) 花輪：人人平等，每個公民都有投票權 (B) 丸尾：一人一票，票票等值  
 (C) 美環：每一票都能彰顯主權在民的精神 (D) 野口：票票有效，絕無廢票
10. 我國目前投票的規定中，下列哪項內容有助於實現無記名的原則？  
 (A) 禁止攜帶手機或攝影機進入投票所 (B) 投票時須攜帶身分證、印章及投票通知單  
 (C) 任何人不得在投票所進行宣傳活動 (D) 選民應於規定之投票時間內到投票所投票
11. 我國法律保障人民投票的權利，依據《公職人員選舉罷免法》規定，右表中的哪一人符合該年底縣市長選舉投票的資格？
- |    |              |
|----|--------------|
| 存含 | 今年十月剛從越南嫁來臺灣 |
| 唯杰 | 因精神障礙被法院宣告監護 |
| 紫欣 | 因犯罪被法院宣告褫奪公權 |
| 語哲 | 剛滿可以考汽車駕照的年齡 |
- (A) 存含 (B) 唯杰  
 (C) 紫欣 (D) 語哲
12. 我國《憲法》規定，選舉共分為四種原則，其中下列哪項配對是正確的？  
 (A) 直接原則—投票權不受性別或種族等影響  
 (B) 普通原則—每個選民的選票具有相同效力  
 (C) 平等原則—選民可自由圈選支持的候選人  
 (D) 無記名原則—選民不得在選票上面做記號

## 二、選舉的過程

### (一) 選舉的流程

主要流程	內涵										
登記參選	<p>可由政黨提名，或自行登記參選，且<u>須符合一定的參選資格</u>，並在規定時間內向選務機關辦理參選登記</p> <table border="1"> <tr> <td>1. 自行登記參選：以無黨籍身份向選務機關登記</td> <td>總統、副總統</td> <td>40 歲</td> </tr> <tr> <td rowspan="3">2. 正副總統候選人須由政黨提名，無黨籍者須公民連署達到一定門檻才可以登記參選</td> <td>直轄市長、縣市長</td> <td>30 歲</td> </tr> <tr> <td>鄉鎮市長、直轄市山地原住民區長</td> <td>26 歲</td> </tr> <tr> <td>村里長、民意代表</td> <td>23 歲</td> </tr> </table>	1. 自行登記參選：以無黨籍身份向選務機關登記	總統、副總統	40 歲	2. 正副總統候選人須由政黨提名，無黨籍者須公民連署達到一定門檻才可以登記參選	直轄市長、縣市長	30 歲	鄉鎮市長、直轄市山地原住民區長	26 歲	村里長、民意代表	23 歲
1. 自行登記參選：以無黨籍身份向選務機關登記	總統、副總統	40 歲									
2. 正副總統候選人須由政黨提名，無黨籍者須公民連署達到一定門檻才可以登記參選	直轄市長、縣市長	30 歲									
	鄉鎮市長、直轄市山地原住民區長	26 歲									
	村里長、民意代表	23 歲									
競選活動	候選人在規定的時間內，可發放宣傳海報、舉辦政見發表會或是造勢晚會，以傳達自己的政見，爭取選民的支持										
投票	在投票日當天，具備投票資格的選民，必須攜帶國民身分證、印章（可用簽名或蓋指印代替）及投票通知單，親自前往戶籍所在地的投票所投票										
開票、計票	投票時間結束後，立即由投票所進行開票，並將開票結果送往主管選務機關彙整統計（由行政院中央選舉委員會負責中央級選舉，各直轄市和縣市的選舉委員會則負責地方層級的選舉）										
公布選舉結果	主管選務機關確認開票結果無誤後，即公告當選人名單										

### (二) 選舉資格的規定

資格	選舉人資格	被選舉人資格
積極資格	國籍	擁有中華民國國籍
	年齡	年滿 <u>20 歲</u>
	設籍規定	<p>1. 戶籍設在選舉區達 <u>4 個月</u>以上</p> <p>2. 正副總統須設籍達 <u>6 個月</u>以上</p>
消極資格	不得受監護宣告	<p>1. 不得受監護宣告</p> <p>2. <u>不得被褫奪公權</u></p>



單選題：共有 8 題，請將答案寫於題號之前

1. 因精神障礙或心智缺陷，不能為意思表示或是受意思表示，或不能辨識其意思表示之效果者，本人、配偶、最近親屬兩人等可以向法院聲請下列何者？  
(A) 監護宣告 (B) 褫奪公權 (C) 剝奪親權 (D) 強制收容
2. 下列為我國各項民選的公職人員：(甲)總統與副總統；(乙)鄉(鎮、市)長；(丙)村(里)長；(丁)縣(市)長。若依其參選年齡的限制由高至低排列，順序應為何？  
(A) 甲丁乙丙 (B) 甲乙丙丁 (C) 丙丁乙甲 (D) 甲乙丁丙
3. 投票結束，各個投開票所開完票後，應由哪個機關負責公布選舉結果？  
(A) 鄉鎮市公所 (B) 考試院銓敘部 (C) 選舉委員會 (D) 大眾傳播媒體
4. 我國選舉活動的進行，有法定的程序，依照時間的先後順序，下列哪項排列是正確的？  
(A) 競選→投票→開票→公告結果→登記 (B) 褫登記→競選→投票→開票→公告結果  
(C) 競選→投票→開票→登記→公告結果 (D) 競選→登記→投票→開票→公告結果
5. 依據我國法律規定，有關選舉權的行使，何者正確？  
(A) 受監護宣告者，可由家人代為行使投票 (B) 必須繼續居住在該選舉區達一定期間以上  
(C) 褫奪公權者沒投票權，但是有被選舉權 (D) 只要具備我國國籍，就一定都會有選舉權
6. 每當選舉結果出爐時，總是幾家歡樂幾家愁。在我國，落選者如果對於選舉結果不服，可以採取哪種行動尋求解決？  
(A) 採取法律訴訟，要求重新驗票 (B) 發動選民連署，要求重新投票  
(C) 集合支持者向勝選者示威抗議 (D) 發送黑函，指控對方選舉舞弊
7. 投票權是憲法保障的公民參政權之一，根據我國法律對選舉人身分的規定，下列哪位民眾無法享有投票權？  
(A) 定居雲林縣，經常到美國出差的阿傑 (B) 因犯罪而被法院宣告褫奪公權的小威  
(C) 25 歲，受監護宣告尚未撤銷的阿貴 (D) 92 歲，長年居住在臺北市的王老先生
8. 下列四位國民中，哪位具有 2019 年 1 月總統選舉的投票資格？  
(A) 從出生至今一直都住在桃園市，今年剛滿 18 歲的晉緯  
(B) 高齡 85 歲的美籍牧師海威爾，居住在某地長達 5 個月  
(C) 2018 年 1 月才取得國籍的清桃，定居在臺南市 2 年多  
(D) 15 歲就讀國中三年級的倫倫，居住在台北市 6 個多月



## 6-4 我國的選舉概況與公民投票

### 一、公職人員選舉

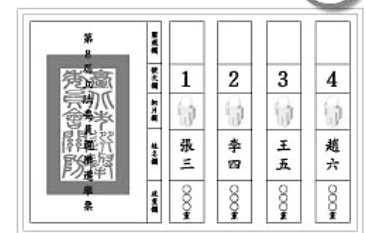
#### (一) 各公職人員選舉的種類與任期

區域	法源依據	公職人員名稱		參選最低年齡	連任規定	任期
中央 層級	總統副總統 選舉罷免法	國家 元首	總統、副總統	_____歲	連選得連任 _____次	4年
	公職人員選 舉罷免法	民意 代表	立法委員	_____歲	連選得連任	
地方 層級	公職人員選 舉罷免法	行政 首長	直轄市長、縣(市)長	_____歲	連選得連任 _____次	
			鄉(鎮、市)長 直轄市山地原住民區長	_____歲		
			村里長	_____歲	連選得連任	
		民意 代表	直轄市、縣(市)議員	_____歲	連選得連任	
鄉(鎮、市)民代表 直轄市山地原住民區代表						

#### (二) 立法委員選舉：單一選區兩票制

法源	憲法修正條文
席次	立法委員席次共 113 席
單一選區	每一選區只選出一名區域委員
兩票制	每位選民有兩張選票，一票選人，一票選黨
席次分配	由政黨得票比例超過 5% 的政黨，依據得票比例分配 <u>全國不分區立委席次</u>

區域立委選舉票



政黨選舉票





## 二、公民投票

### 公民投票的概念

為了落實我國憲法中人民創制、複決之權利，立法院於民國 92 年制定公民投票法，藉由全國性與地方性的公民投票，讓人民直接參與公共政策的決定，以實踐主權在民的理念

項目	創制權	複決權
內涵	人民有主動提出立法原則或制定政策的權利	人民以投票的方式，對法律或政策表達同意或反對的權利

### 全國性公投與地方性公投

性質	提案與連署	公告	投票	結果
全國性	1. 人民提案、經全國性公審會通過、人民連署 2. 立法院提案 3. 總統交付	中央選舉委員會應於 10 日內，為公民投票案成立之公告	凡 <u>年滿 18 歲</u> 的國民，並在公民投票案的所在地設籍超過 <u>6 個月以上</u> ，且 <u>未受監護宣告者</u> ，即具有投票權	1. 有效同意票 > 不同意票 2. 有效同意票 > <u>1/4</u> 投票總人數 3. 若不通過，該議題 2 年內不得再提出
地方性	人民提案、經地方性公審會通過、人民連署	經由各地方選舉委員會公告成案		



單選題：共有 9 題，請將答案寫於題號之前

【題組】監察委員指出，合併選舉是多數人民的共識，在就職日期不變的前提下，可將下任總統與副總統選舉投票日提前到民國 105 年的 1 月 16 日，與第九屆立法委員選舉合併舉行，如此既不違法，也不用修法。請回答 1~2 題：

- 下列關於此次「二合一」選舉的敘述，哪項錯誤？
 

(A) 每一位選民將會拿到三張選票	(B) 不分區立委候選人不必向選務機關登記
(C) 立委選舉的投票共計有兩張	(D) 總統與副總統選舉的票只有一張
- 根據我國法律的規定，下列關於總統與副總統選舉的敘述，哪項錯誤？
 

(A) 總統副總統參選人均須年滿 40 歲以上	(B) 總統副總統在登記前就應找到搭配人選
(C) 總統副總統任期不受連選得連任 1 次限制	(D) 正副總統候選人要參選都需有政黨的推荐

3. 我國在民國 98 年年底舉辦縣市長選舉，99 年舉辦五都直轄市長選舉。下列哪項地方政府的前後組合，正好是舉辦此兩種選舉的地方政府機關？
- (A) 新竹市、高雄市 (B) 斗六市、臺中市  
(C) 嘉義市、宜蘭縣 (D) 花蓮市、臺南市
4. 小晉上班途中看到一張掛於大樓牆面的競選宣傳海報，上面寫著「縣府的監工，縣民的志工」，若依照競選標語來判斷，宣傳海報上的候選人應在競選何種公職人員？
- (A) 立法委員 (B) 臺北市長  
(C) 湖口鄉長 (D) 花蓮縣議員
5. 阿緯伯連續擔任同一地方公職人員已經 20 多年，今年決定不再競選連任。依上述判斷，他最有可能擔任下列何種職務？
- (A) 副總統 (B) 新北市長  
(C) 屏東市民代表 (D) 立法委員
6. 我國公職人員的類型有很多，下列關於公職人員選舉的敘述，哪項錯誤？
- (A) 民意代表連選得連任 (B) 正副總統連選得連任 1 次  
(C) 直轄市市長連選得連任 (D) 民選公職人員的任期皆為 4 年
7. 第七次修憲後，我國立法委員選舉制度有了重大改革，應選 113 席中包含區域立委、不分區立委和原住民立委。有關立法委員選舉的現行制度，下列何者正確？
- (A) 候選人必須年滿 26 歲 (B) 任期 4 年，得連選連任 1 次  
(C) 方式為單一選區兩票制 (D) 受褫奪公權者可登記參選
8. 下表為各行政機關與民意代表的發言內容，這四位參選職務的年齡限制，由小到大依序為何？

甲	我代表新北市民，進到議會負責監督新北市政府的預算案
乙	連續兩件的新竹縣老縣長，即將在本年底宣告退休
丙	獅潭鄉鄉長發布今年度採柑橘化祭活動，正式開跑
丁	總統代表我國與中國領導人習近平進行會面

- (A) 甲乙丙丁 (B) 乙丙甲丁  
(C) 甲丙乙丁 (D) 丁乙丙甲
9. 根據我國法律的規定，下列關於總統與副總統選舉的敘述，哪項錯誤？
- (A) 總統副總統參選人均須年滿 40 歲以上  
(B) 總統副總統在登記前就應找到搭配人選  
(C) 總統副總統任期不受連選得連任一次的限制  
(D) 總統副總統候選人要參選都需有政黨的推荐