


Ch1 晚清的變局



1-1 中西的貿易衝突

項目	西方國家	中國
背景	15 世紀末期，由於新航路的發現，歐洲商人陸續東來，與中國進行貿易	1. _____ 禁教：中西交流受阻 2. _____ 開放 <u>廣州</u> 為唯一通商口岸
心態	欲與中國建立平等往來關係	中國以「天朝」自居，自認為是世界的中心
貿易限制	1. 乾隆年間僅開放廣州一地，作為唯一的通商口岸 2. 外商只能透過 _____ 進行交易	
中英交涉	時間	18 世紀中期之後
	原因	1. 英國因積極發展工商，企圖擴展中國市場 2. 英國大量購買中國 <u>絲</u> 、 <u>茶</u> 、 <u>瓷器</u> ，但能賣給中國的商品有限，導致貿易入超嚴重
	經過	兩度派遣特使來中國 1. <u>乾隆</u> 年間 (1793)：(祝壽名義) _____ (參考右圖) 2. <u>嘉慶</u> 年間 (1816)： _____
結果	因「 <u>天朝體制</u> 」與「 <u>禮節</u> 」問題（覲見皇帝須跪拜），皆不歡而散	



【註】天朝體制：以中國為宗主國，由周邊藩屬國家前往朝見、進貢，以換取冊封與保護

【故・事】馬嘉爾尼：乾隆原本很歡迎馬嘉爾尼等人的來訪，但得知他們的真實目的後，就不大愉快了；加上雙方又因為下跪問題產生歧見，局面變得更僵。雖然後來乾隆准許馬嘉爾尼以單膝下跪的方式覲見，但仍不接受任何通商要求。馬嘉爾尼等人只好無功而返。然而，由於乾隆想讓英國瞧瞧大清帝國的富強，便讓他們沿路南下，並派大臣接待。結果，馬嘉爾尼曾言：「大清帝國像是一艘破爛的舊船，幸好靠著幾位能幹的船長謹慎掌舵，才得以航行 150 年未沉沒。它以龐大身軀使鄰國畏懼，但若來了個能力不足的人掌舵，船並不會立刻沉沒，但它會隨波逐流，最後在岸邊撞個粉碎，且永不得修復」。



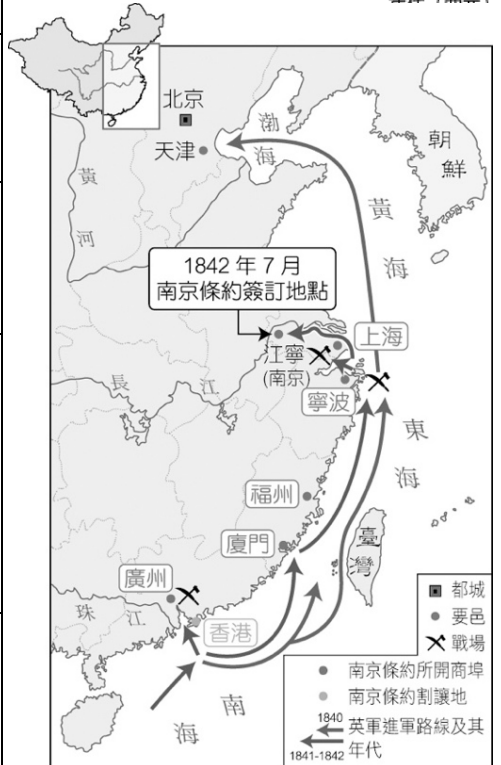
單選題：共有 10 題，請將答案寫於題號之前

1. 清高宗年間，清廷僅開放下列哪個城市作為通商口岸，讓外國商人在此進行貿易？
(A) 廣州 (B) 泉州 (C) 漳州 (D) 杭州
2. 清朝早期為了管理外國商人，只開放一個口岸通商。因此，當時歐洲哪個國家曾派遣特使來華交涉，希望中國能放寬通商限制？
(A) 美國 (B) 法國 (C) 英國 (D) 俄國
3. 清朝在《中英南京條約》簽訂之前，外國人在中國經商，官方上僅能透過下列哪個組織？
(A) 行郊 (B) 公行 (C) 洋行 (D) 市舶司
4. 下列何人曾於乾隆時期來到中國要求放寬貿易限制，但最後卻敗興而歸？
(A) 利瑪竇 (B) 馬可波羅 (C) 馬加爾尼 (D) 阿美士德
5. 英國為了改善雙方貿易，曾經派遣阿美士德使節團到中國禁星交涉，結果因與中國天朝思想、禮節問題等再次不歡而散。請問：當時在位的皇帝應為下列何者？
(A) 康熙 (B) 雍正 (C) 乾隆 (D) 嘉慶
6. 鴉片戰爭之前，英國商人來中國購買的商品中，不包括下列何種商品？
(A) 茶葉 (B) 鴉片 (C) 瓷器 (D) 絲織品
7. 「十八世紀末英國曾派遣使者前來晉見中國皇帝……」請問：當時前來中國的使者，其使命最可能是下列何者？
(A) 商業往來 (B) 宗教傳播 (C) 文化交流 (D) 外交平等
8. 下列哪位皇帝裁併中外通商地點於廣州一口？
(A) 康熙 (B) 雍正 (C) 乾隆 (D) 嘉慶
9. 明朝中期以後，由於新航路的發現，歐洲人東來，清朝為了管理及防範外國商人，有許多通商限制，下列哪一項「並非」當時的通商限制？
(A) 通商口岸僅限於廣州一地 (B) 外商只能透過公行進行交易
(C) 外商不准直接與官方往來 (D) 貿易糾紛由外國政府來主持
10. 18 世紀中期，英國積極發展工商業，希望開拓中國市場，試圖打破中國的通商限制，有關英國所做的努力，下列敘述何者正確？
(A) 曾先後於嘉慶、道光年間遣使來華商談通商問題
(B) 當時的來華特使，包括英國的利瑪竇與阿美士德
(C) 中英雙方因天朝體制和跪拜禮節問題都無功而返
(D) 英國堅持以和平談判方式，解決中英的通商問題



1-2 鴉片戰爭

背景	1. 西方熱愛中國商品，使中國賺取不少白銀 2. 英國為平衡貿易，積極走私鴉片到中國：吸食者眾多、 <u>白銀外流</u>	<table border="1"> <caption>數量 (箱)</caption> <thead> <tr> <th>年代 (西元)</th> <th>數量 (箱)</th> </tr> </thead> <tbody> <tr> <td>1799</td> <td>4,000</td> </tr> <tr> <td>1820</td> <td>7,889</td> </tr> <tr> <td>1825</td> <td>12,576</td> </tr> <tr> <td>1830</td> <td>20,331</td> </tr> <tr> <td>1835</td> <td>35,445</td> </tr> <tr> <td>1839</td> <td>40,200</td> </tr> </tbody> </table>	年代 (西元)	數量 (箱)	1799	4,000	1820	7,889	1825	12,576	1830	20,331	1835	35,445	1839	40,200
年代 (西元)	數量 (箱)															
1799	4,000															
1820	7,889															
1825	12,576															
1830	20,331															
1835	35,445															
1839	40,200															
導火線	1. <u>皇帝派遣</u> 到廣州查禁鴉片，使英商遭受龐大經濟損失 2. 英國為了保障商務利益，決定派兵進攻，引發 <u>戰爭</u>															
時間	<u>道光</u> 20~22 年 (西元 1840~1842 年)															
經過	沿海地區相繼失守，清廷戰敗求和															
簽約	1. 道光 22 年 (1840 年)：簽訂 <u>南京條約</u> 2. 條約內容：賠款、割讓香港、五口通商 (<u> </u> 、 <u>寧波</u> 、 <u>福州</u> 、 <u> </u> 、 <u>廣州</u>)															
續約內容	說明															
<u>領事裁判權</u>	1. 意義：外國人在中國犯罪，不受中國法律的管制，而由該國領事依該國法律來處理 2. 影響： <u>破壞了中國司法的獨立與完整</u>															
<u>協定關稅</u>	1. 意義：中國須與外國政府協議貨物進口到中國的關稅 2. 影響： <u>破壞了中國的關稅自主權</u>															
<u>片面最惠國</u>	1. 意義：指兩國在通商、稅收等方面互相給予優惠。但清廷與外國簽訂的條約，往往只片面給予外國優惠，中國卻不能享有對等權益，而且中國給予別國新的權利，有最惠國待遇的國家也能獲得同樣權利 2. 影響：不平等的對待															
<u>租界</u>	1. 意義：在中國的通商口岸畫定一塊區域，供外國人士居住、經商，而後竟不受中國政府管轄 2. 影響： <u>破壞了中國領土主權的完整</u>															
影響	1. 美、法等國亦與中國簽約，比照英國享有同樣權益 2. <u>開啟近代中國不平等條約的序幕</u> ，影響長達百年之久															



【故·事】**虎門銷煙**：英國商人走私鴉片以圖謀暴利，清廷為了剷除鴉片之害，道光皇帝派林則徐到廣州查禁鴉片。林則徐以封鎖外國商館的方式，逼迫英商繳出兩萬餘箱鴉片（約 230 公斤），在虎門（廣州西南方，珠江出海口處）進行銷煙工作。林則徐先讓士兵們在海灘上挖兩個大池子，並鋪上石條、釘板等防止滲漏，再將水車推入池子並撒鹽，將切片的鴉片投入鹵水中，並放石灰浸泡約半小時，最後再將這些銷毀的鴉片放流至大海。



單選題：共有 11 題，請將答案寫於題號之前

- 從英國人的觀點來看，中英「鴉片戰爭」的主要原因應是下列何者？
(A) 鴉片問題 (B) 禮節問題 (C) 貿易限制 (D) 禁教問題
- 某位英國官員說到：「將來大皇帝有恩師於他國，我們英國人可一體適用」，這種片面、無條件的最惠國待遇，始於清末何時？
(A) 道光年間 (B) 乾隆年間 (C) 光緒年間 (D) 雍正年間
- 近代中國在某次戰敗後，與列強簽訂不平等條約，其內容包括賠款、割讓香港、開放五口通商、廢除公行壟斷……等。由條約內容來看，這應該與下列何場戰爭有關？
(A) 英法聯軍 (B) 中法戰爭 (C) 甲午戰爭 (D) 鴉片戰爭
- 下列何人以「數十年後，中原幾無可禦敵之兵，且無可以充餉之糧」，說服道光皇帝查辦鴉片？
(A) 林則徐 (B) 洪秀全 (C) 曾國藩 (D) 李鴻章
- 清朝後期，外國人可以在中國租借土地，提供給該國人民居住，而該國在其土地上可以行使行政權等，不受中國法律約束。請問：上述是指外國人在華的哪種特權？
(A) 設立租界 (B) 片面最惠國 (C) 協定關稅 (D) 領事裁判權
- 近代英國得以殖民香港，是始於下列哪個條約的簽訂？
(A) 北京條約 (B) 南京條約 (C) 天津條約 (D) 廣州條約
- 清朝中晚期，外國人在中國犯罪不用接受大清律法的審判，而是交由該國的領事按該國法律行使司法審判，請問：這是因外國人享有哪一項權利？
(A) 設立租界 (B) 片面最惠國 (C) 協定關稅 (D) 領事裁判權
- 清末，美、法人士對清廷官員說：「你們給英國的特權，我國要求比照辦理，不過，我國不會給你們相同的特權。」上述情形應與鴉片戰爭後列強所得的哪項特權有關？
(A) 設立租界 (B) 片面最惠國 (C) 協定關稅 (D) 領事裁判權
- 右表「白銀流出」的主要原因為何？
(A) 鴉片輸入 (B) 開放通商口岸
(C) 海禁政策 (D) 朝貢貿易盛行
- 鴉片戰爭是清末西方勢力入侵的第一場戰役，請問：此戰事發生的主要原因為何？
(A) 讓中國見識西方的船堅砲利 (B) 為擴張英國在亞洲的領土疆域
(C) 英國介入皇位繼承宮廷政爭 (D) 為保障英國在中國的商務利益
- 道光 20 年鴉片戰爭，清廷戰敗，與英國簽訂南京條約，有關南京條約的敘述，下列何者正確？
(A) 南京條約內容包括：割讓香港、九龍司給英國
(B) 開放的通商口岸中，最北為天津，最南為廣州
(C) 給英國許多特權，例如協定關稅、公使駐京等
(D) 此條約是近代中國所簽訂的第一個不平等條約

時間	外流的白銀數量
道光三年以前	數百萬兩
道光三年至十一年	一千七百萬兩
道光十一年至十四年	二千餘萬兩



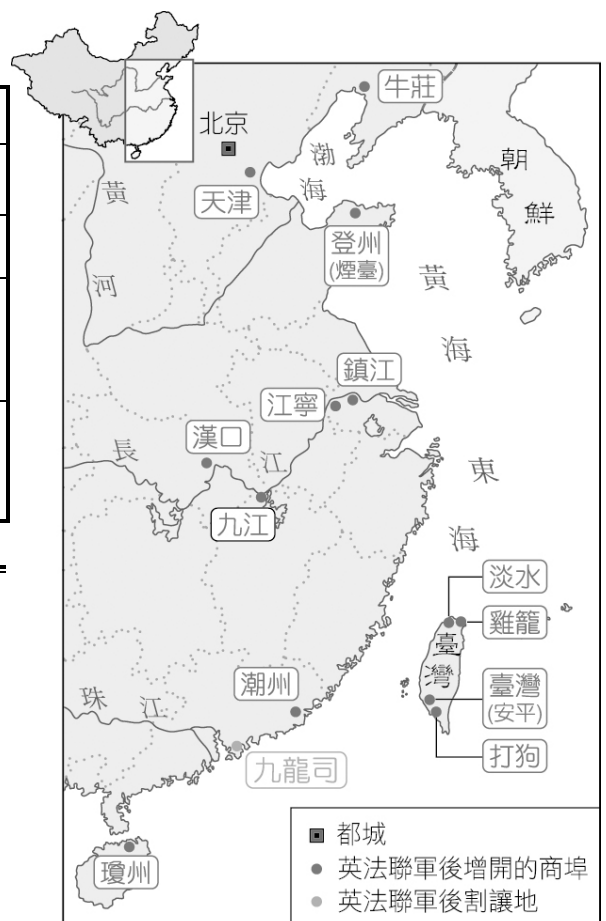
1-3 英法聯軍

一、第一次英法聯軍

原因	鴉片戰爭後，英國進一步提出增開通商口岸、公使入駐北京等要求，希望修改條約，但遭中國拒絕。因此，英國決定以武力逼迫中國同意修約	
藉口	<u>英國</u> 事件	亞羅號 (Arrow) 是一艘在香港註冊、懸掛英國旗幟的華人商船。咸豐 6 年 (1856 年) 該船停泊廣州時，被官兵發現執照過期，並藏有匪徒，便上船逮捕船員。英國與中國交涉失敗，便以此做為出兵的藉口
	<u>法國</u> 教案	鴉片戰爭後，規定傳教士只能在通商口岸傳教。咸豐 6 年，法國傳教士私自進入內地傳教，在廣西西林遇害。法國要求賠償、懲兇，遭到清廷拒絕，史稱廣西西林教案
時間	<u>咸豐</u> 7~8 年 (西元 1857~1858 年)	
經過	英法聯軍攻陷廣州，進逼天津，清廷求和	
結果	簽訂 <u>天津條約</u> ：(1) 賠款、(2) <u>公使入駐</u> 、(3) 增開 <u>沿岸</u> 、 <u>臺灣沿海</u> (<u>基隆</u> 、 <u>淡水</u> 、 <u>安平</u> 、 <u>打狗</u>) 等通商口岸、(4) <u>外國人可到內地遊歷傳教</u>	

二、第二次英法聯軍

原因	天津條約簽訂後，英法因換約不成，再度出兵
時間	<u>咸豐</u> 10 年 (西元 1860 年)
經過	攻陷首都 <u>北京</u> 、焚毀 <u> </u>
結果	簽訂 <u>北京條約</u> ：(1) 增開 <u> </u> 為通商口岸、(2) 割讓 <u> </u> 給英國
影響	兩次英法聯軍的結果，中國受不平等條約的禍害更深，也使 <u>列強</u> 的勢力由沿海深入到 <u>內地</u>

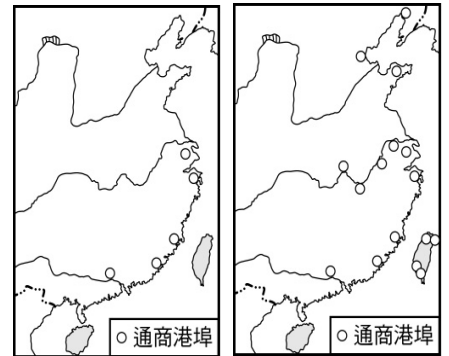


【故·事】圓明園：被稱為「萬園之園」，歷經清朝皇室一百五十年的經營，成為收藏中國各類精美文化藝術品的寶藏。但在英法軍隊入京後，於園中大肆劫掠，最後還下令焚毀圓明園。國都被外國佔領了，清廷也只好答應英法兩國所開出的條件，不但互換天津條約，還另外簽訂了一個續增條約，史稱「北京條約」。俄國後來又趁火打劫，向清廷聲稱「調停有功」，要求重劃東北邊界，最後清廷忍痛與之簽訂了「中俄北京條約」。



單選題：共有 9 題，請將答案寫於題號之前

1. 清末哪個條約開放「內河航行權」，且允許傳教士進入中國內地傳教？
(A) 天津條約 (B) 北京條約 (C) 南京條約 (D) 馬關條約
2. 法國大文豪雨果曾寫道：「有一天，兩個強盜闖進圓明園，一個搶東西，一個放了火。勝利者把口袋裝滿，他們手拉手，笑嘻嘻地回到了歐洲。」請問：雨果所描繪的是哪一場戰爭？
(A) 八國聯軍 (B) 鴉片戰爭 (C) 甲午戰爭 (D) 英法聯軍
3. 維傑去淡水遊玩，看到淡水有很多西式的建築，也參觀了英國領事館，讓他對淡水產生了好奇：「位於亞洲的臺灣，為何會出現西方的色彩？」原來淡水在清朝時曾經開港與西方貿易，這是因清朝哪一個對外條約明訂臺灣開港對外貿易？
(A) 南京條約 (B) 天津條約 (C) 北京條約 (D) 馬關條約
4. 承上題，維傑參考了一些資料，發現在清朝不僅淡水開港通商，還有其他三港的開放。請問：下列哪一個港口不是其中之一？
(A) 打狗 (B) 安平 (C) 鹿港 (D) 雞籠
5. 上海是現今的商業與經濟中心，並正致力於建設成為國際金融與航運中心。回顧歷史，西方文化在上海漸漸生根成長，與哪個條約有關？
(A) 南京條約 (B) 天津條約 (C) 馬關條約 (D) 北京條約
6. 圖(一)及圖(二)是清末兩個時期的對外通商口岸圖。由圖(一)演變到圖(二)的條約為何？
(A) 南京條約 (B) 天津條約
(C) 北京條約 (D) 馬關條約
7. 電影《霍元甲》中霍元甲為爭奪「津門第一」，與眾家武林高手打擂臺，而津門就是天津。天津是在那一場戰爭後開放為通商口岸？
(A) 鴉片戰爭 (B) 第一次英法聯軍
(C) 甲午戰爭 (D) 第二次英法聯軍
8. 下列哪場戰爭之後，臺灣開港通商，西洋傳教士如馬偕等人可來臺傳教？
(A) 鴉片戰爭 (B) 第一次英法聯軍
(C) 甲午戰爭 (D) 第二次英法聯軍
9. 電影《圓明園》劇情主要在描述東方的凡爾賽宮－圓明園，世上最大的「萬園之園」，花費無數的金錢與人力締造而成，不但為滿清帝國的璀璨標誌，更是世上獨一無二的人間仙境。但是，這個豪華的宅院最終卻毀於第二次英法聯軍。下列何者並非這場戰爭的結果？
(A) 中英法簽訂北京條約 (B) 增開天津為通商口岸
(C) 中國割讓九龍司給英國 (D) 臺灣在此條約中被迫開港通商



圖(一)

圖(二)

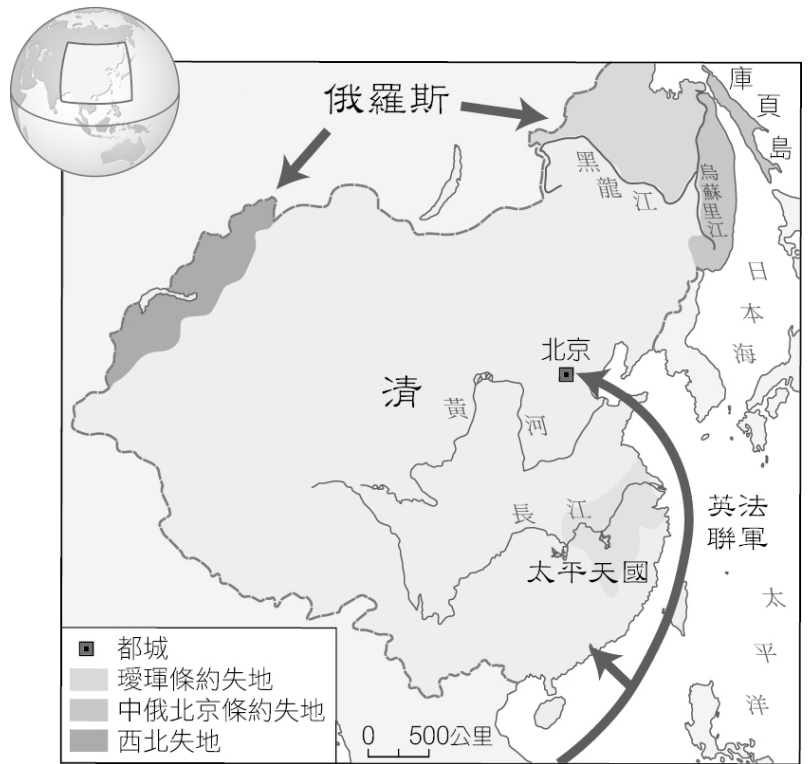


1-4 俄國的侵略

背景	除了英、法從東南沿海入侵外，中國也遭受來自北方的俄國侵略。英法聯軍期間，俄國藉機侵占中國土地。當時中國的內憂外患包括：太平天國、英法聯軍			
說明	條約	時間	失去的土地	備註
	<u>條約</u>	<u>咸豐</u> 8 年 (1858)	<u>黑龍江以北</u>	1. 俄國出兵 <u>瑣琿</u> 2. 清末 <u>失地最多的條約</u>
	<u>條約</u>	<u>咸豐</u> 10 年 (1860)	<u>烏蘇里江以東</u>	俄國藉機調停中、英、法衝突有功，並利用第二次英法聯軍獲得 <u>海參威</u>
俄國也以勘定國界為藉口，陸續吞併了中國西北不少的領土				

【重點整理】中國歷代的外患

朝代	重要外患
西周	犬戎
秦	匈奴
漢	
北宋	遼 (契丹)
	西夏 (党項)
	金 (女真)
南宋	金 (女真)
	元 (蒙古)
明	蒙古
	清 (滿洲)
清	英、美、法、俄等列強



【重點整理】清咸豐年間列強對中國的侵略

國家	侵略地區	侵略方式	主要目的	國家	侵略地區	侵略方式	主要目的
英、法	東南沿海	發動戰爭	通商利益	俄國	北方	外交脅迫	侵佔土地

【問題思考】

1. 英國打破中國閉關自守的局面，是哪一場戰爭造成的結果？ _____
2. 中國首都遭攻陷、圓明園也被焚毀，這是在哪一場戰爭中所發生的事？ _____
3. 俄國為了侵占中國東北領土，逼迫中國簽訂哪兩個條約？ _____、_____



單選題：共有 11 題，請將答案寫於題號之前

- 清末面對列強的侵奪，其中哪個國家以「外交脅迫、勘定國界」的方式，對中國領土鯨吞蠶食？
(A) 法國 (B) 日本 (C) 俄國 (D) 英國
- 下列何國因工業革命使其成為工業大國，十八世紀末以來，對於推動海外貿易的態度日漸積極而強硬，並急於打開中國市場？
(A) 法國 (B) 日本 (C) 俄國 (D) 英國
- 清末列強中，何國蠶食鯨吞了中國北部的大片領土？
(A) 法國 (B) 日本 (C) 俄國 (D) 英國
- 咸豐 10 年，俄國藉口調停中國與英法衝突有功，簽訂中俄北京條約，請問：中俄北京條約中，俄國取得哪一塊土地？
(A) 黑龍江以北 (B) 中國西北 (C) 庫頁島 (D) 烏蘇里江以東
- 在清末與列強簽訂的條約中，使中國喪失最多領土的是哪一個條約？
(A) 南京條約 (B) 中俄北京條約 (C) 中俄天津條約 (D) 璦琿條約
- 下列清末「條約失地」的配合，何者正確？
(A) 《南京條約》割讓香港 (B) 《璦琿條約》烏蘇里江以東
(C) 《中英天津條約》九龍司 (D) 《中俄北京條約》黑龍江以北
- 下列有關兩次英法聯軍的敘述，何者正確？
(A) 俄國皆趁機占領中國廣大領土 (B) 兩次英法聯軍皆攻陷北京
(C) 中國兩次戰敗，皆被迫裁軍 (D) 中國兩次戰敗，皆被迫割地
- 中國清末受到內憂外患的侵擾之時，在北方的俄國也蠢蠢欲動，並趁機侵略中國。下列有關俄國侵略之敘述，何者正確？
(A) 中國穩住烏蘇里江以東的土地 (B) 利用第一次英法聯軍獲得海參威港口
(C) 璦琿條約割讓黑龍江以北土地 (D) 中俄北京條約為中國失地最多之條約

【題組】請根據右圖內容，回答第 9~11 題：

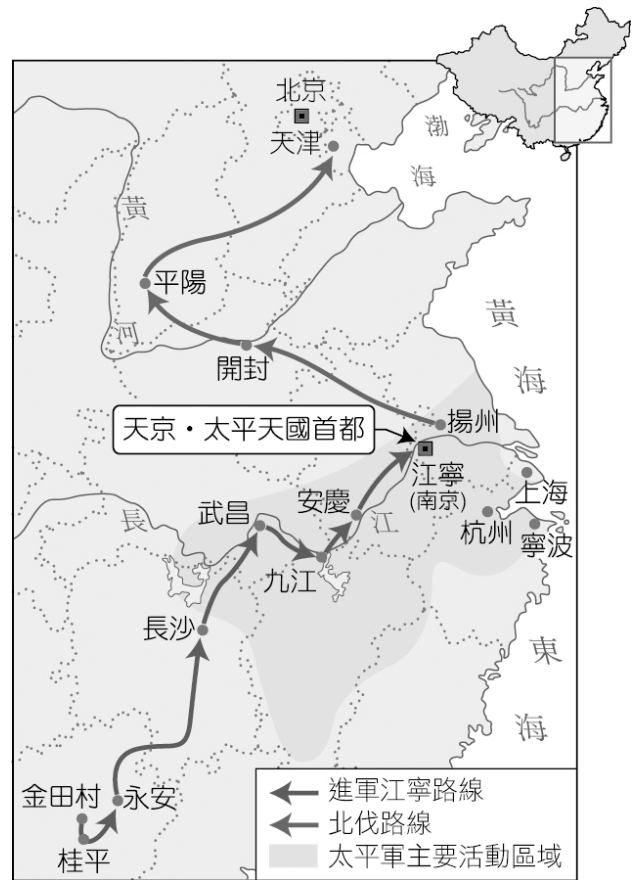
- 圖中甲、乙兩地近 100 萬平方公里的土地落於哪個列強之手？
(A) 法國 (B) 日本
(C) 俄國 (D) 英國
- 中國北邊以「黑龍江」為國界，是哪個條約的結果？
(A) 《天津條約》 (B) 《璦琿條約》
(C) 《南京條約》 (D) 《北京條約》
- 中國以「烏蘇里江」為國界，是哪個條約的結果？
(A) 《天津條約》 (B) 《璦琿條約》 (C) 《南京條約》 (D) 《北京條約》





1-5 太平天國

背景	<ol style="list-style-type: none"> 1. 乾隆中期後，人口激增，耕地不足，且吏治敗壞，民生日漸困苦 2. 鴉片戰爭失敗，賠款使得人民負擔更重，因而動亂紛起
時間	道光 30 年 (1850) ~ 咸豐 ~ 同治 3 年 (1864)
領袖	洪秀全 ，借用 基督教 的教義，創立 拜上帝會
口號	「 天下一家，共享太平 」，獲得貧苦民眾支持
經過	<ol style="list-style-type: none"> 1. 道光 30 年 (1850) 洪秀全在廣西起事 2. 咸豐 元年 (1851)，定國號為太平天國，自稱天王。後來，太平軍攻占南京，改名天京，定為首都
制度	思想 攻擊儒家學說 ，破壞寺廟、神像
	經濟 <ol style="list-style-type: none"> 1. 天朝田畝制度：土地公有，耕地按人口分配 2. 聖庫制度：財物歸公，統一發給
	社會 <ol style="list-style-type: none"> 1. 男女平等：一夫一妻、婦女可應試、做官、參軍 2. 禁止婦女纏足
弊病	<ol style="list-style-type: none"> 1. 公有共享制度無法真正落實 2. 婦女地位未提高，男尊女卑問題依然存在 3. 破壞中國傳統文化，引發民眾的反彈
平定勢力	出兵理由： <u>為了維護中國傳統文化</u> <ol style="list-style-type: none"> 1. 曾國藩的湘軍（湖南） 2. 李鴻章的淮軍（淮河流域）
結果	<ol style="list-style-type: none"> 1. 太平天國定都天京後，因內鬩而元氣大傷 2. 同治 3 年 (1864) 清軍順利攻下天京
影響	<ol style="list-style-type: none"> 1. 漢人政治地位的提昇：漢人平亂有功 2. 有助於自強運動展開：平亂時，因英、法等國協助，中國見識到西方的船堅砲利
意義	規模最大、影響最深遠的內亂是太平天國之亂

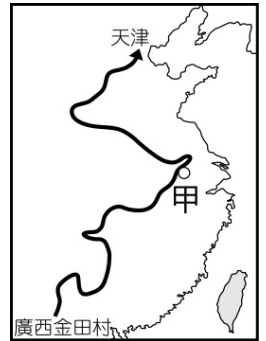


朝代	重要內亂	內亂種類
西周	管蔡之亂	宗室內鬥
東漢	黃巾之亂	民變
西晉	八王之亂	宗室內鬥
唐	安史之亂	將領叛變
	黃巢之亂	民變
明	靖難之變	宗室內鬥
	流寇之亂	民變
清	三藩之亂	將領叛變
	太平天國之亂	民變



單選題：共有 11 題，請將答案寫於題號之前

- 右圖為清末某件史事的路線圖，此一史事應為何者？圖中的甲地被定為都城後，改稱何名？
(A) 英法聯軍，南京 (B) 太平天國，南京
(C) 英法聯軍，天京 (D) 太平天國，天京
- 太平天國歷時 14 年才被平定，請問：它歷經哪些皇帝在位期間？甲、道光；乙、光緒；丙、咸豐、丁、宣統；戊、同治
(A) 甲乙丙 (B) 乙丙丁 (C) 甲丙丁 (D) 甲丙戊
- 「長毛（太平軍）的軍隊攻入南京」、「英吉利（英國）和法蘭西（法國）的軍隊兵臨北京城下」。上述應是清末那位帝王遭遇的困境？
(A) 道光 (B) 咸豐 (C) 同治 (D) 光緒
- 在中國歷代的起事中，常可見人民藉宗教起事，太平天國是藉哪一個宗教來號召人民？
(A) 佛教 (B) 道教 (C) 基督教 (D) 伊斯蘭教
- 「天下多男人，盡是兄弟之輩；天下多女子，盡是姊妹之群……。」請問：上述內容是何人關於男女平等的主張？
(A) 林則徐 (B) 洪秀全 (C) 曾國藩 (D) 李鴻章
- 下列何者不屬於太平天國的特色？
(A) 受基督教教義影響 (B) 崇尚孔孟思想
(C) 提出「天下一家，共享太平」 (D) 土地與財富由政府分配
- 曾國藩編練湘軍，並且以何種理由，號召民眾對抗太平天國？
(A) 為維護中國傳統文化 (B) 將外國人的宗教驅逐
(C) 改善清廷軍隊的裝備 (D) 為漢人爭取軍政大權
- 太平天國之亂是清末規模最大、影響最鉅的民變，下列有關太平天國起事的經過，何者正確？
(A) 道光 30 年於廣東起事 (B) 事件的領導人為洪秀全
(C) 以上海為首都，改名天京 (D) 由八旗兵、綠營兵平定
- 太平天國發生的遠因，與中國本身內部的問題有關，下列何者不是導致太平天國發生的原因？
(A) 人口激增，加上耕地不足 (B) 連年災荒，民生日漸困苦
(C) 人民不滿清廷割讓土地 (D) 為了支付賠款，增加人民賦稅
- 太平天國的出現，對近代中國歷史發展影響深遠。請問：下列何者不是太平天國出現後的影響？
(A) 湘軍、淮軍的興起 (B) 形成軍閥割據的局面
(C) 有助於自強運動的開展 (D) 促使漢人政治地位提升
- 太平天國在定都天京後，也頒布了不少措施，下列有關太平天國的施政，何者正確？
(A) 實施天朝田畝制度，土地公有，但未真正落實
(B) 主張男女平等，並且強調實行一夫一妻制度
(C) 婦女可以應試、做官、參軍，婦女地位提升
(D) 雖以教義控制思想，但對傳統儒家思想相當尊重



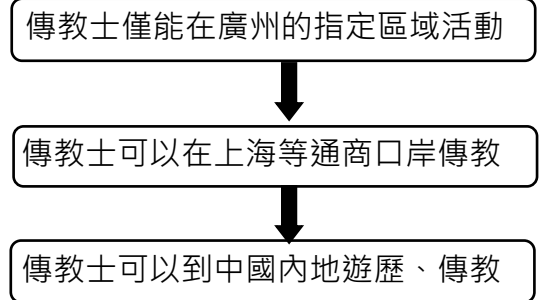
【歷屆會考試題】 共 7 題，請將答案寫在題號前面

1. 右表為清朝後期幾位地方總督、巡撫的出身資料，根據內容判斷，他們得以出任總督、巡撫，與下列何者關係最密切？

姓名	民族	經歷	曾任職務
左宗棠	皆為漢人	皆為湘軍將領	1861 年浙江巡撫
楊岳斌			1864 年陝甘總督
劉坤一			1865 年江西巡撫
曾國荃			1865 年山西巡撫

- (A) 鴉片戰爭 (B) 英法聯軍
(C) 太平天國 (D) 甲午戰爭

2. 右圖呈現清中葉以後，朝廷允許外國傳教士在華活動範圍逐漸改變的情形。造成此轉變的原因，最可能是下列何者？



- (A) 清朝對外條約的簽訂
(B) 太平天國的傳教影響
(C) 清朝接受美國的門戶開放政策
(D) 中國經濟重心由沿海轉向內地

3. 小欣與阿麗針對某位歷史人物進行討論。小欣：「他是一位客家人，吸收了基督教的思想，創立拜上帝會，對孫文的革命事業有所影響。」阿麗：「他之後在廣西起事，創立了太平天國，曾經攻克南京，將之改稱為天京。」小欣與阿麗討論的是哪位人物？

- (A) 曾國藩 (B) 洪秀全 (C) 蔣中正 (D) 林則徐

4. 右圖港口是中國在某列強武力侵逼下，在十九世紀時對外開放的通商口岸，該列強為下列哪個國家？

- (A) 英國 (B) 法國 (C) 俄國 (D) 日本

5. 清末，列強曾在中國取得租界，且獲有領事裁判權，各國在其租界內便享有自主的司法、經濟與行政等權利，清廷無法以法律規範這些外國人士。根據上述內容，下列哪項敘述最符合其意涵？

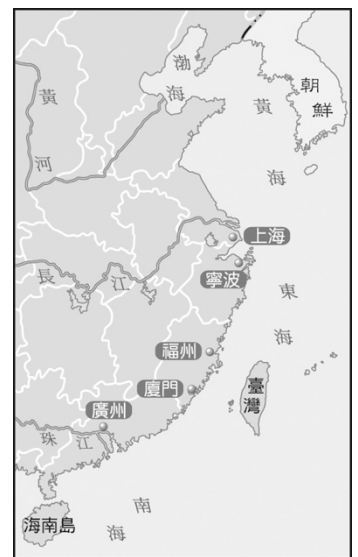
- (A) 國家主權的行使受到破壞 (B) 劃定租界推廣中西文化的交流
(C) 司法權與行政權相互制衡 (D) 經濟發展受到國際組織的限制

6. 共產主義不贊同財產私有制，主張財富不該集中在少數人手中，應為所有人共有。在歷史上，下列何者也有類似的概念？


- (A) 唐代的「坊市制度」 (B) 明代的「一條鞭法」
(C) 太平天國的「聖庫」制 (D) 臺灣的「三七五減租」政策

7. 有一位學者提及：「清朝嘉慶、道光年間，江浙地區出產要販售給西方國家的生絲不從上海出口，而要搬運到路程有十倍之遙的廣州，光是運費及利息就使成本約增加了 35% 至 40%。」上述情況的出現與下列何者密切相關？


- (A) 朝廷規定於廣州一口通商，外商只能在廣州貿易
(B) 廣州位於中國海岸線的中點，和外國交易最便利
(C) 上海為列強租界，禁止中國貨物由此運送出口
(D) 上海遭受太平天國侵擾，僅能由廣州海運出口



【回家作業】第一課的課程心智圖（概念圖）



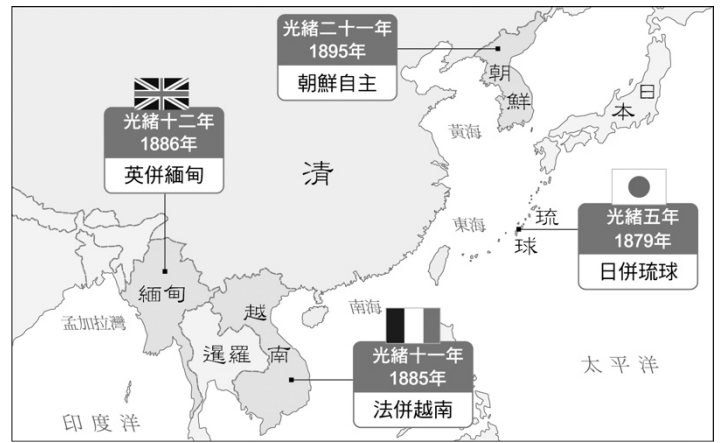
Ch2 清末的改革



2-1 自強運動

【故・事】 **自強運動的開展**：太平天國運動和兩次鴉片戰爭的失敗，使得大清帝國感到嚴重的生存危機。面對這種局面，一部分開明的官員提出為「抵禦外國」和「維護清王朝」的統治，應當適時變更「祖宗之法」，引進西洋先進技術，以「中學為體，西學為用」，「師夷長技以制夷」。利用西方先進科學技術，富國強兵，擺脫困境；利用資本主義發達的工商業手段來維護清朝的封建統治。這部分官員被稱為「洋務派」，他們在 19 世紀 60~90 年代發動了一場旨在「富國強兵」的洋務運動.....。

背景	1. 鴉片戰爭後，曾有人提出「 <u>師夷長技以制夷</u> 」的口號，但未受清廷重視 2. 太平天國之亂以及英法聯軍時，見識到西方的船堅炮利，因而推動清末第一個改革運動		
時間	<u>咸豐</u> 10 年 (1861 年) ~ <u>同治</u> ~ <u>光緒</u> 20 年 (1894 年) <u>戰爭</u> 爆發為止，歷時三十餘年		
人物	中央官員：恭親王 _____，地方官員： <u>曾國藩</u> 、 <u>左宗棠</u> 、 <u>李鴻章</u>		
目的	強兵而後富國，偏重武器、技術等 <u>器物層次</u> 的改革		
機構	_____：中國 <u>外交機構</u> 的開始，負責中外事務，後成為籌劃自強運動的各項措施		
內容	外交	成立總理各國事務衙門處理對外事務，後來成為推行自強運動的機構。正式設置駐外使節，使中西外交步入正軌	
	軍事	1. 設立 <u>兵工廠</u> （上海的江南製造局）、 <u>造船廠</u> （福州船政局）製造新式槍炮和輪船 2. 成立 <u>北洋艦隊</u> （李鴻章所創辦）等新式海軍	
	新式教育	目的	培養翻譯及外交人才
		作法	1. 創辦洋務學堂： <u>同文館</u> 、 <u>廣方言館</u> （設於上海，又稱為上海同文館） 2. 幼童 <u>赴</u> _____ <u>留學</u> ： <u>同治</u> 11 年 (1872) 起，官方派遣學生出國留學的開始
民生經濟	1. 設立 <u>輪船招商局</u> ，經營航運 2. 興辦煤礦、鐵路、電報、紡織等事業【補充】中國第一條鐵路：唐胥鐵路		
期間外患	自強運動期間，列強仍持續侵略中國，占領中國的 <u>藩屬國</u> ，例如： 1. 日本併吞 <u>琉球</u> ：光緒五年 (1879 年)，日本利用北京專約，逼清廷承認此為「保民義舉」 2. <u>中法戰爭</u> （光緒十年，1884 年）後， <u>法國</u> 取得 <u>越南</u> ，而 <u>英國</u> 則乘機派兵進占 <u>緬甸</u>		
成效	1. 自強運動的措施多由見識不足的地方官員各自興辦，缺乏完整規畫 2. 再加上守舊派人士的阻撓，其成果相當有限		



上圖：光緒年間藩屬國的喪失
左圖：自強運動重要成果分布

【整理】藩屬國喪失的前後順序：

【故·事】**自強運動的失敗**：自強運動雖然看似有模有樣，但甲午一戰，中國慘敗，也宣布了這場運動的失敗與結束。至於失敗的原因有很多，比如以下四項：

- 一、守舊派的反對：鴉片戰爭、英法聯軍後，仇洋情結越來越嚴重，使得部分人士「逢洋必反」。
- 二、領導人物不合：慈禧太后本就仇洋，加上她的權力慾強，對於奕訢和李鴻章自然十分提防。
- 三、主事者見識少：他們多認為西方強大的原因僅只在於器物層面，卻輕忽他們的政治、經濟、社會條件。
- 四、列強自私心態：洋人雖然表面支持，但其實只想賺大清的錢，甚至連聘請的西方工匠本身都可能都有問題。



牛刀小試

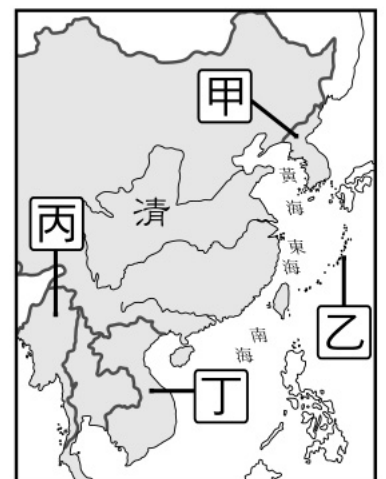
單選題：共有 16 題，請將答案寫於題號之前

1. 清末第一個改革運動——自強運動，它的展開最主要是受到哪一個戰爭戰敗的刺激？
(A) 鴉片戰爭 (B) 英法聯軍 (C) 太平天國 (D) 甲午戰爭
2. 清末的自強運動，主張要「師夷長技以制夷」，請問：該運動主要是模仿外國人哪方面的長才？
(A) 軍事國防 (B) 民生經濟 (C) 語言文化 (D) 民主政治
3. 當清朝決定「師夷長技以制夷」後，隨即成立哪個機構處理對外事務，並成為自強運動的機構？
(A) 同文館 (B) 廣方言館 (C) 總理各國事務衙門 (D) 江南機器製造局
4. 在改善中外關係中，互派公使一向是外國人希望達成的目標之一，請問：中國何時才開始派遣駐外使節到外國，使中西外交逐漸步入正軌？
(A) 鴉片戰爭後 (B) 太平天國前 (C) 英法聯軍後 (D) 甲午戰爭後

5. 公費留學是許多學子的夢想，早在自強運動期間，就有官方派遣學生出國留學，請問：當時清廷是派遣留學生到哪一個國家去留學？
 (A) 英國 (B) 法國 (C) 俄國 (D) 美國
6. 自強運動期間，列強仍不斷侵略中國，在下列的選項中，哪一個不是自強運動期間的外患？
 (A) 法國占領越南 (B) 日本併吞琉球 (C) 英國進占緬甸 (D) 俄國侵略東北
7. 「深知軍事失敗，由於軍器不如西方、訓練不如西方。」這是清廷受何戰役的刺激而有的覺悟？
 (A) 鴉片戰爭 (B) 英法聯軍 (C) 中法戰爭 (D) 甲午戰爭
8. 上海世博吸引七千萬參觀人數，風光落幕。回顧近代中國史，下列哪項並非位於上海？
 (A) 同文館 (B) 江南製造局 (C) 輪船招商局 (D) 廣方言館
9. 推動自強運動的「地方」人才濟濟，其中有號稱是自強運動推行的三大功臣，不包括下列何人？
 (A) 曾國藩 (B) 林則徐 (C) 左宗棠 (D) 李鴻章
10. 右列的情形出現在何時？
 (A) 維新運動 (B) 立憲運動
 (C) 革命運動 (D) 自強運動
- 中國第一條鐵路（唐山到胥各莊）誕生
 ● 中國官方留學開始——留美
11. 下列有關自強運動的敘述，何者正確？
 (A) 改革偏重國防外交，不涉及民生經濟 (B) 獲守舊派支持，從根本改革
 (C) 全國上下一致從事改革 (D) 改革內容偏重於器物（物質）層面
12. 「甲」後，便已經有人提出改革，但清廷直至「乙」後，才擺脫天朝上國的迷思，整個民族喪失二十年的光陰。上述甲、乙是指何者？
 (A) 鴉片戰爭、甲午戰爭 (B) 鴉片戰爭、英法聯軍
 (C) 英法聯軍、中法戰爭 (D) 中法戰爭、甲午戰爭
13. 法國在拿破崙三世稱帝後，積極向外侵略，如與英國聯合攻打中國及為了爭奪中國的藩屬國而爆發中法戰爭，下列有關中法戰爭的敘述，何者正確？
 (A) 中法戰爭是因朝鮮問題而爆發 (B) 中法戰爭期間，法國曾一度進攻臺灣
 (C) 中法戰爭期間，英國乘機占領越南 (D) 中法戰爭後，臺灣建省，沈葆楨為首任巡撫

【題組】右圖是「自強運動」期間藩屬喪失圖。請回答第 14~16 題：

14. 中法戰爭後喪失了哪個地區的藩屬國？
 (A) 甲 (B) 乙 (C) 丙 (D) 丁
15. 牡丹社事件中，日軍侵臺，並藉故併吞哪個藩屬國？
 (A) 甲 (B) 乙 (C) 丙 (D) 丁
16. 甲至丁地依喪失先後排列，其順序為何？
 (A) 甲→乙→丙→丁 (B) 乙→丙→丁→甲
 (C) 丙→乙→丁→甲 (D) 乙→丁→丙→甲



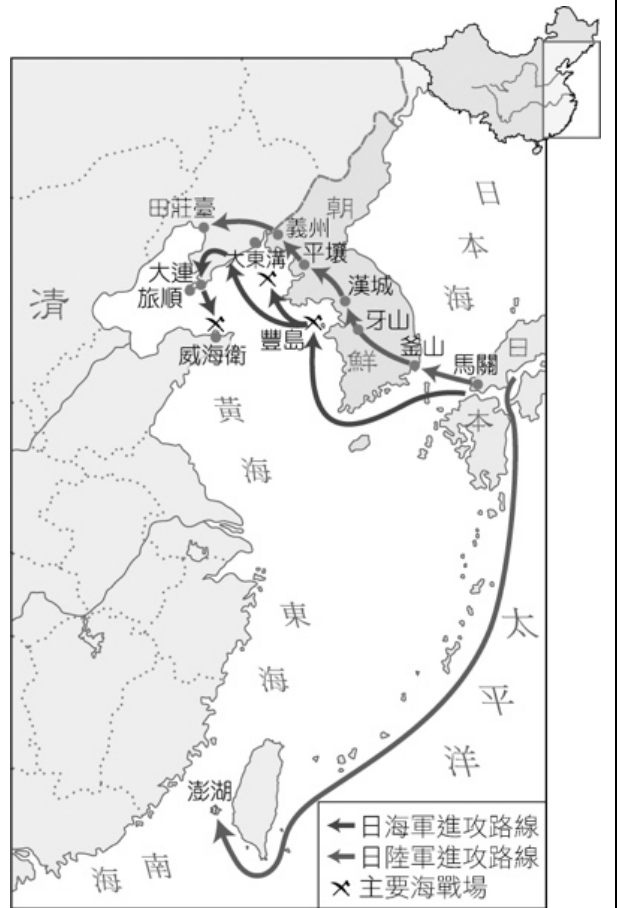


2-2 甲午戰爭

【故・事】 **日本的明治維新**：西元 1867 年，日本明治天皇即位，全力展開向「西方」學習的「明治維新」，並使日本邁向現代化國家的行列。在明治維新的過程中，日本對外擴張的野心正逐漸蓬勃發展，大致出現了兩個擴張的方向：一個是中國，必須先佔領朝鮮作為跳板；二為南洋群島，必須先佔領臺灣，作為南進的重要據點。不管日本要往哪個方向走，都勢必要與中國發生衝突……。

【故・事】 **牡丹社事件**：同治 10 年（西元 1871 年），發生琉球漁民漂流至臺灣，被原住民殺害的「牡丹社事件」。同治 13 年（西元 1874 年），日軍以牡丹社事件為由，出兵臺灣，攻打原住民，雙方互有傷亡，但日軍優勢的武力終使社民投降。日本原本想長住並殖民，但因瘧疾所害，又得不到英、法等國支持，而清廷自知國力薄弱，也不希望和日本開戰，最後雙方簽訂《北京專約》。在北京專約中，清廷承認日本出兵是「保民義舉」，這成為日本侵略琉球的藉口。光緒 5 年（西元 1879 年），日本正式併吞琉球，更名為沖繩縣。

背景	19 世紀後期，日本積極對外擴張： 1. 同治 13 年（1874 年），日本派兵侵犯臺灣 2. 光緒 5 年（1879 年），日本併吞琉球，並企圖控制朝鮮	
時間	光緒 20 年（_____年，甲午年）	
過程	1. 朝鮮發生內亂，中日兩國各自派兵平亂 2. 亂平之後，日本卻不撤兵，反而襲擊中國軍隊，中日兩國正式宣戰，史稱甲午戰爭	
結果	中國戰敗，與日本簽訂 _____ 條約	
	代表人物	1895 年（乙未年）清廷派 _____ 赴日求和，與日本首相 _____ 簽訂條約
	條約內容	賠款二萬萬兩、承認 _____ 獨立、割讓 _____、_____ 和遼東半島、允許日本人在通商口岸設立工廠
	後續影響	其他列強引用 _____ 待遇條款， <u>比照日本在中國設廠</u> ，對日後中國本土工商業發展有不良的影響



【故・事】 **伊藤博文**：被稱為「日本憲法之父」，是推動日本明治維新的功臣之一。他於 1885 年起，出任日本首屆內閣總理大臣，是日本邁向現代列強的重要推手。後來他擔任第一任的韓國總督，但遭到韓國愛國人士的刺殺而身亡。



單選題：共有 11 題，請將答案寫於題號之前

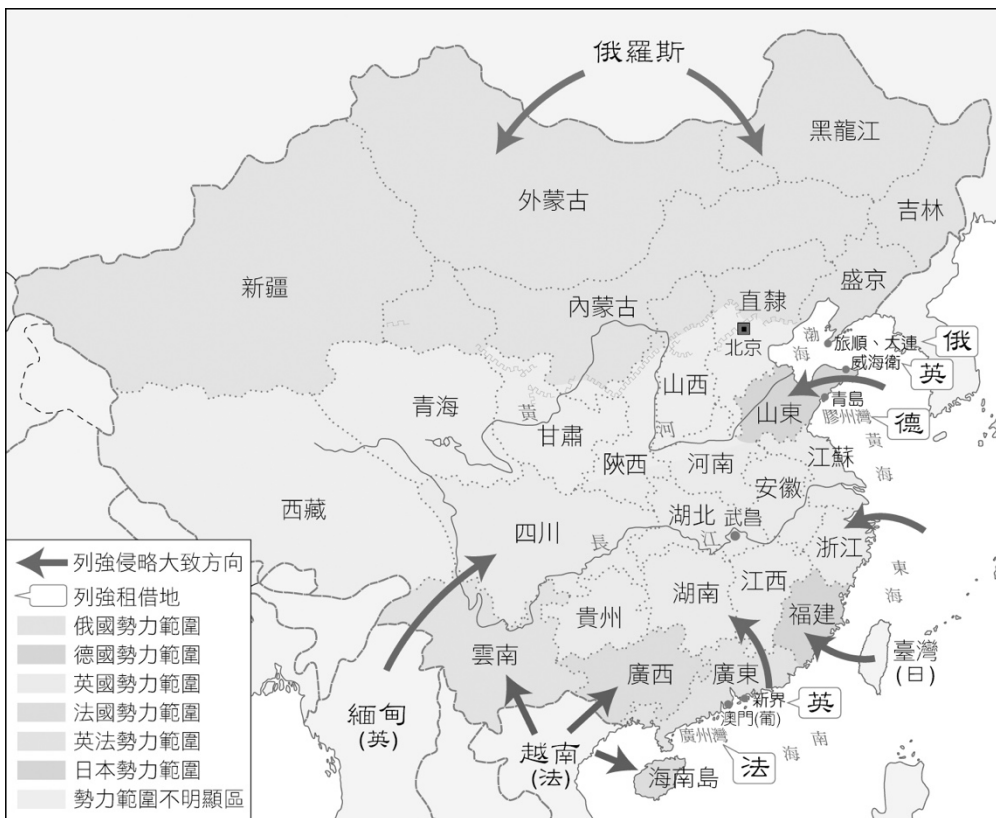
1. 朝鮮自明朝起，即為中國的藩屬，但在哪個事件後脫離了中國，成為日本的勢力範圍？
(A) 鴉片戰爭 (B) 英法聯軍 (C) 甲午戰爭 (D) 八國聯軍
2. 在馬關條約中，其中有一條內容為「允許日本人在通商口岸設立工廠」，之後其他列強也紛紛比照日本在中國設廠，請問：當時其他國家是根據哪一個法源，享有同樣的特權？
(A) 租界 (B) 協定關稅 (C) 領事裁判權 (D) 片面最惠國
3. 清末列強加緊對中國展開侵略，紛紛租借港灣，畫分勢力範圍，列強的瓜分中國與下列哪一場戰爭有關？
(A) 鴉片戰爭 (B) 英法聯軍 (C) 甲午戰爭 (D) 八國聯軍
4. 日本自明治維新之後，開始積極向外擴張。在日本的侵略行動中，下列哪一項「不」是在清朝統治期間展開的？
(A) 侵犯臺灣 (B) 併吞琉球 (C) 甲午戰爭 (D) 倭寇侵擾東南沿海
5. 甲午戰爭中國戰敗，證明清朝自強運動是失敗的，甲午戰爭的引爆與哪一個藩屬國有關？
(A) 越南 (B) 朝鮮 (C) 緬甸 (D) 琉球
6. 李鴻章曾說：「我辦了一輩子的事，練兵也，海軍也，都是紙糊的老虎……。」下列哪場戰爭證明了李鴻章所辦的「海軍」是「紙糊的老虎」？
(A) 鴉片戰爭 (B) 英法聯軍 (C) 中法戰爭 (D) 甲午戰爭
7. 甲午戰後簽訂馬關條約，在馬關條約的內容中，哪一項的簽訂對中國工商業傷害最大？
(A) 割讓遼東半島 (B) 割讓臺灣、澎湖
(C) 允許日人在通商口岸設廠 (D) 巨額的賠款
8. 「一位鄉下青年到大城市謀生，看到洋人的工廠林立，中國人的工廠日減，後來他進入一家洋人開設的工廠工作。」上述場景應在何時何地？
(A) 英法聯軍後的廣州 (B) 中法戰爭後的廈門
(C) 鴉片戰爭後的臺灣 (D) 甲午戰爭後的上海
9. 《馬關條約》對中國傳統手工業發展打擊最大的內容為何？
(A) 日人可於通商口岸設立工廠 (B) 開放內河航行權
(C) 割讓遼東半島、臺灣、澎湖 (D) 切斷中國與朝鮮的宗藩關係
10. 林老師於課堂上提問：「馬關條約簽訂的內容中，哪一項嚴重影響日後中國民族工業的發展？」請問：小晉應如何回答，才不會被老師糾正？
(A) 繳付高達二億兩賠款 (B) 再度增開通商口岸的數量
(C) 割讓臺灣與澎湖等地 (D) 允許日人在通商口岸設廠
11. 下列對於甲午戰爭的敘述，何者正確？
(A) 原因：日本對越南的侵略 (B) 經過：中國陸軍慘敗，但北洋海軍略有小勝
(C) 影響：中國面臨被列強瓜分的危機 (D) 結果：中國喪失遼東半島，直到抗戰後收回



2-3 瓜分風潮與門戶開放

俄國企圖	_____國早就企圖侵占 <u>遼東半島</u> ，因此不滿 <u>馬關條約</u> 將該地割讓給日本	列強在中國的主要勢力範圍
干涉還遼	聯合_____國、_____國向日本施壓。在三國干涉歸還遼東半島的壓力下，日本同意中國以巨額款項贖回	
瓜分風潮	列強加速侵略，進一步想瓜分中國，紛紛租借港灣，畫分勢力範圍	
門戶開放政策	<ol style="list-style-type: none"> 緣由：_____國在瓜分風潮中毫無所獲，又不願其他列強壟斷中國市場（英國在背後支持） 時間：<u>光緒</u> 25 年（1899 年） 主張：打破勢力範圍，各國在中國的<u>經濟利益均等</u>，並<u>保持中國領土與主權的完整</u> 影響：使中國免於被瓜分的命運 	

國家	租借港灣	勢力範圍
德	膠州灣	山東
俄	旅順 大連	東北 長城以北
英	威海衛 新界	長江流域
法	廣州灣	西南地區
日	無	福建



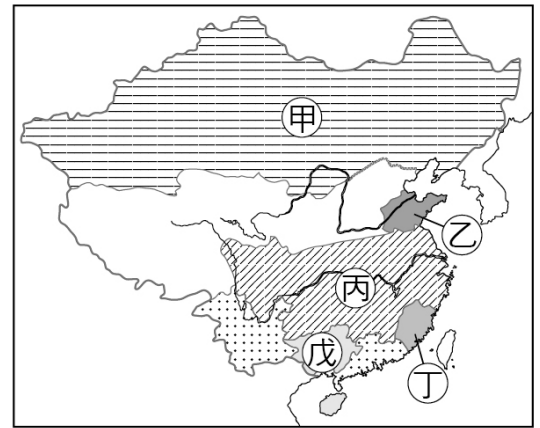
【整理】珠江口沿岸地區

- 甲：_____
- _____ 條約
- 乙：_____
- _____ 條約
- 丙：_____
- _____ 條約



一、填充題：請根據右圖內容，於空格中填寫正確答案

1. 甲是何國在中國的勢力範圍？【_____】
2. 乙是何國在中國的勢力範圍？【_____】
3. 丁是何國在中國的勢力範圍？【_____】
4. 戊是何國在中國的勢力範圍？【_____】



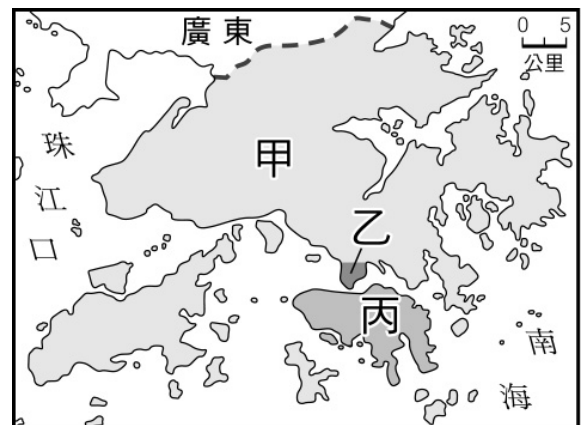
二、填充題：共 9 題，請將答案寫在題號之前

1. 清末列強加緊對中國展開侵略，紛紛租借港灣，畫分勢力範圍，列強的瓜分中國與下列哪一場戰爭有關？
(A) 鴉片戰爭 (B) 英法聯軍 (C) 甲午戰爭 (D) 八國聯軍
2. 《馬關條約》簽訂後，主導三國干涉還遼的是哪個國家？
(A) 法國 (B) 俄國 (C) 德國 (D) 美國
3. 美國提「門戶開放政策」，使得中國免於被瓜分的命運，請問：美國提出「門戶開放政策」，最主要的原因為何？
(A) 為了本身的經濟利益 (B) 拯救弱小被瓜分中的中國
(C) 展現美國國勢的強盛 (D) 美國未享有片面最惠國待遇
4. 下列對於甲午戰爭的敘述，何者正確？
(A) 原因：日本對越南的侵略 (B) 經過：中國陸軍慘敗，但北洋海軍略有小勝
(C) 影響：中國面臨被列強瓜分的危機 (D) 結果：中國喪失遼東半島，直到抗戰後收回
5. 右列史事依因果關係排列，其順序為何？
(A) 甲→乙→丙→丁 (B) 乙→甲→丁→丙
(C) 丙→乙→丁→甲 (D) 乙→丁→丙→甲

甲	三國干涉還遼
乙	甲午戰爭
丙	門戶開放政策
丁	劃分勢力範圍

【題組】根據右圖內容，請回答第 6~9 題：

6. 英國得到甲地，是因哪場戰爭後興起的瓜分風潮？
(A) 鴉片戰爭 (B) 英法聯軍
(C) 中法戰爭 (D) 甲午戰爭
7. 英國得到乙地是因哪場戰爭的影響？
(A) 鴉片戰爭 (B) 英法聯軍
(C) 中法戰爭 (D) 甲午戰爭
8. 英國得到丙地是因哪場戰爭的影響？
(A) 鴉片戰爭 (B) 英法聯軍
(C) 中法戰爭 (D) 甲午戰爭
9. 英國得到甲、乙、丙三地的先後順序為何？
(A) 甲→乙→丙 (B) 乙→甲→丙
(C) 丙→乙→甲 (D) 乙→丙→甲





2-4 戊戌變法

緣由	_____ 戰爭後，部分有識之士認為只注重器物層面的改革不足以自強，還必須在政治、教育等 <u>制度層面</u> 上徹底革新，才能救亡圖存	
別稱	_____ <u>維新</u> ：此次變法前後共 103 天	
時間	<u>光緒</u> 24 年 (1898 年，戊戌年)	
代表	<u>光緒皇帝</u> 、_____、_____	
作法	精簡政府機構、提倡工商業、 <u>廢除八股文</u> 、設立 _____ <u>大學堂</u> (今 <u>北京大學</u> 前身)	
結果	<p>以失敗告終，改革措施除了京師大學堂外，全被廢止</p> <ol style="list-style-type: none"> 1. 戊戌變法的內容龐雜，許多措施又沒有周全的規畫：廢除八股文影響士人準備科舉考試，結果引起不少人的反彈 2. 實際掌權者並非光緒：實權掌握在 _____ <u>太后</u>手中 (帝黨 vs. 后黨 之爭) 3. <u>戊戌政變</u>：慈禧與守舊派人士發動戊戌政變，軟禁光緒皇帝，康有為與梁啟超逃往國外 	



單選題：共有 6 題，請將答案寫於題號之前

1. 經過哪個事件的刺激，中國人領悟到必須實施制度上的革新才足以救國？
(A) 鴉片戰爭 (B) 英法聯軍 (C) 中法戰爭 (D) 甲午戰爭
2. 下列何者是「戊戌變法」失敗後唯一被保留下來的新政？
(A) 京師大學堂 (B) 提倡實業 (C) 編練新式軍隊 (D) 廢除八股文
3. 清光緒帝被慈禧太后軟禁一事，與下列何者有關？
(A) 自強運動 (B) 英法聯軍 (C) 甲午戰爭 (D) 百日維新
4. 戊戌變法隨著光緒皇帝被軟禁，康有為、梁啟超逃往國外後，除了京師大學堂之外，新政的內容幾乎停頓，請問：京師大學堂是今天哪一所大學的前身？
(A) 北京大學 (B) 西南大學 (C) 復旦大學 (D) 清華大學
5. 甲午戰敗，部分知識分子認為器物層面的改革不足以自強，必須由制度層面上徹底革新，光緒 24 年以德宗為首下詔變法，下列哪一個名稱與其他三個意思「不同」？
(A) 戊戌變法 (B) 戊戌政變 (C) 維新運動 (D) 百日維新
6. 關於清末自強運動、戊戌變法的比較，下列敘述何者錯誤？
(A) 皆因對外戰敗的刺激而起 (B) 皆有振興實業的措施
(C) 皆因對外戰爭失敗而停止 (D) 皆因守舊派反對而失敗

【歷屆會考試題】 共 6 題，請將答案寫在題號前面

1. 「二十世紀初，清廷與某國簽訂『中越交界禁止革命黨章程』，要求該國官員協助查辦在中越邊境活動的革命份子，若有人在越南境內傳播對清廷不利的言論，則依照該國的律例加以懲治。」上文中的「某國」最可能是下列何者？

(A) 日本 (B) 英國 (C) 法國 (D) 美國

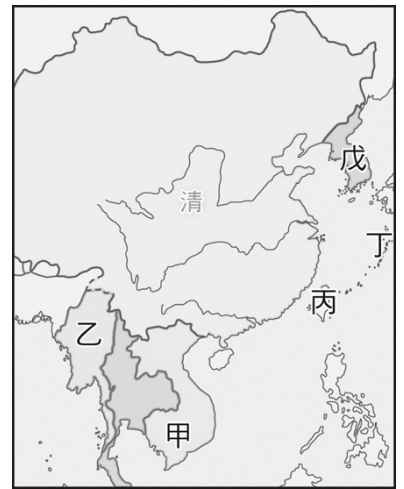
2. 右列是某次美國外交聲明的概要，根據內容判斷，美國為何發表此一聲明？

(A) 闡明門戶開放政策，維護在華利益
(B) 要求中國開港通商，發動鴉片戰爭
(C) 參與瓜分中國領土，確保勢力範圍
(D) 議定《天津條約》內容，保護僑民安全

我國政府希望各國在中國商業和航運能享受平等待遇，我國人民的利益，也不得因列強在華畫分勢力範圍而受到損害，故反對列強在大清帝國領土內的獨占權利，或對土地的控制權。

3. 甲午戰爭中，日本擊敗了中國，一躍成為亞洲的強權。在此次的戰役中，日本獲得了右圖中的哪塊領土？

(A) 甲
(B) 乙
(C) 丙
(D) 丁



4. 甲午戰爭後中國戰敗，康有為曾聯合許多知識分子上書，反對簽署《馬關條約》，要求清廷變法圖強。康有為的呼籲最後得到當權者的認同，並推動一波的改革運動。支持康有為的當權者為何人？

(A) 慈禧太后
(B) 曾國藩
(C) 李鴻章
(D) 光緒皇帝

5. 顏老師在上歷史課時，在右圖的黑板上做了一些整理，老師所要介紹的是哪次改革內容？


(A) 自強運動
(B) 戊戌變法
(C) 立憲運動
(D) 庚子後新政

- ◎ 軍事方面：設立江南製造局，成立北洋、南洋艦隊。
- ◎ 外交方面：派遣正式使節常駐國外。
- ◎ 教育方面：培養外交翻譯人才，設立同文館。
- ◎ 興辦實業：成立輪船招商局。


6. 清末推行自強運動，總理各國事務衙門是當時成立的第一個新機構。該機構最初設立的目的最可能為下列何者？

(A) 裁決司法案件
(B) 籌辦議會政治
(C) 辦理外交事宜
(D) 籠絡境內民族

【回家作業】第二課的課程心智圖（概念圖）



Ch3 清朝的覆亡




3-1 義和團與八國聯軍

【故・事】**義和拳的崛起**：光緒 23 年（西元 1897 年），德國以教士被殺為由，強占了山東的膠州灣，自此以後，英、俄等列強便像強盜坐地分贓一般，各自在中國這塊大餅上畫分出一塊塊的勢力範圍。雖然後來受到美國出面，提出門戶開放的政策，使中國得以脫離被瓜分的命運，但這種傲慢囂張的行為，教中國人如何忍受？一股民族主義的暗流，正在各地悄悄漫流著。山東素來民風強悍，其中有一個名為八卦教的宗教團體，他們所練的拳為「義和拳」，自稱可以降神附體、刀槍不入。這批拳民常常和教民發生衝突，但因數任巡撫都放任他們這些行為，故其勢力逐漸龐大。直到袁世凱擔任山東巡撫後，才開始打壓義和拳的勢力，迫使他們在光緒 26 年（西元 1900 年）開始往天津、北京這兩個有不少洋人居住的城市前進……。

一、義和團（又被稱為庚子拳亂）

背景	<ol style="list-style-type: none"> 自鴉片戰爭以來，列強對中國持續不斷的侵略，使朝野仇視洋人的情緒高漲 清末基督教傳入中國後，部分傳教士和教民專橫跋扈，引起一般民眾的反感，各地因而時常發生燒教堂、殺傳教士的情形 	
義和團	起源	半島
	組織	原為民間的 <u>團體</u> ，以法術號召群眾，自稱可以神靈附身，刀槍不入
	口號	<u>扶清滅洋</u>
	作為	<ol style="list-style-type: none"> 義和團受到排外情緒的影響，開始仇殺洋人 義和團在山東受到地方政府鎮壓，其活動轉往<u>天津</u>、<u>北京</u>一帶發展



二、八國聯軍

緣由	1. 慈禧太后認為「民氣可用」，默許義和團焚毀教堂、殺害外國公使與教民 2. 慈禧太后無視於列強的抗議，甚至 <u>主動下詔</u> ，向各國宣戰
時間	<u>光緒</u> 26 年 (1900 年，庚子年)
參與國	<u>英</u> 、 <u>美</u> 、 <u>法</u> 、 <u>德</u> 、 <u>俄</u> 、 <u>義</u> 、 <u>日</u> 、 <u>奧</u>
過程	1. 八國組成聯軍，攻陷北京 2. 慈禧太后與光緒皇帝逃往 <u>西安</u> 3. 東南各省與各國商議「 <u>東南互保</u> 」辦法，免於戰火波及
<u>東南互保</u>	在八國聯軍期間，由於東南各省總督、巡撫不願與外國人發生衝突，先後與各國商議 <u>東南互保</u> 辦法，保護外國人士，使東南各省得免於戰火
結果	簽訂 <u>合約</u> ，內容包括： 1. 賠償鉅款四億五千萬兩白銀（為了懲罰中國四億五千萬人） 2. 拆除北京至出海口的炮臺 3. 允許各國派兵駐守北京使館等地區
影響	1. 北京門戶洞開，嚴重影響 <u>國防安全</u> 2. <u>庚子後新政</u>

義和團活動範圍與八國聯軍路線圖



牛刀小試

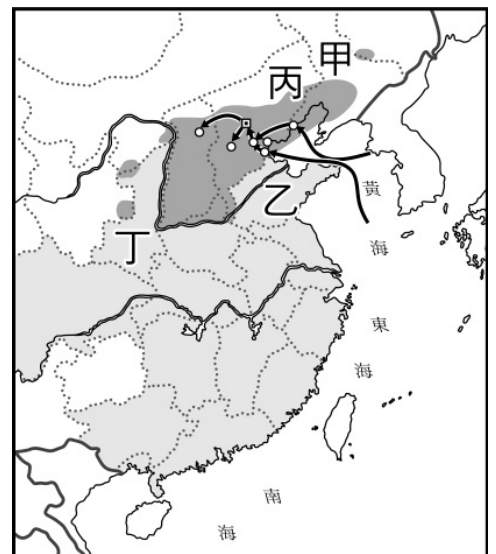
單選題：共有 17 題，請將答案寫於題號之前

- 義和團後來轉往天津、北京一帶發展，他們背後因有何人的支持，公然殺害外國公使與教民？
(A) 慈禧太后 (B) 光緒皇帝 (C) 李鴻章 (D) 袁世凱
- 義和團原本是民間的宗教團體，以法術號召群眾，自稱可以神靈附身，刀槍不入，請問：義和團最早興起於何處？
(A) 河南 (B) 江蘇 (C) 廣東 (D) 山東
- 義和團受到排外情緒的影響，開始仇殺洋人，當義和團開始從事排外活動時，是以何為號召？
(A) 反清復明 (B) 扶清滅洋 (C) 驅逐韃虜 (D) 創建民國
- 庚子拳亂是中國民眾以最原始、野蠻的方式表達對帝國主義的反抗。當時的時代背景為何？
(A) 鴉片戰爭後簽訂近代首項不平等條約 (B) 英法聯軍攻入北京
(C) 甲午戰爭後，中國面臨瓜分危機 (D) 戊戌變法失敗，慈禧再度垂簾聽政

5. 「太平天國」與「義和團」的比較，何項敘述正確？
 (A) 都屬民亂 (B) 皆排斥基督教 (C) 都被政府平定 (D) 都以反清復明為號召
6. 當清廷公然向各個國家宣戰，引發八國聯軍的同時，東南各省能夠免於戰火波及，是因哪一個條款的簽訂？
 (A) 互不侵犯條約 (B) 門戶開放政策 (C) 東南互保章程 (D) 東南自治條約
7. 下列哪個條約規定各國可以駐軍於北京，並削平沿海及北京附近的炮臺，嚴重損害中國主權？
 (A) 《馬關條約》 (B) 《辛丑和約》 (C) 《北京條約》 (D) 《天津條約》
8. 慈禧太后掌握清廷政權近五十年，下列哪場戰爭是她對列強宣戰，但地方卻不支持？
 (A) 鴉片戰爭 (B) 八國聯軍 (C) 英法聯軍 (D) 甲午戰爭
9. 清末對外戰爭中，兩度被攻入國都，請問下列列強中，兩次皆有參與的是哪些國家？
 (A) 德、日 (B) 日、俄 (C) 英、美 (D) 英、法
10. 一齣以「義和團」為背景的歷史劇，可能出現下列哪個場景？
 (A) 接受光緒帝支持，引發八國聯軍 (B) 在廣州城深受愛戴
 (C) 拳民拆教堂、鐵路 (D) 拳民與清兵合作攻入北京，占領紫禁城
11. 自鴉片戰爭以來，近代中國的首都北京，曾在哪兩次戰爭被外國人攻陷，使不少珍寶被掠走？
 (A) 英法聯軍、甲午戰爭 (B) 鴉片戰爭、英法聯軍
 (C) 甲午戰爭、八國聯軍 (D) 英法聯軍、八國聯軍
12. 八國聯軍後，中國與列強簽訂辛丑和約，此和約使中國損失慘重，有關和約的敘述，何者正確？
 (A) 割讓廣大的土地給列強 (B) 拆除天津至出海口的炮臺
 (C) 允許各國派兵駐守北京使館區 (D) 唯一沒有賠款的條約
13. 右列史事以發生年代命名，依事件先後順序排列為何？
- | | |
|---|------|
| 甲 | 甲午戰爭 |
| 乙 | 戊戌變法 |
| 丙 | 辛丑和約 |
| 丁 | 庚子拳亂 |
- (A) 甲→乙→丙→丁
 (B) 乙→甲→丙→丁
 (C) 丙→乙→丁→甲
 (D) 甲→乙→丁→丙

【題組】右圖是「八國聯軍」路線圖。請回答第 14~17 題：

14. 八國聯軍的導火線是義和團事變，義和團起源於圖中何地？
 (A) 甲 (B) 乙 (C) 丙 (D) 丁
15. 「八國聯軍」的主要戰場位在圖中哪個省分？
 (A) 甲 (B) 乙 (C) 丙 (D) 丁
16. 「八國聯軍」攻陷國都，慈禧太后出逃，落腳在圖中何地？
 (A) 甲 (B) 乙 (C) 丙 (D) 丁
17. 東南地區未受「八國聯軍」戰禍波及，主因為何？
 (A) 各地與列強約定東南互保 (B) 李鴻章的「淮軍」
 (C) 美國提出「門戶開放政策」 (D) 各地督撫死守





3-2 庚子後新政與立憲運動

一、庚子後新政


背景	八國聯軍慘敗後，慈禧太后為挽回人心，開始推動「_____」
時間	<u>光緒</u> 27~37 年（西元 1901~1911 年）
作為	多與戊戌變法的措施雷同，包含： <u>廢除八股文</u> 、 <u>廢除科舉制度</u> （光緒 31 年，西元 1905 年）、禁止鴉片、創立警察制度

二、立憲運動

背景	1. 光緒 30 年（西元 1904 年）：日俄兩國因爭奪中國_____的權益，爆發「_____戰爭」 2. 光緒 31 年（西元 1905 年）：日本戰勝俄國，其勢力進入東北
緣由	朝野人士認為日本戰勝的原因是實施君主立憲體制，因而要求清廷立憲
過程	1. 光緒 32 年，為了緩和輿論的壓力，清廷下詔預備立憲 2. <u>宣統</u> 3 年（西元 1911 年），清廷成立「責任內閣」，但不少閣員為皇族，被批評是「 <u>皇族內閣</u> 」
結果	改革步調緩慢，到了公布內閣名單後，使立憲派人士感到十分失望，乃轉而支持革命

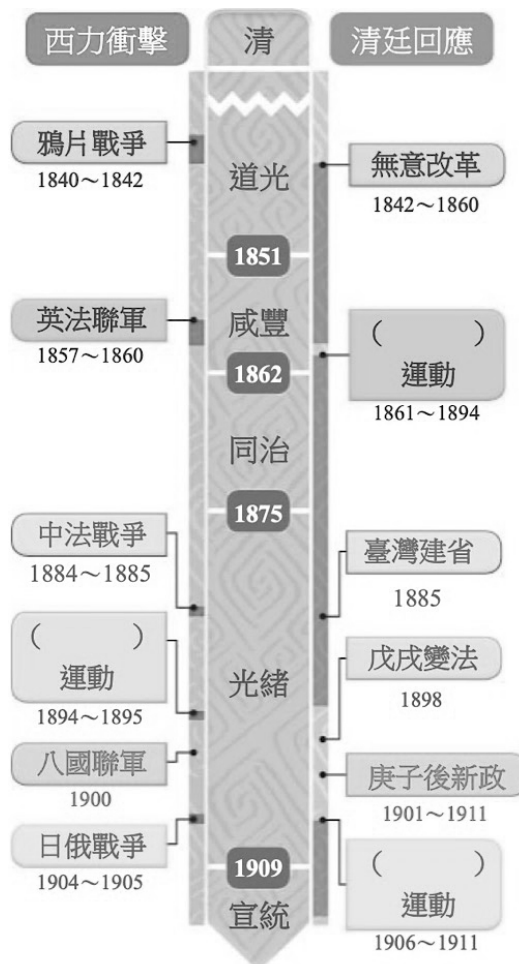


【皇族內閣】



【輿論，1907 年】

口喊立憲，心懷專制之諷刺



外在刺激	時間 (西元/年)	內部回應
英法聯軍	1857 1860	→ 臺灣開港 → 自強運動開始
	1865	
	1870	
日軍侵臺	1875	→ 積極治臺
	1880	
中法戰爭	1885	→ 臺灣建省
	1890	
甲午戰爭	1895	→ 革命運動開始 → 臺灣割日 → 戊戌變法
八國聯軍	1900	→ 庚子後新政
日俄戰爭	1905	→ 立憲運動開始
	1910	
	1912	→ 辛亥革命

【故・事】 **皇族內閣**：光緒 32 年（西元 1906 年），清廷下詔，預備立憲。光緒 34 年（西元 1908 年），頒布《憲法大綱》，訂出以 9 年為期，召開國會、實施立憲。但憲法大綱所規定的「君權」太重，擁有軍事、行政、立法、司法等權力，甚至比日本明治天皇的權利還大，失去了君主立憲的意義。後來，到了宣統 3 年（西元 1911 年），清廷成立了「責任內閣」，13 人的內閣名單中，滿人佔了 8 名、漢人 4 名、蒙古人 1 名。其中，8 位滿人中，有 4 位是皇族，因此被譏為「皇族內閣」。立憲派人士大感失望，認為清廷心裡並沒有立憲的誠意，於是紛紛開始轉向支持革命運動。



單選題：共有 8 題，請將答案寫於題號之前

- 右列「挑戰—回應」的配合，何者正確？
(A) 甲 (B) 乙 (C) 丙 (D) 丁
- 慈禧太后推行「庚子後新政」的真正用意為何？
(A) 順應世界潮流 (B) 躋進世界強國之林
(C) 收拾民心，鞏固政權 (D) 富國強兵
- 甲午戰爭前，已經有人倡議英國式的議會制度，百日維新時，康有為更有訂憲法、開國會之請，但都沒成功。近代中國開始展開立憲運動，是受哪一場戰爭的刺激？
(A) 八國聯軍 (B) 日俄戰爭 (C) 英法聯軍 (D) 中法戰爭
- 「廢除科舉，所有鄉、會試一律停止。」上述應是清末哪次改革的內容？
(A) 自強運動 (B) 戊戌變法 (C) 庚子後新政 (D) 立憲運動
- 日本在甲午戰爭後，希望藉由朝鮮入侵中國東北，日本能如願以償，勢力正式進入東北，與哪一場戰役有關？
(A) 英法聯軍 (B) 鴉片戰爭 (C) 八國聯軍 (D) 日俄戰爭
- 科舉制度在中國實行一千多年的時間，至下列哪一個運動期間正式廢除科舉？
(A) 自強運動 (B) 戊戌變法 (C) 立憲運動 (D) 庚子後新政
- 清末立憲運動，立憲派人士轉而支持革命的重要關鍵為何？
(A) 清廷「皇族內閣」的成立 (B) 革命力量聲勢浩大
(C) 瓜分危機 (D) 日俄戰爭的教訓
- 在立憲派知識分子的要求下，宣統元年，各省諮議局成立，此為中國有史以來第一次建立民選議政機構，各界對清朝期望很深，然在下列哪個事件發生後，立憲派人士很失望，轉而支持革命？
(A) 責任內閣名單公布後 (B) 公布憲法草案後
(C) 中央設立資政院後 (D) 裁撤舊內閣後

	挑戰	回應
甲	鴉片戰爭	自強運動
乙	甲午戰爭	戊戌變法
丙	八國聯軍	立憲運動
丁	日俄戰爭	庚子後新政



3-3 革命運動的興起

背景	清朝末年，知識分子面臨內憂外患，紛紛尋求救國的途徑		
	立憲派	主張－ <u>君主立憲</u> ：多數人主張實施君主立憲，進行改革，如 <u>康有為</u> 、 <u>梁啟超</u>	
	改革派	主張－ <u>民主共和</u> ：部分主張革命，推翻君主體制，建立民主共和國，如_____	
革命之火	<u>興中會</u>	時間	光緒 20 年 (1894 年)
		地點	孫中山受到甲午戰爭的刺激，在_____ <u>檀香山</u> 建立興中會，鼓吹革命
	<u>同盟會</u>	時間	光緒 31 年 (1905 年)
		地點	興中會結合其他團體，在 <u>日本東京</u> 成立「_____ <u>同盟會</u> 」(簡稱同盟會)
		革命	1. 同盟會成立後，革命黨人發動多次革命 2. 以宣統 3 年 <u>3 月 29 日</u> (1911/4/27) 的「 <u>廣州</u> _____ <u>之役</u> 」最為壯烈 (又被稱為 <u>329 之役</u> ，是青年節的由來)

【故・事】孫中山 (本名孫文，因曾化名「中山樵」而通稱孫中山)：是清末倡導以革命推翻清朝政府的重要領導人物。他生於廣東農家，由於生活所迫，許多人選擇到海外謀生，他的大哥孫德彰便是其中之一。這使得孫中山很早就與西方文化接觸。他先後在夏威夷和香港求學。他曾於光緒 20 年 (西元 1894 年)，甲午戰爭的前夕，上書李鴻章，欲從體制內著手，提出「人能盡其才，地能盡其力，物能盡其用，貨能暢其流」等政治主張，但未獲採用。失望之餘，他開始採取激進的革命方式。在他提出的同盟會綱領中，包含「驅除韃虜，恢復中華，創立民國，平均地權」等，此誓詞已涵蓋民族、民權、民生等基本概念，亦即已隱含了「三民主義」的思想。

【故・事】廣州黃花崗之役：民國前一年 (宣統三年) 3 月 29 日，革命黨人黃興，率領革命志士數百人，進攻廣州總督府，點燃了由孫中山所領導的第十次國民革命。但是由於準備仍有疏漏，而且革命黨各支隊間的協調欠佳，所以這次的行動再度失敗。指揮行動的黃興負傷但倖免於難，然而卻有五十餘人戰死、二十餘人被捕後就義，共八十六人死難，後合葬於黃花崗。史稱「黃花崗之役」、「辛亥廣州起義」或「三二九廣州起義」。黃花崗起義失敗的消息傳出後，中國社會上同情的聲浪漸漸升高，無論是知識分子還是市井小民，都有越來越多的人公開肯定革命、贊成革命。孫中山回顧這段歷史時也感慨地說：「是役也，碧血橫飛，浩氣四塞，草木為之含悲，風雲因而變色，全國久蟄之人心，乃大興奮。怨憤所積，如怒濤排壑，不可遏抑，不半載而武昌之大革命以成。則斯役之價值，直可驚天地、泣鬼神，與武昌革命之役並壽。」



單選題：共有 10 題，請將答案寫於題號之前

1. 清朝末年，面對中國的內憂外患，知識分子紛紛尋找救國的良方，孫中山主張革命，推翻君主體制，建立民主共和國，請問：孫中山的革命運動是受到哪一場戰爭戰敗的刺激？
(A) 鴉片戰爭 (B) 英法聯軍 (C) 甲午戰爭 (D) 八國聯軍
2. 小新是中國革命同盟會的創始會員之一，他回想當初中國革命同盟會成立時，他們是在同盟會的創始地宣讀入會誓辭，請問：小新應是在何處宣讀？
(A) 檀香山 (B) 香港 (C) 東京 (D) 廣州
3. 孫中山革命組織成立後，幾經演變而為今日的中國國民黨，請問：在哪一個組織期間，已可看出具有「三民主義」的思想在裡面？
(A) 興中會 (B) 同盟會 (C) 國民黨 (D) 中華革命黨
4. 孫中山為了鼓吹革命，吸收青年學生加入革命的行列，首先成立哪一個組織？
(A) 興中會 (B) 同盟會 (C) 國民黨 (D) 中華革命黨
5. 同盟會與其他革命團體合作改組，為革命運動史上的重要事件。請問，同盟會在何處正式成立？
(A) 日本東京 (B) 美國檀香山 (C) 北京頤和園 (D) 廣州黃花崗
6. 在介紹孫文的傳記書中，常會提到他從小就喜歡聽反清復明的故事。下列哪個故事可能也是他在幼年時聽到的，並在他心中種下革命種子？
(A) 太平天國 (B) 日俄戰爭 (C) 湘軍崛起 (D) 立憲運動
7. 清末的救國運動，有人主張君主立憲，走溫和的改革路線，有人主張革命運動，革命領導人孫中山，是受哪一場戰役的刺激開始他的革命事業？
(A) 中法戰爭 (B) 甲午戰爭 (C) 八國聯軍 (D) 日俄戰爭
8. 不少人常用孫中山革命十次失敗的精神來勉勵人們繼續努力，不要懈怠，第十次的起義—廣州黃花崗之役，雖然失敗，但革命行動卻因此逐漸獲得社會的支持與同情。請問：廣州黃花崗之役是在哪一個革命組織期間發起的反滿運動？
(A) 興中會 (B) 同盟會 (C) 臺灣民眾黨 (D) 臺灣文化協會
9. 「七十二健兒酣戰春雲湛碧血，四百兆國子愁看秋雨溼黃花。」是黃興為追悼哪一事件的陣亡者而撰寫的輓聯？
(A) 辛亥革命 (B) 英法聯軍 (C) 武昌起義 (D) 廣州三二九之役
10. 中華民國政府將 3 月 29 日定為青年節，以紀念死難的革命烈士，請問：329 青年節的由來與哪一場革命運動有關？
(A) 惠州之役 (B) 潮州之役 (C) 黃花岡之役 (D) 武昌起義



3-4 武昌起義

時間	宣統 3 年 (1911 年, 辛亥年)		
原因	運動：清廷宣布鐵路國有政策，強行將民間集資興建的鐵路收歸國有，導致原先投資的士紳不滿，引發保路運動，其中以 <u> </u> 省的抗爭最為激烈		
過程	1. 清廷調動 <u>湖北</u> 的軍隊，進入四川鎮壓保路運動，導致湖北守備空虛 2. 革命黨人乘機在 1911 年 8 月 19 日 (陽曆 <u>10 月 10 日</u>) 發動「 <u>武昌起義</u> 」，一舉成功		
結果	宣布獨立	武昌起義成功後，各省紛紛響應，宣布獨立	
	建立 臨時政府	時間	民國元年 (1912 年) 元旦 (註一)
		地點	響應革命的各省代表在 <u> </u> 成立 <u>中華民國臨時政府</u>
人物	由 <u> </u> 擔任臨時大總統		
影響	<u>中華民國</u> 正式誕生，滿清政權已經搖搖欲墜		


【註一】中國傳統以帝王年號紀年，農曆紀日。中華民國成立後，改以民國紀年，陽曆紀日，並開始使用一週七天的星期制。元旦即元月 1 日。



◀ 保路運動／四川保路同志會發行的刊物



▲ 武昌起義前後形勢圖



▲ 湖北軍政府／武昌起義，革命軍占領武昌，建立湖北軍政府。起義時間是陽曆 10 月 10 日，為中華民國國慶日的由來

【故・事】**四川保路運動**：主要是由諮議局議長蒲殿俊、副議長羅倫等人所領導。他們留學日本的時候，已表示四川鐵路必須自辦，結果聽聞清廷竟宣布「鐵路國有政策」，於是表示反對。1911年6月，成立「保路同志會」，但許多成員被逮捕，於是保路同志會決定起事，最後死傷眾多，四川成都的秩序陷入混亂，各地保路同志會繼起，發展成為「川民」打倒滿清統治的革命戰爭。四川保路運動，一開始僅是群眾運動，後來與革命黨合流，性質產生轉變。孫中山曾說：「若沒有四川保路同志會的起義，武昌革命要遲一年半載。」川人爭路風潮的重要性，在於導致革命提早暴發，加速了中華民國的誕生。



單選題：共有 8 題，請將答案寫於題號之前


1. 每年的 10 月 10 日為中華民國的國慶日，往往有大批海外僑胞歸國，許多中華民國的國民在這天會熱烈歡慶。請問：國慶日的起源，與下列何地的革命行動關係最密切？
(A) 武昌 (B) 武漢 (C) 南京 (D) 北京
2. 民國 3 年孫中山曾說：「吾黨自第一次革命，國體與政體變更後，即以鞏固共和，實行民權民生兩主義為己任，乃以宋案、借款之故，促使二次革命。不幸精神崩潰，相繼敗……。」請問：文中所謂「第一次革命」討伐的對象是何人？
(A) 慈禧太后 (B) 康有為 (C) 梁啟超 (D) 滿清政府
3. 宣統 3 年，清廷宣布鐵路國有政策，強行將民間集資興建的鐵路收歸國有，引發投資士紳的反對，其中以哪一省的抗爭最為激烈？
(A) 湖北省 (B) 山東省 (C) 河北省 (D) 四川省
4. 歷經十一次的革命運動，終於推翻滿清，建立民國，請問：中華民國臨時政府成立時，第一任臨時大總統是下列何人？
(A) 梁啟超 (B) 孫中山 (C) 袁世凱 (D) 蔣中正
5. 清末民間因不滿政府突然宣布將鐵路收歸國有，紛紛起來抗議，引發保路運動，請問：保路運動以哪一個省抗爭最為激烈？
(A) 廣東 (B) 湖北 (C) 南京 (D) 四川
6. 民國元年，中華民國臨時政府成立，當時新政府成立後定都於何處？
(A) 南京 (B) 北京 (C) 西安 (D) 上海
7. 武昌革命的成功有其背景與契機，請問下列何者是武昌革命時的情勢背景？
(A) 立憲運動失敗 (B) 八國聯軍 (C) 庚子後新政 (D) 保路風潮
8. 武昌起事得以成功的主要原因為何？
(A) 各省紛紛響應 (B) 黃埔軍校的成立 (C) 袁世凱新軍協助 (D) 華僑的資金援助

【歷屆會考試題】 共 8 題，請將答案寫在題號前面


1. 以下是清末文人對某事件的描述：「當時在官府的默許下，群眾進入天津租界，縱火焚燒教堂、房屋，於是各街市店舖有販售洋貨者，皆用紅紙將招牌上的『洋』字糊上，以防群眾焚掠。即便是一般家庭日用之物，如洋燈、鐘錶等類，也都掩藏不敢使用。」根據上文判斷，此事件最可能是下列何者？
(A) 鴉片戰爭 (B) 英法聯軍 (C) 義和團事變 (D) 太平天國起義
2. 某書提及：「清廷想收回民間集資興建鐵路的權利，所以針對民間已投資者提出補償：在湖南、湖北，投資金額全數償還；在廣東，僅償還 60%，其餘 40% 由政府股票支付；在四川，政府僅發給股票。這種處置引起四川士紳激憤，朝廷為控制騷亂，將部分湖北軍隊調往四川。」上述情況最可能為下列何者的發生提供了機會？
(A) 自強運動 (B) 戊戌政變 (C) 武昌起義 (D) 義和團事變
3. 右圖是某次戰役中，外國勢力入侵中國的示意圖。這場戰役中，中國東南各省因保持中立，因此免於受到戰禍的波及。由圖中判斷，這是哪場戰役的示意圖？
(A) 鴉片戰爭 (B) 英法聯軍之役
(C) 八國聯軍之役 (D) 甲午戰爭
4. 清朝末年，知識分子為了拯救被外國欺凌的中國，曾嘗試過各種的方法，希望能夠使中國強盛，避免外國的侵略。其中，立憲運動的提倡與哪場戰役的發生契機有關？
(A) 甲午戰爭 (B) 鴉片戰爭
(C) 英法聯軍之役 (D) 日俄戰爭
5. 中國自隋唐以來，科舉制度一直是政府用人任官的標準，這個標準到了清末時起了變化。在哪次的改革行動中，清廷下詔廢除了科舉制度？
(A) 自強運動 (B) 庚子後新政 (C) 立憲運動 (D) 革命運動
6. 某位清末駐華的外國大使回憶道：「這些號稱神靈附體、刀槍不入，瘋了似的義和團民。從四面八方包圍了我們的使館區，不僅將我國的外交人員從使館內驅趕到廣場，更在廣場上殘酷的殺害了他們……。」這位大使可能是哪個國家的人？
(A) 西班牙 (B) 荷蘭 (C) 蘇聯 (D) 德國
7. 「清末，朝廷向列強宣戰，當時部分地方督撫卻與上海各國領事協議：『作為省的最高長官，我們將維護外國人生命與財產的安全，並在管轄區內鎮壓亂民，各國應約束其士兵的行動。』」上述情況的出現與下列何者關係最密切？
(A) 保路運動 (B) 義和團事變 (C) 同盟會成立 (D) 甲午戰爭爆發
8. 外國的報紙曾對中國某事件有以下報導：「四川保路同志會所發的星星之火，終於燎原了。流亡海外的反清領袖孫中山可能被推選為民國總統。」這最可能是針對下列何者所做的報導？
(A) 武昌起義 (B) 聯俄容共 (C) 二次革命 (D) 護法運動



【回家作業】第三課的課程心智圖（概念圖）



Ch4 民初政局與社會變遷



4-1 袁世凱與洪憲帝制




背景	武昌起義後，清廷重用 <u>袁世凱</u> （北洋大臣，握有重兵），鎮壓革命運動	
袁世凱 當政	議和	袁世凱雖然握有軍隊指揮權，但認為清廷大勢已去，便與臨時政府談判議和
	條件	臨時政府同意如果清帝退位，就讓袁世凱擔任臨時大總統
	結果	1. 帝制的結束：袁世凱逼 <u>皇帝溥儀</u> 退位，中國兩千多年的帝制至此結束 2. 遷都 <u>北京</u> ：孫中山在 <u>中華民國臨時約法</u> 頒布之後，讓出臨時大總統職位給袁世凱。但袁世凱藉口北京兵變，不願南下就職，臨時政府因而遷往北京
<u>二次革命</u>	改組	民國元年，同盟會改組為 <u>國民黨</u> ，主張實行 <u>政黨政治</u>
	威脅	民國 2 年，國民黨贏得國會大選
	衝突	國民黨代理理事長 <u>宋教仁</u> 被刺身亡（輿論：袁世凱指使）
	結果	1. <u>二次革命</u> ：國民黨和袁世凱的衝突不斷升高，因此發動「二次革命」討袁，結果失敗 2. <u>護國軍起義</u> ：民國 3 年，孫中山將國民黨改組為 <u>中華革命黨</u> ，繼續推動反袁運動
袁世凱 的野心	1. <u>正式大總統</u> ：二次革命之後，袁世凱更加獨裁，首先逼迫國會選舉他為正式大總統 2. <u>解散國會</u> ， <u>廢止臨時約法</u> ，由總統獨攬大權 3. 醞釀恢復 <u>帝制</u>	
	宋教仁	
<u>五九國恥</u>	背景	民國 3 年， <u>第一次世界大戰</u> 爆發， <u>日本</u> 藉機對 <u>德國</u> 宣戰，派兵入侵 <u>山東</u>
	時間	民國 4 年，日本向袁世凱提出「 <u>二十一點要求</u> 」，意圖得到山東等地的特權
	結果	5 月 9 日，政府被迫接受部分條款，並將這天定為國恥紀念日（五九國恥）
<u>洪憲帝制</u>	作法	1. 袁世凱製造恢復帝制的輿論，順勢接受推舉 2. <u>洪憲帝制</u> ：宣布將民國 5 年定為「洪憲元年」，改國號為「 <u>中華帝國</u> 」
	結果	1. <u>護國軍起義</u> ：民國 4 年底， <u>蔡鍔</u> 、 <u>唐繼堯</u> 等人在雲南起義，組織護國軍討袁 2. 列強不支持、親信紛紛表示反對 3. 民國 5 年 3 月，袁世凱只好撤銷帝制，不久後病死（同年的 6 月）

【故・事】 **中華民國臨時約法**：簡稱「臨時約法」，可視為正式行憲前的國家根本大法，由南京的臨時參議院所制定，為防止袁世凱專權，採**內閣制**。雖不是正式憲法，但在實行期間仍具有等同憲法的地位，一但總統有重大違法失職等情事發生，需接受其約束。即使如此，但仍非正式憲法，具有過渡性，因此被稱為臨時約法。

【故・事】 **二次革命**：民國2年3月，宋教仁遇刺身亡；同年4月，袁世凱擅自與英、法、俄等列強借款，並下令罷免國民黨江西、安徽、廣東三位都督的職務。國民黨反對袁世凱違法誤國，決定再次發動革命討袁。因前有推翻滿清的第一次革命，故本次革命被稱為「二次革命」。

【故・事】 **袁世凱與二十一條要求**：民國4年，日本趁著西方列強深陷第一次世界大戰而無暇他顧之際，向中華民國總統袁世凱提出五大項目共計二十一條條款，要求承認或促成日本在中國各地的優越地位與特權，等於要將中國納為被保護國，史稱「二十一條要求」。袁世凱在外交方面的負面形象，主要就是來自這次的二十一條交涉。從前人們常說袁世凱為了爭取日本支持自己的帝制運動，所以在5月9日不惜答應了二十一條中的大多數要求，以致被人批評為「五九國恥」。但近年來學者根據檔案史料發現，袁世凱政府最後和日本簽訂的條約雖然還是喪權，畢竟已努力將二十一條要求的傷害性降到了最低，整場外交戰役可說「雖敗榮」，終究沒有讓日本達到滅亡中國的目的。而且袁世凱還在簽訂條約後，深深體會到國力不足只能被霸凌的屈辱，於是下令將5月9日列為國恥紀念日。「國恥」兩個字，自己說出來，或是別人罵出來，感覺還真的不同呢。





單選題：共有 19 題，請將答案寫於題號之前

1. 某歷史書中寫道：「他在清末負責編練北洋新軍，當政時，他手下的部將分佈於全國各地，在他病逝後，這些將領各據一方，形成軍閥割據局面。」上文的「他」，指的是誰？
(A) 溥儀 (B) 孫文 (C) 袁世凱 (D) 宋教仁
2. 袁世凱擔任臨時大總統後，為了取得實際政權，開始一連串違法亂紀的行為，在袁世凱暗殺國民黨的領袖後，國民黨發起哪一個運動討伐袁世凱？
(A) 二次革命 (B) 武昌起義 (C) 保路運動 (D) 黃花崗之役
3. 民國初年，何人任第二任臨時大總統，臨時參議院以《臨時約法》約束他？
(A) 溥儀 (B) 孫文 (C) 袁世凱 (D) 宋教仁
4. 孫中山在中華民國臨時約法頒布後，辭臨時大總統職務讓位給袁世凱，袁世凱藉口兵變，將臨時政府首都遷到何處？
(A) 南京 (B) 洛陽 (C) 北京 (D) 西安
5. 民國二年國會大選後，發生一起震驚全國的暗殺案件，袁世凱被輿論認為是該案的幕後主使人。請問當時被暗殺的是誰？
(A) 溥儀 (B) 孫文 (C) 袁世凱 (D) 宋教仁
6. 以下是國民黨改組為「中華革命黨」的宣言：「吾黨自第一次革命，國體與政體變更後，即以鞏固共和，實行民權民生兩主義為己任，乃以宋案、借款之故，促起二次革命，不幸精神潰散，相繼敗走，……，重新發起中華革命黨，……，本黨黨員，協力同心，共圖三次革命……。」文中「二次革命」的對象是誰？
(A) 溥儀 (B) 孫文 (C) 袁世凱 (D) 宋教仁
7. 革命黨人在南方發起武昌起義後，清廷見大勢已去，不得已只好重用哪一個人，希望藉由他手中的兵權來鎮壓革命運動？
(A) 宋教仁 (B) 梁啟超 (C) 袁世凱 (D) 孫中山
8. 西元 2016 年臺灣舉辦總統與立法委員選舉，各政黨都提出「國會改革」的議題，中華民國在民國 2 年舉辦第一次國會大選，但此後國會制度卻遭破壞，請問：國會曾受到下列何者脅迫解散？
(A) 宋教仁 (B) 梁啟超 (C) 袁世凱 (D) 孫中山
9. 中華民國臨時約法為正式行憲前的國家根本大法，袁世凱擔任臨時大總統時，臨時約法採行哪一種體制？
(A) 君主制 (B) 總統制 (C) 雙首長制 (D) 內閣制
10. 第一次世界大戰爆發後，日本乘機向袁世凱提出「二十一條要求」，主要是意圖取得中國何地的特權？
(A) 東北 (B) 山東 (C) 上海 (D) 廣州

11. 某報訊：「國會大選截果皆小，國民黨大或權勝，代理理事長掌握政治權力，備感壓力的袁世凱做出令人意想不到的，導致引發一場討袁行動。」請問上文中的討袁行動應指下列何者？
 (A) 護法運動 (B) 二次革命 (C) 護國軍之役 (D) 武昌起義
12. 袁世凱在民國初年稱帝的野心，可由他一連串的行動可以看出，下列是袁世凱稱帝前的布局，請按照發生的先後順序加以排列？甲、解散國會；乙、正式大總統；丙、製造恢復帝制的輿論；丁、改國號為中華帝國
 (A) 甲乙丙丁 (B) 乙丙甲丁 (C) 甲乙丁丙 (D) 乙甲丙丁
13. 袁世凱稱帝，改國號為「中華帝國」後，引起各方勢力的反對，蔡鍔、唐繼堯等人發起哪一個運動討袁，帝制最後被迫取消？
 (A) 護法運動 (B) 二次革命 (C) 護國軍之役 (D) 武昌起義
14. 民國 4 年，蔡鍔、唐繼堯等人在雲南組織「護國軍」，討伐袁世凱破壞民主共和的行為，護國軍之役所以成功，是在哪些因素的配合下？甲、各省的響應；乙、列強反對帝制；丙、張勳辦子軍反對帝制；丁、袁世凱的親信反對帝制
 (A) 甲乙丙 (B) 乙丙丁 (C) 甲丙丁 (D) 甲乙丁
15. 「日本看準了袁世凱稱帝的野心，趁機向袁世凱提出二十一條要求，袁世凱為了爭取日本的支持，接受日本所提大部分的内容。」上述事件在歷史上史稱為何？
 (A) 五九國恥 (B) 洪憲帝制 (C) 二次革命 (D) 武昌起義
16. 孫中山自組織第一個革命組織以來，革命團體常隨著局勢的發展而做調整，以便發揮最大的效力。下面是孫中山先生在不同時期的革命組織，請按照這些組織成立的先後時間加以排列？甲、國民黨；乙、興中會；丙、中華革命黨；丁、中國革命同盟會
 (A) 甲丙乙丁 (B) 乙丁甲丙 (C) 乙丙甲丁 (D) 丁乙丙甲
17. 民初國會殿堂出現一段言論：「民國主權，本於國民權體，既經國民代表大會全體表決，改用君主立憲，本大總統自無討論餘地。」請問：這段話與下列哪個史實最相關？
 (A) 袁世凱製造輿論順勢恢復帝制 (B) 孫中山就任臨時大總統
 (C) 蔡鍔發動戶國軍欲討伐袁世凱 (D) 溥儀退位結束中國帝制
18. 袁世凱對日本所提的二十一條要求，同意接受大部分的條件，請問：袁世凱接受日本二十一條要求，最主要的原因為何？
 (A) 為了爭取日本支持其帝制運動 (B) 袁世凱不滿國民黨發起二次革命
 (C) 歐美列強脅迫袁世凱必須接受 (D) 他認為二十一條要求對中國不會造成損害
19. 袁世凱就任臨時大總統後，於民國 2 年與國民黨反目成仇，請問：他的哪一項作為因而使國民黨發起「二次革命」？
 (A) 破壞民主共和的政體 (B) 解散國會
 (C) 強迫國會選他為正式大總統 (D) 暗殺宋教仁



4-2 軍閥統治與南北分裂

一、軍閥統治 (民國 5~17 年)

背景	袁世凱	生前	他的軍事將領散布全國
		死後	各地將領割據一方，互爭地盤
影響	各地軍閥常依附列強，擴張武力，因此政局極不穩定		

派系	首領	控制區域	支持列強	
北洋軍閥	皖系 段祺瑞	山東、安徽 浙江、福建	日本	
	直系	馮國璋	北京 長江中下游	英國 美國
		曹錕		
		吳佩孚 孫傳芳		
奉系 張作霖	東北地區	日本		
南方軍閥	滇系 唐繼堯	雲南、貴州	法國	
	桂系 陸榮廷	廣西、廣東	法國	



【補充】北洋軍閥：清末，袁世凱編練的新軍，日後演變成北洋軍。民初軍閥多出自北洋軍，史稱「北洋軍閥」

【補充】皖系、直系、奉系：皖系的首領是安徽（簡稱皖）人段祺瑞，直系以直隸人馮國璋為首，兩人都曾在清末協助袁世凱練兵。奉系由奉天人張作霖領導，民國成立後逐漸控制東北

二、張勳擁護溥儀復辟 (民國 6 年)

職稱	人物	過程 (民國 6 年)
總統	黎元洪	1. 黎元洪恢復 <u>臨時約法</u> 和 <u>國會</u> 2. 黎元洪和段祺瑞不合，發生政爭 3. 黎元洪召請 <u>張勳</u> 到北京調解 4. 張勳率兵抵達北京，逼迫黎元洪解散國會，趁機擁立溥儀復辟 5. 被張勳復辟的 <u>溥儀</u> ， <u>二度登基</u> 後，再次被段祺瑞以武力推翻
國務總理	段祺瑞	
地方將領	張勳	
退位皇帝	<u>溥儀</u>	



張勳



溥儀

三、護法運動與南北分裂（民國 6~12 年）

背景	_____ 掌握大權後，不遵守臨時約法，另立新國會，並參加第一次世界大戰	
緣由	孫中山認為臨時約法與原有國會遭到毀棄	
運動	行動	<u>孫中山</u> 號召部分國會議員南下「護法」
	軍政府	民國 6 年（西元 1917 年）孫中山在 _____ 成立 <u>中華民國軍政府</u> （護法政府）
	影響	使中國陷入南北分裂的局面
南北分裂	北方	北洋軍閥掌控的北洋政府（北京政府）
	南方	孫中山在廣州成立中華民國軍政府（廣州軍政府）
結果	1. 孫中山的護法運動受到南方軍閥的牽制，一再挫敗 2. _____ 賄選：民國 11 年，直系將領曹錕恢復臨時約法，隔年賄賂國會議員而當選總統	
轉變	孫中山結束護法，轉而聲討曹錕賄選	



單選題：共有 6 題，請將答案寫於題號之前

- 民國初年，各地將領割據一方，互爭地盤，形成皖系、直系、奉系等北洋派系的軍閥，主要與哪一個人過世後，他底下的將領分裂有關？
(A) 段祺瑞 (B) 袁世凱 (C) 李鴻章 (D) 曹錕
- 民國 6 年，大總統黎元洪與國務總理段祺瑞發生政爭，黎元洪召請南方將領哪一個人至北京調停糾紛，但這位將領抵達後發動政變，擁立溥儀復辟？
(A) 蔡鍔 (B) 唐繼堯 (C) 曹錕 (D) 張勳
- 民國 6 年，臨時約法被毀壞，國會無法召開，孫中山先生號召部分國會議員南下護法。請問：護法運動主要是討伐哪一個人？
(A) 段祺瑞 (B) 唐繼堯 (C) 曹錕 (D) 李鴻章
- 護法運動使中國陷入南北分裂的局面，這段期間中國有兩個政府，一個在北京，由北洋軍閥承接交替，另一個為孫中山成立的中華民國軍政府位於何處？
(A) 南京 (B) 上海 (C) 廣州 (D) 武漢
- 孫中山先生的護法運動進行的並不順利，先是受到南方軍閥的牽制，後又有哪一個人因賄選而當選總統，孫中山因而結束護法運動？
(A) 段祺瑞 (B) 曹錕 (C) 唐繼堯 (D) 李鴻章
- 軍閥亂政造成民國初年政局的不安，請問：下列何者「並非」軍閥的特色？
(A) 依附列強，擴張武力 (B) 以完成中國的統一為目標
(C) 經常以武力解決糾紛 (D) 以個人為中心，擁有軍隊



4-3 清末民初的社會經濟

發展背景	清末民初，_____是引進西方文明的主要窗口		
新知識份子的 <u>崛起</u>	傳統社會	以 <u>士紳</u> 為社會的領導階層	
	清末民初	緣由	1. <u>新式學堂</u> 的設立 2. <u>出國留學</u> 的風氣
		轉變	1. 受新式教育的新知識分子逐漸取代士紳 2. 新知識份子扮演傳播新知、批判社會的角色
婦女地位 <u>的提升</u>	傳統社會	「女子無才便是德」的傳統觀念深植民心	
	清末民初	轉變	婦女開始接受新式教育，打破女子無才便是德的觀念
		作為	組織團體，發行刊物，主張男女平等，婦女地位逐漸提升
社會風俗 <u>的轉變</u>	器物	在 <u>上海</u> 等城市，引進 <u>自來水</u> 、 <u>電話</u> 、 <u>電燈</u> 、 <u>電影</u> 、 <u>百貨公司</u> 、 <u>汽車</u> 等	
	服飾	<u>西服</u> 、 <u>旗袍</u>	
	制度觀念	<u>放足斷髮</u> 、 <u>自由戀愛</u> 的風氣漸升（「父母之命，媒妁之言」仍然存在）	
工商業 <u>的發展</u>	背景	<u>甲午戰爭</u> 後，外商可在通商口岸設立工廠，中國本土工商業發展困難	
	轉變	<u>第一次世界大戰</u> 時，列強忙於戰事，中國本土工商業獲得發展的良機	
	衰退	一戰結束後，列強經濟勢力再度東來，中國本土工商業陷入衰退狀態	



牛刀小試

單選題：共有 4 題，請將答案寫於題號之前

- 林教授發表一系列論文，包括：《長馬褂至洋襯衫：談中國風俗變遷》、《纏足到斷髮：論中國婦女地位》等，請問：林教授主要研究哪一時期的中國社會？
(A) 元末明初 (B) 明末清初 (C) 清末民初 (D) 國民政府遷臺
- 民國建立後，有許多不同於以往的新氣象，下列何者「非」民國初年的社會氣象？
(A) 新知識分子的崛起 (B) 工商業的發展 (C) 社會風俗的轉變 (D) 標榜女子無才便是德
- 中國的工商業起步較外國晚，加上清末喪失許多主權，更不利於中國本土工商業的發展。但在哪一段時期中國本土工商業獲得發展的良機？
(A) 辛丑和約簽訂後 (B) 一戰期間時 (C) 護法運動期間 (D) 一戰結束後
- 民國初年，在上海不可能會看到哪種景象？
(A) 女性多改穿洋裝 (B) 電車在市內行駛，搭乘非常方便
(C) 知識分子準備參加科學考試 (D) 逛百貨公司、看電影、跳舞



4-4 新文化運動

緣由	民國初年，一些新知識分子認為清末以器物、制度為重心的革新，難以擺脫積弱不振，中國必須要進行 思想文化的改革 才能成為現代化的國家 【複習】 以 器物 為重心的革新為：_____ 以 制度 為重心的革新包括了：_____			
開端	時間	民國 4 年，於 <u>上海</u> 成立		
	刊物	<u>青年雜誌</u> （後改稱為新青年，目的在於「破舊立新」）		
	主編	_____		
	特色	介紹西方文化，批評傳統，是揭開新文化運動的序幕		
學校	民國 6 年，_____擔任 <u>北京大學</u> 校長，提倡自由學風，成為推動新文化運動的重鎮			
內容	提倡 <u>白話文</u>	人物	_____、_____等人	
		理念	他們認為應以通俗易懂的白話文取代艱澀難懂的古文	
		迴響	作家_____發表了第一篇白話文小說：狂人日記	
		影響	白話文與新式標點符號逐漸流行，有助於教育的普及與知識的傳布	
	思想的解放	作法	新知識分子將當時西方流行的學說與思想介紹到中國	
		影響	不再獨尊儒家思想，學術思想呈現百家爭鳴的局面	
		西方學說	1. 「 <u>德先生</u> 」(democracy, _____) 新知識份子普遍認為這兩項 2. 「 <u>賽先生</u> 」(science, _____) 是西方得以富強的基礎	
		共產主義	引進	當時引進中國的西方學說中，包括了共產主義
		影響	<u>中國</u> <u>黨</u> ：民國 10 年成立，係因受到蘇聯的策動指導	



【補充】胡適的「三從四得」：太太出門要跟從，太太命令要服從，太太說錯要盲從；太太化妝要等得，太太生日要記得，太太打罵要忍得，太太花錢要捨得



單選題：共有 13 題，請將答案寫於題號之前

- 清末民初，面對西方的衝擊，中國改革層面的先後次序為何？
(A) 器物、制度、思想與文化兼顧 (B) 制度→器物→思想與文化
(C) 器物→制度→思想與文化 (D) 器物→思想與文化→制度
- 清末民初，新文化運動興起，下列哪一所學校在校長的推動下，成為新文化運動的重鎮？
(A) 北京大學 (B) 上海大學 (C) 西式學堂 (D) 淡水牛津學堂
- 從何時開始，中國部分的知識分子高唱「全盤西化」，大量引進西方思想？
(A) 新文化運動 (B) 自強運動 (C) 百日維新 (D) 立憲運動
- 第一次世界大戰期間，陳獨秀等人在上海出版哪份刊物，開啟「新文化運動」？
(A) 《民報》 (B) 《新民叢報》 (C) 《臺灣民報》 (D) 《新青年》
- 下列何者在新文化運動期間最可能受到嚴厲的批評和攻擊？
(A) 科學的研究方法 (B) 傳統的儒家禮教 (C) 共產主義的思想 (D) 自由的資本主義
- 共產主義思想傳入中國後，對中國之後歷史的發展影響深遠，影響到日後中國共產黨的產生。請問：中國共產黨成立於何時？
(A) 民國 10 年 (B) 民國 11 年 (C) 民國 12 年 (D) 民國 13 年
- 中國文人在過去一向以文言文來從事文章的寫作，新文化運動期間，知識分子主張應以通俗易懂的白話文取代艱澀難懂的古文，中國第一篇白話文小說狂人日記的作者是何人？
(A) 胡適 (B) 陳獨秀 (C) 魯迅 (D) 梁啟超
- 新文化運動期間，知識分子除了主張以白話文取代文言文之外，在思想方面呈現百家爭鳴的局面，下列哪一項「不是」當時知識分子會感興趣的課題？
(A) 民主 (B) 科學 (C) 儒家思想 (D) 共產主義
- 民國初年，一些新知識分子認為中國必須進行思想文化的改革，才能成為現代化的國家，而有「新文化運動」的展開。揭開新文化運動序幕是由哪一個事件開始？
(A) 青年雜誌的創刊 (B) 白話文的提倡 (C) 共產主義的引進 (D) 五四運動
- 民國十年，部分知識分子在何國共產黨的協助下，成立中國共產黨，期望推動另一波的革命？
(A) 日本 (B) 德國 (C) 俄國 (D) 義大利
- 民初引進西方思潮，除宣傳民主、科學、白話文運動外，尚有下列何者？
(A) 三民主義 (B) 新式學堂 (C) 革命運動 (D) 共產主義
- 下列何人主張使用白話文取代文言文，得到陳獨秀呼應？
(A) 胡適 (B) 梁啟超 (C) 孫文 (D) 康有為
- 右列文風的出現，與下列何史事有關？
(A) 自強運動 (B) 戊戌變法
(C) 立憲運動 (D) 新文化運動

悄悄的我走了，正如我悄悄的來。我揮一揮衣袖，不帶走一片雲彩



4-5 五四運動

時間	民國 8 年，知識份子目睹時局動盪，出現「救亡圖存」的呼聲
背景	<ol style="list-style-type: none"> 1. 巴黎和會：中華民國以第一次世界大戰戰勝國的身份參與和會 2. 目的：希望可以收回<u>德國</u>在<u>山東</u>的特權 3. 決議：和會卻允許<u>日本</u>繼承德國在山東的特權 4. 結果：消息傳回中國，群情激憤，引發五四運動
經過	北京大學等校學生於 5 月 4 日聚集在_____廣場，發起遊行示威
訴求	<ol style="list-style-type: none"> 1. 收回山東權利（日本趁一戰爆發，對德宣戰，出兵佔領山東） 2. 廢除二十一條（日本隨後向袁世凱提出二十一條要求） 3. 外爭主權，內除國賊（曹汝霖、陸宗輿、章宗祥被免職）
迴響	各地紛紛以罷課、罷工、罷市、抵制日貨等方式響應
結果	北京政府在輿論壓力下，被迫拒簽對德和約
影響	<ol style="list-style-type: none"> 1. 五四運動是學生救亡圖存的愛國運動，促成社會各階層的覺醒，加深民眾尋求國家自立圖強的意識，並擴大了新文化運動的影響 2. 五四運動後，孫中山將中華革命黨改名為_____



1 日本對德宣戰
派兵入侵山東



2 袁世凱同意日本
「二十一條要求」



3 巴黎和會允許日本繼承
德國在山東的特權



4 北京大學等校的學生
遊行抗議，五四運動

【補充】民國 8 年，英美法等國在法國巴黎召開第一次世界大戰和會，處理戰後問題，中國因屬戰勝國，也派代表參加。會中，中國提案收回山東權利，遭日本反對，日本認為中日可直接交涉，不需透過和會，後來英法兩國支持日本。



牛刀小試

單選題：共有 12 題，請將答案寫於題號之前

1. 右列是日本提出的「二十一條要求」的部分內容，該要求引發日後哪個事件？

<ol style="list-style-type: none"> 一、承認日本繼承德國在山東的權利 二、山東及其沿海島嶼不得租讓他國
--

 - (A) 新文化運動
 - (B) 五四運動
 - (C) 白話文運動
 - (D) 革命運動
2. 五四運動在學生強力的運作下，全國各大城市紛紛響應，工人罷工、商人罷市，最後迫使北京政府不得不作出何種回應？
 - (A) 拒絕參加國際各種活動
 - (B) 拒絕出席巴黎和會
 - (C) 派學生代表至會場抗議
 - (D) 拒絕在對德和約上簽字

3. 關於五四運動的敘述，何者正確？
 (A) 導因於巴黎和會列強對中國不公 (B) 首先起於上海，後各地響應
 (C) 北京政府鎮壓學生，人員死傷嚴重 (D) 影響中國接受屈辱的《巴黎和約》
4. 第一次世界大戰結束後，列強召開巴黎和會以解決戰後問題，在和會中因列強同意將中國山東的權利轉交給哪一國，引來中國不滿？
 (A) 英國 (B) 日本 (C) 美國 (D) 俄國
5. 五四運動是青年學生的愛國運動，學生的訴求不包括下列何者？
 (A) 取消二十一條 (B) 還我青島 (C) 爭取總統直選 (D) 外爭主權、內除國賊
6. 日本提出的二十一條要求中，第一號關於山東：「一、承認日本繼承德國在山東的權利；二、山東及其沿海島嶼不得租讓他國。」請問：這與日後所發生的哪一事件有關？
 (A) 新文化運動 (B) 五四運動 (C) 白話文運動 (D) 農村建設運動
7. 《人間四月天》劇中，因為巴黎和會與山東問題，林徽音未來的丈夫梁思成騎著機車載弟弟梁思永趕著去天安門廣場參加遊行時，被轎車撞到以致於後來不良於行。請問：此遊行的產生與下列哪一場戰爭有密切關係？
 (A) 甲午戰爭 (B) 日俄戰爭 (C) 第一次世界大戰 (D) 第二次世界大戰
8. 民國 8 年，由北京各校的大學生發起的「五四運動」，學生們提出「外爭主權，內除國賊」的訴求，請問：「外爭主權」指的是下列何者？
 (A) 東北特權 (B) 收回山東 (C) 領事裁判權 (D) 協定關稅權
9. 五四運動的影響，不包括下列何者？
 (A) 促成社會普遍的覺醒 (B) 擴大新文化運動的影響
 (C) 造成山東成為日本的領土 (D) 加深中國尋求國家自立圖強的意識

【題組】 任何需要號召民眾的活動，總需要有其主張或一句能影響人心、簡單明瞭且響亮的口號，請指出下列主張或口號分別是哪一運動或團體所提出？(甲) 外爭主權內除國賊、(乙) 扶清滅洋、(丙) 天下一家，共享太平、(丁) 全盤西化、(戊) 引進「德先生」、「賽先生」。請回答第 10~12 題：

10. 五四運動的口號為何？
 (A) 甲 (B) 乙 (C) 丙 (D) 丁
11. 新文化運動的主張為何？
 (A) 甲乙 (B) 丙丁 (C) 丁戊 (D) 甲戊
12. 義和團的口號何？
 (A) 甲 (B) 乙 (C) 丙 (D) 丁

【歷屆會考試題】 共 8 題，請將答案寫在題號前面

1. 右圖是某旅遊手冊的部分內容，此手冊最可能是介紹右圖中的何地？

- (A) 甲 (B) 乙
(C) 丙 (D) 丁



這座典型的德式古堡建築，是德國統治此地時所興築的總督官邸。第一次世界大戰時，日本進兵此地，而後取代了德國在此的統治權，這座建築也成為日本守備軍司令的官邸……。

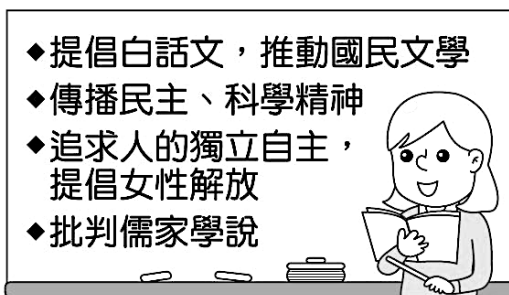


2. 民初巴黎和會期間，北京爆發大規模的學生示威遊行。造成此次學生運動的主因為何？

- (A) 中國與列強重新訂定條約，被迫租借沿海港灣
(B) 對外戰爭再度失利，必須賠償各國龐大的費用
(C) 和會贊成袁世凱稱帝，中國重新恢復君主專制
(D) 和會同意日本要求，由日繼承德國在山東特權

3. 右圖為歷史老師在黑板上所寫的重點，依內容推斷，下列何者最可能是她講述的主題？

- (A) 立憲運動的本質 (B) 新文化運動的內涵
(C) 戊戌變法的特色 (D) 文化大革命的目標



4. 中國歷史上某一時期，曾有教授和大學生主張以口語化的新文學取代舊式古典文學，並有意識地反對許多傳統觀念與習俗，將男女個人從傳統束縛中解放出來。這樣的主張應出現於下列何時？

- (A) 自強運動 (B) 百日維新 (C) 黃金十年 (D) 新文化運動

5. 17 世紀歐洲的科學革命改變了西方人的思考與生活方式，科學知識逐漸成為西方人努力追求的方向。這種對科學的重視與提倡，在下列哪一時期普遍地影響了中國的知識分子，並被大力宣揚？

- (A) 清末百日維新 (B) 民初新文化運動 (C) 北伐後黃金十年 (D) 中共文化大革命

6. 民國初年，有位政治人物說：「民國主權，本於國民全體，既經國民代表大會全體表決，改用君主立憲，本大總統自無討論餘地。」引起當時輿論猛烈批評。這段話出現的背景，與下列哪一件史實有關？

- (A) 孫中山就任臨時大總統 (B) 袁世凱謀畫「洪憲帝制」
(C) 張勳擁立溥儀復辟 (D) 蔣中正率軍北伐

7. 二十世紀是中國政治體制轉變的關鍵時期，中國由專制的帝王政治轉變成為民主國家，最初所選訂的首都位在右圖何處？


- (A) 甲 (B) 乙 (C) 丙 (D) 丁

8. 清末以來，中國為因應西方勢力的入侵，內部發生了一連串運動，從「自強運動」、「戊戌變法」、「武昌起義」到「新文化運動」的陸續推行來看，下列何者最能夠解釋這段轉變過程？


- (A) 民間「夷夏之防」的思想成為人們關注課題
(B) 西方國家嘗試在中國推行各種新思想新制度
(C) 知識分子在變局中努力為國家發展尋找出路
(D) 傳統宗教信仰的影響力在中國社會日趨壯大



【回家作業】第四課的課程心智圖（概念圖）



Ch5 國民政府的統治



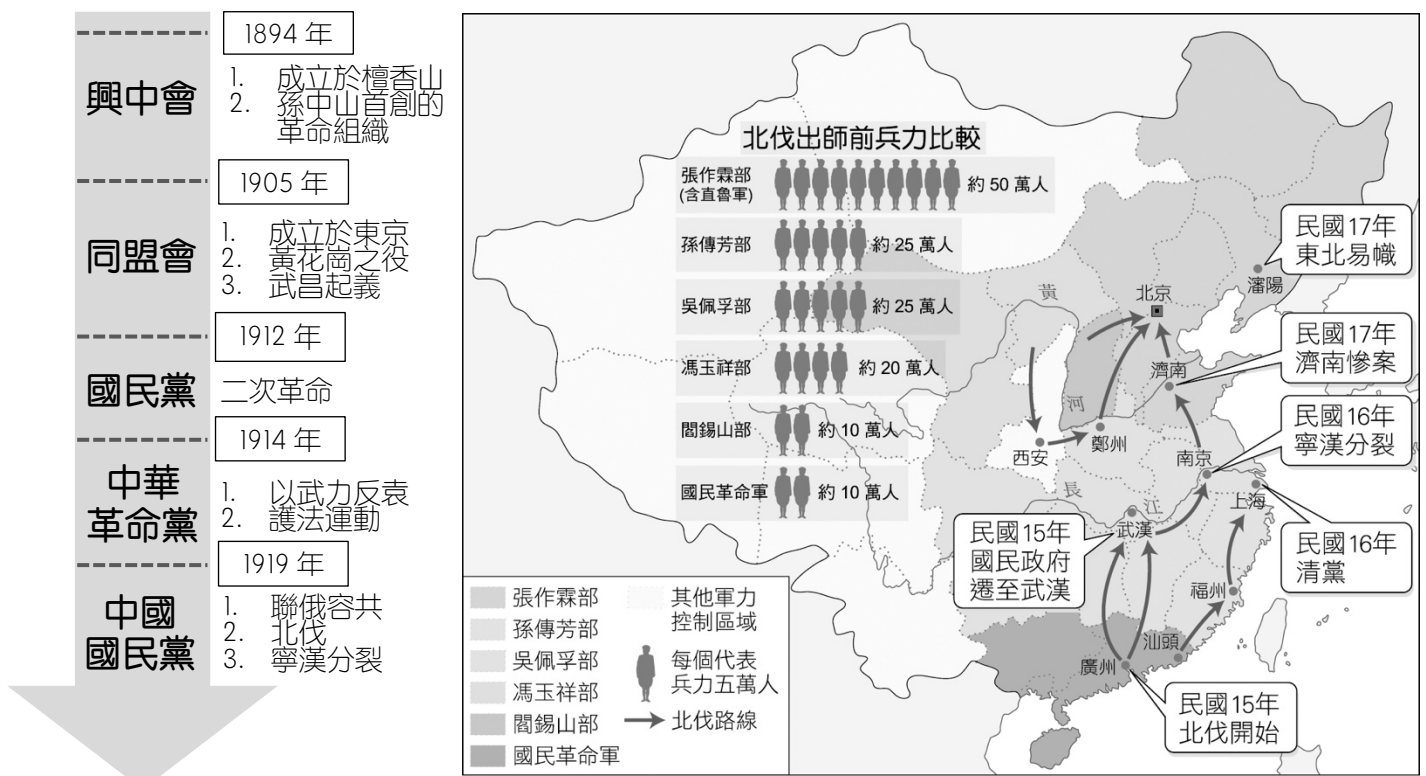
5-1 北伐與統一

北伐背景	1. <u>五四運動</u> 後，孫中山將 <u>中華革命黨</u> 改名為_____黨（民國8年） 2. 為了平定軍閥，統一中國，孫中山需要建立一支忠心可靠的軍隊	
聯俄容共	背景	蘇聯願意給予經濟與軍事協助
	時間	民國12年（西元1923年）
	作法	與蘇聯合作，並同意 <u>中國共產黨黨員以個人身分入黨</u> ，中共稱其為 <u>第一次國共合作</u>
	目的	希望凝聚力量，共同打倒軍閥
黃埔建軍	時間	民國13年（西元1924年）
	地點	<u>廣州 黃埔</u>
	名稱	<u>陸軍軍官學校</u>
	人物	校長：_____（字介石）
	目的	培養革命武力
國民政府	時間	民國14年（西元1925年），孫中山逝世後
	地點	_____
	人物	<u>國民革命軍總司令</u> ：_____
	目的	打倒軍閥，統一國家。討伐的對象包括：長江流域的直系軍閥吳佩孚、孫傳芳，以及控制北京政府的奉系軍閥張作霖
寧漢分裂	初期	北伐初期，國民革命軍進展順利，吳佩孚、孫傳芳先後潰敗
	遷址	民國16年，廣州國民政府遷往_____，被親共人士所控制，國共關係日漸緊張
	清黨	蔣中正於_____發動「清黨」，以武力掃除國民黨內的中共分子
	對抗	<u>寧漢分裂</u> ：蔣中正清黨後，在_____另組國民政府（「寧」指南京，「漢」指武漢）
濟南慘案	時間	民國17年，5月3號，又稱 <u>_____慘案</u>
	原因	國民革命軍推進至山東濟南，_____不顧中國統一，出兵阻撓北伐
	發展	國民革命軍只能繞道進兵北京， <u>張作霖</u> 退回東北，途中被日本人炸死
	結果	<u>中國統一</u> ：同年底，張作霖的兒子_____，宣布東北歸順國民政府，中國統一



【故・事】**聯俄容共**：中共最初成立的運動對象，主要包括知識份子（如陳獨秀）、工人、青年和婦女等。但因中國工人階級的勢力薄弱，想要建立能夠抵抗軍閥和帝國主義的力量，並不容易，所以中共決定與國民黨並肩作戰。民國6年（西元1917年）10月，俄國革命成功之際，孫中山正在廣州組織護法軍政府，未與蘇聯有若干聯絡。然而，為了爭取國際對中國革命的同情，孫中山乃致電給蘇俄，恭賀其革命成功，結果引起列寧對中國的興趣，也開啟了「聯俄容共」的大門。民國11年（西元1922年）5月，馬林（Marie Sneevliet，荷蘭人，中國共產黨的創始者之一）在廣州和孫中山見面，建議國共兩黨聯合，但孫中山只同意共產黨員以個人資格加入國民黨。為了積極進行聯俄容共，蘇俄甚至派人抵達上海，直接和孫中山談判，並於民國12年（西元1923年）1月發表共同宣言，孫中山公開聲明：「我們已不依賴西方，將聯合俄國，以達成打倒軍閥、統一全國的目標」。孫中山對國共的合作深感信心，認為經由愛國觀念必能感化盲從蘇俄的中共黨員。之後，國共合作正式開始。

【故・事】**濟南慘案**：民國17年，國民革命軍接近山東，日本藉口保護日本在華僑民，向山東派兵。5月1日，國民革命軍抵達山東濟南，日軍竟無故掀起衝突，與國民革命軍彼此開火。5月3日，日軍突然在濟南發動攻擊，到處燒殺掠劫。日軍在濟南的行為，估計有數錢民中國軍民及外交官員傷亡，史稱「濟南事件」、「濟南慘案」或「五三慘案」。事件發生後，蔣中正為了避免擴大中日兩國的衝突，他命令國民革命軍退出濟南，繞道繼續北伐。另一方面，他也向日本政府表示抗議，經過多次外交談判後，日軍才撤出濟南。



【興中會到同盟會】

【國民革命軍北伐路線圖】



單選題：共有 13 題，請將答案寫於題號之前

- 民國 12 年，孫中山採行「聯俄容共」政策，與蘇聯合作，是為國共第一次合作。請問：孫中山為什麼選擇與蘇聯合作？
(A) 受新文化運動的影響 (B) 只有實施共產主義才能救中國
(C) 蘇聯願給經濟與軍事協助 (D) 蘇聯共產主義治國成功，孫中山決定仿效
- 自國民政府北伐至中國統一時間為何？
(A) 民國 13~15 年 (B) 民國 14~15 年 (C) 民國 15~16 年 (D) 民國 15~17 年
- 下列哪所學校是孫文在外國協助下的產物？
(A) 陸軍軍官學校 (B) 海軍軍官學校 (C) 空軍軍官學校 (D) 北京大學
- 下列何者與日本無關？
(A) 製造「濟南慘案」阻撓北伐 (B) 中國發起五四運動，激發反侵略風潮
(C) 製造「寧漢分裂」阻撓北伐 (D) 為阻止張作霖撤退東北，將他炸死
- 孫文自成立興中會後，該組織經過多次改組，請問下列何者是五四運動後改組成立的？
(A) 同盟會 (B) 國民黨 (C) 中華革命黨 (D) 中國國民黨
- 孫文因為段祺瑞毀壞《臨時約法》，憤而南下廣州組織護法軍政府。當時因為缺乏軍隊與財源，並無法實現他的政治主張。下列哪個國家在此時向他伸出援手，協助其成立陸軍軍官學校？
(A) 美國 (B) 日本 (C) 英國 (D) 蘇聯
- 當國民政府致力於北伐事業時，中共黨員乘機在國民黨內擴張勢力，而有後來的「寧漢分裂」。請問：寧漢分裂中的「寧」與「漢」各指何地？
(A) 寧波、武漢 (B) 上海、漢陽 (C) 南京、漢口 (D) 南京、武漢
- 民國 17 年，國民政府在肅清長江流域北洋軍閥的勢力後，繼續北伐，然日本不願中國統一，出兵阻撓使北伐遭受挫折，請問：由日本主導阻撓北伐的事件，是為下列何者？
(A) 濟南慘案 (B) 九一八事變 (C) 一二八事變 (D) 西安事變
- 在北伐時期，國民黨致力於統一中國的事業，共產黨員則在國民黨內積極擴張勢力，民國 16 年，國民政府從廣州遷都至何地時，政權被親共人士所控制？
(A) 南京 (B) 上海 (C) 武漢 (D) 濟南
- 面對親共人士掌握政權的情況，蔣中正下令清黨，以武力清除國民黨內的中共分子，並在何地另組國民政府？
(A) 南京 (B) 上海 (C) 武漢 (D) 濟南
- 民國 17 年，國民革命軍進軍至山東濟南，哪一個國家因不願見到中國統一，於是出兵阻撓北伐行動，發生濟南事件？
(A) 英國 (B) 美國 (C) 法國 (D) 日本
- 國民革命軍的北伐能夠在民國 17 年完成，主要是因誰宣布東北歸順國民政府，中國完成統一？
(A) 張作霖 (B) 張學良 (C) 孫傳芳 (D) 吳佩孚
- 民國 13 年，孫中山改組中國國民黨，並成立黃埔軍校，以培養革命武力，請問：黃埔軍校第一任校長為下列何人？
(A) 孫中山 (B) 蔣中正 (C) 蔡元培 (D) 蔣經國

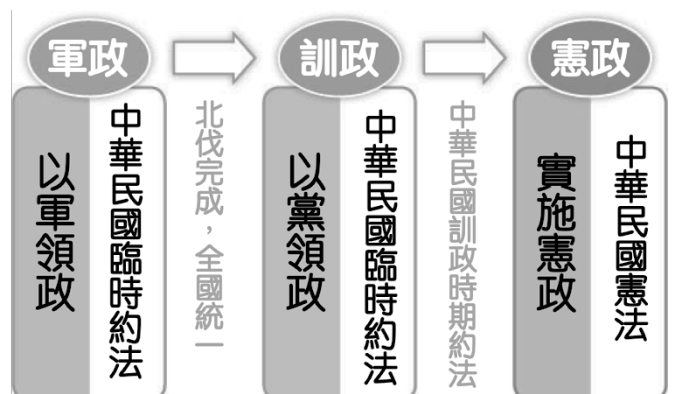


5-2 實施訓政與十年建設

訓政時期	1. 北伐完成後，國民政府宣布正式進入「以黨治國」的「訓政時期」 2. 訓政時期，以黨領政，國民黨中央的決議可以直接影響政府		
根本大法	<u>中華民國訓政時期約法</u>		
十年建設	時間	民國 17 年（北伐結束）到民國 26 年（抗日戰爭爆發前）	
	作為	財政	1. 重整稅收，收回清末以來喪失的 <u>關稅自主權</u> 2. <u>廢兩改元</u> ：以銀元代替銀兩 3. <u>發行法幣</u> ：統一清末以來幣制混亂的局面
		教育	1. 政府：廣設中、小學 2. 地方：_____推動 <u>平民教育</u> ，教人讀書識字，提高人民知識水準
		交通	廣築鐵路、公路，發展航空運輸等，有助於交通的便利與物資的流通
	意義	<u>黃金十年</u> ：提升國家的實力和信心，奠下中國日後長期抗戰的基礎	



【說明】法幣是指國家的法定貨幣。民國 24 年，政府下令所有交易、繳稅均須以法幣來支付



牛刀小試

單選題：共有 3 題，請將答案寫於題號之前

- 清末與列強簽訂了許多喪權辱國的條款，其中哪一項主權於十年建設期間即已收回？
(A) 關稅自主權 (B) 司法獨立權 (C) 租界的歸還 (D) 片面最惠國待遇的取消
- 國家統一後，除了政府廣設學校教育學童外，在地方上推動平民教育，教人民讀書識字，大大提高人民知識水準。推動平民教育且被喻為「平民教育之父」的是何人？
(A) 胡適 (B) 梁啟超 (C) 晏陽初 (D) 魯迅
- 清末民初中國的幣制仍相當混亂，直到十年建設期間政府才統一貨幣，消除了清末以來幣制混亂的局面，當時政府實施的措施為何？
(A) 以銅錢為主要使用貨幣 (B) 銀兩與銀元並用
(C) 以銀兩做為流通的貨幣 (D) 以銀元取代銀兩



5-3 十年建設間的內憂外患

內憂	背景	國共決裂後，中共在各地擴張地盤，勢力逐漸茁壯，並在江西山區建立政權		
	剿共	<u>二萬五千里長征</u> ：民國 19 年起，國民政府多次以武力圍剿中共，中共被迫撤離江西，展開所謂「二萬五千里長征」，並且於民國 24 年抵達陝西北部，於 <u>延安</u> 落腳		
外患	背景	<u>日本</u> 的侵略：北伐完成後，日本眼見中國統一，因而加速侵略的腳步		
	事件	<u>事變</u>	時間	民國 20 年 9 月 18 日
			原因	日軍誣指中國軍隊破壞瀋陽郊外的鐵路
	<u>事變</u>	<u>國</u>	結果	日軍攻打 <u>瀋陽</u> ，進而占領 <u>東北</u>
			時間	民國 21 年 1 月 28 日
	<u>國</u>	<u>國</u>	過程	日軍進攻 <u>上海</u>
策略			以華制華	
<u>國</u>	<u>國</u>	作法	在東北組織傀儡政權，扶植 <u>溥儀</u> 成立「滿洲國」	



【溥儀三次登基】

時間	頭銜	說明
宣統元年 (1909)	清朝皇帝	繼光緒皇帝後即位，後來被袁世凱逼迫退位
民國 6 年 (1917)	清朝皇帝	受張勳擁護而復辟
民國 21 年 (1932)	滿洲國執政	受日本扶植，先為執政，後為皇帝





單選題：共有 10 題，請將答案寫於題號之前

1. 十年建設期間，國民政府並未徹底解決內憂外患問題，國家情勢仍不穩定，內憂方面主要是中共勢力的擴張，請問：國民政府於何時對中共展開圍剿？
(A) 民國 17 年 (B) 民國 18 年 (C) 民國 19 年 (D) 民國 24 年
2. 國共決裂後，中共在各地擴張勢力，民國 19 年起，國民政府對中共展開圍剿，迫使中共不得不放棄他們在何處的根據地，展開所謂的「二萬五千里長征」？
(A) 浙江 (B) 江西 (C) 湖北 (D) 廣東
3. 民國 20 年中共在江西瑞金成立「中華蘇維埃共和國」。經國軍圍剿後西竄，由江西歷經湖南、廣西、貴州、雲南、四川、西康、甘肅、陝西、寧夏、山西各省，中共自誇為「二萬五千里長征」。請問：民國 23 年 10 月共軍從江西瑞金出發，逃避國軍的打擊，民國 24 年抵達陝北，最後在何處落腳？
(A) 重慶 (B) 延安 (C) 南京 (D) 西安
4. 日本在明治維新成為亞洲的強國後，對中國的侵略更加積極，民國 20 年，日軍在中國東北製造哪一個事件後，進而占領東北？
(A) 九一八事變 (B) 一二八事變 (C) 二二八事件 (D) 五三慘案
5. 日本在完全占領東北後並不滿足，緊接著又將侵略的腳步指向中國的哪一個地方，製造了一二八事變？
(A) 南京 (B) 西安 (C) 上海 (D) 武漢
6. 日本在中國的占領區內採取「以華制華」的策略，在東北組織傀儡政權，扶植哪一個人成立「滿洲國」？
(A) 張學良 (B) 張作霖 (C) 晏陽初 (D) 溥儀
7. 「日軍炸毀瀋陽郊外的一段鐵路後，隨即發動攻擊，並攻佔中國東北各大城市。」請問上文指的事件應為下列何者？
(A) 一二八事變 (B) 九一八事變 (C) 滿洲國建立 (D) 兩萬五千里長征
8. 阿萍在電影《太陽帝國》中看到以下的劇情：「1921 年，日本軍閥向天皇提出《田中奏摺》，建議實行『大陸政策』，強調：欲征服世界，必先征服中國；欲征服中國，必先征服滿蒙。」下列何者史事可以是為此計畫的開端？
(A) 九一八事變 (B) 一二八事變 (C) 滿洲國建立 (D) 兩萬五千里長征
9. 「溥儀」是中國末代皇帝，其曾於三個時間點登基為帝，下列哪一個事件與其較無關？
(A) 清末登基 (B) 洪憲帝制 (C) 張勳復辟 (D) 滿洲國建立
10. 民國 21 年，日本為轉移國際對東北的注意，以保護僑民為由，對上海發動攻擊，此為何事件？
(A) 九一八事變 (B) 一二八事變 (C) 滿洲國建立 (D) 兩萬五千里長征



5-4 西安事變

背景	日本侵略行為不斷，國民政府深知國力不足與日本對抗	
政策	攘外必先安內 ：對日本極力忍讓，對中共則加緊圍剿 【補充】 北伐完成後，中國雖宣告統一，但仍處內憂外患之下。內有中共，外有日本，當時國民黨領導人蔣中正認為應先評定國內動亂，在對付外來的侵略，因此制定了「攘外必先安內」政策，以剿共為首要目標	
中共策略	1. 日本不斷侵略，導致民間反日情緒升高， 中共 藉機宣傳「 中國人不打中國人 」 2. 負責剿共的 張學良 部隊，士氣受到影響：民國 24 年，張學良奉命前往陝北一代剿共，東北軍因剿共損失慘重，加上中共不斷在一旁煽動勸說，主張停止剿共，共同抗日。中共的分化，不僅讓抗日心切的東北軍士氣低弱，也無心剿共	
西安事變	時間	民國 25 年 （西元 1936 年）
	地點	陝西 西安
	經過	蔣中正到陝西西安視察剿共工作， <u> </u> 以 武力挾持軟禁蔣中正
	訴求	要求「 停止內戰，一致抗日 」
	結果	張學良在國民政府與中共的協商下，釋放蔣中正，事變宣告落幕
	影響	1. 國民政府 停止剿共 2. 第二次國共合作 ：民國 26 年，八年抗戰爆發後，聯共抗日 3. 國共勢力分水嶺 ：處於陝北一角的中共重獲生機，暗中擴大勢力

【整理】兩次國共合作

項目	第一次國共合作	第二次國共合作
開始時間	民國 12 年 (1923)	民國 26 年 (1937)
主張	聯俄容共	聯共抗日
結束	蔣中正清黨	國共內戰
影響	國民黨黨中有黨	中共乘機壯大

【張學良像】





單選題：共有 8 題，請將答案寫於題號之前

1. 民國 25 年，張學良利用蔣中正到陝西西安視察剿共工作，挾持軟禁蔣中正，張學良主要是對當時蔣中正的哪一項主張不滿？
(A) 清黨 (B) 下令抗日 (C) 攘外必先安內 (D) 中國人不打中國人
2. 下列何者是「西安事變」發生後的影響？
(A) 成立滿洲國 (B) 國共第一次合作 (C) 繼續剿共 (D) 國共第二次合作
3. 十年建設期間，國民政府面對外患與內憂的交相侵擾，堅持「攘外必先安內」的原則。上述「外、內」所指為何？
(A) 德國、軍閥 (B) 蘇聯、中共 (C) 日本、中共 (D) 日本、軍閥
4. 一位東北軍的將領說道：「我已經好久沒有回到我的家鄉了，自從外敵入侵後，國民政府便下令要我們撤退，現在我們成為無根的浮萍，不知道何時才能回到那令人懷念的家鄉。」請問：當時國民政府抱持什麼樣的政策？
(A) 停止剿共，一致抗日 (B) 以空間換取時間
(C) 先安內，後攘外 (D) 門戶開放政策
5. 「西安事變」前後，許多學運口號喊出：「中國人不打中國人。」口號中的中國人先後為何？
(A) 共產黨、國民黨 (B) 國民黨、共產黨
(C) 湘軍、太平軍 (D) 清軍、義和團
6. 西安事變又稱為「雙十二事件」，西安事變在中國現代歷史上具有關鍵性的地位，下列有關西安事變的敘述，何者錯誤？
(A) 張學良不滿蔣中正先安內後攘外 (B) 要求停止剿共，共同抗日
(C) 結果使國民政府停止剿共 (D) 國共之間展開第一次合作，共同對抗日本
7. 右圖為民國某年的報紙，在描寫當時張學良與楊虎城所策動的西安事變。下列敘述何者錯誤？
(A) 該事件發生於民國 25 年 12 月，兵諫主要對象是蔣中正
(B) 起因主要是因為政府「先安內再攘外」的政策
(C) 「安內」是指剿共，「攘外」是指對抗日本的侵略
(D) 國民政府仍然以剿共為主，張學良自動釋放蔣中正
8. 中國國民黨和中國共產黨曾兩次合作，分別發生於何時？
(A) 聯俄容共、西安事變後
(B) 中國國民黨改組後、北伐期間
(C) 五四運動期間、聯俄容共
(D) 五三慘案、九一八事變

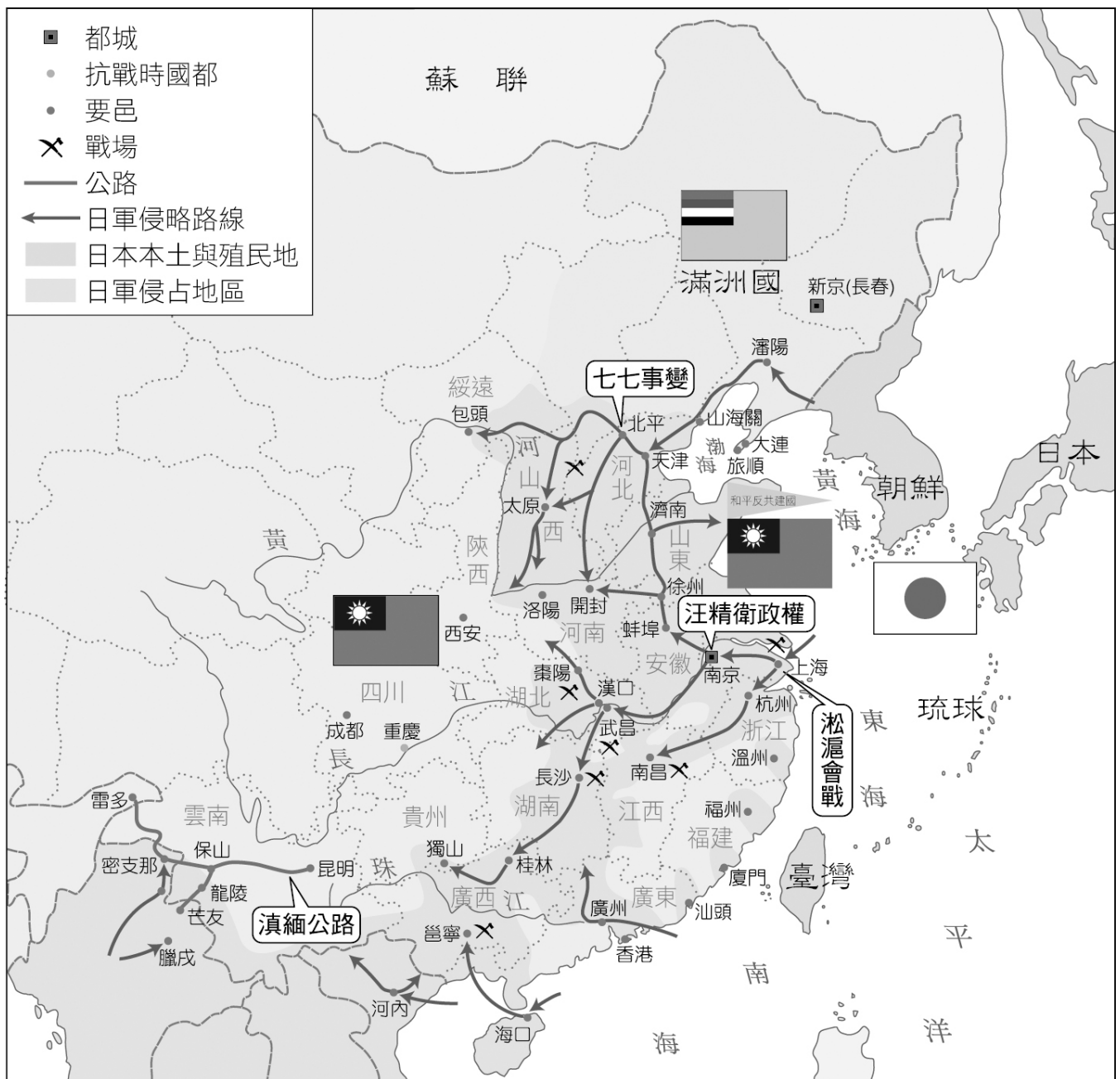




5-5 八年抗戰

序幕	時間	民國 26 年 7 月 7 日 (又稱 <u> </u> 事變)		
	地點	河北省宛平縣盧溝橋		
事件	經過	日軍在盧溝橋附近演習，藉口士兵失蹤，欲強行進入縣城搜查，與國軍發生衝突		
	<u> </u> 會戰	1. 民國 26 年，日軍進攻 <u>上海</u> 一帶，希望速戰速決，遭國軍奮力抵抗 2. 此戰粉碎了日軍「三月亡華」的野心		
抗戰前期	國民政府策略	<u>以時間換取空間</u> ：決定遷都 <u>重慶</u> ，準備長期抗戰		
	<u> </u> 大屠殺	民國 26 年底，日軍在攻陷南京後，殺害不少無辜軍民		
	日本的策略	<u>以華治華</u> ：民國 29 年，日本在 <u>南京</u> 扶植 <u>汪精衛</u> ，成立國民政府，作為傀儡政權		
分水嶺： <u>珍珠港事變</u> (民國 30 年)				
抗戰後期	<u> </u> 事變	時間	民國 30 年 12 月	
		經過	日本攻擊美國在夏威夷珍珠港的軍事基地	
		影響	<u>美國</u> 對日本宣戰，中華民國開始與美、英等盟國並肩作戰	
	<u> </u> 平等新約	時間	民國 32 年	
		內容	美、英等國與中華民國簽定平等新約，放棄在華特權	
		影響	<u>使中國得以解除百年來不平等條約的束縛</u>	
	<u> </u> 宣言	時間	民國 32 年	
		人物	<u>蔣中正</u> 、美國總統 <u>羅斯福</u> 、英國首相 <u>邱吉爾</u>	
		內容	<u> </u> 、 <u> </u> 、 <u> </u> 在埃及舉行開羅會議，聲明日本應將 <u>東北</u> 、 <u>臺灣</u> 、 <u>澎湖</u> 歸還給中華民國	
	<u> </u> 密約	時間	民國 34 年	
		對象	美、英、 <u> </u>	
		內容	為了爭取蘇聯對日宣戰，犧牲中國權益， <u>美、英同意蘇聯取得日俄戰爭後，所讓出在中國東北的特權</u>	
	<u> </u> 無條件投降	時間	民國 34 年，8 月	
		原因	美國先後對日本的 <u>廣島</u> 、 <u>長崎</u> 投下原子彈	
		結果	中國的八年抗戰，終於獲得勝利	

【故·事】 **汪精衛的歷史評價**：汪精衛是近代中國歷史上的重要人物。清末時從事革命，曾暗殺攝政王載灃未成而入獄，留下「引刀成一快，不負少年頭」的豪放詩句。武昌起義後，獲得釋放。民國初年，繼續跟隨孫中山，並協助反袁、護法與國民黨改組，成為獨當一面的政治人物。抗戰期間，汪精衛獲得日本支持，在南京成立「國民政府」，和早已遷到重慶的國民政府打對臺。當時輿論指責他是漢奸，史學家傅斯年甚至用「罪犯心理」分析，說汪硬要當「人上人」，「只有一個『不可一天不做大官』的欲望，而不惜斷送他的四萬萬同種人，和他同種人的歷史和子孫」。然而近年來也有另一種思考。史學家余英時就指出，盧溝橋事變後，有些人憂心國力不足，都想進行和談，「事實上，和或戰不過是一個民族在危機關頭如何救亡圖存的兩種不同手段，都可以出於『愛國』的動機」。余教授還從汪精衛的詩詞來看他的心路歷程，覺得煥發出感人的力量，實在不能相信會是一個「巨奸」，而且發現汪精衛直到成立政權，都還是愁苦的情緒，並不喜悅。余教授認為，因為汪精衛相信「戰必亡國」，所以一意求和，「不惜以一定程度的委屈與妥協為代價」。余英時和傅斯年都是史學家，都用心理角度分析一個人物，卻得到了兩種截然不同的評價，這也算是歷史迷人的趣味吧！



【抗戰期間日軍所佔領的地區】



一、**填充題**：下表為近代中日關係大事紀，請於空格中填入正確的答案

時間	清光緒 20 年 (1894)	民國 4 年 (1915)	民國 8 年 (1919)	民國 17 年 (1928)
內容	中日爆發_____戰爭	_____國恥	_____運動	_____慘案
時間	民國 20 年 (1931)	民國 21 年 (1932)	民國 26 年 (1937)	民國 34 年 (1945)
內容	_____事變	_____事變	_____事變	日本無條件投降

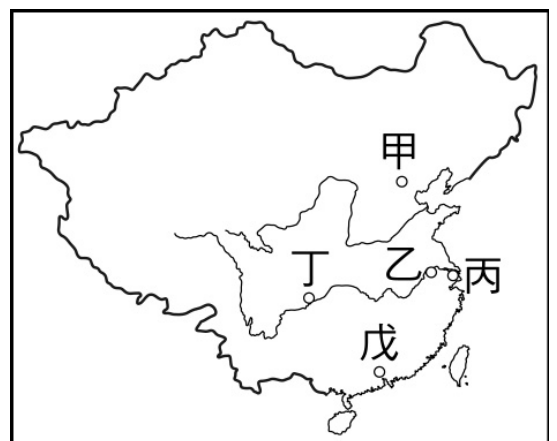
二、**單選題**：共 23 題，請將答案寫在題號的前方

- 臺灣、澎湖於甲午戰敗後割讓給日本，受日本統治 50 年的時間，臺灣、澎湖於戰後歸還中華民國，是根據下列哪一個會議的決議？
(A) 開羅會議 (B) 雅爾達會議 (C) 德黑蘭會議 (D) 舊金山會議
- 抗戰後期，美、英兩國為了爭取蘇聯對日宣戰，不惜犧牲中國權益，同意蘇聯取得日俄戰爭後所讓出在中國東北的特權，請問：這些是記載在哪一個會議中？
(A) 開羅會議 (B) 雅爾達會議 (C) 德黑蘭會議 (D) 舊金山會議
- 抗戰爆發後，日本希望「速戰速決」，卻遭到國軍奮力抵抗，下列哪一場戰役粉碎日軍「三月亡華」的野心？
(A) 七七事變 (B) 淞滬會戰 (C) 武漢會戰 (D) 徐州會戰
- 面對日本的侵略，國民政府深知實力不足以與日本相對抗，採取「以空間換取時間」的策略，並將首都遷至下列何地，準備長期抗戰？
(A) 上海 (B) 廣州 (C) 重慶 (D) 昆明
- 日本為了加強對占領區的控制，採「以華制華」的策略，日本占領南京後，另外成立「國民政府」，請問：當時日本是扶植下列哪一個人為傀儡？
(A) 溥儀 (B) 李宗仁 (C) 汪精衛 (D) 張學良
- 八年抗戰爆發後，中國剛開始一直是單獨對日作戰，直到下列哪一個事件發生後，中國正式對日宣戰，有了並肩作戰的盟友？
(A) 淞滬會戰 (B) 盧溝橋事件 (C) 南京大屠殺 (D) 珍珠港事變
- 「民國 26 年，日軍在河北省宛平縣盧溝橋附近演習，藉口士兵失蹤，與中國守軍爆發軍事衝突。」請問：日本可以在河北省進行軍事演習，是根據下列哪一個條約？
(A) 南京條約 (B) 北京條約 (C) 馬關條約 (D) 辛丑和約
- 「聯俄容共」政策是為國共第一次合作，後因寧漢分裂清黨而結束合作關係。國共第二次合作與下列哪一個事件有關？
(A) 西安事變 (B) 滿洲國成立 (C) 抗戰爆發 (D) 珍珠港事件

9. 國民政府面對日本強勢的進攻，採取「以空間換取時間」的策略，在上海淪陷後，國民政府將首都由南京遷至何處準備長期抗戰？
(A) 廣州 (B) 重慶 (C) 武漢 (D) 成都
10. 抗日戰爭爆發後，日軍方面希望能夠速戰速決，喊出要在「三個月內亡華」，但哪一場戰役粉碎了日軍三個月亡華的迷夢？
(A) 淞滬會戰 (B) 盧溝橋事件 (C) 九一八事變 (D) 珍珠港事變
11. 民國三十二年十一月召開哪個領袖會議，決定日本應將甲午戰爭以來奪自中國的土地歸還？
(A) 雅爾達會議 (B) 開羅會議 (C) 巴黎和會 (D) 華盛頓會議
12. 中國對日本的八年抗戰，初期的戰況是中國單獨對日作戰，直到哪一個事件爆發後，中國進入與同盟國並肩作戰的階段？
(A) 七七事變 (B) 一二八事變 (C) 珍珠港事變 (D) 西安事變
13. 中國第一個不平等條約為南京條約，此後中國長期受不平等條約的束縛，直到民國 32 年與列強簽訂平等新約後，中國一躍而為世界四強之一。請問：民國 32 年最早與中國簽訂平等新約的是哪兩個國家？甲、美國；乙、法國；丙、俄國；丁、英國
(A) 甲乙 (B) 乙丙 (C) 甲丁 (D) 乙丁
14. 中、美、英三國共同要求日本歸還的土地，不包括下列何者？
(A) 臺灣 (B) 澎湖 (C) 琉球 (D) 東北
15. 雅爾達會議中，簽訂的《雅爾達密約》對中國影響甚大，下列哪個國家並沒有參加這個會議？
(A) 日本 (B) 美國 (C) 英國 (D) 蘇聯
16. 美國為了盡快結束戰場，投擲原子彈於廣島和長崎，日本於民國幾年宣告投降？
(A) 民國 32 年 (B) 民國 33 年 (C) 民國 34 年 (D) 民國 35 年
17. 以下是第二次世界大戰的重要史事：(甲) 珍珠港事變；(乙) 盧溝橋事變；(丙) 開羅會議；(丁) 雅爾達會議；(戊) 淞滬會戰。按照先後順序 排列，何者正確？
(A) 甲乙丙丁戊 (B) 乙戊甲丙丁 (C) 甲丙乙丁戊 (D) 乙戊丁丙甲
18. 珍珠港事變後，對日抗戰成為第二次世界大戰的一環，何人被推為中國戰區盟軍的最高統帥？
(A) 汪精衛 (B) 蔣中正 (C) 毛澤東 (D) 孫中山

【題組】請根據右圖，回答第 19~23 題：


19. 八年抗戰的序幕戰在何地？
(A) 甲 (B) 乙 (C) 丙 (D) 丁 (E) 戊
20. 淞滬會戰的地點發生在何地？
(A) 甲 (B) 乙 (C) 丙 (D) 丁 (E) 戊
21. 承上，該地淪陷後，國民政府遷都何地以示抗戰決心？
(A) 甲 (B) 乙 (C) 丙 (D) 丁 (E) 戊
22. 日軍想打擊中國人自信心，攻陷何地後，進行大屠殺？
(A) 甲 (B) 乙 (C) 丙 (D) 丁 (E) 戊
23. 日本採「以華制華」，在何地扶植汪精衛「國民政府」？
(A) 甲 (B) 乙 (C) 丙 (D) 丁 (E) 戊




【歷屆會考試題】 共 7 題，請將答案寫在題號前面

1. 以下是一位旅行者在上海的見聞：「上海的工廠地帶可以看到轟炸的痕跡，有來到了戰場的感覺。但是如果來到租界區，興盛的商業中心立即映入眼中。在此，歐、美國家的主要銀行林立，國民政府的官方銀行—中央銀行，以及中國銀行、交通銀行等仍然繁忙地繼續營業，處理租界區內法幣的發行與交易。」此人最可能是在下列何時參訪上海？
(A) 1830 年代 (B) 1890 年代 (C) 1930 年代 (D) 1990 年代
2. 右圖是一幅宣傳海報，此宣傳海報最早可能在下列何時何地傳布？
(A) 1919-1930 年的臺北
(B) 1949-1960 年的臺北
(C) 1916-1928 年的瀋陽
(D) 1932-1945 年的瀋陽
- 
3. 在某本以近現代中國為背景的小說中寫到：「最近，國家開始實施新政策，由政府指定中央、交通、中國這幾家銀行發行法幣。我想，此政策若真能好好實行，改善過去幣制混亂的情況，買賣交易就比較好做了。」這段話所呈現的最可能是中國處於下列何種局勢下的情況？
(A) 戊戌變法期間，朝廷推動經濟改革 (B) 八國聯軍結束，朝廷陸續推行新政
(C) 北伐統一完成，政府致力建設發展 (D) 八年抗戰後期，政府籌措資金抗日
4. 「這座城市鄰近長江出海口，清末開港通商以來，逐漸形成二大區域：中國政府管轄的老城區與外國人主導治理的租界區，租界區的外國人享有行政與經濟等獨立自主權，可自組行政機構，並在租界區徵稅。八年抗戰爆發後，因為西方國家保持中立，日軍原則上不能進入西方國家租界區內，所以該地區仍享有特權和保障。但後來事變爆發，不但造成美、英等國對日宣戰，日本也進兵西方國家租界區，侵占外國企業，進一步控制該城市」上文所提的事變，應為下列何者？
(A) 九一八事變 (B) 一二八事變 (C) 盧溝橋事變 (D) 珍珠港事變
5. 「學校師生要向日本天皇及當時在位的滿皇帝遙拜，唱國歌，背誦溥儀的詔書，且學生必須學習日語，並被灌輸『日滿一體』的思想。」上述情況最可能發生於下列何時何地？
(A) 1915 年的臺北 (B) 1920 年的香港 (C) 1940 年的瀋陽 (D) 1945 年的重慶
6. 「民國 20 年，日本軍隊炸毀日資興建的南滿鐵路一小段，指稱這是中國人所做的，以此為藉口，發兵攻占中國東北。南滿鐵路沿線分布許多重要礦產及城市，尤其南端有一城市，是東北地區對外出入的重要港口，日本對其早有占領野心。」上文是描述下列哪一事件的發生經過？
(A) 九一八事變 (B) 盧溝橋事變 (C) 「滿洲國」成立 (D) 西安事變
7. 老師在課堂上要同學以「八年抗戰」(西元 1937~1945 年) 這段時期的歷史為背景，進行角色扮演。下列哪一位同學應是扮演當時國民政府官員的角色？
(A) 阿基：「為了結束戰爭，我們不得不在當地投下原子彈。」
(B) 大華：「我們利用對外戰爭壯大了勢力，最後終於取得中國的政權。」
(C) 小莉：「這次戰爭使我們控制東亞的夢想破滅，傷亡慘重，最後宣布投降。」
(D) 文文：「這戰爭使我們與各國另訂平等新約，解脫百年來不平等條約的束縛。」

【回家作業】第五課的課程心智圖（概念圖）



Ch6 中華人民共和國的建立與發展



6-1 國共內戰

中共勢力	成立之初	起先實力低於國民政府
	抗戰期間	抗戰期間，中共乘機壯大勢力
	抗戰之後	抗戰勝利後，中共又獲得 <u>蘇聯</u> 大力支援，實力已經可與國民政府互相抗衡
國民政府 政治運作	動員戡亂	<u>民國 36 年</u> ，國民政府宣布全國「動員戡亂」
	實行憲政	<u>民國 36 年</u> ，國民政府制定中華民國憲法，同年 <u>12 月 25 日</u> 實行憲政
	首任總統	_____，由國民大會選出，為行憲後第一任總統
	社會狀況	貪污、通貨膨脹、物價飛漲，民怨四起，國民政府統治陷入危機
	軍事實力	國民政府原本擁有軍事優勢，但經濟潰敗、美國停止援助，陷入嚴重危機
國共內戰	衝突	國共雙方為了爭奪日軍占領區，爆發多次軍事衝突
	調停	<u>美國</u> 曾派特使 _____ 到中國調停國共之爭
	結果	1. 調停並未成功 2. 國軍在戰場上一再失利，民國 38 年底，中共幾乎控制了整個中國 3. 民國 38 年底，中華民國政府因國共內戰失利，遷往臺灣



100元法幣購買力

民國26年

兩頭牛




民國30年

一袋麵粉




民國34年

兩顆雞蛋



民國38年

一張紙



【故・事】 **馬歇爾來華調停**：美國看到中國內部國共鬥爭日漸激烈，於是在民國 34 年 12 月，派遣特使馬歇爾（George C. Marshall）來華主持調停工作，首要之急就是要求國共停戰，並催促國共雙方進行和談。民國 35 年，國民政府代表張群、中共代表周恩來、美國代表馬歇爾組成三人小組，共同處理國共問題。不久，在馬歇爾的協調下，在重慶召開「政治協商會議」，參與的代表有國民黨、共產黨及各黨派人士，會中達成政府改組、軍隊國家化、召開國民大會、草擬憲法、和平施政綱領等協議。一時之間，和解氣氛濃厚，一度讓人以為國共雙方又能和平共處。但事實上，國共衝突由來已久，美國的調停與政治協商會議只是暫緩全面內戰的擴大，而無法消除衝突的本源。國民政府方面，蔣中正認為國軍擁有軍事優勢，其實並沒有與中共和談的意願；至於中共，一方面對自己的軍事實力有信心，一方面也不信任蔣中正為首的國民政府。此時佔領東北的蘇聯，陸續從東北撤兵，中共趁機接收，使國共雙方在東北重啟戰端。此時，國共內戰已經沒有轉圜的餘地。馬歇爾在中國停留一年多的時間，實在難有作為，而且中共同時發起反對美國干涉中國內政的宣傳活動。民國 35 年底，北京發生美國軍人企圖性侵犯女學生的案件，全國譁然，反美運動與反戰風潮大起。民國 36 年，馬歇爾決定啟程返回美國，其調停工作宣告失敗，他同時發表聲明，認為中國和平最大的障礙，在於國共兩黨之間的猜忌太深。

【複習】國共關係：從合作到爭戰

國共關係	時間	原因	結果
第一次國共合作	民國 12 年	中共黨員以個人身份加入國民黨，希望共同打倒軍閥	蔣中正下令清黨，造成寧漢分裂，國共關係破裂
第二次國共合作	民國 25 年	張學良發動西安事變，使蔣中正停止剿共，決定共同抗日	讓原本被國軍圍剿的中共，重獲生機
國共之爭	民國 34 年起	國共爭奪日軍受降地區，爆發軍事衝突，之後發展為內戰	中共於民國 38 年底幾乎控制整個中國，中華民國政府遷往臺灣

【複習】動員戡亂臨時條例


背景	國共內戰情勢緊張，政府先在民國 36 年明令全國「動員戡亂」
時間	民國 37 年（1948 年），至民國 80 年（1991 年）終止（李登輝）
內容	規範動員戡亂時期的政治運作，擴大總統的職權
發展	屢經修訂後，使總統可連選連任



單選題：共有 13 題，請將答案寫於題號之前

- 國共內戰期間，國民政府雖有軍事優勢，卻因何故而統治陷入危機？
 - 將帥無能，犧牲國軍甚多
 - 抗日消耗過多兵力
 - 官員貪汙與通貨膨脹問題
 - 一黨專政人民不服

2. 西安事變讓中共起死回生，中共趁機於抗戰期間壯大勢力。抗戰勝利後，中共又得到哪一個國家大力支持，實力大增？
(A) 美國 (B) 英國 (C) 俄國 (D) 德國
3. 馬歇爾曾以美國總統特使身分，來華調停國共衝突，但調停失敗。這是發生於何時的事情？
(A) 抗戰前 (B) 抗戰時 (C) 抗戰後 (D) 戡亂後
4. 中華民國憲法一直到抗戰結束後，才正式制定出來，並於民國 36 年 12 月 25 日開始施行，請問：行憲後第一任總統是下列何人？
(A) 蔣中正 (B) 毛澤東 (C) 蔣經國 (D) 孫中山
5. 抗戰勝利後不久，中共由劣勢轉為優勢的重要原因之一是自何國手中接收中國北部大部分地區？
(A) 日本 (B) 蘇聯 (C) 美國 (D) 英國
6. 由於財政改革失敗，造成嚴重通貨膨脹，使得國民政府在哪個戰事中，失去民心支持而失利？
(A) 北伐行動 (B) 八年抗戰 (C) 國共內戰 (D) 五次剿共
7. 2008 年兩岸終於實施大三通，但緊張關係仍然存在，請問：兩岸於哪一年分治，各自發展？
(A) 民國 32 年 (B) 民國 34 年 (C) 民國 36 年 (D) 民國 38 年
8. 戰後，國共雙方為了爭奪日本受降地區，爆發了多次的軍事衝突，當時美國曾派何人來華調停國共之爭？
(A) 羅斯福 (B) 馬歇爾 (C) 羅斯福 (D) 艾森豪
9. 十二月二十五是行憲紀念日，紀念我國憲法正式施行。請問：我國的憲法是何時開始施行？
(A) 民國元年 (B) 民國三年 (C) 民國十九年 (D) 民國三十六年
10. 下列與中國國民黨有關的戰事中，最晚發生的為何者？
(A) 北伐 (B) 剿共 (C) 戡亂 (D) 抗戰
11. 民國〇〇年，中華人民共和國於天安門廣場宣告成立，中華民國政府遷往臺灣，兩岸形成分治局面。上述〇〇應填入哪個年度？
(A) 三十六 (B) 三十七 (C) 三十八 (D) 三十九
12. 中華民國憲法正式於民國 36 年 12 月 25 日施行，並於民國 37 年選出蔣中正擔任行憲後第一任總統。請問：當時總統、副總統由哪一個單位選出？
(A) 立法院 (B) 司法院 (C) 全體國民 (D) 國民大會
13. 右圖中可看出吃飯前與吃飯後的陽春麵價格三級跳，如此嚴重的通貨膨脹問題最有可能發生在下列哪一段期間？
(A) 軍閥亂政
(B) 十年建設
(C) 抗戰期間
(D) 國共內戰





6-2 中華人民共和國的建立

時間	1949 年 10 月 1 日 (採公元紀年)	
首都	_____	
政治體制	一黨專政：中國共產黨，主席為_____	
對內措施	目的	鞏固政權
	<u>土地改革</u>	沒收地主土地，重新分配給貧農
	<u>國營事業</u>	民間工商企業收歸國有，建立起龐大的國營事業
	<u>控制思想</u>	對知識分子展開言論和思想控制
對外關係	<u>親蘇反美</u>	1. 親蘇：中華人民共和國受蘇聯扶植建立，早期在外交上向蘇聯 <u>一邊倒</u> 2. 反美：對抗以美國為首的反共陣營
	<u>抗美援朝</u>	1. <u>韓戰</u> ：1950 年，朝鮮半島爆發韓戰，中共號召中國人民抗美援朝 2. 組織「志願軍」參戰

【故・事】韓戰：朝鮮在西元 1910 年被日本併吞。西元 1943 年的《開羅宣言》中曾聲明讓朝鮮獨立。第二次世界大戰結束後（1945 年），美、蘇軍隊以北緯 38 度線為藉，分別進駐朝鮮半島的南部與北部。西元 1948 年，在美、蘇的支持下，分別成立了「南韓」與「北韓」。西元 1950 年 6 月，北韓軍隊突然跨越北緯 38 度，對南韓發動攻擊，由於南韓措手不及，大部分領土都被北韓佔據，幾乎快被統一了。後來，聯合國譴責北韓的侵略行為，並派出以美國為首的盟軍出擊，打敗北韓軍隊，挽救南韓免於滅亡。由於盟軍進展順利，中共擔心會危及自身政權，也出兵協助北韓作戰，結果雙方在北緯 38 度線互相對峙，形成拉鋸戰，最後於西元 1953 年 7 月簽訂停戰協議，結束韓戰。

【故・事】一二三自由日：中共派遣志願軍參加韓戰時，有不少人被俘虜。西元 1953 年的停戰協議，曾以討論遣送俘虜的問題，被俘的中共志願軍有一萬四千多人不願被遣返回中國，經各國的協助，這些人於西元 1954 年 1 月 23 日被送至中華民國的所在地—臺灣，中華民國政府為了紀念這個「從中共手中解救大陸同胞」的事件，明令每年的 1 月 23 日為「自由日」。



單選題：共有 7 題，請將答案寫於題號之前

- 小銘、小生、小君及小喬等正在研究中共建國初期的外交狀況，並提出自己的看法。請問：何人的看法錯誤？
 - 小銘：中共主要是受蘇聯幫助扶植而成立，所以外交上較偏向蘇聯
 - 小生：中共外交上向蘇聯「一邊倒」，對抗以美國為首的反共產陣營
 - 小君：1950 年韓戰爆發時，中共號召「抗美援朝」，組織志願軍參戰
 - 小喬：在整起韓戰的事件中，中共支持南韓，而美國則支持北韓政權
- 西元 1950 年，朝鮮半島爆發「韓戰」，中華人民共和國對韓戰所持的態度為何？
 - 採取中立政策
 - 組織志願軍參戰
 - 聯合蘇聯對抗北韓
 - 聯合美國對抗南韓
- 中華人民共和國自成立以來，實施一黨專政，全面操控國家，在建國初期為了鞏固政權採取不少措施，下列何者「非」當時中共的施政？
 - 沒收地主土地，重新分配給貧農
 - 設經濟特區，吸引外商進駐
 - 將民間企業收歸國有
 - 控制知識分子的言論與思想
- 民國 38 年中華人民共和國成立後，由中國共產黨一黨專政，有關中共建國初期對內方面的施政，下列敘述何者正確？
 - 沒收地主土地，重分配給貧農
 - 民間的中小企業發達
 - 鼓勵知識份子提出政治建議
 - 內政措施由鄧小平所實施
- 中共國慶日為中國的「黃金周」假期，國慶的法定休假日為三天，若再將前後兩個周末的假期調整一起休假，則有七天的休假日。中共黃金周是以國慶日當天為準則，請問：中共國慶日為幾月幾號？
 - 九月九日
 - 十月一日
 - 十月十日
 - 十月三十一日
- 中華人民共和國成立之後，在外交方面早期是呈現「一邊倒」的現象，根據中共歷史的發展，這「一邊倒」應是倒向哪一國？
 - 蘇聯
 - 美國
 - 英國
 - 法國
- 中華人民共和國在建國初期，外交政策方面很明顯的看出傾向共產集團陣營，與美國的反共陣營相抗。在哪一次的戰爭中，中共組織志願軍參戰直接與美國交手？
 - 韓戰
 - 越戰
 - 甲午戰爭
 - 鴉片戰爭



6-3 大躍進

時間	1958 年開始		
領導	中華人民共和國的領導人，_____		
目標	希望加速建設中國，在短時間內趕上英、美等先進國家		
口號	<u>超英趕美</u>		
措施	農業	作法	_____：將農民編組為生產隊，企圖以集體管理方式從事生產
		結果	糧產降低：民間生產意願低落，糧食生產量下降
	工業	作法	_____：為了提高鋼鐵產量
		結果	煉出廢鐵
結果	1. 社會活力衰退、經濟日漸惡化、糧食不足和過度勞動，估計有三、四千萬人死於饑荒 2. 毛澤東因大躍進推行失敗，被迫下臺		

【故・事】**大躍進與大戲臺**：1958 年，毛澤東發起大躍進運動，動員全國人力，企圖迅速提高食糧和鋼鐵的產量。這年秋天，毛澤東經常乘坐水陸空各種交通工具，來回巡視各地農村。許多地方官員投其所好，宣稱每畝田都能收穫數萬斤作物，說是「人有多大膽，地有多大產」；舉目所見，到處也都搭起了磚頭和泥巴混合做成的土高爐，人們拿起了鐵鍋、鐵鏟就往通紅的爐火裡丟，甚至還拆了鐵製的門把扔了進去。這時，李志綏擔任毛澤東的私人醫生，他一邊跟著毛巡視，一邊卻也疑惑著農田產量簡直高到離奇，那些家用鐵器又怎能煉出高品質的鋼鐵呢？毛澤東的一位祕書林克消息靈通，告訴李志綏說，這些都是做給毛主席看的。例如：毛主席看到土高爐所煉出來的鋼塊，其實是從煉鋼廠調過來的正規產品；在湖北省看到的超級稻田，則是將別處十幾畝的稻子連根擠插在這一畝裡，塞得密密麻麻直挺挺，小朋友坐上去都倒不了。整個中國簡直成了一個大戲臺。



牛刀小試

單選題：共有 3 題，請將答案寫於題號之前

- 中共在鞏固政權之後，喊出「超英趕美」的口號，希望在短時間內趕上英、美等工業化先進國家，於是毛澤東在此背景下展開哪一項改革運動？
(A) 大躍進 (B) 人民公社 (C) 土法煉鋼 (D) 土地改革
- 中共為了提高農產量，將農民編組成生產隊，實施集體化管理，此舉不僅破壞原有的家庭制度、社會結構，也造成農民生產意願低落，糧食生產量下降。請問：上文描述的是哪項制度？
(A) 大躍進 (B) 人民公社 (C) 土法煉鋼 (D) 土地改革
- 毛澤東的失勢主要與哪一個運動的失敗有關？
(A) 大躍進 (B) 人民公社 (C) 土法煉鋼 (D) 土地改革



6-4 文化大革命

時間	1966 年至 1976 年 (<u>十年浩劫</u>)
原因	1. 毛澤東因 <u>大躍進</u> 運動推行失敗，被迫下臺 2. 毛澤東為 <u>奪回權力</u> 、整肅異己，發動文革
成員	_____：利用青年學生，組織紅衛兵，批鬥親友、師長、官員與知識份子等
口號	1. 「 <u>破四舊，立四新</u> 」：思想、文化、風俗、習慣 2. 「 <u>革命無罪，造反有理</u> 」
個人崇拜	1. 在文革期間，群眾對毛澤東的 <u>個人崇拜</u> ，達於頂點 2. 毛澤東被冠上「偉大領袖」、「偉大導師」等頭銜
影響	1. 破壞中國傳統社會倫理與文化，造成社會動盪，經濟衰退，教育停頓，道德扭曲 2. 在鬥爭下死傷無數，為中國歷史上的一場大災難
結束	1976 年，毛澤東去世，以 <u>江青</u> 為首的 <u>四人幫</u> 企圖奪權，失敗被捕，文革終於結束

【註】四人幫：包括江青、王洪文、張春橋、姚文元等四人，他們在文革期間掌握大權，在毛澤東死後，企圖全面奪權

【比較】兩岸經濟發展比較

	中國	臺灣
1950 年代	大躍進	進口替代
1960 年代	文化大革命	出口擴張
結果	經濟衰退	經濟成長

毛語錄

學生們揮舞毛語錄，將毛澤東的言論視為真理

文革文宣

青少年學生組成的紅衛兵，利用舞蹈表演的方式，宣傳革命理論。

文革期間舉辦批鬥大會，迫害特定階級，社會上人人自危

「打倒孔家店」—文革期間，紅衛兵破壞山東孔府內的文物，並燒毀萬世師表匾額

【故·事】毛澤東的造神運動：西元 1966 年 8 月起，毛澤東先後接見 8 次紅衛兵，每次接見，都有百萬以上的紅衛兵參加。紅衛兵來自全國各地，他們揮舞著紅色封面的《毛主席語錄》，向天安門上的毛澤東致敬、感激涕零。全國的出版業，以出版《毛澤東選集》為首要任務，中國的電臺按規定，以三分之二的時間廣播《毛主席語錄》，通過街頭巷尾的廣播系統，每天都是語帶激昂的《毛主席語錄》。在這種政治氣氛中，毛澤東崇拜越來越宗教儀式畫了。幾乎每個人都穿上毛裝，胸前別著毛像章、口袋裝著小紅書，家裡掛著毛澤東的聖像……。



單選題：共有 10 題，請將答案寫於題號之前

- 西元 1966 年毛澤東發動「文化大革命」，主要是為了奪回權力，卻對中國傳統社會倫理與文化造成無法彌補的傷害，請問：毛澤東是因哪一個政策失敗，被迫下臺？
(A) 大鳴大放 (B) 土法煉鋼 (C) 人民公社 (D) 大躍進
- 毛澤東發動文化大革命的實際目的為何？
(A) 權力鬥爭 (B) 改造文化 (C) 政治改革 (D) 經濟發展
- 紅衛兵的主要組成分子為何？
(A) 大學教授 (B) 青年學生 (C) 工商業者 (D) 軍警人員
- 近代中國各種運動不斷，口號五花八門。下列何者最有可能是文化大革命時紅衛兵的口號？
(A) 抗美援朝 (B) 超英趕美 (C) 造反有理 (D) 改革開放
- 文化大革命對中國負面影響是全面性的，造成社會動盪不安，經濟衰退，教育停頓，道德扭曲，這場文化大革命隨著哪一個事件的發生宣告落幕？
(A) 毛澤東去世 (B) 四人幫被捕 (C) 江澤民上臺 (D) 鄧小平上臺
- 「當時中央鼓吹『破四舊、立四新』，許多地主、知識分子頭上戴著紙做的高帽子，上面寫著『黑幫頭子』、『反動權威』等字樣，被推出去遊街示眾，受到人民唾罵……。」上段文字是描述發生在中共統治下的哪一件事？
(A) 大躍進 (B) 改革開放 (C) 文化大革命 (D) 六四天安門事件
- 宣傳口號常能反映大事或趨勢，以下標語顯示了中共政策變化的歷程，若依時間先後順序加以排列，下列何者正確？(甲) 抗美援朝、(乙) 破四舊立四新、(丙) 超英趕美
(A) 甲乙丙 (B) 甲丙丁 (C) 乙丙丁 (D) 乙丁丙
- 中華人民共和國建國初期，為了鞏固政權所採取的政策，不包括下列何者？
(A) 宣布對蘇聯「一邊倒」 (B) 實施土地改革，清算鬥爭的地主
(C) 韓戰期間「抗美援朝」 (D) 發動文化大革命，破壞傳統文化
- 文化大革命結束後，中共本身也公開承認文革對中國而言是一大浩劫，下列有關文化大革命的敘述，何者「錯誤」？
(A) 利用青少年學生組成紅衛兵來掃除異己 (B) 毛語錄被奉為一切工作的指南
(C) 對中國傳統社會倫理與文化進行破壞 (D) 帶給中國二十幾年的動盪不安
- 文化大革命實施後，連中共當局都承認文革對中國歷史文化而言是一大浩劫，下列有關文化大革命的敘述，何者有「誤」？
(A) 利用青少年學生組成紅衛兵進行批鬥
(B) 文革時期對毛澤東的個人崇拜達到頂點
(C) 強調「破四舊、立四新」
(D) 毛澤東死後，江澤民繼位



6-5 改革開放

鄧小平 時代	四個 現代化	1. 背景：文革結束後，鄧小平掌握大權，為解決經濟衰退的情形 2. 內容：提出_____、_____、_____、_____四個現代化
	設立 <u>經濟特區</u>	1. 作法：積極推動改革開放，在沿海地區設置經濟特區，吸引外商投資 2. 目的：促進經濟的迅速發展
<u>事件</u>	背景	中共在經濟上推動改革開放，但嚴格控管政治
	時間	<u>1989年6月4日</u>
	訴求	要求政治改革，爭取民主
	經過	北京學生聚集於天安門廣場示威請願
	結果	中共派軍隊鎮壓抗議群眾，造成許多人員傷亡
後續 發展	1. <u>鄧小平</u> 去世後， <u>江澤民</u> 、 <u>胡錦濤</u> 、 <u>習近平</u> 先後成為中共領導人 2. 延續鄧小平改革開放路線，並積極參與國際事務，在國際社會的角色日漸重要	

	<u>毛澤東</u>	<u>鄧小平</u>	<u>江澤民</u>	<u>胡錦濤</u>	<u>習近平</u>
領導人					
掌權 時間	西元 1949 ~1976 年	西元 1978 ~1992 年	西元 1993 ~2003 年	西元 2003 ~2013 年	西元 2013 ~現今
大事記	<ul style="list-style-type: none"> ● 1949 年 中華人民共和國成立 ● 1950 年 韓戰爆發，抗美援朝 ● 1958 年 推行大躍進運動 ● 1966 年 發動文化大革命 ● 1971 年 加入聯合國 	<ul style="list-style-type: none"> ● 1979 年 與美國建交 ● 1980 年 成立經濟特區 ● 1989 年 六四天安門事件 	<ul style="list-style-type: none"> ● 1997 年 香港回歸中國 ● 1999 年 澳門回歸中國 ● 2001 年 加入世界貿易組織 (WTO) 	<ul style="list-style-type: none"> ● 2008 年 北京主辦奧運 ● 2010 年 上海世界博覽會 	<ul style="list-style-type: none"> ● 2013 年 上海自由貿易區 ● 2014 年 成立亞洲基礎設施投資銀行 ● 2015 年 <ol style="list-style-type: none"> 1. 推動一帶一路 2. 兩岸領導人首次會面 ● 2017 年 中英兩國貿易鐵路通車

【補充】馬習會：2015 年 11 月 7 日，中華民國總統馬英九與中華人民共和國國家主席習近平，於新加坡舉行會談，這是 1949 年之後，海峽兩岸領導人的首次會面

中國的「順口溜」，經常以諷刺的語氣，來反映民間對政治、社會的不滿與無奈。請同學閱讀下列的順口溜，找出它們所反映的時代現象，並在適當的選項打勾

1. 「十億人民九億商，還有一億等開張。」
 - 中共號召人民組織志願軍「抗美援朝」
 - 中共改革開放後，人民注重賺錢的社會現象
 - 中共實施土地改革，沒收地主土地，重新分配給農民
 - 中國共產黨成立後，與國民黨之間的對立與衝突

2. 「革命革了幾十年，一覺回到解放前。」
 - 人民對於中共不斷進行各項運動，感到心滿意足
 - 中共以革命手段建設國家，經過幾十年後，終於成功
 - 人民不滿中國共產黨的統治，希望中華民國反攻成功
 - 中國不斷展開各項運動，最後走向改革開放，好像又回到國民政府統治時充斥不公的樣子。

3. 「毛主席，像太陽，一年四季烤得慌；共產黨，像月亮，初一十五不一樣。」
 - 中華人民共和國成立後，初期外交完全倒向蘇聯
 - 文化大革命期間，群眾對毛澤東的崇拜達到頂點
 - 中共實施土地改革，沒收地主土地，重新分配給農民
 - 毛澤東不斷進行各種運動、革命，讓人民疲於奔命

4. 「大煉鐵，大煉鋼，浮誇瞞報假文章；砸爛鐵鍋報成績，一年一個沒吃啥。」
 - 中共派軍隊鎮壓要求政治改革的青年學生
 - 文化大革命期間，強調「破四舊，立四新」
 - 鄧小平在沿海地區設立「經濟特區」
 - 大躍進運動期間，中共採用「土法煉鋼」

民國（西元）	大事
民國 10 年 (1921)	中國共產黨 成立
民國 12 年 (1923)	孫中山開始聯俄容共 展開第一次國共合作
民國 16 年 (1927)	蔣中正「清黨」， 國共分裂
民國 23~24 年 (1934~35)	中共進行 二萬五千里長征
民國 25 年 (1936)	西安事變爆發，之後展 開第二次國共合作
民國 35 年 (1946)	國共內戰爆發
民國 38 年 (1949)	中華人民共和國成立
民國 47 年 (1958)	大躍進運動開始
民國 55~65 年 (1966~76)	文化大革命
民國 67 年 (1978)	鄧小平開始推動 改革開放政策
民國 78 年 (1989)	六四天安門事件



▲六四天安門事件

左圖為學生在天安門廣場上靜坐抗議，要求政治改革

右圖為北京一名青年勇敢的擋在坦克車前面，阻止它們前進



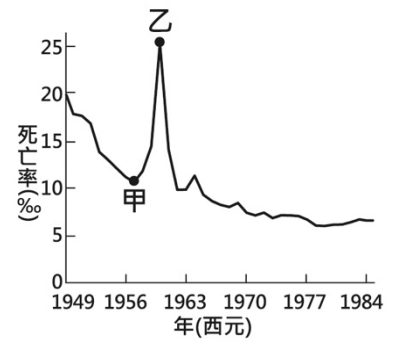
單選題：共有 9 題，請將答案寫於題號之前

1. 文革結束後，鄧小平掌握大權，為了解決當時經濟衰退的情形，提出四個現代化的主張，下列何者不包括在鄧小平四個現代化當中？
(A) 農業 (B) 工業 (C) 商業 (D) 國防
2. 泰俊的歷史報告名稱是「從計畫經濟轉變到市場經濟」，上述「轉變」的關鍵人物不包括何者？
(A) 毛澤東 (B) 胡錦濤 (C) 鄧小平 (D) 江澤民
3. 民國 78 年，六四天安門事件中共下令用機關槍與坦克鎮壓學生，這個事件在中國人民心目中是無法淡忘的。當時青年學生主要的訴求為何？
(A) 民主自由 (B) 教育自主 (C) 開放經濟 (D) 社會福利
4. 中共從 1978 年以後，開始推行改革開放政策後，經濟迅速發展，下列是自 1978 年以後至今的中共領導人，請依照他們在位的先後順序加以排列？甲、胡錦濤；乙、鄧小平；丙、江澤民
(A) 甲乙丙 (B) 乙甲丙 (C) 丙乙甲 (D) 乙丙甲
5. 「五四運動」與「六四天安門事件」的比較，何者正確？
(A) 兩者都是學生主導 (B) 兩者訴求都得到統治者善意的回應
(C) 兩者都遭軍隊、坦克車鎮壓 (D) 兩者的訴求都是政治改革，抵禦外侮
6. 「西元 1989 年，成千上萬的學生在北京市中心的天安門廣場集會，表達對國家領導的不滿，並要求民主改革……。」請問：文中的事件發生在右圖中的哪一個地區？
(A) 甲 (B) 乙
(C) 丙 (D) 丁
7. 中共近年來在經濟上的發展非常快速，有關中共近年來在政治、經濟方面的發展，下列敘述何者有「誤」？
(A) 經濟改革開放 (B) 加入世界貿易組織
(C) 主辦南京奧運 (D) 主辦上海世界博覽會
8. 1990 年代，中國憑藉著下列哪項優勢，經濟迅速起飛？
(A) 擁有為數眾多的高科技人才 (B) 與歐美各國有良好的外交關係
(C) 廉價勞力、廣大市場、豐富資源 (D) 在蘇聯的經濟資助之下
9. 中華人民共和國自成立後至今，國家領導人的決策往往影響國家的走向，甚至包括兩岸關係的演變，有關各時期中共國家領導人的決策，下列敘述何者有「誤」？
(A) 首任國家主席為毛澤東，在外交政策上傾向蘇聯
(B) 鄧小平上臺後採改革開放路線，提出「四個現代化」
(C) 胡錦濤上臺後，在沿海設置加工出口區，以吸引外商投資
(D) 江澤民、胡錦濤、習近平先後繼位，繼續鄧小平的改革開放路線



【歷屆會考試題】 共 6 題，請將答案寫在題號前面

1. 右圖是參考某段期間中國人口死亡率估算值而繪製的曲線圖，圖中甲、乙二點之間死亡率的變化，最可能與下列何者有關？



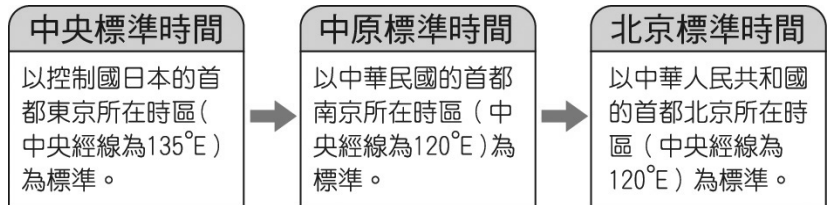
- (A) 人民響應抗美援朝，參與韓戰而造成傷亡慘重
- (B) 大躍進運動期間，政策失當所導致的嚴重饑荒
- (C) 文化大革命時，紅衛兵鬥爭造成眾多人口死亡
- (D) 六四天安門事件爆發，政府鎮壓大量抗議群眾

2. 右圖是一幅歷史照片與說明，圖說人物曾兩度被俘。依據說明，此人最可能先後被下列何者所俘？



- (A) 日本、美國
- (B) 日本、中國國民黨
- (C) 中國共產黨、美國
- (D) 中國共產黨、北韓

3. 各地所採用的時區及標準時間名稱，會隨著當地的政治勢力改變而有所不同。下圖為 20 世紀時城市在十餘年內所屬時區及標準時間名稱的轉變。此城市最可能為何？



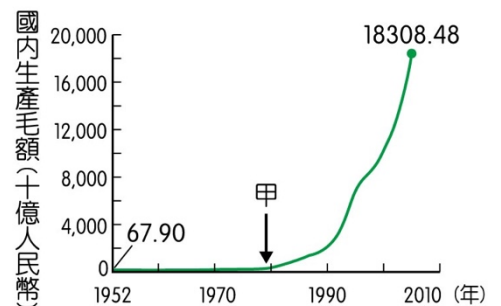
- (A) 香港
- (B) 臺北
- (C) 重慶
- (D) 瀋陽

4. 下圖是描繪中國某時期出現的情景，根據內容判斷，此圖最可能呈現下列何者？



- (A) 義和團事變
- (B) 文化大革命
- (C) 新文化運動
- (D) 太平天國起事

5. 右圖呈現中國 1952 年至 2005 年國內生產毛額的數據資料。圖中曲線從甲處後有明顯變動的情況，最可能與下列何者有關？



- (A) 利用韓戰爆發契機，提高進口關稅
- (B) 大躍進提倡生產，民眾盡全力煉鋼
- (C) 發動文化大革命，進行全面的改造
- (D) 實施改革開放政策，引進外來資金

6. 有一部電影劇情如下：「祥子回到故鄉，那裡充斥著『破四舊、立四新』的標語，他看到村長被畫分為『地主』階級而遭受殘酷的公審。後來，祥子的妻子難產，醫院裡的醫生們卻已在『打倒學術權威』的口號下被迫離開……。」這部電影的時空背景最可能是下列何者？

- (A) 國共內戰下的臺灣
- (B) 軍閥混戰時期的華北
- (C) 滿洲國成立後的東北
- (D) 文化大革命時期的中國

【回家作業】第六課的課程心智圖（概念圖）

