

臺北區 110 學年度第一學期 第二次學科能力測驗模擬考試

數學 B 考科

—作答注意事項—

考試範圍：第一～二冊、數學 B 第三～四冊

考試時間：100 分鐘

作答方式：

- 選擇（填）題用 2B 鉛筆在「答題卷」上作答；更正時，應以橡皮擦擦拭，切勿使用修正液（帶）。
- 除題目另有規定外，非選擇題用筆尖較粗之黑色墨水的筆在「答題卷」上作答；更正時，可以使用修正液（帶）。
- 考生須依上述規定劃記或作答，若未依規定而導致答案難以辨識或評閱時，恐將影響成績並損及權益。
- 答題卷每人一張，不得要求增補。
- 選填題考生必須依各題的格式填答，且每一個列號只能在一個格子劃記。請仔細閱讀下面的例子。

例：若答案格式是 $\frac{\textcircled{18-1}}{\textcircled{18-2}}$ ，而依題意計算出來的答案是 $\frac{3}{8}$ ，則考生必須分別在答題卷上的第 18-1

列的 \square 與第 18-2 列的 \square 劃記，如：

18-1	1	2	3	4	5	6	7	8	9	0	-	±
18-2	1	2	3	4	5	6	7	8	9	0	-	±

例：若答案格式是 $\frac{\textcircled{19-1} \textcircled{19-2}}{50}$ ，而答案是 $\frac{-7}{50}$ 時，則考生必須分別在答題卷的第 19-1 列的 \square 與第

19-2 列的 \square 劃記，如：

19-1	1	2	3	4	5	6	7	8	9	0	-	±
19-2	1	2	3	4	5	6	7	8	9	0	-	±

選擇（填）題計分方式：

- 單選題：每題有 n 個選項，其中只有一個是正確或最適當的選項。各題答對者，得該題的分數；答錯、未作答或劃記多於一個選項者，該題以零分計算。
- 多選題：每題有 n 個選項，其中至少有一個是正確的選項。各題之選項獨立判定，所有選項均答對者，得該題全部的分數；答錯 k 個選項者，得該題 $\frac{n-2k}{n}$ 的分數；但得分低於零分或所有選項均未作答者，該題以零分計算。

• 選填題每題有 n 個空格，須全部答對才給分，答錯不倒扣。

※試題中參考的附圖均為示意圖，試題後附有參考公式及數值。

祝考試順利



版權所有 · 翻印必究

第壹部分、選擇（填）題（占 85 分）

一、單選題（占 40 分）

說明：第 1 題至第 8 題，每題 5 分。

1. 若在坐標平面上有一個三角形面積為 10，且其三頂點坐標分別為 $(5, 0)$ 、 $(-5, 0)$ 、 $(5 \cos \theta, 5 \sin \theta)$ ，則滿足條件的三角形有幾個？

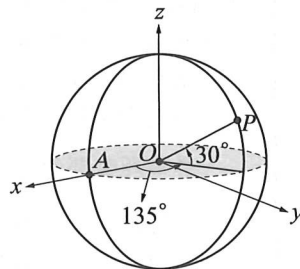
- (1) 0 個
- (2) 2 個
- (3) 4 個
- (4) 6 個
- (5) 無限多個

2. 已知 $a, b \in \{-1, 0, 1, 2\}$ ，且聯立方程式 $\begin{bmatrix} a & 1 \\ -2 & b \end{bmatrix} \begin{bmatrix} x \\ y \end{bmatrix} = \begin{bmatrix} 3 \\ 7 \end{bmatrix}$ 恰有一組解，則滿足此條件的數對 (a, b) 共有幾組？

- (1) 10 組
- (2) 12 組
- (3) 14 組
- (4) 16 組
- (5) 18 組

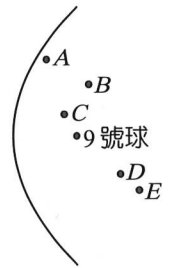
3. 如右圖所示，在空間坐標系中有一個半徑為 100 單位的地球儀，其球心為原點 O ，赤道在 xy 平面上， x 軸正向與赤道交於 A 點，且 A 點在 0 度經線上。若 P 點位於此地球儀北緯 30 度，東經 135 度的交點上，試求 P 點的空間坐標為何？

- (1) $(50\sqrt{2}, -50\sqrt{2}, 50)$
- (2) $(-50\sqrt{2}, 50\sqrt{2}, 50)$
- (3) $(25\sqrt{6}, -25\sqrt{6}, 50)$
- (4) $(-25\sqrt{6}, 25\sqrt{6}, 50)$
- (5) $(50\sqrt{2}, 50\sqrt{2}, 50\sqrt{3})$



4. 已知五筆資料 $3, a, 9, b, 19$ ，其算術平均數為 10 ，標準差為 $\frac{12\sqrt{5}}{5}$ 。設 $a < b$ ，試求 b 的值。
- (1) 9
 - (2) 10
 - (3) 11
 - (4) 12
 - (5) 13
5. 設 n 為正整數且函數 $f(n) = \frac{\log(n+2)}{\log(n+1)}$ ，試求 $\log(f(1)) + \log(f(2)) + \log(f(3)) + \log(f(4)) + \log(f(5)) + \log(f(6))$ 的值。
- (1) $\log 2$
 - (2) $\log 3$
 - (3) $\log 4$
 - (4) $\log 5$
 - (5) $\log 6$
6. 已知圓 $\Gamma: (x-h)^2 + (y-k)^2 = 25$ 與直線 $L: 3x + 4y - 10 = 0$ 交兩點，此兩交點形成的弦長為 8 單位，現將直線 L 向右移動 1 單位，向下移動 2 單位，得到一新直線 L' ，試問圓 Γ 與直線 L' 有幾個交點？
- (1) 0 個交點
 - (2) 1 個交點
 - (3) 2 個交點
 - (4) 3 個交點
 - (5) 資料不足，無法確定

7. 如右圖，有一撞球檯的邊緣設計成一拋物線，將 9 號球放在此拋物線的焦點。已知母球沿著平行拋物線之對稱軸的方向往球檯邊緣直線前進，碰到撞球檯邊緣後反彈會命中 9 號球。試問母球擺放在右圖中哪個位置，命中 9 號球時所移動的路徑最短？



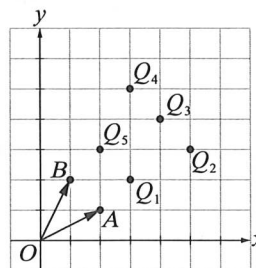
- (1) A
(2) B
(3) C
(4) D
(5) E
8. 有一等比數列 $a_1, a_2, a_3, \dots, a_n$, n 為正整數，已知 $a_1 + a_4 + a_6 = a_5 + a_7$ ，試求 $a_{14} + a_{13} + a_{12} - a_{11} - 2a_{10} - 2a_9 - a_8 = ?$
- (1) -3
(2) -2
(3) 0
(4) 2
(5) 3

二、多選題 (占 25 分)

說明：第 9 題至第 13 題，每題 5 分。

9. 試問 $y = a^x$ ($a > 0$, 且 $a \neq 1$) 的函數圖形，經過下列哪一種平移的效果，可以得到 $y = 2a^x$ 的函數圖形？
- (1) 左移
(2) 右移
(3) 上移
(4) 下移
(5) 不具有平移關係

10. 坐標平面上，設 O 為原點， $\vec{OA} = (2, 1)$ ， $\vec{OB} = (1, 2)$ 。若 P 點滿足 $\vec{OP} = x\vec{OA} + y\vec{OB}$ ，且 $1 \leq x \leq 2$ ， $0 \leq y \leq 2$ ，其中 x, y 為實數，則下列哪些點可能是 P 點的位置？



- (1) Q_1
- (2) Q_2
- (3) Q_3
- (4) Q_4
- (5) Q_5

11. 已知 A, B, C 皆為二階方陣， I 為二階單位方陣， O 為二階零方陣，且 $A+B = \begin{bmatrix} 4 & -3 \\ 5 & -4 \end{bmatrix}$ ，

$A-B = \begin{bmatrix} 2 & -7 \\ 3 & -10 \end{bmatrix}$ ，試選出正確的選項。

- (1) $B-A = \begin{bmatrix} -2 & 7 \\ -3 & 10 \end{bmatrix}$
- (2) $AB=BA$
- (3) 若 $AC=I$ ，則 $C = \begin{bmatrix} -7 & 5 \\ -4 & 3 \end{bmatrix}$
- (4) 若 $AC=O$ ，則 $C = \begin{bmatrix} 0 & 0 \\ 0 & 0 \end{bmatrix}$
- (5) $A^2-B^2 = \begin{bmatrix} -1 & 2 \\ -2 & 5 \end{bmatrix}$

12. 110 年 5 月因為 COVID-19 (新冠肺炎) 的疫情影響，臺北市十二個行政區實施「停課不停學」，截至 5 月 20 日為止，各區的人口數與本土病例人數統計如右表。已知「確診比例 = $\frac{\text{本土病例人數}}{\text{人口數}}$ 」，試依據

	人口數(人)	本土病例(人)
松山區	198603	21
信義區	212559	19
大安區	299823	26
中山區	221679	16
中正區	154461	25
大同區	123334	28
萬華區	181044	299
文山區	266439	35
南港區	117777	15
內湖區	280785	16
士林區	275823	20
北投區	248679	14
總計	2581006	534

右表選出正確的選項。

- (1) 若行政區的人口數越多，則本土病例人數也越多
- (2) 大同區的確診比例小於文山區的確診比例
- (3) 每一行政區的確診比例都不超過千分之 2
- (4) 臺北市的確診比例為各區確診比例的總和
- (5) 從臺北市市民中任意抽取一人，假設每人被抽中的機會相等。若此人為本土病例，則此人住在文山區的比例大於 5 %

13. 下列哪些選項的兩個函數圖形經平移後會重疊？

(1) $y=x^2+x+1$ 和 $y=x^2-100x+100$

(2) $y=x^3+x$ 和 $y=x^3+3x^2+2x+2$

(3) $y=2^x$ 和 $y=\frac{1}{4} \cdot 2^x$

(4) $y=\log x$ 和 $y=\log (100x)$

(5) $y=\sin x$ 和 $y=\sin (2x)-3$

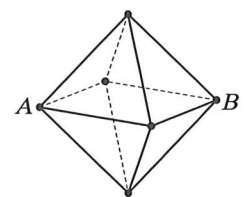
三、選填題 (占 20 分)

說明：第 14 題至第 17 題，每題 5 分。

14. 設 $f(x)$, $g(x)$ 為兩實係數多項式，已知 $f(x)$ 有一次因式 $x-1$ ，且 $f(x)$ 除以 $g(x)$ 的商式為 $x+2$ ，餘式為 x^2+x+1 ，試求 $g(x)$ 除以 $x-1$ 的餘式為 (14-1) (14-2) 。

15. 如右圖，有一個邊長為 2 的正八面體，外部有一隻螞蟻，內部有一隻蜜蜂，同時從 A 點出發，想要走最短路徑到達 B 點，試問螞蟻(爬)要比蜜蜂(飛)多移動

 (15-1) $\sqrt{(15-2)}$ - (15-3) $\sqrt{(15-4)}$ 的距離。(化為最簡根式)



16. 設 $f(n)$ 表示正整數 n 的各位數字之總和，例如： $f(12)=1+2=3$ ， $f(20)=2+0=2$ 。若 n 為二位數，則 $\frac{n}{f(n)}$ 的最小值為 (16-1) (16-2) / (16-3) (16-4) 。(化為最簡分數)

17. 因應 COVID-19 (新冠肺炎) 疫情趨緩，政府適度鬆綁餐廳內用的條件，店家提供內用以五人為限，並採取梅花座(前後左右不坐人)。方方小吃店同時來了甲、乙、丙三位客人，三人入座 3×3 座位表如右，甲坐第一排第一位，若需符合室內用餐規定，則乙、丙的入座方式共 17-1 17-2 種。

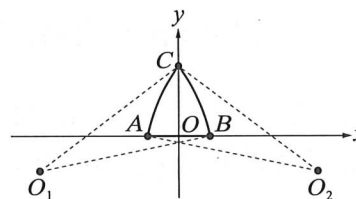
		甲

第貳部分、混合題或非選擇題 (占 15 分)

說明：本部分共有 1 題組，每一子題配分標於題末。限在標示題號作答區內作答。選擇題與「非選擇題作圖部分」使用 2B 鉛筆作答，更正時，應以橡皮擦擦拭，切勿使用修正液(帶)。非選擇題請由左而右橫式書寫，作答時必須寫出計算過程或理由，否則將酌予扣分。

18-19 題為題組

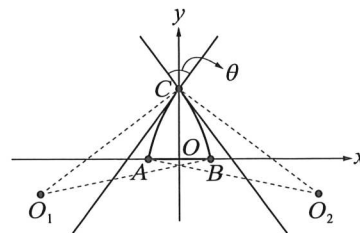
歐洲常見的哥德式尖拱建築，是由兩個半徑相等之圓弧所組成。尖拱的一種類型可以用坐標平面上的圖來描述：以 $O_1(-4, -1)$ 與 $O_2(4, -1)$ 為圓心，取半徑為 5 畫圓弧 \widehat{BC} 與 \widehat{AC} ，兩圓弧交於尖點 C 且分別交 x 軸於 B 、 A 兩點，如右圖。



18. 試求尖點 C 至尖拱底部 \overline{AB} 的距離？(單選題，5 分)

- (1) 1
- (2) 1.5
- (3) 2
- (4) 2.5
- (5) 3

19. 兩弧相交處的切線夾角稱為尖拱的頂角，如右圖所示。若此尖拱的頂角為 θ ，試求 $\cos \theta$ 。(非選擇題，10 分)



參考公式及可能用到的數值

1. 首項為 a ，公差為 d 的等差數列前 n 項之和為 $S = \frac{n(2a + (n-1)d)}{2}$

首項為 a ，公比為 r ($r \neq 1$) 的等比數列前 n 項之和為 $S = \frac{a(1-r^n)}{1-r}$

2. $\triangle ABC$ 的正弦定理： $\frac{a}{\sin A} = \frac{b}{\sin B} = \frac{c}{\sin C} = 2R$ (R 為 $\triangle ABC$ 外接圓半徑)

$\triangle ABC$ 的餘弦定理： $c^2 = a^2 + b^2 - 2ab \cos C$

3. 一維數據 $X: x_1, x_2, \dots, x_n$

算術平均數 $\mu_X = \frac{1}{n}(x_1 + x_2 + \dots + x_n)$

標準差 $\sigma_X = \sqrt{\frac{1}{n}[(x_1 - \mu_X)^2 + (x_2 - \mu_X)^2 + \dots + (x_n - \mu_X)^2]} = \sqrt{\frac{1}{n}[x_1^2 + x_2^2 + \dots + x_n^2] - n\mu_X^2}$

4. 二維數據 $(X, Y): (x_1, y_1), (x_2, y_2), \dots, (x_n, y_n)$,

相關係數 $r_{X,Y} = \frac{(x_1 - \mu_X)(y_1 - \mu_Y) + (x_2 - \mu_X)(y_2 - \mu_Y) + \dots + (x_n - \mu_X)(y_n - \mu_Y)}{n\sigma_X\sigma_Y}$

迴歸直線(最適直線)方程式 $y - \mu_Y = r_{X,Y} \frac{\sigma_Y}{\sigma_X} (x - \mu_X)$

5. 參考數值： $\sqrt{2} \approx 1.414$ ， $\sqrt{3} \approx 1.732$ ， $\sqrt{5} \approx 2.236$ ， $\sqrt{6} \approx 2.449$ ， $\sqrt{7} \approx 2.646$ ， $\pi \approx 3.142$

6. 對數值： $\log 2 \approx 0.3010$ ， $\log 3 \approx 0.4771$ ， $\log 5 \approx 0.6990$ ， $\log 7 \approx 0.8451$